

基隆市立武崙國中 106 學年度第一學期 第一次段考 八年級社會試卷——地理科

本試卷全為單選題，每題 2 分，共 50 題，總分 100 分。

請用 2B 鉛筆依題號在電腦卡上作答，電腦讀卡時無法判斷身分者，扣總分 10 分。

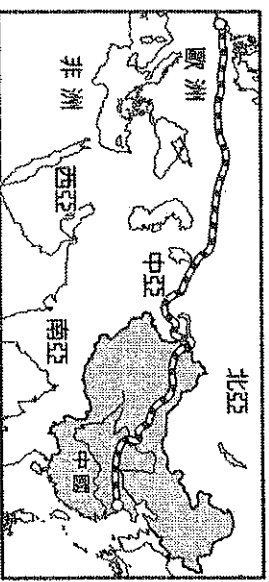
範圍：第三冊 L.1-2

班級：_____ 座號：_____ 姓名：_____

一、單選題：

- () 1. 中國面積廣大，地形複雜多樣，有關中國的土地特色，下列敘述何者正確？
 (A) 平原所占面積最大 (B) 全境地勢東高西低
 (C) 疆域面積居世界第一 (D) 高低落差極為懸殊
- () 2. 中國疆域的哪項優點，提供了向海洋或大陸發展的機會？
 (A) 國土形狀完整 (B) 面積廣大 (C) 位居中緯度 (D) 面海背陸
- () 3. 在全球排名中，中國面積僅次於哪三個國家？
 (A) 俄羅斯、美國、澳洲 (B) 俄羅斯、加拿大、美國 (C) 俄羅斯、加拿大、巴西 (D) 俄羅斯、加拿大、澳洲
- () 4. 下列哪項地理事實與中國面積廣大、國界線長，最有關係？
 (A) 地廣人稀，足以容納眾多移民者 (B) 地勢崎嶇、複雜，便於區劃國界 (C) 交通發達，水路、公路與鐵路極為便利 (D) 境內民族多元，邊境地區文化富含異國色彩
- () 5. 在中國收聽廣播時，如果碰到整點報時，收音機就會傳出：「現在是北京時間 X X 點整。」所謂的「北京時區」是以哪條經線為準？
 (A) 120°E (B) 135°E (C) 105°E (D) 90°E
- () 6. 中國的鄰國數量相當多，如果從東北方的鄰國北韓開始，沿著陸上國界繞一圈，最不可能經過哪個國家？
 (A) 哈薩克 (B) 尼泊爾 (C) 菲律賓 (D) 吉爾吉斯
- () 7. 全球的氣候分界主要受到緯度的影響，分成熱帶、溫帶、寒帶。上述是以哪兩條緯線作為分界？
 (A) 赤道、回歸線 (B) 回歸線、極圈 (C) 極圈、赤道 (D) 赤道、本初子午線
- () 8. 中國三大緣海由北向南的排列順序為何？
 (A) 東海、南海、黃海 (B) 黃海、東海、南海 (C) 日本海、東海、南海 (D) 日本海、黃海、東海
- () 9. 關於中國與鄰國位置的描述，何者正確？
 (A) 中國位於蒙古的北方 (B) 日本是中國的陸上鄰國 (C) 中國東北與北韓相接 (D) 中國隔海與緬甸相望
- () 10. 哆啦 A 夢利用任意門，和大雄、靜香、胖虎、小人的說法不正確？
 (A) 大雄：「中國位居東半球、北半球。」 (B) 靜香：「中國位居太平洋東側。」 (C) 胖虎：「中國位居亞洲大陸東部。」 (D) 小夫：「中國西北深入歐亞大陸。」

() 11. 日前英國財政大臣訪問中國的消息引起許多人士的關注，他來到中國的烏魯木齊，支持中國國家主席的「新絲路」經濟帶策略（如下圖）。上述的經濟帶具有何種特色？



(A) 鄰國眾多，文化交流頻繁 (B) 地大物博，自然資源豐富 (C) 位於中緯度，氣候條件優越 (D) 面海背陸，向海向陸發展自如

() 12. 住在上海（約東經 120°）的庭杰在 12 月 3 日晚間 10 點，打電話給住在倫敦（0°）的朋友小容。此時小容所在的倫敦是幾點？
 (A) 12 月 3 日 14 點 (B) 12 月 2 日 22 點
 (C) 12 月 3 日 16 點 (D) 12 月 4 日 6 點

() 13. 依照緯度可將全球氣候分為熱帶、溫帶和寒帶氣候三大類。劃分上述氣候帶的兩條緯線分別為何？
 (A) 緯度 0°和 23.5° (B) 緯度 23.5°和 90°
 (C) 緯度 23.5°和 66.5° (D) 緯度 66.5°和 90°

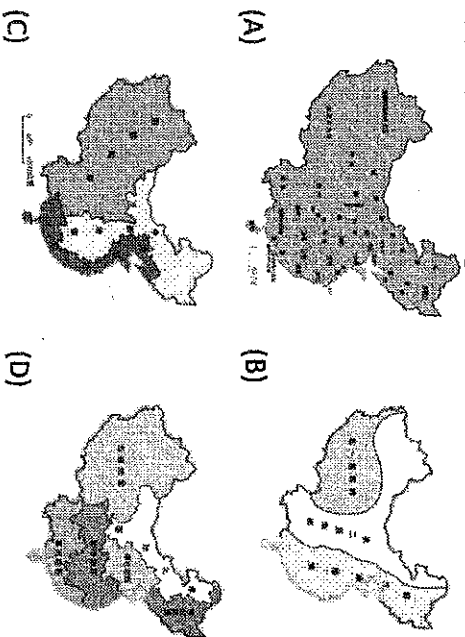
() 14. 在中國的行政區當中，哪個行政單位因為歷史的緣故擁有自己流通的貨幣，也可以訂定自己的法律？
 (A) 西藏自治區 (B) 首都北京市 (C) 香港特別行政區 (D) 新疆維吾爾自治區

() 15. 中國政府對於行政區，會因其特色或需要不同的管理情形而給予不同的名稱。下列哪個人對中國第一級行政單位的描述錯誤？
 (A) 大寶：中國設有 22 省，東部的省分土地面積較小，西部的省土地面積較大 (B) 二寶：設有四個自治區，主要是為了保留其特殊的文化特色
 (C) 三寶：設有四個直轄市，人口多且經濟較為繁榮 (D) 寶媽：設有兩個特別行政區，為了因應其特殊的殖民背景文化

() 16. 下列對於中國「第一級階梯地形區」的敘述，何者正確？
 (A) 經濟發展優於第三級階梯地形區 (B) 主要位於中國西部區域 (C) 平均海拔在 1,000~2,000 公尺之間 (D) 地形主要以高原、盆地為主

() 17. 中國近年來的經濟發展迅速，已成為國際上一個重要的經貿市場。目前中國最大的經濟中心位於何處？
 (A) 天津市 (B) 北京市 (C) 上海市 (D) 廣州市

() 18. 中國的「三大階梯」是指下列何者？



() 19. 迪西到中國旅遊時，受到當地居民阿里的熱情款待，迪西特別寫了一張感謝卡給阿里。這張卡片應該是寄到下列哪個地區？



(A) 西藏 (B) 新疆 (C) 廣西 (D) 寧夏

() 20. 下列是中國某個特別行政區的簡介：「這個行政區的博彩業最早在葡萄牙的統治之下開始合法化，自此以後，該地就以『東方蒙地卡羅』之名廣為世界所知，成為經濟的重要一部分。」上文中所指的是哪個特別行政區？

(A) 澳門 (B) 香港 (C) 北京 (D) 上海

() 21. 關於中國自治區的敘述，下列何者有誤？

(A) 自治區多為自治治理 (B) 有自成一格的政府組織 (C) 自治區隸屬於省之下 (D) 可以保有獨特的民族文化

() 22. 地理分區是為方便了解區域性的地理現象，故依某些指標將地表空間劃成大小不等的同質區域。下列關於地理分區的敘述，何者正確？

(A) 行政區是政府為了方便管理人民而做的分區 (B) 中國現行的行政區名大致與清末的行政區名相同，可見兩個時代的行政分區完全一致 (C) 常見的地理分區是以距海遠近、南北緯度為劃分的依據 (D) 依據目前的經濟發展條件，中國可分為北、中、南三大經濟地帶

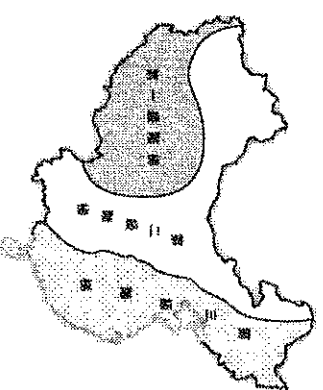
() 23. 下列哪種地理現象與中國西高東低的地勢起伏沒有直接的因果關係？

(A) 冬、夏兩季的風向會相反 (B) 重要大河大多由西往東流 (C) 東部沿海地區人口較稠密 (D) 海洋氣流能向西深入內陸

() 24. 「中國有世界最高的喜馬拉雅山，也有低於海平面的吐魯番窪地。」此敘述最足以說明哪項地理事實？

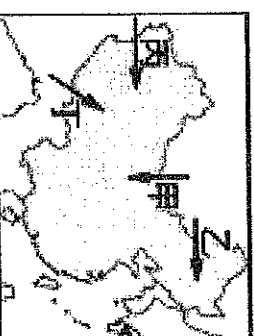
(A) 地勢高低起伏很大 (B) 疆域面積廣闊 (C) 地勢向東級級下降 (D) 主要河川由西向東入海

() 25. 下圖為中國三級階梯地形示意圖。其中「第三級階梯」的區域內，以哪兩種地形為主？



(A) 盆地、高原 (B) 丘陵、高原 (C) 平原、丘陵 (D) 平原、盆地

() 26. 中國除了本身強大的武力之外，面海背陸的地形，更保有易守難攻的優勢。中國舉行模擬軍演，下圖中哪條路線因缺少屏障，易受外敵入侵？



(A) 甲 (B) 乙 (C) 丙 (D) 丁

() 27. 北起大興安嶺，經太行山、巫山、雪峰山，沿雲貴高原東緣直到中越邊境、連線以西的第二級階梯，在地形上有什麼特色？

(A) 高度在 1,000 公尺以下 (B) 地形主體是平原、丘陵 (C) 是三級階梯中地勢最高 (D) 地形主體為高原、盆地

() 28. 下列哪個地形區的形成與風的營力有關？

(A) 華北平原 (B) 四川盆地 (C) 黃土高原 (D) 珠江三角洲

() 29. 地球上，中低緯度地區的冰河主要集中在高原上。中國的哪座高原上冰河覆蓋面積將近 4.7 萬平方公里，占全國冰河總面積的 80% 以上？

(A) 雲貴高原 (B) 黃土高原 (C) 青藏高原 (D) 四川盆地

() 30. 塔克拉瑪干沙漠是中國第一大沙漠，在維吾爾語的意思為「進得去，出不來」。塔克拉瑪干沙漠位於哪個盆地內？

(A) 柴達木盆地 (B) 塔里木盆地 (C) 準噶爾盆地 (D) 四川盆地

() 31. 位於中國第三級階梯內的平原地形，主要是受哪種作用所形成？

(A) 河川堆積 (B) 河川侵蝕 (C) 風力堆積 (D) 風力侵蝕

() 32. 下列哪座山呈現東北—西南走向？

(A) 喜馬拉雅山 (B) 武夷山 (C) 秦嶺 (D) 崑崙山

() 33. 有句諺語說：「黃河水，一碗水，半碗泥。」造成此現象是因黃河在流經下列哪個地區之後，夾帶大量泥沙所造成的？

(A) 雲貴高原 (B) 華北平原 (C) 四川盆地 (D) 黃土高原

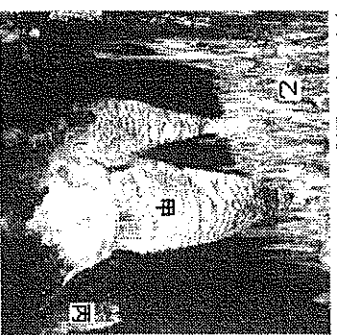
- () 34. 明朝有名的地理學家、旅行家——徐霞客，在遊歷全國後將經歷寫成《徐霞客遊記》。他在校稿時，發現書中對中國四大高原的描述有誤，這段描述可能是下列哪項？

(A) 內蒙古高原平坦的地面，看去是一望無際的草原，草原上點綴著一群群的牛羊 (B) 雲貴高原上奇石密布，岩穴中又有岩石 (C) 黃土高原黃土遍地，風來土去一塊，平坦的地形又起變化 (D) 青藏高原，一山一河交錯，從這山到那山，路程艱辛

- () 35. 世界最高的珠穆朗瑪峰（聖母峰）變矮？中國國家測繪局於西元 2005 年測得珠穆朗瑪峰扣除冰雪覆蓋的高度為 8,844.53 公尺。中國政府並且宣布，西元 1975 年所測量的高度，原 8,848.13 公尺的數據停用。珠穆朗瑪峰位於下圖中的哪個地區？

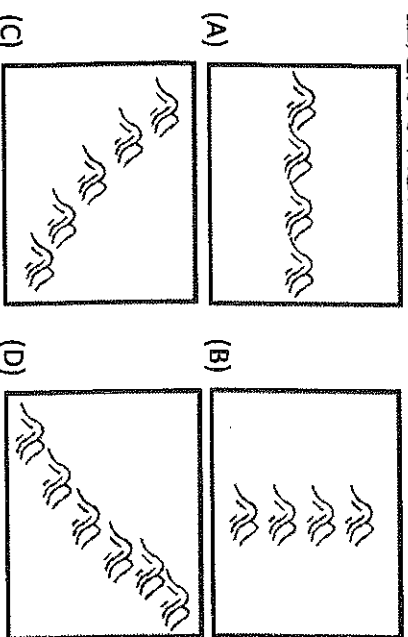


- (A) 甲 (B) 乙 (C) 丙 (D) 丁
- () 36. 下圖為石灰岩洞穴常見的地形。圖中的甲、乙、丙三種地形的名稱，分別為何？



(A) 鐘乳石、石筍、石柱 (B) 石柱、鐘乳石、石筍 (C) 峰林、石筍、鐘乳石 (D) 石筍、鐘乳石、石柱

- () 37. 前往中國大西部旅行的吳老師來到茶卡鹽湖時，發現低淺的湖面上都是鹽的白色結晶，難怪蒙古人將這座湖稱為「鹽海」。茶卡鹽湖位於哪座盆地之中，該盆地因礦產資源豐富，被譽為「聚寶盆」？
- (A) 四川盆地 (B) 塔里木盆地 (C) 準噶爾盆地 (D) 柴達木盆地
- () 38. 中國東半部多震旦走向的山脈，下列哪張圖是震旦走向的示意圖？



- () 39. 「……氣候溫溼多雨，人口稠密，西側的成都平原寬廣平坦，水利發達，物產豐饒。」以上是對哪個盆地的描述，該盆地內的成都平原自古即有「天府之國」的美譽？

(A) 江南丘陵 (B) 柴達木盆地 (C) 四川盆地 (D) 青藏高原

- () 40. 「乾燥少雨，年、日溫差大，再加上長期風力侵蝕，使其成為平坦遼闊的礫漠和草原。」上文所描述的是下列何者？

(A) 青藏高原 (B) 黃土高原 (C) 雲貴高原 (D) 內蒙古高原

- () 41. 中國經濟最發達的地區有珠江三角洲、長江三角洲、華北平原。這些人口密集、發展快速的平原地區主要是由哪種作用力所形成？

(A) 板塊作用 (B) 海水作用 (C) 河川作用 (D) 風力作用

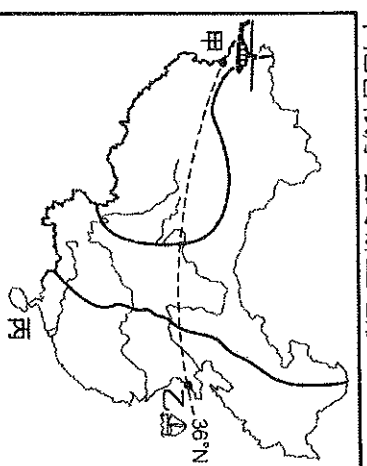
- () 42. 新聞報導：「在中國，採集鐘乳石可分為私採與合法開採，由於採石人工便宜，加上鐘乳石具觀賞價值、市場行情高，盜採行為防不勝防。」依據新聞內容判斷，這些盜採行為主要發生於何處？

(A) 青藏高原 (B) 黃土高原 (C) 內蒙古高原 (D) 雲貴高原

- () 43. 星期日早上 6 點半，在北京唸書的阿光打電話給住在新疆的家人，沒想到卻把接電話的媽媽從睡夢中吵醒。請問：會造成這種狀況的原因是？

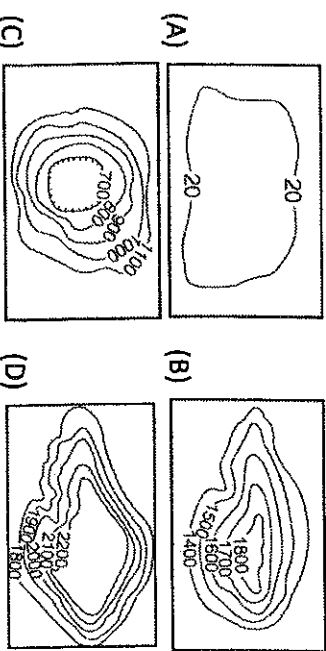
(A) 家人間彼此的習慣差異大 (B) 母子的作息皆不正常 (C) 兩個人所在的緯度差太多 (D) 兩個人位於不同時區。

- () 44. 冒險王明道受製作單位委託至中國拍攝影片如下圖，他從甲地乘坐直升機沿著 36°N 至乙地，旅程中他會依序看到哪些地形？



(A) 黃土高原→青藏高原→華北平原 (B) 華北平原→青藏高原→黃土高原 (C) 青藏高原→華北平原→黃土高原 (D) 青藏高原→黃土高原→華北平原

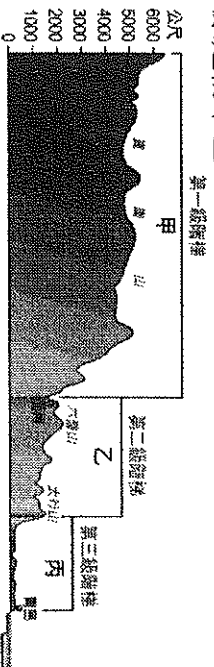
- () 45. 中國境內地形複雜多樣，其中以哪種地形所占的面積比例最大，對境內的人民生活影響甚大？



() 46. 陳老師到中國某地旅遊，她發現該區丘陵大多被開闢為梯田。當地居民積極開闢梯田的用意為何？

(A) 促進交通發展 (B) 改善土壤性質 (C) 增加耕地面積 (D) 展現耕作技術

() 47. 下圖為中國三級地形階梯示意圖。請問：對於影響中國諸多地理現象的地形特徵描述，下列何者錯誤？ (A)大河多由東往西流 (B)海洋氣流更容易深入內陸 (C)東半部平原多於高原 (D)平原是精華區。



() 48. 大雄參加一個百萬挑戰問答的節目，出了一道有關中國地理的題目，提問如表。

提示 1：地處歐亞大陸中心

提示 2：位於中國西部地區

提示 3：面積最大的省級行政區

請問，大雄若想過關，應該回答下列哪一個答案？

(A)新疆維吾爾自治區 (B)內蒙古自治區
(C)寧夏回族自治區 (D)西藏自治區。

() 49. 中國的地形多樣，其中位於第一級階梯，因地勢高聳而有「世界屋脊」稱號的是何者？

(A)雲貴高原 (B)青藏高原 (C)黃土高原
(D)內蒙古高原。

() 50. 上地理課時，老師要同學們提出「適合航運」的海岸條件，下列哪位同學提出的條件不合理？

(A)派大星：「海岸線曲折，較適合開闢成港口。」

(B)海綿寶寶：「河川的堆積作用愈旺盛愈適合航運。」 (C)蟹老闆：「水深不宜太淺。」 (D)皮老闆：「岩岸比沙岸來得適合。」

(試題結束)

基隆市立武崙國民中學 108 學年度上學期【八年級】歷史科第一次段考

8 年 班 號 姓名：

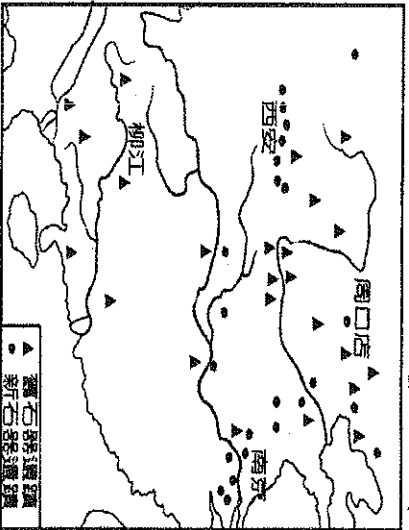
一、選擇題：每題 2 分，合計 100 分。

- 下列哪一種場景有可能出現在北京人的日常生活中？
(A) 埋葬死者 (B) 用火燒烤獸肉 (C) 以骨針縫補獸皮 (D) 使用陶甕儲藏飲水
- () 今天我們有許多觀念是來自歷史的傳承，下列哪一種觀念從商代至今仍根深柢固，成為中華文化的一部分？
(A) 封建思想 (B) 崇拜祖先 (C) 宗法制度 (D) 嫡長子繼承制
- () 春秋戰國時代首先稱霸的齊桓公以管仲為相，提出『尊王攘夷』的口號，請問：口號中所尊的「王」應該是誰？
(A) 齊桓公 (B) 東周天子 (C) 西周天子 (D) 秦始皇
- () 蘇秦、張儀、范雎、商鞅等人在不同的國家分別為相，這突顯出戰國時期的哪一種現象？
(A) 法家愛國君喜愛 (B) 商人階級地位提升 (C) 思想上百家爭鳴 (D) 平民地位崛起
- () 我們下象棋時，棋盤中間可以看見「楚河漢界」四個字，其中「楚」、「漢」兩個字分別代表歷史上的哪二人？
(A) 項梁、劉備 (B) 楚懷王、劉備 (C) 項羽、劉邦 (D) 楚莊王、劉邦
- () 自秦始皇經漢初到漢武帝，中央政府的政治運作受思想家的影響，其思想之轉變依序為何？
(A) 儒家→法家→道家 (B) 法家→道家→儒家 (C) 法家→儒家→道家 (D) 道家→法家→儒家
- () 下列關於中國史上「第一」的敘述，何者正確？
(A) 第一個平民皇帝是劉秀 (B) 第一個中央集權王朝為夏朝 (C) 第一個以外戚身分篡位的是王莽 (D) 第一個建立年號制度的是秦始皇
- () 小丸子看到一段記載：「張角相約信眾在三月五日以『蒼天已死，黃天當立，歲在甲子，天下大吉』為口號，頭綁黃巾，起兵叛亂，燒毀官府、殺害士人，州郡失守，震動洛陽京師……」。小丸子好奇的是文中的張角想叛變的「蒼天」是指中國哪一朝代？
(A) 西周 (B) 西漢 (C) 東周 (D) 東漢
- () 中國自何時開始，建立君位世襲的制度，此後數千年「家天下」的觀念也因此萌芽而發展？
(A) 商代 (B) 堯舜時代 (C) 夏代 (D) 黃帝時代
- () 美環暑假到大陸旅遊，發現黃土高原一帶的民族多住在窯洞中，聯想起中國文明的古文化的遺址，也有半穴居的住屋特徵。請問下列哪一文明「不可能」看到相同的住屋？
(A) 仰韶文化 (B) 三星頭文化 (C) 龍山文化 (D) 河姆渡文化
- () 黃帝在歷史上被推崇為「中華民族的共同始祖」，原因在於他對中國文化有許多貢獻。下列哪一項「不」屬於黃帝時期的貢獻？
(A) 統一文物思想 (B) 統一各部落 (C) 發明文字、指南車 (D) 為中國文化奠定基礎
- () 西方有「希臘神話」、「伊索寓言」，在中國，也有一位擅長以寓言故事來闡述人生哲理的思想家，請問是指何人？
(A) 孟子 (B) 老子 (C) 荀子 (D) 莊子
- () 周朝因首都位置的不同而分為「西周」和「東周」兩個階段。請問：周朝首都向東遷移的原因為何？
(A) 武王滅商 (B) 周公東征 (C) 犬戎為禍 (D) 管蔡之亂
- () 濱崎是西漢中期的平民百姓，若是想要當官，應該透過何種方式？
(A) 以嫡長子身分擔任 (B) 經商致富後購買官職 (C) 戰場殺敵取得軍功 (D) 在地方取得孝廉聲名
- () 史家云：「以史為鑑」，然而中國的朝代往往重蹈覆轍。請問東漢中期的衰落，是因為未記取前朝的哪一個歷史教訓？
(A) 人民叛亂 (B) 外戚掌權 (C) 外族入侵 (D) 宦官干政
- () 絲路的開通，促進了東西文化的交流，其中又以哪個宗教的傳入，對中國文化影響最深遠？
(A) 佛教 (B) 道教 (C) 天主教 (D) 基督教
- () 資源回收再利用是每個人都要努力的目標，早在東漢時，哪一位宦官結合前人的經驗，用樹枝、破布、魚網為原料造紙，促進了教育文化的發展？
(A) 蔡倫 (B) 趙高 (C) 張騫 (D) 司馬遷
- () 無憂是西周某位諸侯的第三個兒子，而且並非嫡子。下列何者最可能出現在他的生活中？
(A) 繼承諸侯頭銜的優先人選 (B) 獲得一塊封地 (C) 必須耕種自己的土地 (D) 一出生就降為平民。

19. () 漢代在武帝之前一直以「和親政策」來維繫和平，其背後的成因為何？
 (A) 漢初國力不穩定，減少衝突讓人民休息 (B) 老百姓反對戰爭，募集不到足夠的兵力
 (C) 匈奴仰慕皇室之女，和親可以造成親上加親 (D) 漢初以墨家思想治國，提倡非攻追求和平
20. () 關於西漢與東漢的比較，下列敘述何者正確？
 (A) 閼君主皆為平民出身 (B) 皆亡於民變亂事 (C) 皆曾派人出使西域 (D) 皆出現宦官干政
21. () 有一天，有兩隻烏龜正在聊天，其中一隻烏龜說：「其實我們的命運一直很坎坷，很久以前，我們祖先的殼還被人類拿來刻字、占卜算命呢！」請問：烏龜說的「很久以前」最可能是指中國的哪一個朝代？
 (A) 黃帝 (B) 商朝 (C) 夏朝 (D) 周朝
22. () 考古學家在河南省偃師縣發現了二里頭文化遺址，請問：有關上述的文化遺址的說明何者「錯誤」？
 (A) 證實夏朝文明的存在性 (B) 出土大量青銅器，已經進入青銅器時代
 (C) 宮殿建築，代表國家權力強大 (D) 農業進步，有曆法的出現
23. () 甲、封建制度與察法制度完備；乙、大一統帝國的出現；丙、貴族沒落平民崛起；丁、國家組織的形成；戊、占卜風氣盛，尤重祖先崇拜。上列是中國古代各朝代的特色，如果依其朝代先後順序排列，何者正確？
 (A) 戊丁丙甲乙 (B) 甲戊丙丁乙 (C) 甲乙丙丁戊 (D) 丁戊甲丙乙
24. () 《尚書》記載著商朝某位國王為了遷都，他把臣下召集到王庭，一面勸告，一面威脅說：「視民利用遷」(我是為了民眾的利益而遷都)；「非汝有咎，比於罰」(不是因為你們有過錯而處罰你們)；國王又說如果有不聽從命令的人：「我乃剝殄滅之，無遺育，無俾易種於茲新邑」(我要把你們新盡殺絕，不使孽種留在新邑)。請問：這位國王應該是誰？
 (A) 紂王 (B) 商湯 (C) 盤庚 (D) 武王
25. () 魯國大夫季平子私自用「八佾舞於庭」，孔子聞之大怒：「是可忍，孰不可忍也。」請問：孔子生氣的原因主要是在於季平子僭越了周朝的何種制度？
 (A) 井田制度 (B) 禮樂制度 (C) 封建制度 (D) 宗法制度
26. () 法家主張國君要用威勢、權術和刑罰來統御臣民，充分顯現出對人性不信任的態度。此種思想與何人對人性的看法相近，強調需靠禮來節制和教育，才可教化人們？
 (A) 韓非 (B) 老子 (C) 荀子 (D) 孟子
27. () 秦國的法令規定，人民可按軍功賞賜，只要斬得敵人中士首級一顆，賞子爵位一級。又規定：凡是告發奸人可以獲得如同斬得敵人首級一樣的獎賞，不告發的有罪；如果一家藏匿奸人，與投奔敵人所犯的罪相同，其餘九家倘若不檢舉告發，要一起獲罪。在嚴明的法令下，秦國的軍民勇於奮戰殺敵，百姓們也不敢藏匿犯罪，治安良好。這是哪一位變法家的措施？
 (A) 商鞅 (B) 管仲 (C) 蘇秦 (D) 范雎
28. () 漢武帝時推行了許多政策，其中哪一項措施是與匈奴有關？
 (A) 專賣制度 (B) 建立年號 (C) 選才制度 (D) 獨尊儒術
29. () 梁啟超稱讚他：「堅忍磊落奇男子，世界史開第一偉人」；司馬遷稱他的行為是「鑿空」；他是中國歷史上第一位探險家，象徵漢族向西域的首次探險，此人應是何者？
 (A) 班固 (B) 張騫 (C) 班超 (D) 蒙恬
30. () 「鼎」是青銅器時代重要的禮器，「一言九鼎」是形容說話的人身分很高，說出來的話很有分量。請問：在「西周」時代，誰能夠擁有數量最多的鼎？
 (A) 天子 (B) 諸侯 (C) 大夫 (D) 士
31. () 中國歷史上曾發生過「甲午戰爭」、「戊戌變法」、「辛亥革命」等重大史事，請問：用甲午、戊戌、辛亥紀年的方式是從哪一朝代開始的？
 (A) 黃帝時期 (B) 夏代 (C) 商代 (D) 周代
32. () 春秋戰國時代，農業生產量大為提升的主要原因，以下何者「錯誤」？
 (A) 水利工程興建 (B) 引進新品種 (C) 土地私有化 (D) 鐵製農具出現
33. () 春秋到漢初的學術發展，從「百家爭鳴」歷經「焚書坑儒」到「獨尊儒術」，呈現出何種歷史意義？
 (A) 文化多元並立發展 (B) 學術不受政治干涉 (C) 思想文化趨向單一 (D) 平民地位提升
34. () 西元前 221 年秦國滅東方六國，建立一統中國的局面，但是卻立國僅十五年就亡國。請問秦朝亡國的真正原因是哪一項措施的結果？
 (A) 嚴刑峻法，人民勞役過度 (B) 北伐匈奴，財政負擔嚴重 (C) 行郡縣制，引發地方叛變 (D) 焚書坑儒，破壞學術文化

35. () 著有《傷寒雜病論》一書，並且有「醫聖」美名的是下列哪一位？
 (A)張衡 (B)張騫 (C)張機 (D)張良。

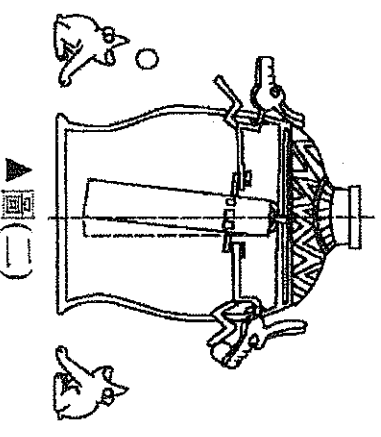
36. () 下圖為新、舊石器時代重要遺址分布圖，由下圖可說明中國文明起源的哪一現象？



- (A)以黃河流域為中心 (B)以長江流域為中心 (C)由臺灣向大陸延伸 (D)各地文明多元並立
 37. () 漢朝四百多年的歷史中，曾經一度中斷，分為東、西漢，這是因為哪一件史事發生的緣故？
 (A)楚漢相爭 (B)匈奴入侵 (C)王莽篡位 (D)黃巾之亂。

38. () 生處漢朝的小衫平時苦讀五經，成績優異，所以被地方上的官吏選派到中央的學校就讀。請問：他所就讀的學校當時稱為什麼？(A)書院 (B)大學 (C)太學 (D)儒學。

39. () 圖(二)是中國古代的天文科學儀器，此儀器主要的功用為何？
 (A)解說天體運行的道理
 (B)測量雨量的多寡
 (C)測定地震發生的方位
 (D)觀測日蝕出現的時間。



▲圖(二)

40. () 漢朝商人經絲綢之路最遠可抵達「大秦」，「大秦」是指當時西方哪一國家？
 (A)波斯帝國 (B)阿拉伯帝國 (C)亞歷山大帝國 (D)羅馬帝國。

41. () 《圖說中國歷史》中提到一位人物「不畏艱難前往西方國家，期間曾被俘十餘年，娶妻生子，但始終秉持漢節，未忘記自己出使的任務。雖然未達成原定目的，卻促進東西貿易的發展，可說是中國歷史上第一位探險家。」請問：這位探險家出使的目的為何？

- (A)掠奪西方物資 (B)向外拓展領土 (C)宣揚漢朝國威 (D)聯合他國對付匈奴。
 42. () 下列為有關漢朝的史事：(甲)王莽篡位(乙)楚漢相爭(丙)光武中興(丁)劉邦建國，請按時間發生的先後順序排列 (A)(丁)→(乙)→(丙)→(甲) (B)(甲)→(丙)→(丁)→(乙)
 (C)(乙)→(丁)→(甲)→(丙) (D)(丙)→(丁)→(乙)→(甲)。

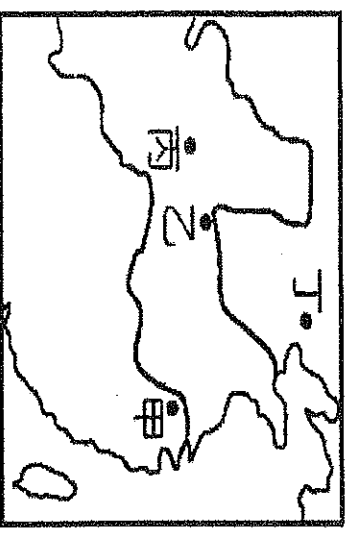
43. () 考古學家在中國某地的一座大型陵墓中，挖掘出大量神情和動作都與真人非常接近的陶俑，並在當地蓋了一座「兵馬俑博物館」。請問：此地是在圖(六)中的何處？

- (A)甲 (B)乙 (C)丙 (D)丁。

44. () 下列有關《漢書》的敘述，何者正確？

- (A)中國第一部斷代史
 (B)首創紀傳體史書的體例
 (C)記載東漢一代的史事
 (D)記述黃帝到漢代的人物傳記。

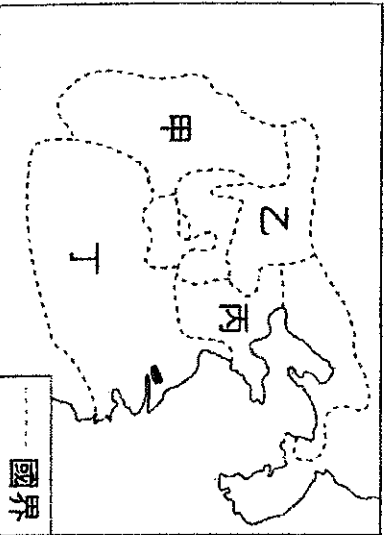
■ 秦始皇和漢武帝並稱為「秦皇漢武」，均為中國歷史上有名的君主。請問：



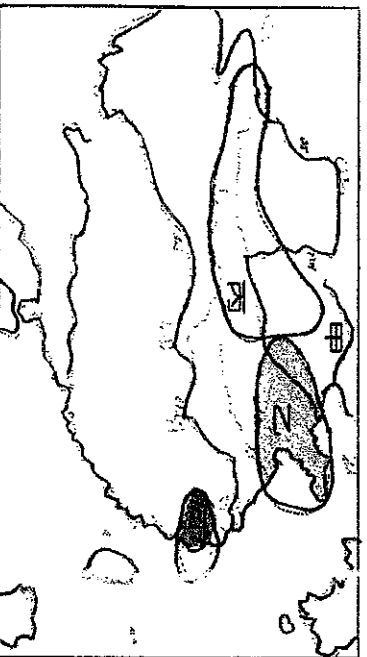
▲圖(六)

45. () 這二位君主在政治方面的措施哪一項是正確的？
 (A)秦始皇和漢武帝都採用年號記年
 (B)秦始皇首建年號；漢武帝首用皇帝稱號
 (C)秦始皇採用封建制度；漢武帝採用郡縣制度
 (D)秦始皇和漢武帝均派兵討伐匈奴。

46. () 戰國時期，各國因征戰頻繁死傷慘重，因而當時有一學派認為人與人之間的惡鬥，就是因為不相愛，如果可以捐棄成見，愛人如己，自然可以免除不孝慈、盜賊和侵奪等事。請問：這是哪一家思想？ (A)儒家 (B)道家 (C)墨家 (D)法家。
47. () 秦始皇結束了春秋戰國以來諸侯割據混戰的局面，建立了中國歷史上第一個統一的王朝。但統一前各國的法定、文物形式不盡相同，為了方便統治，於是推行統一文物。請問：統一的文物不包括下列何者？ (A)語言 (B)文字 (C)貨幣 (D)度量衡。
48. () 附圖是戰國時期的形勢圖。請問：最後爭霸並統一天下的是圖中哪個地區的國家？ (A)甲 (B)乙 (C)丙 (D)丁。



49. () 附圖是中國史前文化重要遺址分布圖。如果考古學家想找到碳化的稻穀遺物，最可能是在下列何處？ (A)甲 (B)乙 (C)丙 (D)丁。



50. () 這位君王以「烽火戲諸侯」來博取愛妃褒姒一笑。褒姒生子伯服，君王為了討好她，將原來的申皇后及太子宜臼廢了，以褒姒為后，立伯服為太子。結果申后帶其子回到中國，申皇后之父申侯乃聯合北方外族反抗，最後導致西周滅亡。這位君王應是何人？ (A)桀 (B)紂王 (C)幽王 (D)平王。

◎作答完畢，請再詳細檢查。

基隆市立武崙國民中學一〇六學年度第一學期第一次段考公民科試題

班級：八年

班 座號：

姓名：

一、選擇題：(每題兩分)

- () 1. 日本實施三權分立的憲政體制，其眾議院負責制定法律、審查政府的預算。日本眾議院其職權等同於我國的哪個中央政府機關？ (A)行政院 (B)立法院 (C)考試院 (D)監察院。
- () 2. 一九六八年十月，聯合國因一篇研究報告指釣魚台海域蘊藏有大量石油，成為世界注意之焦點。而我國、日本及中華人民共和國皆聲稱釣魚台為己所有，迄今其爭議仍未解決。請問：上述所爭的應該是下列哪一項？ (A)領土 (B)國民 (C)國籍界定 (D)政府組成。
- () 3. 為使全體市民能歡度平安、順暢、溫馨的春節假期，臺北市政府警察局特別要求轄區各派出所，加強巡邏防搶、防竊，並提供民眾存、提款隨行護送服務，希望能有一個平安、便捷、祥和的社會家園，請問：上述做法主要發揮政府的哪一項功能？ (A)維護國家安全 (B)伸張社會正義 (C)維持公共秩序 (D)增進人民福利。
- () 4. 雲林縣政府選定林內鄉烏塗村為興建垃圾焚化爐之廠址，縣府在 4 月 11 號向林內鄉民召開說明會，與當地居民、民代進行溝通，以傾聽民眾的聲音，請問：雲林縣政府的做法符合下列？ (A)法治政治 (B)責任政治 (C)政黨政治 (D)民意政治。
- () 5. 下列關於我國政府組織與職權的配對，何者錯誤？ (A)國防部：統率陸海空三軍 (B)考試院：負責各種國家考試 (C)行政院：規劃與執行政策 (D)監察院：糾正行政機關的不當施政。
- () 6. 近年來有關國務機要費發票案及行政首長特支經費所引發爭議，其決算審計部分應由哪一個中央政府負責？ (A)立法院 (B)監察院 (C)考試院 (D)司法院。
- () 7. 依法規定，監察院可行使彈劾權，彈劾違法失職的公務人員。請問：下列何人無法由監察院提出彈劾案？ (A)台中市長 (B)瑞芳鎮鎮長 (C)台東縣議員 (D)外交部部長。
- () 8. 我國總統曾於民國九十五年前往太平洋島國帛琉訪問，將與帛琉、諾魯、吐瓦魯、馬紹爾群島、索羅門群島與吉里巴斯等國領袖舉行「第一屆臺灣與太平洋友邦元首高峰會」。請問：根據上述內容判斷，總統此行將有助於實現國家的何種功能？ (A)為護社會秩序 (B)保障人民安全 (C)發展社會福利 (D)伸張司法正義。
- () 9. 日本女子田中千繪嫁給台灣老公多年，最近已順利取得中華民國國籍，請問：田中千繪取得中華民國國籍的行為稱為？ (A)歸順 (B)移民 (C)居留 (D)歸化。
- () 10. 下列哪一個國家的「政體」和我國一樣？ (A)中華人民共和國 (B)北韓 (C)美國 (D)古巴。
- () 11. 由於中油錯誤操作，8 月 15 日下午全台各地傳來大停電，包括彰化、林口、農委會、新竹、總統府等地都傳出停電。經濟部長李世光召開記者會為停電事件造成人民的不便道歉，並請辭下臺，請問：這是哪一種民主政治的特色？ (A)民意政治 (B)法治政治 (C)責任政治 (D)政黨政治。
- () 12. 人民對憲法、法律與命令的適用有疑義時，可以向下列何者聲請解釋？ (A)總統 (B)大法官會議 (C)憲法法庭 (D)立法委員。
- () 13. 關於考試院的組織與職權，下列哪一項敘述不正確？ (A)舉行國中會考 (B)公務人員考績、任免之銓敘 (C)公務人員的撫恤、退休事宜 (D)舉行專門職業技術人員考試。
- () 14. 下列何者不是民主政治的特色？ (A)組織政黨，提名總統候選人，參與總統選舉，爭取執政 (B)王子犯法與庶民同罪 (C)行政院院長因核四案辭職下臺 (D)政府若是政策失敗，無須負任何責任，因為政府官員並無違反法律。
- () 15. 我國中央政府的組織與職權各有不同。請問：下列哪些人須經總統提名、立法院同意後，才可任命？ (甲)立法院院長 (乙)考試委員 (丙)監察委員 (丁)審計長 (戊)行政院院長
(A)甲丙丁 (B)乙丙丁 (C)甲乙丙丁 (D)甲乙丙戊。
- () 16. 在英國的政治運作過程中，國會多數議員對內閣之政策或施政不滿，通過不信任案，即可倒閣，迫使內閣總辭下臺，繼由能獲得國會多數支持之新領袖，組織新內閣。請問：我國哪些中央政府機關分別等同於英國的國會與內閣？ (A)法院、總統 (B)司法院、行政院 (C)立法院、行政院 (D)行政院、立法院。
- () 17. 當國家遭遇緊急危難或財政經濟上的重大變故時，總統得經行政院會議之決議發布緊急命令，為必要之處置。但須於發布命令後一個月內提交下列何者進行追認？ (A)憲法法庭 (B)考試院 (C)監察院 (D)立法院。
- () 18. 下列關於國家主權的敘述，何者錯誤？ (A)是國家最高的權力 (B)對內享有執行政策的權力 (C)政府的更替對於國家在國際上的地位有所影響 (D)國家有自己制定外交政策的權力。

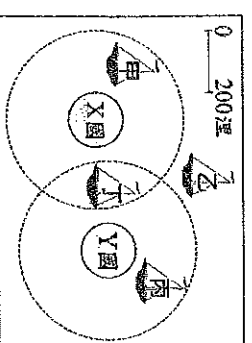
市立武崙國民中學一〇六學年度第一學期第一次段考公民科試題

班級：八年 班 座號： 姓名：

19. 憲法法庭是屬於司法院的組織，由大法官所組成。下列何者是憲法法庭所負責的事項？ (A) 審理訴訟案件 (B) 審議公務員的懲戒案件 (C) 審理總統、副總統之罷免案 (D) 審理總統、副總統之彈劾案。
20. 瑞典目前國王卡爾十六世的第一順位繼承人是維多利亞公主。現任執政黨於 2006 年的選舉贏得民眾支持而組成政府。請問：瑞典是屬於哪一種類型的國家？(A) 君主獨裁國 (B) 民主共和國 (C) 君主立憲國 (D) 獨裁共和國。
21. 國家應設置什麼機關來伸張社會正義？ (A) 行政機關 (B) 司法機關 (C) 考試機關 (D) 總統府。
22. 以日本為例，其國家元首是天皇，為國家的精神象徵，地位崇高，但在政治上卻沒有實際的權力，稱為_____。 (A) 首相 (B) 總理 (C) 實權元首 (D) 虛位元首。
23. 「孫中山先生倡導革命，目的之一在推翻專制政體，建立民主共和國。」下列何者最符合上述「共和」體制的內涵？ (A) 提倡公有共享的財產制度 (B) 國家領導者不由世襲產生而由人民選出 (C) 政府存在的主要目的在控制社會流動 (D) 國家政策由全體公民共同決定。
24. 關於國家類型的配對，下列何者錯誤？ (A) 君主立憲國——丹麥 (B) 君主獨裁國——北韓 (C) 獨裁共和國——中華人民共和國 (D) 民主共和國——美國。
25. 韓國總統盧泰愚任期屆滿後，遭徹查官商勾結活動。1995 年 12 月 5 日，韓國檢察機關對盧泰愚提出起訴，成為韓國歷史上第一位在法庭公開受審的前國家元首。1996 年 8 月 26 日判處盧泰愚有期徒刑 22 年 6 個月。上述文中所敘述的是民主政治的哪一項特色？ (A) 法治政治 (B) 責任政治 (C) 政黨政治 (D) 民意政治。
26. 下列是四位網友在網路聊天室聊天的內容，若其中一人為我國國民，僅根據他們的敘述判斷，何者在聊天當時最可能具有中華民國國籍？ (A) 小萍：「我的出生地是美國，不過現在在臺灣工作。」 (B) 小文：「等了五年，我下週將前往內政部申請歸化。」 (C) 小君：「我的父母都是日本人，但我在花蓮縣出生。」 (D) 小璋：「我出生當天，父親正好當選嘉義縣縣議員。」
27. 「北宜高速公路雪山隧道，全長約 12.9 公里，民國 81 年開工，於 95 年通車。是為世界第三長、東南亞第一長之公路隧道，使得臺北、宜蘭間來往行車時間，由 2 個小時，縮短為 30—40 分鐘」請問：雪山隧道的完工是發揮了國家的哪一項功能？ (A) 秩序 (B) 文化 (C) 福利 (D) 經濟。
28. 依據公益券發行條例規定，赤經銷商以身心障礙者、低收入單親家庭、原住民者為優先，以提供弱勢團體更多的工作機會。另發行機構應將各種公益彩券發行之盈餘專供政府補助國民年金、全民健康保險準備、社會福利及慈善等公益活動之用。請問：上述做法主要發揮國家的哪一項功能？ (A) 福利 (B) 安全 (C) 秩序 (D) 正義。
29. 孫中山先生創立「五權憲法」，主張行政、立法、司法、考試、監察五權應獨立運作，是因為他發現三權分立存在下列哪些問題？ (甲) 行政權兼有考試權，會產生濫用私人的流弊 (乙) 立法權兼有監察權，容易形成議會專權的弊端 (丙) 司法權兼有監察權，可能會出現效率低落的危機 (丁) 行政權兼有監察權，會發生貪汙腐敗的現象 (A) 甲乙 (B) 甲丁 (C) 乙丙 (D) 丙丁。
30. 陳曉東借錢給鄰居吳賴漢，到了還款時間，吳賴漢卻拒不還錢，陳曉東只好提起訴訟。請問：上述訴訟案件應由下列何者負責審理？ (A) 大法官 (B) 憲法法庭 (C) 各級法院 (D) 公務員懲戒委員會。
31. 在民主共和國中，若要成為國家元首就必須透過何種方式才能取得國家領導權？ (A) 推翻政府 (B) 永遠不可能成為元首，因為是世襲產生 (C) 與皇室結婚 (D) 登記參加總統選舉。
32. 2016 年 1 月 16 日第十四任總統副總統選舉投票結果，由民進黨推出的正、副總統候選人蔡英文、陳建仁以 58.12% 的得票率，贏得國民黨推出的候選人朱立倫、王如玄 31.04% 的得票率，讓民進黨順利贏回政權執政。實現第三次的政黨輪替，讓政權和平轉移。請問：此次選舉最能凸顯民主政治的哪一項特色？ (A) 政黨政治 (B) 責任政治 (C) 民意政治 (D) 法治政治。
33. 依法規定，監察院可行使彈劾權，彈劾違法失職的公務人員。請問：彈劾案是由監察院向何者提出？ (A) 司法院公務員懲戒委員會 (B) 考試院銓敘部 (C) 司法院各級行政法院 (D) 行政院法律部警政署。
34. 行政院規畫與執行國家政策，並依法對立法院負責。當行政院認為立法院所通過的法律案、預算案、條約案窒礙難行時，該如何處置？ (A) 得經總統核可，移請立法院覆議 (D) 得經總統附議 (B) 得經監察院核可，移請立法院覆議 (C) 得經總統核可，移請立法院覆議 (D) 得經總統核可，移請監察院覆議。
35. 右圖，我國籍遠洋漁船上，船長與漁工的對話如下：漁工小義：「船長，我們可以下網捕魚了嗎？」船長小城：「沒問題，我們的船已經開到可自由捕魚的公海上了。」

根據上述內容判斷，小城的船隻最可能位於圖(八)中哪一個位置？

(A) 甲 (B) 乙 (C) 丙 (D) 丁



圖(八)

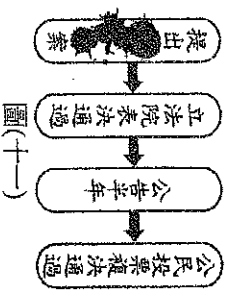
基隆市立武崙國民中學一〇六學年度第一學期第一次段考公民科試題

班級：八年

班 座號：

姓名：

- () 36. 面對北韓的不斷挑釁，美國與南韓於八月廿一日將展開代號為「乙支自由衛士」的聯合軍事演習，加強兩國之間的軍事合作。請問：根據上述內容判斷，兩國間的合作將有助於實現國家的何種功能？
 (A) 維護社會秩序 (B) 保護人民安全 (C) 保障基本人權 (D) 伸張司法正義。
- () 37. 下列哪一政治原理在於主張將國家權力分別由不同機關職掌，並在個別行使權力的過程中保持互相監督、平衡的作用，防止國家權力過度集中與濫用，保障人民基本人權？ (A) 權力分立 (B) 主權在民 (C) 權能區分 (D) 均權制度。
- () 38. 在民主國家中，政府的各項施政都要向人民負責，為達成責任政治的理想，在我國中央政府組織中，除了監察院外，何者也具有監督行政機關的職權？ (A) 總統 (B) 考試院 (C) 立法院 (D) 司法院。
- () 39. 家家在書上看到某個程序的流程圖，但其中的部分內容卻遭到汗漬遮蔽，如圖(十一)所示。根據圖中內容判斷，此圖應是下列何者的法定程序？ (A) 《民法》修正案 (B) 《憲法》修正案 (C) 《會計法》覆議案 (D) 總統、副總統彈劾案。
- () 40. 大南：「當監察委員通過彈劾案件後，會交由我們審理，否則即使公務員涉及違法情事，我們也不能主動對當事人的行為進行審議。」根據大南的說法判斷，他應是任職於下列哪一個機關？ (A) 審計部 (B) 法務部 (C) 臺北高等行政法院 (D) 公務員懲戒委員會。



- () 41. 為了讓社會安全體系更加完備，邁入「人人有保」的全民保險時代，甲制定了《國民年金法》，若三讀通過須經過乙來公布，並由丙來推動。上述中甲、乙、丙依序為 (A) 立法院、總統、行政院 (B) 司法院、總統、立法院 (C) 司法院、立法院、行政院 (D) 監察院、行政院、總統。
- () 42. 立法委員在開會時，下列哪個機關的相關部會首長，有就其施政要到立法院接受質詢的義務？ (A) 行政院 (B) 監察院 (C) 考試院 (D) 以上皆是。
- () 43. 政府修訂社會救助制度，包括調整貧窮線定義、納入近貧家庭、增訂低收入戶通報機制等。上述政府措施，可以實現下列哪一項國家目的？ (A) 保障安全 (B) 發展經濟 (C) 提供福利 (D) 維持秩序。
- () 44. 交通部為促進觀光，推動國內旅遊方案，預算經費高達3億元，以刺激消費。該方案的預算經費，在推動後必須進行決算，請問：決算必須由下列哪一個單位進行審查？ (A) 考選部 (B) 交通部 (C) 審計部 (D) 內政部。
- () 45. 某市市長在颱風來襲時出國考察，使得該市遭受颱風重創，損失慘重，民眾抱怨連連。監察委員接受民眾的陳情，對該市長的行為展開調查，調查屬實，監察委員將對失職的市長行使下列哪一項職權？ (A) 糾正權 (B) 質詢權 (C) 糾舉權 (D) 審查權。
- () 46. 老師在課堂上讓同學進行角色扮演，透過相互對話的方式，了解我國中央政府的職權運作與互動關係。根據右表的内容判斷，下列關於甲、乙職權的敘述何者正確？

同學	角色	對話內容
小哲	甲	我決定提名阿誠為大法官。
大熊	乙	我認為阿誠不適任，所以我不同意這個人事任命案。

- () 47. 第九屆立法委員選舉於2016年1月16日舉行，立法院政、副院長於2月1日產生，請問：立法院政、副院長如何產生？ (A) 立委互選 (B) 總統任命 (C) 公民直選 (D) 黨員選舉。
- 二、組合題：(每題兩分)
1. 我國中央政府的運作，強調權力的制衡與監督，下列是行政院與立法院間的權力運作關係，請回答下列各題：
- () 48. 有關我國「行政院與立法院的關係」之敘述，何者正確？ (A) 立法院院長有向行政院提出施政方針與施政報告之責 (B) 立法院有權直接罷免總統 (C) 立法院受行政院監督，立法院官員有義務至行政院接受質詢 (D) 立法院可對行政院提出的預算案進行審查。
- () 49. 立法院對行政院院長提出不信任案通過後，行政院院長得呈請誰解散立法院？ (A) 總統 (B) 司法院院長 (C) 監察院院長 (D) 大法官。
- () 50. 若行政院與立法院發生的政治爭議，涉及違憲問題，可由下列哪一個單位負責審理政治爭議？ (A) 行政院院會 (B) 立法院院會 (C) 大法官會議 (D) 憲法法庭。