

基隆市立武崙國民中學 106 學年度第一學期第一次段考九年級地理科試題卷

班級：\_\_\_\_\_ 姓名：\_\_\_\_\_ 座號：\_\_\_\_\_


共 50 題，每題 2 分，滿分 100 分

1. ( ) 「邦加羅爾」有印度矽谷之稱，請問印度發展軟體工業的有利條件主要有哪些？(甲)工資低廉 (乙)教育普及 (丙)使用英語 (丁)社會平等 (戊)與歐美時差互補 (己)對外開放政策  
 (A)甲乙丙己 (B)甲丙戊己  
 (C)乙丙丁戊 (D)丙丁戊己

2. ( ) 若搭乘飛機由低緯向高緯穿越印度半島，請問依續可以看到的地形區為下列何者？  
 (甲)喜馬拉雅山 (乙)印度大平原 (丙)德干高原 (A)甲→乙→丙 (B)乙→丙→甲 (C)丙→乙→甲 (D)丙→甲→乙。

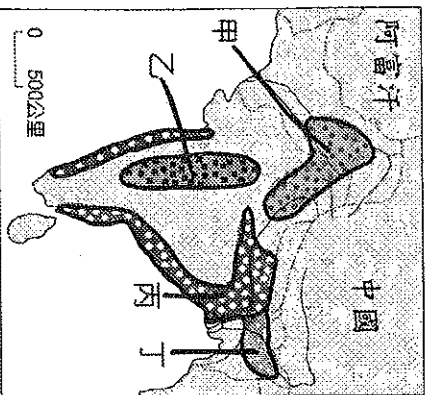
3. ( ) 環球文化探索頻道計劃在今年9月前往印度拍攝訪談節目，請問他們會遇到哪種天氣型態？(A)暴雨氾濫 (B)冰天雪地 (C)燥熱難耐 (D)涼爽宜人。

4. ( ) 右圖是南亞人口分布圖，請問影響此地人口分布的主要因素最可能為下列何者？(A)雨量多寡 (B)政府政策 (C)種性制度 (D)宗教信仰



右圖為南亞農作物分布圖，請依據作物適合生長的環境回答第5~7題。

5. ( ) 茶樹適合生長在潮濕多雨且排水良好的丘陵地。若依此條件，圖中的哪一地區最可能是著名地茶葉產區？

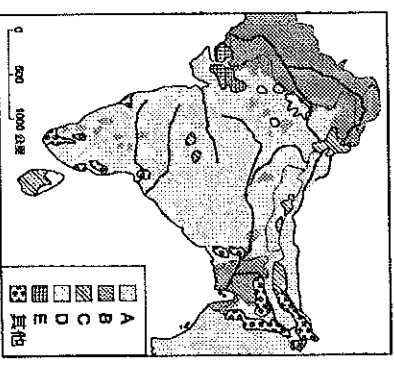


- (A)甲 (B)乙 (C)丙 (D)丁。  
 6. ( ) 棉花適合生長的環境為「土壤肥沃、夏雨秋乾」，請問圖中那個地區為棉花的主要產區？(A)甲 (B)乙 (C)丙 (D)丁。

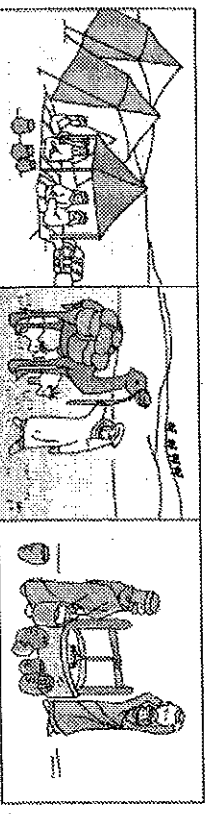
7. ( ) 我們可以發現南亞作物分布圖中的丙區與第4題的人口分布有很大比例的類似，請問丙區最主要的農作物為下列何者？  
 (A)黃麻 (B)甘蔗 (C)小麥 (D)稻米。

8. ( ) 西亞地區的建築物受到氣候的影響，多數會出現下列哪一項特色？(A)窗小、平屋頂 (B)騎樓、柏油斜屋頂 (C)通風透氣、高腳屋 (D)色彩鮮豔、斜屋頂。

9. ( ) 右圖為南亞地區的信仰分布圖。請問圖中的B區主要是信奉哪一種宗教？(A)印度教 (B)天主教 (C)大乘佛教 (D)伊斯蘭教。

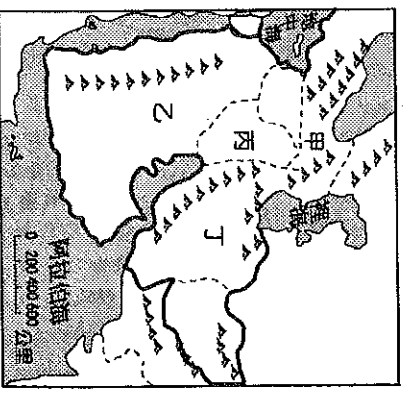


10. ( ) 下圖為西亞居民傳統的生活方式，請問此生活方式受下列哪項因素影響最深？



- (A)區域紛爭、難民眾多 (B)氣候炎熱、乾燥少雨 (C)宗教信仰、紀律嚴明 (D)地形崎嶇、與世隔絕

11. ( ) 雨形在谷歌地球的衛星影像上看到西亞沙漠中一個個圓形的人工綠洲。請問此景觀會出現上圖哪一區？  
 (A)甲 (B)乙 (C)丙 (D)丁。

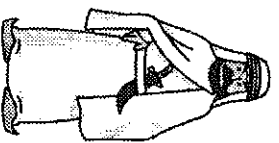


12. ( ) 承上題，請問此種綠洲的灌溉方式為下列何者？(A)利用坎井引高山融化雪水 (B)儲存冬季雨水在夏季灌溉 (C)透過鑽井抽取深層地下水 (D)建築渠道引入天然河川水 (1/4)

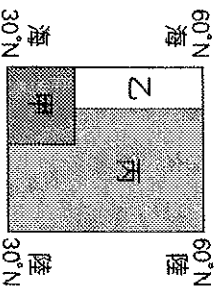
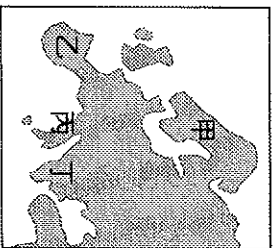
13. ( ) 石油產量的多寡與價格的漲跌牽動著世界各國的經濟，請問下列哪一個國際組織為產油國所成立，目的是為了維護自身利益以及穩定石油在國際市場的價格？(A)WTO (B)OPEC (C)APEC (D)ASEAN。
14. ( ) 阿里為虔誠的穆斯林，他一生最大的願望就是前往第一聖城朝聖，請問他需要入境哪一個國家並前往哪一個城市？(A)以色列，耶路撒冷 (B)沙烏地阿拉伯，麥加 (C)沙烏地阿拉伯，麥地那 (D)阿拉伯聯合大公國，麥加。
15. ( ) 印度大城市孟買的貧民窟和豪宅只隔著一條馬路，教育資源的不均也使得這種情況日益嚴重，請問導致印度嚴重貧富差距的原因為何？(A)戰爭頻繁 (B)政局不穩 (C)饑荒連年 (D)種姓制度。
16. ( ) 馬爾地夫近年來受氣候變遷影響出現許多環境難民，有些人甚至被迫放棄家園到其他國家謀生，請問當地面臨哪種環境問題？(A)全球暖化，海平面上升 (B)工業廢水，污染農耕地 (C)海水酸化，珊瑚礁白化 (D)霾害嚴重，空氣濁度高。
17. ( ) 哈薩克為中亞重要的石油生產國，請問該國石油的外銷主要是依靠哪一種運輸方式？(A)油罐車 (B)輸油管 (C)大型油輪 (D)運油貨機。
18. ( ) 下表為西亞和中亞氣候乾燥的成因，請問哪一個選項是正確的？

	西亞	中亞
(A)	距海遙遠	距海遙遠
(B)	高壓籠罩	距海遙遠
(C)	距海遙遠	高壓籠罩
(D)	高壓籠罩	高壓籠罩

19. ( ) 以色列的耶路撒冷為世界重要的宗教聖地，也因此成為兵家必爭之地，請問這個都市的舊城區是哪三個宗教的聖地？(A)印度教、基督教、佛教 (B)猶太教、基督教、神道教 (C)印度教、猶太教、伊斯蘭教 (D)猶太教、基督教、伊斯蘭教。
20. ( ) 中亞的哈薩克和烏茲別克正面臨嚴重的生態危機，經濟利益和環境保育兩者無法兼顧，由於過度引水灌溉，除了湖泊萎縮、土壤鹽鹼化外，甚至還不時刮起鹽風，當地環境面臨嚴重考驗，請問過度引水是為了灌溉下列哪種作物？(A)小麥 (B)橄欖 (C)葡萄 (D)棉花。
21. ( ) 承上題，請問中亞地區因過度灌溉而導致萎縮的湖泊是指哪一個？(A)黑海 (B)鹹海 (C)鹹海 (D)死海。
22. ( ) 西亞地區紛爭不斷，除了內部的紛爭外，歐、美和俄羅斯的介入更是讓原本的紛爭更加複雜，請問這些外來勢力的干涉主要和西亞擁有的哪些特質有關？(甲)陸運要衝 (乙)富產石油 (丙)宗教聖地 (丁)商業重鎮 (戊)掌握科技 (己)民族多元 (A)甲乙 (B)乙丙 (C)丙丁 (D)乙己。
23. ( ) 庫德族自治區在2017年9月進行公民投票並順利通過獨立建國，請問庫德族此舉將會受到哪個國家最嚴厲的反對與挑戰？(A)以色列 (B)科威特 (C)伊拉克 (D)沙烏地阿拉伯。
24. ( ) 土耳其在幼發拉底河上游興建阿塔圖克水壩蓄水，此舉引發河川下游哪些國家的不滿與抗議？(甲)伊朗 (乙)約旦 (丙)敘利亞 (丁)伊拉克 (戊)以色列 (己)沙烏地阿拉伯 (A)甲乙 (B)甲丙 (C)丙丁 (D)戊己。 (2/4)




25. ( ) 西亞地區居民多穿著如右圖所示的寬鬆長袍，請問最主要的原因為何？(A)民族特色展現 (B)宗教信仰戒律 (C)國家強制規定 (D)適應乾燥氣候
26. ( ) 以色列發明的農業滴灌設備主要是為了適應並改善當地的哪一種問題？  
(A)地中海型氣候灌溉水資源不足  
(B)熱帶沙漠氣候又缺乏高山融雪  
(C)砂質土壤貧瘠缺乏作物所需養分  
(D)水資源鹽分偏高灌溉前需先淨化。
27. ( ) 穆斯林的生活和宗教息息相關，請問下列哪一項不屬於伊斯蘭信仰的五功？  
(A)天課 (B)聖戰  
(C)齋戒 (D)禮拜。
28. ( ) 附圖為歐洲四大半島示意圖，請問甲乙丙丁名稱依序為何？(A)伊比利、義大利、巴爾幹、斯堪地納維亞  
(B)安納托利亞、義大利、伊比利、巴爾幹 (C)斯堪地納維亞、伊比利、義大利、巴爾幹 (D)斯堪地納維亞、義大利、巴爾幹、安納托利亞。
29. ( ) 附圖為歐洲溫帶氣候分布簡圖。請問甲、乙、丙分別屬於哪些氣候帶？(A)雨林、莽原、沙漠 (B)海洋性、寒帶、草原 (C)半乾燥、濕潤、乾燥 (D)地中海型、海洋性、大陸性。
30. ( ) 歐洲是世界人口分布最平均的地區，請問此現象和下列哪項關係最密切？  
(A)歷史文明悠久 (B)全區無沙漠氣候  
(C)全區地勢平坦 (D)各國均是民主政體
31. ( ) 南歐在加入歐盟後，因供應大量蔬菜、水果給西北歐國家食用，而有「歐洲菜園」之稱。請問南歐贏得此名稱的主要因素是得利於下列哪一點？  
(A)農業技術先進 (B)全年降雨豐沛

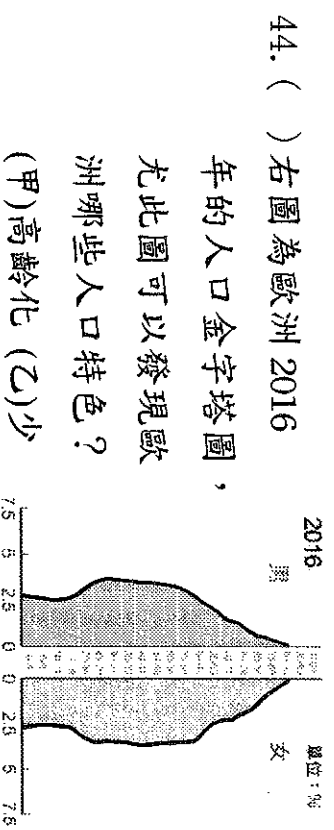


- (C)氣溫相對溫暖 (D)病蟲害防治有道。
32. ( ) 歐盟強大的經濟實力受到肯定，但是在各會員國之間仍存在哪項需要挑戰的嚴重問題？(A)區域發展不均 (B)政治立場不同 (C)民族複雜多紛爭 (D)缺乏礦產分布。
33. ( ) 歐洲各國人員能自由往來是因為締約國簽署下列哪一項條約？  
(A)申根公約 (B)華盛頓條約  
(C)開羅宣言 (D)蒙特婁議定書。
34. ( ) 請問歐盟總部是設在哪個地區？  
(A)英國 倫敦 (B)瑞士 蘇黎世  
(C)比利時 布魯塞爾 (D)荷蘭 阿姆斯特丹。
35. ( ) 歐盟為了建立單一市場，使用『歐元』做為統一貨幣，請問下列哪一個是歐元的符號？  
(A) ₤ (B) ¥ (C) £ (D) €
36. ( ) 歐盟成立後，臺灣原本從事製造業輸出歐洲的廠商該如何應對才能避免高關稅及貿易限制？(A)直接將工廠設在歐洲 (B)鼓吹人民公投加入歐盟 (C)使用歐元進行交易買賣 (D)結合其他國家對歐盟進行經濟制裁。
37. ( ) 阿爾卑斯山橫互在南歐與西歐之間，山脈高大卻險而不阻，請問是下列哪一種作用力形成的地形，使得此地擁有許多可以興建交通要道的寬平谷地？  
(A)斷層陷落的地塹 (B)冰河侵蝕的 U 型谷 (C)火山作用的溝谷 (D)河川侵蝕的 V 型谷 (3/4)

38. ( ) 下圖為 2010 年國際貨幣組織(IMF)公布全球十大高負債風險國家名單，此份報告除了呈現出這些國家的經濟窘困外，更嚴重影響外國投資客投資該國的意願。請問歐洲負債風險最高的國家多位於下列哪個地區？

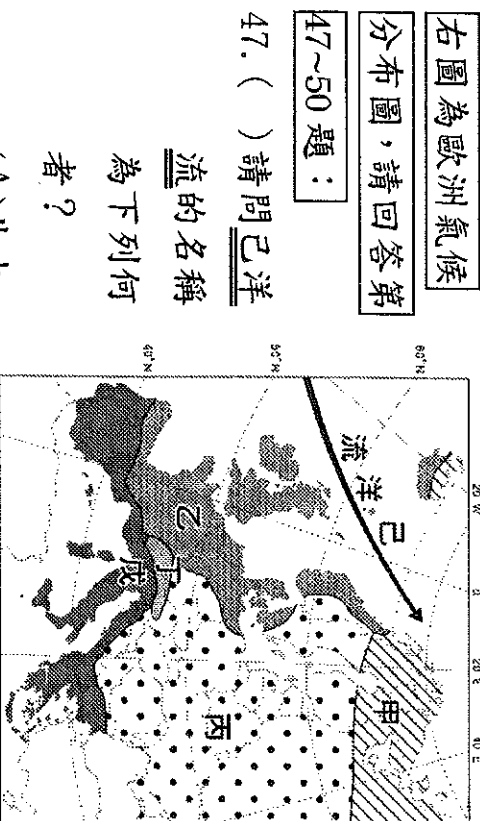


39. ( ) 歐洲平原地區的氣候表現為愈往東側年溫差愈□、年均溫愈□、年雨量愈□，請問上述的□依序該填入？  
(A)大，低，多 (B)小，高，少  
(C)大，低，少 (D)小，高，多
40. ( ) 希臘自古以來受惠於優良的海岸線，航運興盛、貿易發達，請問下列哪張示意圖是希臘海岸的形態？  
(A) (B)   
(C) (D)
41. ( ) 位於義大利首都羅馬的梵蒂岡為□教教宗的駐地，由於全球信仰□教的人數多達 11 億，因此此地對於世界的影響力相當巨大。請問□教為下列何者？(A)基督教 (B)天主 (C)東正 (D)伊斯蘭。
42. ( ) 義大利水都威尼斯，近年來因超抽地下水使得原本就低窪的城區飽受淹水之苦，浪漫的景致與蓬勃的觀光受到不小的衝擊，請問當地是屬於哪種地形？(A)瀉湖 (B)峽灣 (C)沖積扇 (D)珊瑚礁。
43. ( ) 請問南歐哪一個國家工業發達，為世界八大工業國(G8)之一？(A)法國 (B)德國 (C)西班牙 (D)義大利。



44. ( ) 右圖為歐洲 2016 年的人口金字塔圖，  
尤此圖可以發現歐洲  
洲哪些人口特色？  
(甲)高齡化 (乙)少  
子化 (丙)男女平權 (丁)人口分布平均  
(戊)經濟發展程度佳 (A)甲乙丙  
(B)甲乙戊 (C)乙丙丁 (D)丙丁戊。
45. ( ) 若想在旅程中參觀畢卡索的繪畫藝術、  
高地的聖家堂並吃著海鮮燉飯、欣賞佛  
朗明哥舞，請問哪個行程可以滿足這些  
需求？(A)希臘文明體驗 15 日 (B)浪漫  
義大利 12 日行 (C)8 日教廷宗教朝聖之  
旅 (D)熱情西班牙 10 日遊。
46. ( ) 下列哪項食物不是在當地生產，需要依  
靠進口才能品嚐到？(A)在沙烏地阿拉  
伯吃椰棗(B)在西班牙喝葡萄酒 (C)在  
挪威吃橄欖 (D)在義大利品嚐乳酪。

右圖為歐洲氣候  
分布圖，請回答第  
47~50 題：



48. ( ) 丙氣候區的形成主要和下列哪項因素關  
係最密切？(A)地勢高低 (B)風帶季移  
(C)緯度高低 (D)距海遠近。
49. ( ) 請問『全年有雨、降水秋冬略多，年溫  
差小』是哪一個氣候區的特色？  
(A)乙 (B)丙 (C)丁 (D)戊。
50. ( ) 『夏季受副熱帶高壓籠罩乾燥少雨、冬  
季受西風帶南移而降雨』，請問此段是針  
對哪個氣候區的描述？(A)甲 (B)乙  
(C)丙 (D)戊。 (4/4)

請用 2B 鉛筆依題號在電腦卡上作答，電腦讀卡時無法判斷身分者，扣總分 10 分。

範圍：第五冊 L.1-L.2

班級：\_\_\_\_\_

座號：\_\_\_\_\_

姓名：\_\_\_\_\_

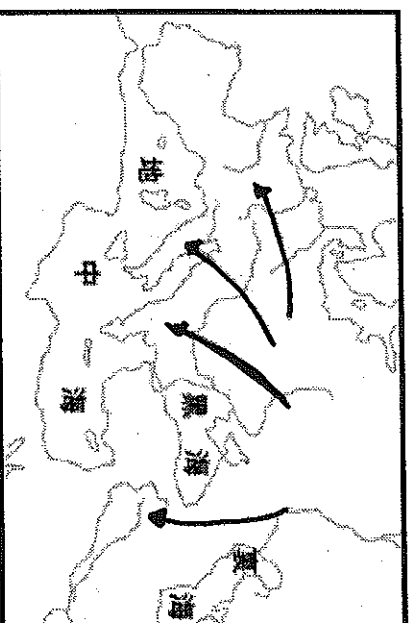
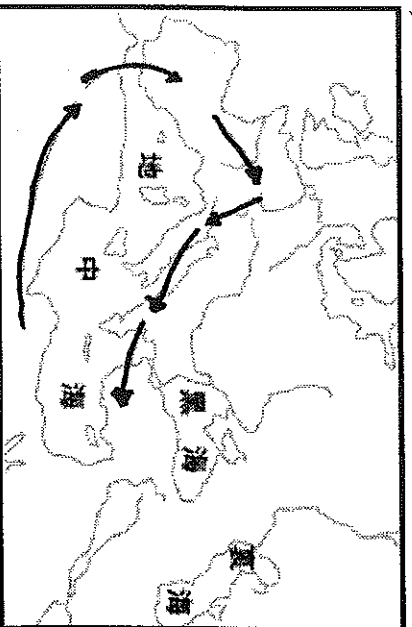
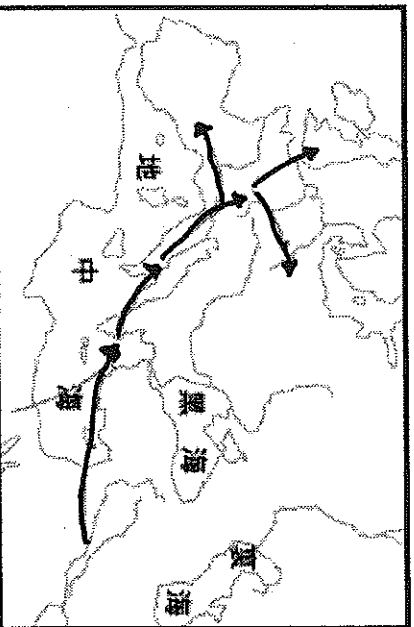
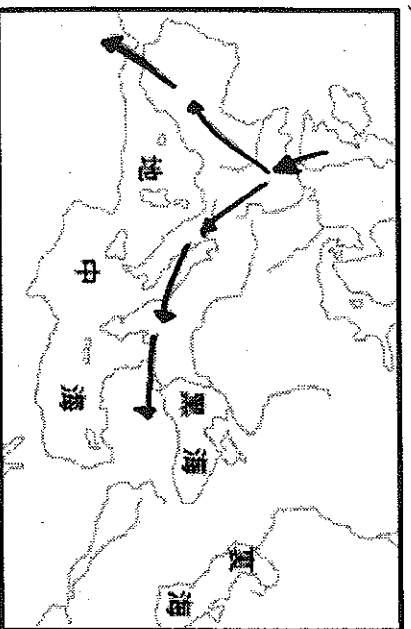
### 基隆市立武崙國中 106 學年度第一學期第一次段考九年級社會試卷歷史科

#### 一、單選：(每題 2 分，共 100 分)

1. ( ) 《漢摩拉比法典》是目前已知較早的成文法典，下面列舉的是它部分條文的內容：

- (1) 甲如果傷害乙的眼睛，則乙也可以傷害甲的眼睛。(2) 如果有一座房子因建築者施工不慎而倒塌，並且壓死屋主，則建築者應處死。請問：這些內容反映出哪一種立法精神？(A) 以牙還牙的報復主義 (B) 強調寬容的博愛思想 (C) 和平理性的補償觀念 (D) 嚴以律己的犧牲精神。

2. ( ) 關於西方文明大致的發源與擴張過程，下列哪一幅圖的表示內容較為正確？



3. ( ) 老師在地圖上標示出世界四大古文明的位置，如附圖，並要同學說出這些古文明的共同點。下列何人的說法正確？(A) 魯夫：「古文明都發源於河流附近。」(B) 索隆：「這些地區都曾使用楔形文字。」(C) 娜美：「當時人們都具有一神的信仰。」(D) 騙人布：「古文明都屬於熱帶乾燥氣候。」



4. ( ) 附圖是西亞早期為記錄商業活動的內容，用蘆葦桿在泥版上刻壓出來的文字。而這樣的文字型態，是由下列哪個民族所發明的？(A) 西臺人 (B) 波斯人 (C) 蘇美人 (D) 加爾底亞人。



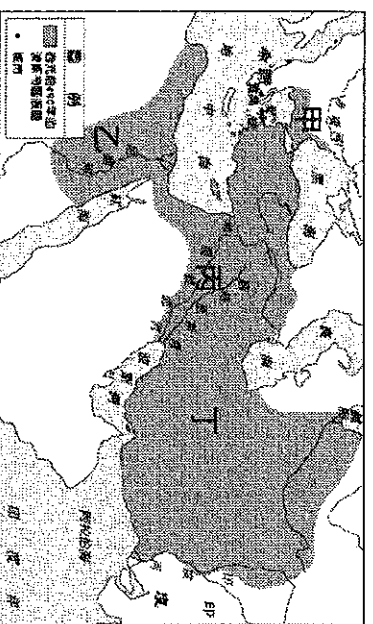
5. ( ) 歷史老師說：「上古時期的腓尼基人對於文化的發展，相當有貢獻。」請問：腓尼基人的哪項事蹟，可以印證老師的說法？(A) 發明楔形文字 (B) 設立大型圖書館 (C) 創立猶太教 (D) 改良並傳播埃及文字。

6. ( ) 猶太教以耶和華為唯一真神，後來創



立的哪些宗教受其影響，亦屬於一神信仰？  
 (甲)佛教 (乙)伊斯蘭教 (丙)印度教 (丁)基督教  
 (A)甲乙 (B)甲丙 (C)乙丁 (D)丙丁。

7. ( ) 波斯帝國是歷史上第一個橫跨歐、亞、非三洲的大帝國。請問：波斯帝國的發源地，位在附圖中的何處？ (A)甲 (B)乙 (C)丙 (D)丁。



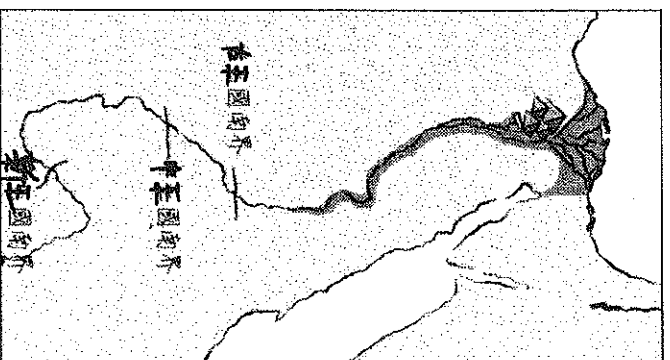
8. ( ) 亞述人繼巴比倫人之後控制兩河流域，亦發展出高度的文明，下列關於其文明的敘述何者錯誤？ (A)以尚武、好戰聞名 (B)曾建立強大帝國 (C)信奉祆教，崇拜聖火 (D)留下許多與戰爭相關的浮雕。

9. ( ) 埃及是古文明的發源地之一，金字塔與木乃伊是其重要的文化特色遺跡。請問：古埃及人製作木乃伊的最主要目的為何？ (A)以備來世可用 (B)後人幫助死者贖罪 (C)祭祀太陽神及尼羅河神 (D)提供後代解剖研究之用。

10. ( ) 西元前 2500 年左右，有一位商人旅行到埃及尼羅河下游的孟斐斯，他在這個城市中最可能看到下列何種景象？ (A)人們不時接獲官員徵召去興建大型國王陵墓 (B)許多男性公民趕赴廣場參與公共事務的討論 (C)人們將交易往來紀錄用楔形文字刻在泥板上 (D)有人熱忱傳播《聖經》，宣揚信上帝可得永生。

11. ( ) 約西元前 3500 年開始，人類歷史陸續發展出高度文明，如：西亞的蘇美、埃及古文明及中國的殷商時期，下列何者為上述古文明的共同特色？ (A)出現文字 (B)強調一神信仰 (C)實施種姓制度 (D)建立跨歐亞的帝國。

12. ( ) 香吉士選擇某文明古國為歷史報告的主題，並手繪如附圖的形勢圖，但卻忘了在附圖中標上大河的名稱，從形勢圖的內容判斷，圖中的河流應標上下列何者最適當？



(A)恆河 (B)印度河 (C)尼羅河 (D)底格里斯河。

13. ( ) 附圖是老師所整理的上古時期部分文明的特色，其中哪些部分與埃及文化有關？ (A)甲丙 (B)甲丁 (C)乙丙 (D)乙丁。

- 甲、制定陰曆
- 乙、制定太陽曆
- 丙、使用象形文字
- 丁、發明楔形文字

14. ( ) 埃及歷史淵遠流長，早在西元前 3100 年左右即已建立統一的王朝，此後可分為古王國、中王國、新王國三大時期。請問：關於這三個時期的相關敘述，何者正確？ (A)古王國時期貿易最為發達 (B)新王國時期是埃及版圖最廣的時代 (C)中王國時期國王偏愛建築雄偉的金字塔以炫耀國力 (D)西元前 525 年埃及為希臘所滅，古文明逐漸消失。

15. ( ) 埃及的宗教屬於多神信仰，而埃及的法老則是其中一位神祇的化身，在人間進行神權統治。請問：法老是哪一位神祇的化身？ (A)尼羅河神 (B)溼婆神 (C)太陽神 (D)上帝。

16. ( ) 喬巴遇見一位修行者，修行者告訴他：「生命萬物都是平等的，只要能拋開慾望，領悟正道，就能超脫輪迴，進入沒有生死，也沒有痛苦的境界。」請問：從上述言論判斷，喬巴遇見的修行者應該是哪一個宗教的信徒？ (A)佛教 (B)道教 (C)回教 (D)基督教。

17. ( ) 羅賓是位武士，平日信奉婆羅門教，相信輪迴、聽從祭司的指示，他的身分從出生那一刻便被決定了。依此判斷，羅賓所處的社會實行下列哪一種制度？ (A)禪讓制度 (B)

天皇制度 (C)種姓制度 (D)宗法制度。

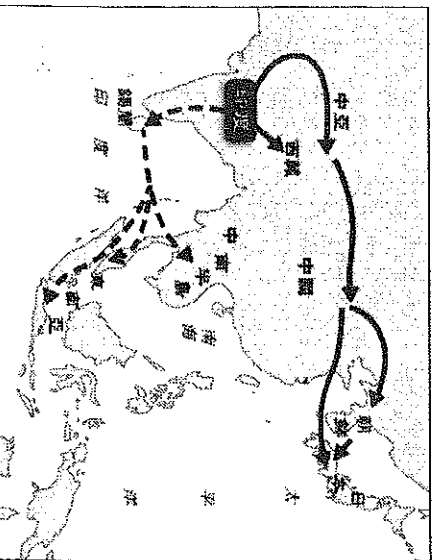
18. ( )孔雀王朝建立後，到西元前3世紀阿育王在位時，政績輝煌，國力強盛，下列何者是他的重要作為？ (A)建立「種姓制度」，嚴格訂定各階層行為規範以維護社會秩序 (B)建構婆羅門教教義，發展出靈魂輪迴的思想與因果報應等主張 (C)致力向外傳播佛教，使佛教信仰由印度逐漸擴展到鄰近的國家 (D)結合民間習俗創立印度教，成為今日印度人民信奉的主要宗教。

19. ( )古印度文明的摩亨約達羅和哈拉帕兩座古城約建於西元前兩千多年，城內有水井、下水道、公眾大浴池等設施，建築物及市街井然有序。請問：關於這兩個城市遺址的敘述，下列何者錯誤？ (A)屬於印度河流域的古文明 (B)位於印度的西北方 (C)西元前1500年，波斯人入侵此區域 (D)可看出城市規畫完善且具遠見。

20. ( )阿拉伯數字始創於，後來傳到阿拉伯地區，因此而得名。現在它已成為全球目前使用最廣泛的數字系統。請問：應填下列何者最適當？ (A)埃及 (B)印度 (C)蘇美 (D)中國。

21. ( )西元四世紀時，在印度統治者的主導下，婆羅門教吸收佛教與印度的民間信仰，最後形成什麼宗教，也是現今印度的主要宗教信仰？ (A)猶太教 (B)伊斯蘭教 (C)基督教 (D)印度教。

22. ( )歷史老師在上課時，放了一張某項印度文化外傳路線圖，如附圖所示，準備介紹這項印度文化的發展與傳播。從圖中傳播的路線及目的地判斷，這項印度文化應是下列何者？



(A)數字系統 (B)零的觀念 (C)佛教信仰 (D)種姓制度。

23. ( )佛朗基閱讀歷史故事時，看到以下的敘述：「除了某些專業性質的委員會之外，政府的行政官員都是抽籤決定的，所有官員的任期都以一年為限，而司法審判採用多數決原則……，這樣的做法是為了使每一個公民都能

參與公共事務。」請問：以上的敘述，應是描寫古代哪一個文明的特色？ (A)希臘 (B)埃及 (C)波斯 (D)羅馬。

24. ( )「參觀完以均衡對稱著稱的建築——雅典帕德嫩神殿後，我們登上了遊輪，在這片青藍的『海洋』中，看著星羅棋布的群島，深藍的天空，雪白的雲朵，湛藍的窗櫺，白漆的屋牆，構築出一幅以藍白為主色調的美麗風景畫。」文中所描述的「海洋」為下列何者？ (A)紅海 (B)南海 (C)愛琴海 (D)波羅的海。

25. ( )古代希臘某城邦的軍事訓練是從孩提時做起，兒童7歲後就要離開家庭過集體的軍事生活，訓練他們絕對服從。請問：這最有可能是下列哪一個城邦的生活情景？ (A)特洛伊 (B)雅典 (C)斯巴達 (D)奧林匹亞。

26. ( )布魯克生活在西元前五世紀的雅典城邦，他想要擔任執政的官員，應該透過下列哪個途徑？ (A)占卜 (B)抽籤 (C)考試 (D)用錢買官。

27. ( )他是西方的「歷史學之父」，其作品《歷史》描述的是波希戰爭。他以新的觀點處理人種學、地理學和神話學等資料，對歷史學的貢獻甚巨。他應是何者？ (A)荷馬 (B)柏拉圖 (C)蘇格拉底 (D)希羅多德。

28. ( )亞里斯多德不但是著名的哲學家，在物理學、生物學、政治學領域亦有深入研究。他曾擔任亞歷山大的老師，博學多聞、春風化雨的形象亦為人熟知。下列關於他的敘述，何者錯誤？ (A)他與蘇格拉底和柏拉圖同為優秀的哲學家 (B)他對各種學術均能深入研究，符合培養全才的理想 (C)他著有《幾何原本》，對後世影響深遠 (D)他是代表希臘文明的重要人物。

29. ( )《伊里亞德》與《奧德賽》兩篇史詩情節精采絕倫，雖摻雜許許多神話的成分，但也反映了部分古代生活的實況。請問：這是何人的著作？ (A)希羅多德 (B)柏拉圖 (C)荷馬 (D)蘇格拉底。

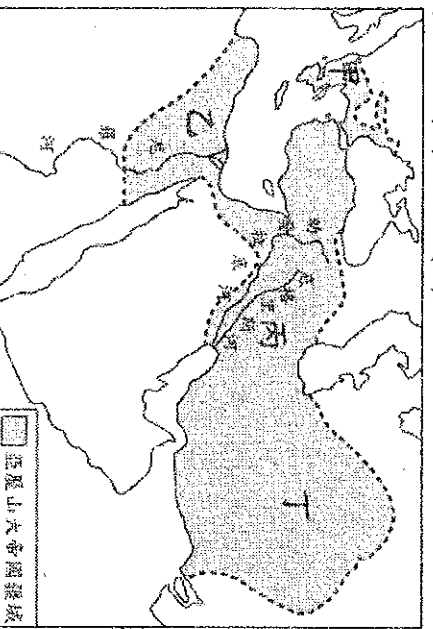
30. ( )哪一場戰爭發生時，雅典率領希臘聯軍以寡擊眾，抵擋波斯大軍的攻勢，使雅典人對本身文化信心大增，開啟希臘文明的黃金時期，雅典亦成為「全希臘的學校」？ (A)波希戰爭 (B)阿利安人南征 (C)亞歷山大東征 (D)特洛伊戰爭。

31. ( )一顆刻著「獻給最美麗的女神」的金蘋果，引起愛神阿芙羅黛蒂、天后希拉、智慧女神雅典娜的爭奪，宙斯指示三人去找特洛

伊王子帕里斯仲裁，結果阿芙羅黛蒂因為答應給帕里斯世上最美的女人而得到金蘋果。後來在阿芙羅黛蒂的興風作浪之下，帕里斯與斯巴達王后海倫私奔，種下特洛伊戰爭發生的原因。從這則希臘神話來看，下列敘述何者錯誤？

(A)希臘神明和人一樣具有七情六欲，亦會爭風吃醋 (B)希臘神明會因為自身利益介入人類事務 (C)希臘人的宗教應屬於一神信仰 (D)描述特洛伊戰爭的史詩《伊里亞德》，取材自希臘神話。

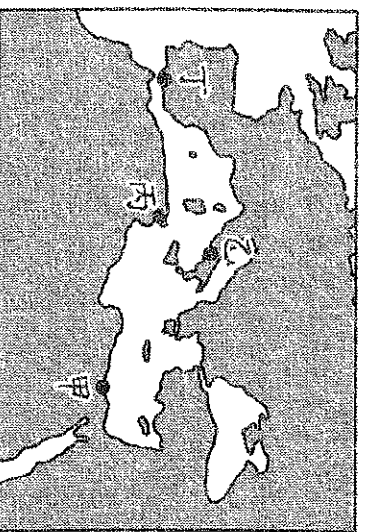
32. ( ) 亞歷山大帝國橫跨歐、亞、非三洲，其疆域如圖。它最早發源於圖中何處？ (A)甲 (B)乙 (C)丙 (D)丁。



33. ( ) 歐幾里德在亞歷山大港教書並度過一生，致力於科學的研究，其著作被認為是史上最成功的教科書。請問：關於歐幾里德的生平，下列何者錯誤？ (A)他生活在希臘化時期 (B)他提出槓桿、浮力等原理 (C)利瑪竇曾與徐光啟將他的名著翻譯成中文 (D)他著有《幾何原本》，至今仍為幾何學的權威作品。

34. ( ) 中西歷史上雖不乏雄才大略的君主，但若能在開疆拓土之餘，亦重視統治區域內民族的融合，對社會和平及文化交流有所貢獻，就誠屬不易。請問：亞歷山大「四海一家」的理想，中國歷史上哪位君主的政策與其類似？ (A)秦始皇 (B)漢武帝 (C)北魏孝文帝 (D)元世祖。

35. ( ) 西元前四世紀，亞歷山大創立跨歐、亞、非的帝國，並在其征服的疆域內興建城市。圖中的甲、乙、丙、丁，何者最可能是他所興建的城市？ (A)甲 (B)乙 (C)丙 (D)丁。



36. ( ) 下列關於希臘古典文化與希臘化文

化的比較，何者正確？ (A)前者的文史哲學發達，後者科學最有成就 (B)兩者皆融合近東文化 (C)兩者皆曾有過民主政治 (D)兩者的君主皆鼓勵科學研究。

37. ( ) 在西方歷史中，有一段時期被史家稱為「羅馬和平」，這段時期是以下列何者作為開端？ (A)凱撒遠征邊族，消除危害羅馬政權的勢力 (B)屋大維即位，掌握大權重建政治社會秩序 (C)君士坦丁將基督教合法化，解除宗教衝突 (D)查士丁尼頒布新法典，革除民間傳統陋習。

38. ( ) 西方有句諺語說：「羅馬不是一天造成的。」羅馬人不僅發明了混凝土，並大量興建引水道、道路等公共設施，使當時羅馬成為一個結構宏偉而功能齊全的城市。這些建設成就最主要反映出羅馬文化具有下列哪一種特性？ (A)重視哲學思辨 (B)重視實用技術 (C)重視人神關係 (D)重視生態平衡。

39. ( ) 薇薇到土耳其首都旅遊，發現此處位於歐、亞大陸之間，每日許多上班族利用渡輪往返於兩大洲之間。此都市古蹟眾多，曾為古時東羅馬帝國的首都。請問：薇薇旅遊的地點是哪裡？ (A)雅典 (B)威尼斯 (C)羅馬 (D)伊斯坦堡。

40. ( ) 此人在羅馬共和晚期獨攬大權，西元前44年他被保守貴族刺殺而死。請問：他應為何人？ (A)君士坦丁 (B)屋大維 (C)亞歷山大 (D)凱撒。

41. ( ) 西元前六世紀末，羅馬人驅逐外族國王，自此進入共和時期。共和政府的權力主要掌握在貴族手中，而羅馬在此時期也積極對外擴張，版圖橫跨歐、亞、非三洲。請問：由貴族所組成的權力組織為何？ (A)共和院 (B)議會 (C)元老院 (D)城邦。

42. ( ) 羅馬帝國的國勢在三、四世紀時陷入低潮，國內秩序崩壞，外患不斷。直到某位君主擴建拜占庭為新都，並將帝國首都遷往東方，重振了羅馬帝國。請問：這位君主是誰？ (A)凱撒 (B)屋大維 (C)亞歷山大 (D)君士坦丁。

43. ( ) 羅馬帝國在四世紀末分為東西兩部，造成此現象的背景為何？ (A)帝國內部東方勢力興起，不服羅馬的統治 (B)羅馬皇帝建新都，以加強對東方各省的控制 (C)北方民族占據帝國中央地帶，隔絕東西兩部 (D)帝國東半部改信猶太教，與西半部信仰基督教的王公貴族起爭執。

44. ( ) 「吉貝爾是羅馬帝國時期某一宗教



- 的信徒，他因不肯向皇帝的塑像行禮，結果受到政府的迫害。沒想到數百年後，他信仰的宗教反而成為羅馬帝國國教，大受尊崇。」吉貝爾信奉的應是下列哪一宗教？(A)佛教 (B)猶太教 (C)基督教 (D)伊斯蘭教。
45. ( ) 羅馬帝制時期，使基督教成為合法宗教的是哪位君王？(A)凱撒 (B)屋大維 (C)腓力二世 (D)君士坦丁。
46. ( ) 瓦特爾羅將參加教會的話劇演出，他扮演主角耶穌，下列哪一幕情境可能出現在他的表演之中？(A)他誕生於波斯帝國境內的小亞細亞 (B)他改革了猶太教的多神信仰，創立了基督教 (C)他在巴勒斯坦地區傳教，受到許多猶太人的歡迎 (D)他最後被婆羅門祭司釘死在十字架上。
47. ( ) 西元 379 年這位君王即位後，開始禁止其他宗教，並於西元 392 年正式定基督教為國教，之後更下令禁止一切非基督教的宗教活動，使基督教成為羅馬帝國名副其實的國教。請問：這位君王是下列何人？(A)阿育王 (B)屋大維 (C)狄奧多西 (D)君士坦丁。
48. ( ) 基督教是當今世界三大宗教之一，對世人影響相當大。請問：該宗教創立於何時何地？(A)西元一世紀，巴勒斯坦 (B)西元前一世紀，希臘半島 (C)西元前一世紀，義大利半島 (D)西元一世紀，兩河流域。
49. ( ) 佛教與基督教都是當今流傳最廣、最久的重要宗教。就其形成的背景而言，兩者有何共同特徵？(A)都對固有宗教的教義提出改革 (B)都追求天堂世界的永生 (C)都根源於一神論思想的啟示 (D)都是為了對抗政府的高壓統治。
50. ( ) 這本經典記載耶穌基督和其門徒的言行與早期基督教的事件，直到目前為止，此書仍然是全世界最受歡迎、銷售量最多、影響力最大的書，發行量累積已超過 40 億本。這應是下列哪一本經典？(A)《佛經》 (B)《吠陀經》 (C)《舊約聖經》 (D)《新約聖經》。

基隆市立武崙國民中學 106 學年度第一學期九年級公民科第一次段考試卷

一、 選擇題：共 30 題，每題 3 分 (共 90 分)

班級：

座號：

姓名：

- 請選出下列何者為消費行為？(甲)阿鴻租了一個月要價 7000 元的房子(乙)小康種的水果賣不出去乾脆自己吃掉(丙)阿維把自家母雞生的蛋送給隔壁鄰居(丁)小毅拿中發票的 500 元去超市買零食 (A) 甲乙 (B) 甲丙 (C) 乙丁 (D) 甲丁
- 亮云是銀行的業務員，平日閒暇在家中喜歡畫畫，集合成一本「畫冊」，鄉下有塊田地，種植「有機蔬菜」自用，其身邊有代步的「摩托車」、「汽車」，以及「行動電話」與人聯絡。亮云所擁有的東西中，有幾項屬於「商品」？ (A) 2 項 (B) 3 項 (C) 4 項 (D) 5 項。
- 小陳上班的公司為了節省(甲)利潤而將他資遣，小陳決定開計程車維生。因為計程車是他生財的重要(乙)資本，所以他都自己保養車輛，(丙)不須支付保養成本。從客人手上收到的車資，是他每天努力工作的(丁)勞務收入。請問：上列敘述何者正確？(A) 甲乙 (B) 乙丁 (C) 丙丁 (D) 甲丙
- 電視製作人想為主持人花花開闢新節目，只是製作人不知該開闢綜藝節目，還是益智節目，而大傷腦筋。製作人面臨的選擇課題，與下列何者相同？ (A) 梅茵考慮到底是要生產草莓蛋糕，還是菠蘿麵包 (B) 百貨公司的化妝品業者，特別針對女性消費者推出促銷方式 (C) 名牌皮包標榜純手工打造，而非機器生產 (D) 生產者考量何種生產方式最能降低生產成本。
- 看到小君老師在講台上口沫橫飛的講授「羅馬帝國興衰歷史」，深深吸引台下學生個個神情專注。請問小燕所製造出來的產品形式與下列何者不同？ (A) 律師 (B) 麵包師傅 (C) 保險業務員 (D) 房屋仲介。
- 蘋果 iPhone X 手機價格不便宜，但還是吸引各國的消費者漏夜排隊購買。由此可知，消費者在選購此款手機時，主要是受到下列哪項因素的影響？ (A) 商品價格 (B) 所得高低 (C) 個人偏好 (D) 預期心理

- 各縣市政府消保官經常不定期抽檢桶裝瓦斯店，以杜絕桶裝瓦斯偷斤減兩的情形發生。其主要用意為何？ (A) 增加政府罰款收入 (B) 確立消保官權威性 (C) 維持市場公平交易 (D) 確保店家買賣權益。
- 由於物價上漲、經濟不景氣，近來外食人口明顯減少，為了吸引更多的消費者，林間小火鍋店舉辦了「三人同行，一人免費」的促銷活動。林間小火鍋店的作法與經濟學中的何項概念相符？ (A) 資源稀少 (B) 需求法則 (C) 供給法則 (D) 機會成本。

- 以下是莊同學的機會成本筆記，但是他不慎將筆記弄髒，請你幫他填上汗損中機會成本的數字為何？

	價格	機會成本
samsung 手機	19,000	22,000
ZenFone 手機	20,000	
IPHONE 手機	22,000	20,000

(A) 22000 (B) 21000 (C) 20000 (D) 19000

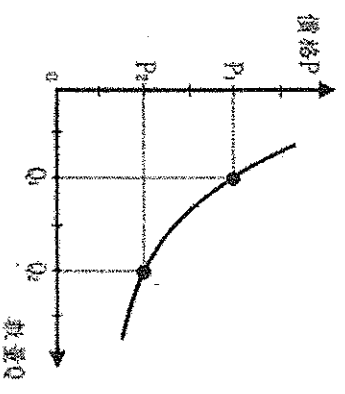
- 「企業外包案」的比率逐年增加。人力派遣業的資料顯示，企業委外和人力派遣的業務比起去年同期成長兩成以上，包括許多公司的文字編輯、美術設計、多媒體設計，都已經改為外包。部分企業如此作法，主要是基於下列何種考量？ (A) 創造就業機會 (B) 提高銷貨收入 (C) 增進生活福祉 (D) 節省生產成本。
- 新聞不斷報導「雞蛋殘留有害人體的抗生素」的消息，引起消費者不安，蛋價也跟著下跌。依據「供給法則」判斷，此時生產者最可能採取下列何種措施？ (A) 增加供給數量 (B) 減少供給數量 (C) 增加需求量 (D) 減少需求量。
- 「廠商使用自有資金時，可以節省利息成本。」這句話對嗎？理由何在？ (A) 錯，因為這樣可以多賺些利息 (B) 對，因此可以省下向銀行貸款的利息 (C) 錯，自有資金仍有機會成本，並非沒有利息成本 (D) 對，使用自己的錢不用負擔利息成本。

13. 柯董在連續假日時逛廟口夜市，為完成下表的學習單，特別詢問四個攤位老闆營業的情形。在不考慮其他條件的情形下，哪一個攤位的平均單日營業利潤最高？

項目	(A) 營養三明治	(B) 阿美泡泡冰	(C) 一口吃香腸	(D) 碳烤雞腿排
生產總成本(萬)	8	12	11	14
營業總收入(萬)	24	30	20	26
營業總天數(日)	4	5	3	4

14. 新聞報導：「富邦公司 momo 購物網銷售「日本 VERTEX 遠紅外線能量極塑爆汗長褲」商品，宣稱「只要一穿上立即提升 6°C，新陳代謝提升 78%」，上述文字皆足以影響交易決定的商品品質及內容為虛偽不實及引人錯誤的表示，因此依 00 第 21 條第 1 項規定，遭處罰新台幣 180 萬元。」請問：00 應是下列哪一法律？(A)民法 (B)公平交易法 (C)消費者保護法 (D)食品衛生管理法。

15. 「受到東北季風及颱風外圍環流『共伴效應』影響，在宜蘭已經出現超大豪雨的情況，至於東北部，也有大雨或是豪雨的機率。」請參考右圖，並根據上述媒體報導，在其他條件不變的情況下，此時台灣的葉菜類價格將會出現何種變動情形？(A)  $P_1 \rightarrow P_2$  (B)  $P_2 \rightarrow P_1$  (C)  $Q_1 \rightarrow Q_2$  (D)  $Q_2 \rightarrow Q_1$ 。



16. 李強對中了 9-10 月份 200 元的中獎發票，原本打算到郵局兌領現金，在經過你家便利商店時，看到門口貼著「200 元中獎發票兌換 220 元商品」的優惠活動，於是決定直接進去便利商店兌換 220 元等值商品。從上述李強的行為可以看出符合哪一種經濟學理念？(A)增加消費，可以刺激生產 (B)克制欲望，可以降低消費 (C)資源有限，做最有效的使用 (D)降低成本，以避免資源匱乏。

17. 隨著年齡的增長，阿睿決定應該為自己的生涯規劃重新審慎評估。根據下表四個工作的年薪條件，若不考慮其他條件的情形，僅單純就年薪來分析其機會成本，下列敘述何者正確？

工作	電腦工程師	飯店行政主廚	夜市擺攤	街頭藝人
年資(元)	150 萬	180 萬	90 萬	75 萬

- (A)選擇當電腦工程師的機會成本是 345 萬 (B)選擇當飯店行政主廚的機會成本最低 (C)選擇當夜市擺攤是最佳選擇 (D)選擇當電腦工程師、飯店行政主廚、街頭藝人的機會成本都一樣。

18. 頂好麵包店的老闆設定以學生為主要客群，而決定將麵包店開在學校附近。根據內容判斷，他所考慮的應是下列何種生產者的課題？(A)生產什麼 (B)如何生產 (C)為誰生產 (D)由誰生產。

19. 孝勤紡織工廠的二號機器可以生產四種產品，但同一時間只能生產一種，右表是該機器製造甲、乙、丙、丁四種產品的產能與獲利評估分析——若只考慮獲利情形，該機器應生產哪種產品？(A)甲 (B)乙 (C)丙 (D)丁。

項目	甲	乙	丙	丁
產量 (件/小時)	100	80	60	30
成本 (件/小時)	50	60	70	100
售價 (件/小時)	60	80	100	150

20. 韓國的(甲)電視戲劇作品《鬼神》，在(乙)男主角孔劉的用心演出，以及在戲劇當中許多表現讓人驚艷的(丙)配角演員，再加上(丁)女主角金高恩的精湛演技，每一幕精彩的畫面，都讓人讚不絕口。根據上文內容判斷，哪一項不屬於生產者的「生產要素」？(A)甲 (B)乙 (C)丙 (D)丁。

21. 老謝多年來都租屋居住，即使想要買房子，但是卻一直無法存到足夠的款項。最近老謝升官加薪，終於湊足買房子的頭期款，便買了一間小套房。老謝購買小套房的行為，最主要是受到下列何種因素的影響？(A)預期心理 (B)商品價格 (C)所得水準 (D)消費者偏好。

22. 消費者在網路上郵購商品，若取貨後不願購買時，可在幾日內退回商品，解除契約？(A)7 (B)10 (C)14 (D)15。

23. 臺明為了增加企業產品的競爭力，向銀行貸款購買了一批新機器，以開發新產品與新技術。臺明的做法屬於下列何者？(A)儲蓄 (B)投資 (C)供給 (D)消費。

基隆市武崙國中 106 學年度第一學期九年級公民科第一次段考非選擇試題卷

班級：                      座號：                      姓名：

二、非選擇題： 每格 2 分， 共 10 分

**題文：**  
基隆有名的老店-李鵠餅店每到週末假日或是逢年過節，都會出現大量的排隊人潮購買鳳梨酥或是其他糕餅。但在之前的食安風暴當中，其實也受到很大的影響。

老闆娘兒子李俊青表示，因為之前油品的食安風暴，有使用到出了問題的油品，導致銷售量大減，也讓餅店暫時休息再出發。他表示餵油事件發生後，李鵠餅店就很謹慎選擇油品，經評估後，認為自製豬油還是最妥當，因為現在就算其他油品有合格標章，也很難令人信服。

他表示，李鵠餅店會保持 4 桶、約 60 公升的庫存豬油，每回自炸豬油後，須等約 3 天凝固後才能使用。至於是否擔心生意呢？他相信消費者會做最好的選擇。

請根據上述內容並自行判斷回答下列問題：

1. 針對李鵠餅店請各列舉一項生產要素

資本： \_\_\_\_\_

自然資源： \_\_\_\_\_

人力資源： \_\_\_\_\_

2. 請問在食安風暴中，李鵠餅店該如何發揮他們的企業才能？（請具體舉出兩項）

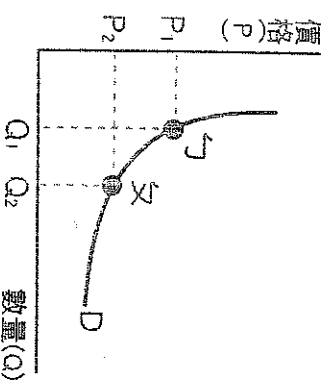
① \_\_\_\_\_

② \_\_\_\_\_

24. 阿芳蛋糕店的蛋糕深受消費者歡迎，但是由於雞蛋和麵粉的價格不斷上漲，店裡的蛋糕也都跟著調漲了價格。對於奇奇蛋糕店的蛋糕，若依需求法則來看，消費者最可能會採取下列何種做法？  
 (A)多買 (B)少買 (C)消費行為不受影響 (D)無法判斷。

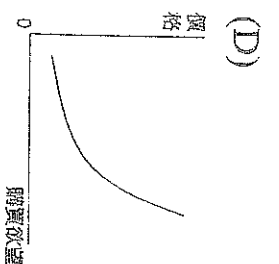
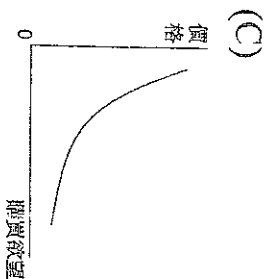
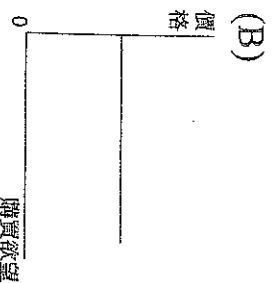
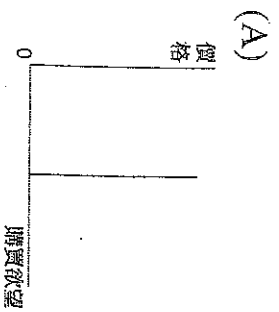
25. 下列四人對於資源使用的敘述，何者正確？ (A)森林、礦物資源皆是無限的 (B)目前人類獲取水與空氣資源皆不用付出任何代價 (C)各種資源並不是取之不盡，用之不竭的 (D)個人所擁有的時間、金錢、體能等資源是無限的。

26. 公民老師在黑板上將某商品數量與價格之間的變化關係畫成右圖，請問：下列哪一個例子最符合此圖的意義？ (A)日本福島核災發生後，災區農產品外銷困難重重 (B)藜麥被證實有極佳的抗癌效果，掀起一波農民的搶種風潮 (C)航空公司在凌晨俗稱的「紅眼時段」推出低價機票搶客 (D)今年水蜜桃大豐收，果農們卻哀呼血本無歸。



27. 小君閱讀報上社會版內容時，對這位企業董事長的消费能力大為震驚。根據右列內容判斷，我們可以用下列哪一個圖形來說明此類型商品的消費行為？

一身貴氣！某企業董事長著名牌亮相……身上GUCCI 西裝外套就要價 40 萬 7500 元，手提 50 萬多塊的 PRADA 包包，手戴 158 萬的 Cartier 鑽錶，保守估計全身行頭，就超過 250 萬。



題組：阿強養殖牡蠣，前陣子因受牡蠣含過量重金屬研究報告的影響，牡蠣銷售量大受影響。過去幾個月來的銷售情況，如附表所示——請根據資料，回答下列問題：

日期	成本 (元/臺斤)	售價 (元/臺斤)	銷售量 (臺斤)
1月	80	100	200
2月	80	60	100
3月	80	70	150
4月	80	80	200
5月	80	95	220

28. 依附表所示，此次風波中唯一不受影響的是下列何者？ (A)生產成本 (B)銷貨數量 (C)單位價格 (D)利潤。

29. 在研究報告未發表之前，阿強 1 月的利潤是多少？ (A)20,000 元 (B)16,000 元 (C)4,000 元 (D)3,600 元。

30. 下列哪些月分，阿強是「人不敷出」的？(甲)1 月 (乙)2 月 (丙)3 月 (丁)4 月 (戊)5 月 (A)甲乙 (B)乙丙 (C)丙丁 (D)丁戊。