

基隆市立武崙國民中學一〇六學年度第一學期第二次段考七年級地理科試題卷

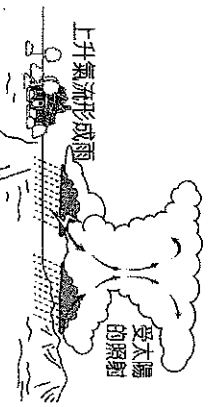
注意事項：

1. 本份試卷共兩大題。第一大題為單選題，每題 2 分，共 47 題，合計 94 分；第二大題為非選擇題，合計 6 分。總分 100 分。
2. 答案卡限用 2B 鉛筆畫記，若畫記錯誤，請擦拭乾淨。分數以電腦讀卡分數為準。
3. 答案卡上的資料欄請確實填寫，若資料欄畫記錯誤導致電腦無法正確判讀，扣總分 10 分。

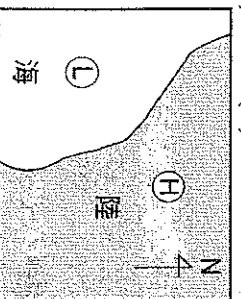
班級：七年 班座號： 姓名：

◆第一大題

- () 1. 武中跑跑團在某次登山過程中，利用智慧型手機接收到當地的天氣資訊：「104°F、1005hPa、25mm」。請問：這些天氣資料不包括下列何者？
(A) 氣壓 (B) 風向 (C) 降水量 (D) 氣溫。
- () 2. 新竹素有「風城」之稱，全臺知名的米粉及柿餅即是利用旺盛的「九降風」(東北季風)風乾的。下列有關於風的敘述，何者有誤？
(A) 空氣由高氣壓往低氣壓流動形成風 (B) 風是指空氣的水平流動 (C) 風向是指風的去向 (D) 距離相同的兩地，氣壓值差距愈大，風力愈強。
- () 3. 附圖為臺灣夏季降水的示意圖，根據圖中資料判斷，這是屬於哪一種降水類型？
(A) 地形雨 (B) 鋒面雨 (C) 對流雨 (D) 颱風雨。

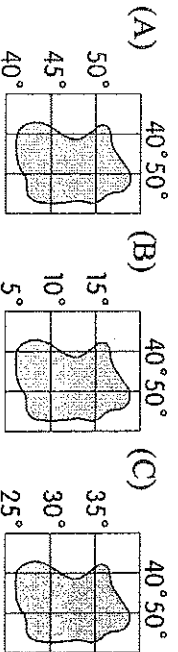


- () 4. 如附圖，依照氣壓影響氣流方向研判，此時的風向應為下列何者？

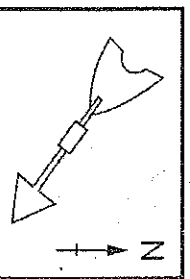


(A) 向北 (B) 向南 (C) 陸地到海洋 (D) 海洋到陸地。

- () 5. 下列選項為四個位置不同的島嶼，其中哪一個島嶼最可能有珊瑚礁海岸的分布，適合發展潛水活動？



- () 6. 在地面氣象觀測站，常看到如附圖的風向計裝置。請問：由圖中的風向計可知此時風向為何？
(A) 東北風 (B) 西北風 (C) 東南風 (D) 西南風。



- () 7. 附表是阿哲分析臺灣某港口的自然條件，依表中內容判斷，最可能是指下列哪一個港口？
(A) 基隆港 (B) 臺中港 (C) 高雄港 (D) 花蓮港。

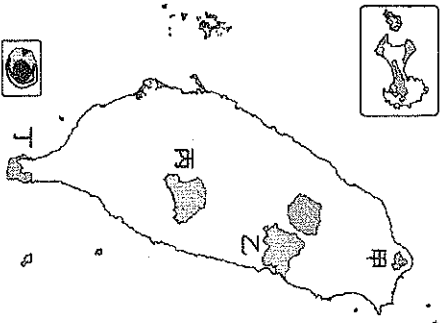
| 自然條件 | |
|------|----------------------------------|
| 優點 | 1. 形勢良好的灣澳。 2. 少淤積的曲折岩岸。 |
| 缺點 | 1. 丘陵環抱、平地狹小。 2. 雨日較多，影響貨物裝卸。 |

- () 8. 下列關於臺灣海岸的敘述，哪些是正確的？(甲)臺灣海岸線總長約 1,140 公里(乙)東部海岸屬於平直少港灣的沙岸地形(丙)北部海岸屬於多岬角和海灣的岩岸地形(丁)西部海岸大多是平直的峭壁海岸(戊)南部海岸多珊瑚礁岩所構成
(A) 甲乙丙 (B) 甲乙戊 (C) 甲丙戊 (D) 甲丁戊。

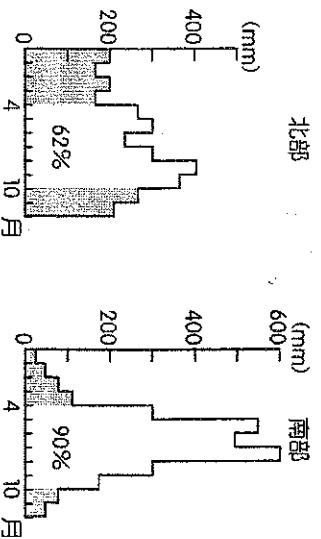
- () 9. 下列有關沙岸地形及岩岸地形的比較，何者錯誤？

| | (A) | (B) | (C) | (D) |
|----|-------|------|---------------|-------------|
| 沙岸 | 沿海水深淺 | 天然良港 | 產業活動 | 地形景觀 |
| 岩岸 | 深 | 多 | 養殖漁業、鹽業、漁業、航運 | 沙洲、潟湖、岬角、海灣 |

- () 10. 擬訂旅遊計畫時，注意旅遊地的氣象變化是非常重要的。若想在寒假到國家公園旅遊，圖中哪一國家公園的降水機率最低？
(A) 甲 (B) 乙 (C) 丙 (D) 丁。



- () 11. 附圖為臺灣北部與南部的降水量統計圖，從圖中可以發現北部地區的冬季降水機率較南部大，其主要原因為下列何者？
(A) 緯度高低 (B) 地勢高低 (C) 距海遠近 (D) 迎風背風。



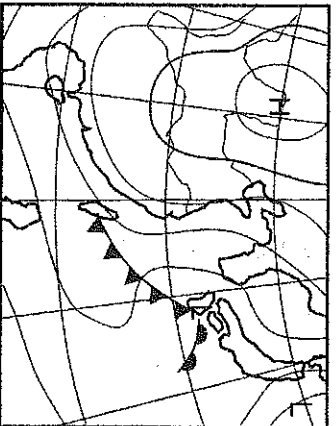
- () 12. 附表是某四個地點的一月及七月平均氣溫資料，由附表判斷，何地的年溫差最大？

(A) 甲 (B) 乙 (C) 丙 (D) 丁。

| 地點 | 甲 | 乙 | 丙 | 丁 |
|------------|------|------|------|------|
| 一月平均氣溫(°C) | 5.5 | -3.3 | 19.8 | 12.4 |
| 七月平均氣溫(°C) | 27.6 | 20.0 | 30.8 | 25.1 |

- () 13. 「西北雨，落不過田埂」的諺語中，「落不過田埂」是指「西北雨」的哪一種降水特徵？
 (A) 雨時長 (B) 雨勢弱 (C) 降水量多 (D) 雨區小。
- () 14. 附圖為臺灣某時期的地面天氣圖，當時的天氣與下列哪一則諺語最為相近？

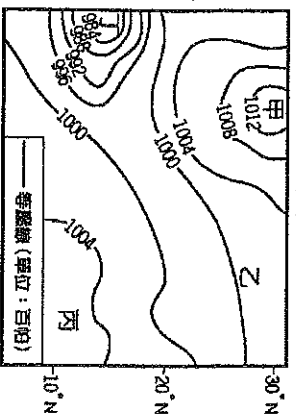
(A) 西北雨，落不過田埂 (B) 四月芒種雨，五月無乾土，六月火燒埔 (C) 九月颱風無人知 (D) 一月寒死龜，二月寒死牛，三月寒死播田夫。



- () 15. 下列有關於澎湖群島的敘述，何者有誤？
 (A) 位於太平洋，地勢平坦且風大 (B) 為岩漿冷卻凝固後，露出海面所形成的島嶼 (C) 早年以漁業為主，近年來發展觀光業 (D) 柱狀玄武岩、雙心石滬為其著名景點。

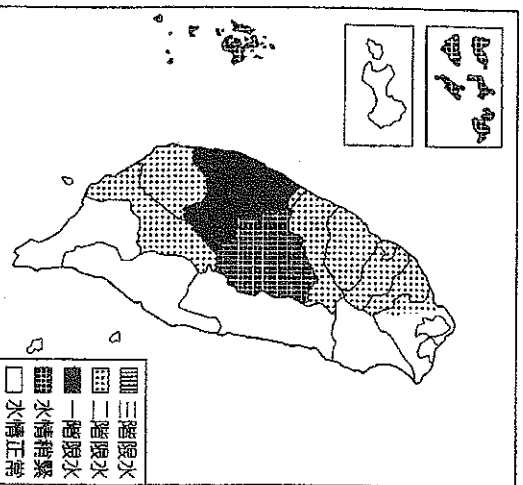
- () 16. 附圖為某熱帶海域的地面天氣圖。若僅根據圖上的數值判斷，哪一地區形成颱風的可能性較高？

(A) 甲 (B) 乙 (C) 丙 (D) 丁。



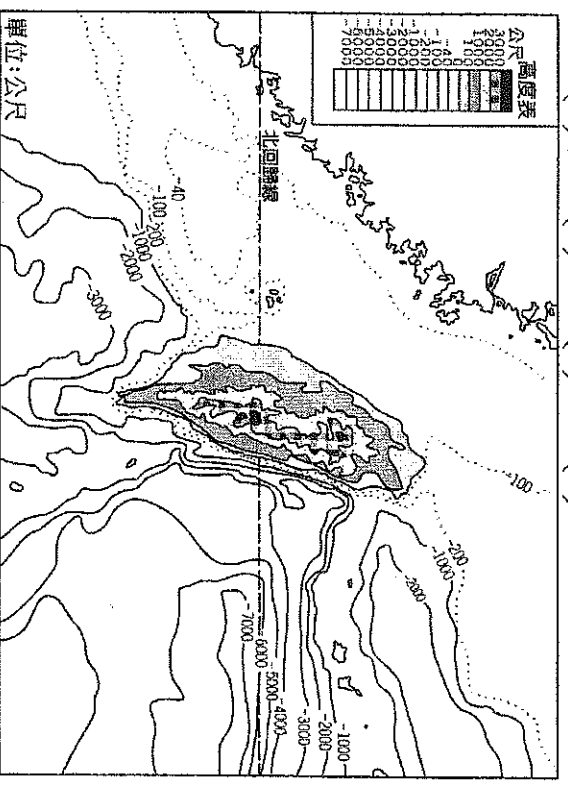
- () 17. 經濟部水利署成立抗旱專區網站，提供民眾最新水情與抗旱情報。網站可看到附圖中的臺灣分階段限水示意圖(枯旱預警)，由圖推知，這最可能是下列哪一段時間的供水情勢？

(A) 二月 (B) 五月 (C) 七月 (D) 十月。



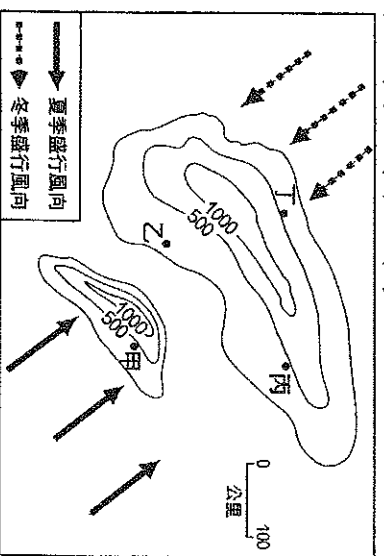
- () 18. 附圖是臺灣附近海域的等深線圖，由圖中可以發現，臺灣哪一側的海水深度相對較淺？

(A) 東側 (B) 西側 (C) 南側 (D) 北側。



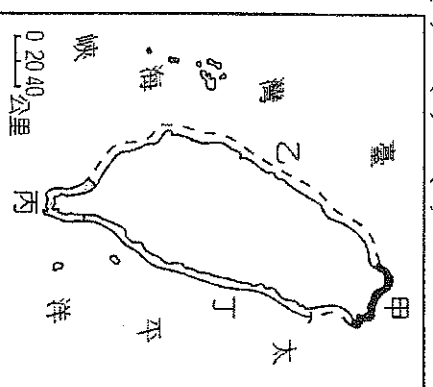
- () 19. 附圖是兩個島嶼的相對位置和等高線圖。根據附圖判斷，何地的年降水量可能最少？

(A) 甲 (B) 乙 (C) 丙 (D) 丁。

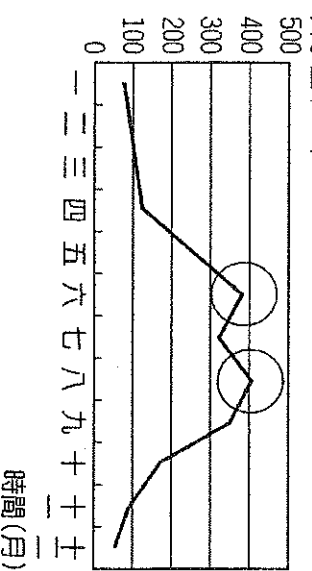


- () 20. 2011年3月日本發生大地震，引發嚴重的核汙染事件，許多輻射廢水流入海洋，造成海洋生態的威脅，連帶使得海洋漁業大受影響。請問：附圖中臺灣哪一個海岸地區因為發展養殖漁業，較不受海洋輻射汙染影響，所以市場占有率此時相對提高？

(A) 甲 (B) 乙 (C) 丙 (D) 丁。



- () 21. 附圖是臺灣月平均降水量資料。圖中兩次高峰期的形成，分別與下列何種降水類型關係最密切？
 (A) 梅雨、颱風 (B) 梅雨、地形雨 (C) 颱風、對流雨 (D) 對流雨、颱風。



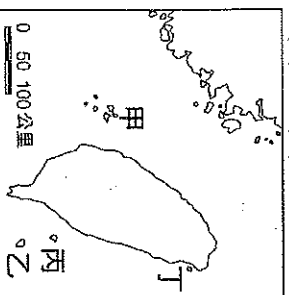
- () 22. 附圖為颱風、梅雨、寒害、乾旱在臺灣西南部主要發生的月分，下列配對何者正確？

(A) 甲—梅雨 (B) 乙—颱風 (C) 丙—寒害 (D) 丁—乾旱。

| | | | | | | | | | | | |
|----|----|----|----|----|----|----|----|----|-----|-----|-----|
| 1月 | 2月 | 3月 | 4月 | 5月 | 6月 | 7月 | 8月 | 9月 | 10月 | 11月 | 12月 |
| 甲 | | | | | | | | | | | |
| | | | | 乙 | | | | | | | |
| | | | | | | | | | | | 丙 |
| | | | | | | | | | | | 丁 |

- () 23. 「臺灣的原住民達悟族，分布於蘭嶼，傳統文化保存的最完整，擁有獨特的半穴式住屋、拼板船等人文景觀。」上文所描述的島嶼位於附圖中何處？

(A) 甲 (B) 乙 (C) 丙 (D) 丁。

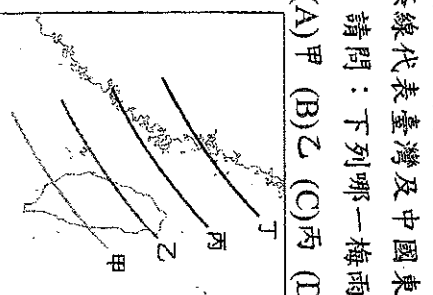


- () 24. 阿廷常搞不懂高、低氣壓的差異，於是特別拜託同學再教他且用表格整理好重點，可是其中一項仍是抄錯了，請問附表中何處資料錯誤？

| | (A) | (B) | (C) | (D) |
|------|--------|--------|------|------|
| 代號 | L | H | 低氣壓 | 高氣壓 |
| 形成原因 | 空氣增溫膨脹 | 空氣降溫收縮 | 氣流下沉 | 氣流上升 |
| 氣流特徵 | 易成雲致雨 | 晴朗穩定 | 氣流上升 | 氣流下沉 |
| 天氣狀況 | 晴朗穩定 | 易成雲致雨 | 氣流上升 | 氣流下沉 |

- () 25. 民國 98 年成立的臺江國家公園，位於臺南曾文溪出海口處，由於當地自然景觀相當珍貴，因此政府將其列為國家公園加以保護。請問：當地可見到的景觀不包括下列何者？

(A) 沙洲 (B) 瀉湖 (C) 溼地 (D) 珊瑚礁。


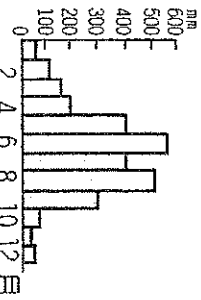


- () 27. 如果想了解某地明天的天氣狀況，可利用附圖中哪些資料去判斷？

(A) 甲 乙 (B) 甲 丁 (C) 乙 丙 (D) 乙 丁。

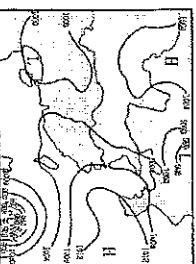
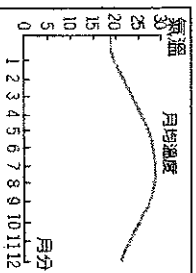
甲：年降水量圖

乙：衛星雲圖



丙：月均溫圖

丁：地面天氣圖



- () 28. 臺灣周圍的離島有：(甲)澎湖(乙)綠島(丙)東沙島(丁)蘭嶼(戊)馬祖，上述島嶼成因相同者為何？
- (A) 甲 乙 丙 (B) 甲 乙 丁 (C) 乙 丁 戊 (D) 乙 丙 戊。
- () 29. 七股鹽山為臺灣現存最大的海鹽曬鹽場，設有博物館供民眾參觀。早期西南沿海發展鹽業，除因地形平坦之外，下列何者亦為發展此產業的重要因素？
- (A) 冬季乾燥，日照強 (B) 丘陵廣布，梯田多 (C) 人口稠密，密度高 (D) 河川短小，流速快。

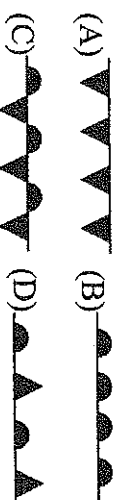
※下表是臺灣四地(臺南、屏東、宜蘭、阿里山)觀測站的氣候統計資料：

| | 1月均溫(°C) | 7月均溫(°C) | 年降水量(mm) |
|---|----------|----------|----------|
| 甲 | 15.8 | 28.1 | 2740.1 |
| 乙 | 18.1 | 28.3 | 1738.5 |
| 丙 | 20.4 | 27.9 | 2162.1 |
| 丁 | 5.6 | 14.1 | 3060.5 |

- () 30. 請問，造成丙區 1 月氣溫較高的原因為何？
- (A) 緯度 (B) 地形 (C) 季風 (D) 距海遠近。
- () 31. 根據附表判斷，四地的配對下列何者正確？
- (A) 甲—臺南 (B) 乙—屏東 (C) 丙—宜蘭 (D) 丁—阿里山。

※武中跑跑團看到新聞報導提到：「受中國大陸冷氣團和太平洋暖氣團所形成的鋒面影響，臺灣未來一週將有連續性的降水，請住在山區的居民做好準備，提防豪大雨及土石流的發生。」請問：

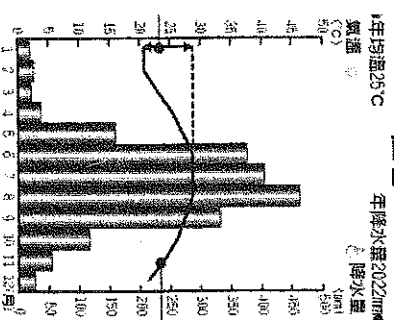
- () 32. 文中所指的鋒面在地面天氣圖上的符號應為下列何者？



- () 33. 此種降水類型的特徵為下列何者？
- (A) 雨時長 (B) 雨區小 (C) 伴隨雷電 (D) 對流旺盛。

※附圖為恆春氣候圖，附表為恆春氣候資料統計表，請問：

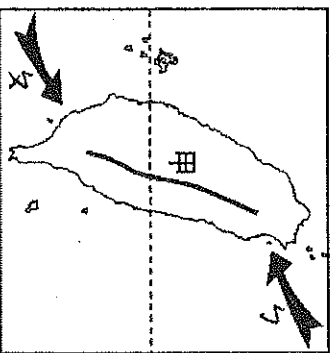
恆春



| | 1月 | 2月 | 3月 | 4月 | 5月 | 6月 | 7月 | 8月 | 9月 | 10月 | 11月 | 12月 |
|--------|----|----|----|----|-----|-----|-----|-----|-----|-----|-----|-----|
| 氣溫(°C) | 21 | 21 | 23 | 25 | 27 | 28 | 28 | 28 | 27 | 26 | 24 | 22 |
| 雨量(mm) | 18 | 25 | 21 | 36 | 158 | 374 | 402 | 461 | 331 | 116 | 54 | 26 |

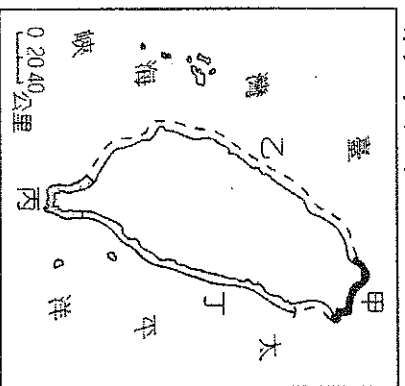
- () 34. 請問恆春的年溫差為多少？
- (A) 4°C (B) 5°C (C) 6°C (D) 7°C。
- () 35. 請問恆春的降水特徵為下列何者？
- (A) 終年多雨 (B) 夏雨冬乾 (C) 夏乾冬雨 (D) 終年少雨。

※附圖是為臺灣季風風向示意圖。請問：

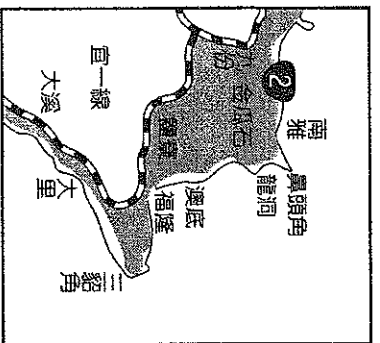


- () 36. 圖中虛線所代表的是哪條緯線？
(A)赤道 (B)本初經線 (C)北回歸線 (D)北極圈。
- () 37. 圖中甲區屬於哪種氣候類型？
(A)熱帶季風氣候 (B)副熱帶季風氣候。
- () 38. 臺灣冬季的盛行風向為圖中何者？
(A)ㄅ (B)ㄆ。

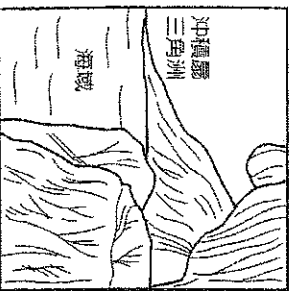
※請參考下列三張附圖，並回答下列問題：



▲圖(一)

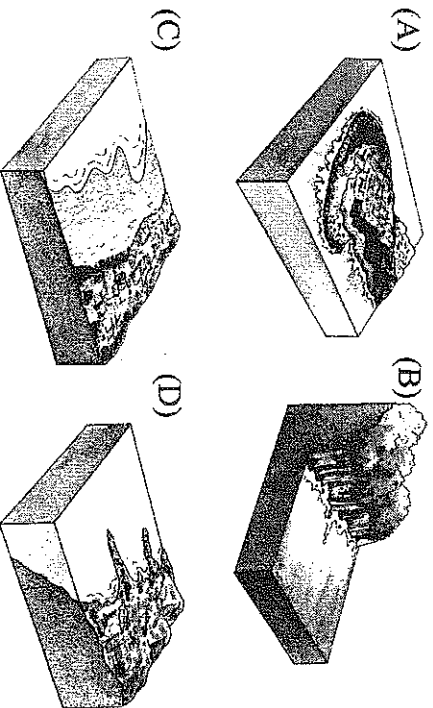


▲圖(二)



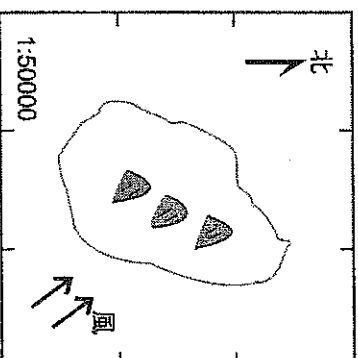
▲圖(三)

- () 39. 圖(一)為臺灣海岸地形的分布圖。海岸可以分成沙岸、岩岸兩種類型，請問：圖中甲乙丙丁四面的海岸中，只有哪一處的海岸地形是以沙岸為主？
(A)甲岸 (B)乙岸 (C)丙岸 (D)丁岸。
- () 40. 圖(二)為臺灣某處海岸的觀光地圖，由圖中凹凹凸凸的海岸線和「鼻頭角」、「三貂角」、「澳底」等地名推測，這一處海岸應是位在圖(一)中何處？
(A)甲岸 (B)乙岸 (C)丙岸 (D)丁岸。
- () 41. 承上題，請問：「鼻頭角」、「三貂角」附近看到的海岸景觀應最接近下列哪一張示意圖？



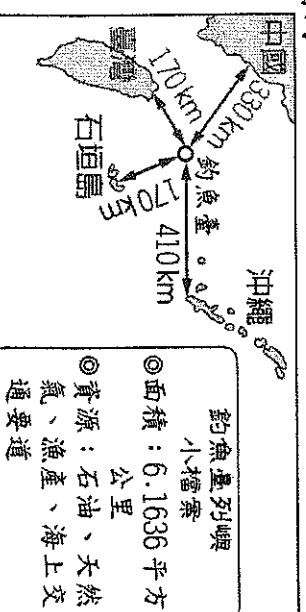
- () 42. 圖(三)是斷崖地形示意圖，近乎 90 度的垂直絕壁讓遊客膽戰心驚。請問：這樣的景象是在圖(一)中何處的海岸？
(A)甲岸 (B)乙岸 (C)丙岸 (D)丁岸。

※附圖是某一假想島嶼及盛行風向示意圖。請問：



- () 43. 當地的降水型態最接近下列何者？
- (A) (B) (C) (D)
- () 44. 承上題，此種降水型態是下列哪種類型的降雨？
(A)地形雨 (B)對流雨 (C)鋒面雨 (D)西北雨。

※釣魚臺列嶼屬於我國離島，然而日本、中國亦堅稱擁有其主權，引發爭議不斷。2012年就曾發生臺、中、日三方在釣魚臺出現衝突，當時我方政府也派遣了艦隊前往當地護漁，表明我國捍衛領土的決心。附圖為釣魚臺列嶼的介紹。請問：



- () 45. 依形成原因，釣魚臺列嶼由是屬於下列哪一類型的島嶼？
(A)大陸島 (B)珊瑚礁島 (C)火山島 (D)沙洲島。
- () 46. 2012 年的衝突中，我方政府也派遣了艦隊前往當地護漁，由圖中資料判斷，艦隊上所設定的航行目的地座標應該為下列何者？
(A)東經 125 度，北緯 20 度 (B)東經 119 度，北緯 23 度 (C)東經 123 度，北緯 25 度 (D)東經 120 度，北緯 24 度。
- () 47. 維護釣魚臺列嶼主權除了領土因素外，還有經濟上的考量，可保護我國漁民捕魚的權利。根據《海洋法公約》的規定，領海基線向外推移多少距離的範圍稱為經濟海域？
(A)12 浬 (B)20 浬 (C)120 浬 (D)200 浬。

七年 班 座號：

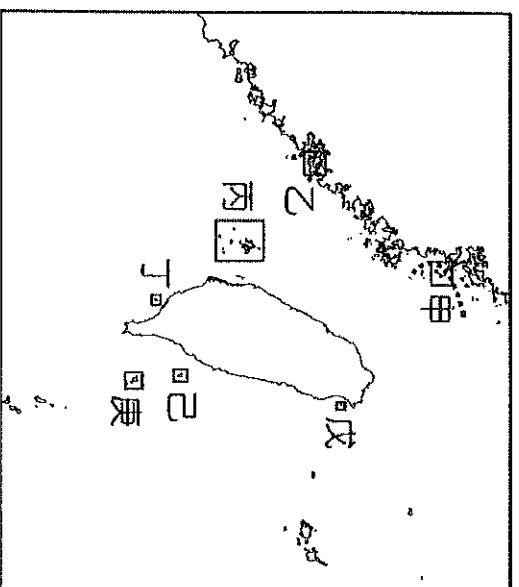
姓名：

| 單選題得分 | 非選擇題得分 | 總分 |
|-------|--------|----|
| | | |

◆第二大題：非選擇題，每格 1 分，合計 6 分。(請以黑色或藍色原子筆書寫，違者不予計分)

※臺灣是由大大小小的島嶼所組成，本島以外的島嶼一般通稱為離島。

- 離島依形成原因可以分為 A 大陸島、 B 火山島、 C 珊瑚礁島，請將代號 A~C 分別填入「島嶼類型」對應的表格中。
- 右圖為臺灣離島位置圖，請依據附圖位置判斷各代號所代表的離島，將代號甲~庚分別填入「代表島嶼」對應的表格中，該格全對才給分。



| 島嶼類型 (請填入代號 A~C) | 島嶼成因示意圖 | 代表島嶼 (請填入代號 甲~庚) |
|------------------------|--------------------------------|------------------------|
| | <p>說明：沿海丘陵因海平面相對上升而沒入水中。</p> | |
| | <p>說明：海底岩漿湧出形成火山，露出海面形成島嶼。</p> | |
| | <p>說明：海底的珊瑚礁露出海面所形成的島嶼。</p> | |

一、選擇題：(每題 2 分) 60%

- () 1. 外籍配偶家庭在臺灣有增加的趨勢。請問：面對此一家庭型態變遷，我們應該要有怎樣的配套措施，來協助改善他們的家庭生活品質？ (A) 提供就業資訊 (B) 設立幼兒托育機構 (C) 提供語言與生活適應課程 (D) 鼓勵生育，平衡男女性別比例。
- () 2. 美麗的爸爸和小姨丈彼此間的親屬關係稱為什麼？ (A) 連襟 (B) 妯娌 (C) 手足 (D) 翁姑。
- () 3. 佳恩與姊姊住同一房間，姊姊晚上喜歡聽音樂入睡，佳恩不喜歡，兩姊妹經常為此事爭吵，這是屬於哪一種類型的家庭衝突？ (A) 家務分工的衝突 (B) 價值觀的衝突 (C) 生活習慣的衝突 (D) 經濟的衝突。
- () 4. 「為了照顧高齡的老母親，受限於自己居住空間不足，所以許孟安在自己家隔壁租了房子給她住，平常晨昏定省，讓孩子在放學後到祖母家讓老人家含飴弄孫。」請問：由以上現象判斷，許孟安的家應於哪一種形態的家庭？ (A) 三代同鄰 (B) 繼親家庭 (C) 三代同堂 (D) 大家庭。
- () 5. 血親親等之計算：直系血親，從己身上下數，以一世唯一親等。旁系血親，從己身數至同源之直系血親，再由同源之直系血親，數至與之計算親等之血親，以其總世數為親等之數。請問：你與姑姑的孫子是幾等親？ (A) 三等親 (B) 四等親 (C) 五等親 (D) 六等親。
- () 6. 阿忠的妻子過世後，留下年僅五歲的女兒。後來阿忠透過婚姻仲介公司娶了一個印尼新娘。一年之後，兩人又生下一對龍鳳胎，阿忠的歡喜全寫在臉上。請問：阿忠這一家不屬於何種家庭類型？ (A) 新移民家庭 (B) 核心家庭 (C) 繼親家庭 (D) 折衷家庭。
- () 7. 近年政府為了減少「少子化」所帶來的衝擊，正逐步實施多項政策，但不包括下列何者？ (A) 提供育嬰假 (B) 增設公立幼稚園 (C) 辦理課後照顧服務 (D) 修正民法親屬相關條文。
- () 8. 家庭的哪一種功能是其他社會機構所無法取代的？ (A) 教育功能 (B) 生育功能 (C) 經濟功能 (D) 照顧與保護功能。
- () 9. 武崙國中七年十二班導師甄美麗調查班上同學的家庭型態，其調查結果不可能出現下列哪一種家庭型態？ (A) 單親家庭 (B) 兩地家庭 (C) 隔代家庭 (D) 頂客家庭申請就學貸款，
- () 10. 「經濟不景氣，申請助學貸款的學生人數有逐漸增加的趨勢，2014 年申辦就學貸款的學子就有 57.5 萬人，高中職以上學生幾乎每十人就有三人必須靠貸款唸書。」這則新聞凸顯出因景氣不佳，家庭的哪一項功能減弱？ (A) 生育功能 (B) 經濟功能 (C) 教育功能 (D) 保護照顧功能。
- () 11. 阿翔家庭的成員很單純，只有爸爸、媽媽、姐姐和阿翔，平常會用到的稱謂不多。每逢家族聚會時，很多長輩的稱謂常常很混亂。請大家幫阿翔看看，附表中的哪一個稱謂是正確的？
- | | |
|-----|-------------|
| (A) | 大舅舅是爸爸的哥哥 |
| (B) | 叔公是祖父的弟弟 |
| (C) | 小姑姑和媽媽是妯娌關係 |
| (D) | 伯母是媽媽娘家的親戚 |
- () 12. 家庭若有需要長期照顧的老人或身心障礙者，對家庭照顧者而言是一項沉重的負擔。下列哪項政府措施最有助於紓解此負擔？ (A) 辦理課後照顧服務 (B) 協助聲請保護令 (C) 營造母嬰親善環境 (D) 提供家庭照顧者喘息服務。
- () 13. 下列關於家庭暴力防治法的敘述，何者正確？ (A) 保護令是由法院所核發 (B) 施暴者可依法聲請保護令 (C) 被施暴者若違反保護令的規定，會被判處三年以下的有期徒刑 (D) 保護令是依據性別工作平等法，為了保護家庭暴力的受害者而制定。
- () 14. 下列這些親屬當中，屬於旁系血親者，應該有幾人？ (甲) 孀孀 (乙) 弟弟 (丙) 外祖父 (丁) 表姊 (戊) 丈夫 (A) 1 人 (B) 2 人 (C) 3 人 (D) 4 人。
- () 15. 面對台灣高齡化社會及未來少子化的趨勢，老人照顧將成為社會的隱憂，下列何者不是目前政府所推動的措施？ (A) 提供喘息服務 (B) 建構長期照護制度 (C) 提供外傭看護補助 (D) 開辦老人日間照護中心。
- () 16. 詹詠然和妹妹詹皓晴在今年的台北世大運，姊妹倆攜手摘下女雙金牌，從小啟蒙她們練習網球的教練就是她們的父親，請問：她們的父親主要扮演下列哪一項功能？ (A) 生育功能 (B) 經濟功能 (C) 教育功能 (D) 保護與照顧功能。
- () 17. 依據《民法》所規定之姻親的種類，儀如的祖母、和外公彼此間的親屬關係是屬於下列哪一種？ (A) 姻親關係 (B) 法定血親 (C) 自然血親 (D) 沒有關係。

基隆市立武崙國民中學一〇六學年度第一學期第二次段考公民科試題

班級：七年

班座號：

姓名：

() 18. 台灣社會的人權意識抬頭，使得性別平權與兒童權利受到重視，法律也隨之修改。請問：對於民法修改後的規定，下列哪一項敘述正確？(A) 夫妻財產與住所的決定權改屬於女方 (B) 夫妻離婚後，一律由母親取得未成年子女的親權 (C) 未成年子女的姓氏一律從父姓 (D) 夫妻行使未成年子女的親權，當意見不一致時由法院依子女最佳利益來判決。

() 19. 現在的年輕人，勇於追求自我理想，或把重心放在經營業務上，使得生育率愈來愈低，推測臺灣未來可能會有下列哪一個問題發生？(A) 經濟蓬勃發展 (B) 老人安養負擔重 (C) 房價愈來愈高 (D) 環境汙染日益嚴重

() 20. 右表有關親屬之稱謂及親屬關係之資料，有哪項資料是錯誤？

| 選項 | 親屬稱謂 | 親屬關係 |
|-----------|------|------|
| (甲) 爸爸的姊姊 | 姑姑 | 旁系血親 |
| (乙) 叔叔的太太 | 嬸嬸 | 姻親 |
| (丙) 姊姊的丈夫 | 姊夫 | 旁系血親 |
| (丁) 媽媽的弟弟 | 舅舅 | 旁系血親 |

(A) 甲 (B) 乙 (C) 丙 (D) 丁。

() 21. 小如和小強兩姊弟經常遭父親酒醉毆打成傷，經學校老師介入處理後，他們的父親被移送法辦。請問：依法哪一個機構有權判決父親停止親權的行使？(A) 法院 (B) 警察局 (C) 社會局 (D) 宗親會

() 22. 每個人一旦發現身邊有人受遭遇家庭暴力的脅迫，應發揮道德勇氣，適時撥打「婦幼保護專線」，使虐童、家暴的事件不再發生。請問：這支專線為何？(A) 110 (B) 111 (C) 112 (D) 113

() 23. 「兄弟同心，其利斷金」，此句話說明什麼？(A) 手足之間要互助合作，方可有一番作為 (B) 手足同心，就可以無所不為 (C) 手足同心，必會斷了彼此情誼 (D) 手足之間要爭個你死我活，才能證明自己優秀

() 24. 親屬關係在中國社會中十分受到重視，因此，親屬關係的分類也十分詳盡，請問：下列哪兩個人是屬於妯娌的關係？(甲) 媽媽 (乙) 伯母 (丙) 姑姑 (丁) 舅舅 (A) 甲乙 (B) 乙丙 (C) 甲丙 (D) 乙丁。

() 25. 鼎新家中有爸爸、媽媽與叔叔、姐姐，請問：在鼎新家裡包含哪些親屬關係？(甲) 血親 (乙) 配偶 (丙) 姻親 (A) 甲乙 (B) 乙丙 (C) 甲丙 (D) 甲乙丙。

() 26. 右表是某國未來老年人口比例的推估數據，若要提出減緩此趨勢的因應對策，下列何項政策最適合？(A) 提高生育補助 (B) 增設安養中心 (C) 廣發敬老津貼 (D) 鼓勵終身學習。

| 年 (西元) | 老年人口 比例(%) |
|-----------|---------------|
| 2014 | 10 |
| 2020 | 14 |
| 2026 | 20 |

() 27. 明恩：「近來媒體廣告上出現不少新商品，像是針對視力退化者所推出的大字手機，還有專為年長者開發的易吸收營養品。」瑞美：「可能是因為這些商品的需求者愈來愈多，所以才吸引更多業者投入這塊市場吧！」上述對話內容最可能是在討論我國社會上的何種現象？(A) 利用社會資源，彌補家庭功能 (B) 平均壽命提高，人口結構改變 (C) 受少子化影響，產業結構轉型 (D) 都市化程度高，改變消費習慣。

() 28. 右表是美環在分組報告時所做的海報標題，由內容來看，美環分組報告的主題為何？(A) 家庭型態的變遷 (B) 夫妻平權的落實 (C) 家庭衝突的解決 (D) 子女權益的保障。

() 29. 美玲今年大學畢業，並順利考上托福，打算明年一月份到美國攻讀碩士及博士學位。媽媽說：「女孩子何必讀那麼多書，應該留在台灣工作，再找個理想的對象結婚。」；爸爸卻認為「沒關係，最重要是美玲喜歡讀書，出國念書可以增廣見識。」，父母兩人因此有些爭執。導致兩人產生爭執的原因最有可能是何者？

(A) 家務分工的衝突 (B) 價值觀的衝突 (C) 生活習慣的衝突 (D) 經濟的衝突。

() 30. 移民署舉辦「新住民多元文化美食競賽」，最主要的用意為下列何者？(A) 協助新住民就業 (B) 協助發展台灣觀光 (C) 協助彼此間的文化交流 (D) 協助新住民融入台灣的社會。

※夫妻的財產個自管理、使用
 ※婚後夫妻各自保有本姓
 ※夫妻住所由夫妻共同約定

二、配合題：(每題 3 分) 21%

1. 請分辨下列各題敘述應屬於哪一種家庭型態，填入相配合的代號。

參考選項：(A) 單親家庭 (B) 大家庭 (C) 折衷家庭 (D) 隔代家庭

() 31. 媽媽、弟弟、我。

() 32. 外公、外婆、爸爸、媽媽、妹妹、我。

基隆市立武崙國民中學一〇六學年度第一學期第二次段考公民科試題

班級：七年

班座號：

姓名：

- () 33. 爺爺、奶奶、堂哥、我、表妹。
() 34. 奶奶、伯父、伯母、爸爸、媽媽、堂姐、堂妹、我。

2. 依照《民法》規定，姻親的種類分為哪三類，請分辨下列各題敘述應屬於哪一種姻親型態，填入相配合的代號：
參考選項：(A)血親的配偶 (B)配偶的血親 (C)配偶的血親的配偶
() 35. 姨丈 () 36. 丈夫的伯母 () 37. 岳母

三、題組：(每題 3 分) 15%

1. 「高齡化社會」是目前各國普遍的現象，也是國際間關心的議題，請根據題目回答下列問題。
() 38. 「老人」是指幾歲以上的人？ (A)50 歲 (B)55 歲 (C)60 歲 (D)65 歲。
() 39. 聯合國世界衛生組織所訂的高齡化社會標準為何？ (A)當一個地區老年人口占總人口數 3%以上 (B)當一個地區老年人口占總人口數 5%以上 (C)當一個地區老年人口占總人口數 7%以上 (D)當一個地區老年人口占總人口數 9%以上。

2. 李欣華就讀高一，姊姊念高三。從小父親生病過世，五年前母親與大陸籍繼父高強結婚，高強並依法律程序收養李欣華和姊姊。高強在上海經商，只能每兩個月休假一週，回到台灣與家人團聚。獨居在南部鄉下的外公因年事已高，今年初李欣華的母親將外公接來同住，以方便照顧。請問：

- () 40. 李欣華的家庭符合下列哪幾種家庭型態？ (甲)兩地家庭 (乙)三代同鄉 (丙)繼親家庭 (丁)新移民家庭
(A)甲乙丙 (B)乙丙丁 (C)甲丙丁 (D)甲乙丙丁。
() 41. 李欣華姊妹與高強之間的親屬關係是屬於下列何者？(甲)姻親 (乙)自然血親 (丙)擬制血親 (丁)法定血親。
(A)甲乙 (B)甲丙 (C)乙丙 (D)丙丁。
() 42. 李欣華與外公之間的親屬關係是屬於下列何者？ (A)直系血親 (B)旁系血親 (C)擬制血親 (D)沒有關係

請由此撕開

答案紙

四、簡答題：4%

家庭的幸福需要用心經營，家中每位成員都應該學習溝通、傾聽、互助與合作，請問：家庭中如果發生衝突，應該如何處理，請發揮你的創意，列出四項具體可行的解決方法，來化解家庭的衝突。

基隆市立武崙國中 106 學年度第一學期 第二次段考 七年級社會科試卷—歷史科

電腦讀卡，請使用 2B 鉛筆，並依據題號在答案卡上作答，答案卡無法判斷身分者，扣總分 10 分

範圍：第一冊 L.3-L.4 本試卷共 30 題 每題 3 分

班級：_____ 座號：_____ 姓名：_____

- 臺灣漢人墾殖的區域範圍，在乾隆年間開始大幅擴散。下列哪個地區是漢人移民最早開始拓墾的地點？
(A)宜蘭 (B)臺南 (C)新竹 (D)淡水
- 關於南明政權的敘述，下列何者正確？(A)出現於 17 世紀 (B)南明桂王賜鄭成功國姓「朱」 (C)明朝遺臣在中國南方先後擁立福王、魯王、桂王、唐王，繼續對抗滿清 (D)南明唐王封鄭成功為延平郡王
- 連橫的《台灣通史》曾記載：「時成功延攬天下，接見後，與談時事，終日不倦。大喜曰：『復撫今之臥龍也。』」鄭成功將此人比做是三國時期的諸葛亮，可見得此人在其心目中地位之重要。請問，此人是為下列何者？
(A)沈光文 (B)陳永華 (C)施琅 (D)朱一貴
- 清乾隆及嘉慶年間，府城「三郊」(北郊蘇萬利、南郊金永順、糖郊李勝興)的興起，為台南往後近百年的黃金盛事揭開序幕。府城「三郊」的出現，反映了當時哪一社會發展狀況？ (A)兩岸貿易的興盛 (B)清廷積極治台的政績 (C)文教發展的熱絡 (D)農業技術的進步
- 承上題，請問府城「三郊」主要由哪一港口進出口呢？ (A)打狗 (C)鹿耳門 (C)鹿港 (D)八里坌
- 有關清領前期，清廷對台灣的建設，下列何者正確？ (A)康熙皇帝對台灣的治理頗為積極用心 (B)將台灣歸屬於浙江省管轄 (C)羅漢腳增加與當時劃界封山的政策有關 (D)渡台禁令下，民間偷渡的情形仍持續
- 自荷治時期至清領前期，台灣的行政中心位置排序，下列何者正確？ (A)承天府→台灣府→普羅民遮城 (B)台灣府→承天府→天興縣 (C)熱蘭遮城→承天府→台灣府 (D)熱蘭遮城→台灣府→承天府
- 延宇想要撰寫有關鄭經的歷史報告，請問，以下哪一選項的敘述，他可以列入報告中？ (A)以金門與廈門為反清復明的根據地 (B)台灣與荷蘭東印度公司的貿易紀錄 (C)三藩之亂時出兵中國的路線圖 (D)將台灣稱為東都
- 台灣的地名有些與當地的歷史背景有關。請問，位於今日高雄地區的「後勁、左鎮、左營」等地名與歷史上的哪項措施有關？ (A)清廷對鄭氏所採取的海禁政策 (B)鄭氏時期的軍屯政策 (C)鄭經時代的文教措施 (D)清領前期的渡台禁令
- 柏文看到一段名為〈開墾章程〉的史料，其中規定如下：「文武各官開墾田地，必先赴本藩報明畝數而後開墾。至於百姓，必先將開墾田數，報明承天府，方准開墾。」根據上述，這應是何人所頒布的規定？ (A)康熙皇帝 (B)鄭成功 (C)鄭克塽 (D)雍正皇帝
- 有關地名的由來，何者與清領時期為避免原漢衝突一事完全無關？ (A)台北木柵 (B)台北石牌 (C)台南林鳳營 (D)台中土牛
- 新竹地區有一重要古蹟「金廣福公館」，是為了紀念十九世紀初客家籍姜秀鑾和閩南籍周邦正，帶領漢人移民拓墾竹北一帶而興建。根據上述，此古蹟的存在，反映何種清領前期的現象？ (A)漢人以武裝暴力強取原住民土地 (B)漢人採合資方式拓墾土地 (C)漢人與原住民合作開墾番地 (D)漢人自行強占無主地
- 清領前期，台灣行政區會一直新增的原因與下列哪些選項有關？
(甲)清政府統治的版圖不斷擴張 (乙)台灣人民以武力反抗官府的民變 (丙)其他國家不斷的人侵 (丁)人民積極拓墾
(A)甲乙 (B)乙丙 (C)丙丁 (D)乙丁
- 根據《諸羅縣志》記載：「男多於女，有園庄數百人，而無一眷口者。蓋內地各津渡，婦女之禁既嚴，取一婦動費百金……。」上述顯示諸羅縣人口組合婦女絕少的情況。造成如此畸形的人口組成主要原因為何？
(A)軍屯政策 (B)劃界封山 (C)渡台禁令 (D)開港通商

背面尚有試題，請用心作答

15. 承上題，此一情形，最有可能發生在下列何時？(A)荷治時期 (B)鄭經在位時期 (C)清領前期 (D)清領後期
16. 鄭氏政權結束於清朝哪一位皇帝在位時期？(A)乾隆 (B)雍正 (C)康熙 (D)嘉慶
17. 有關清初台灣的行政區建置，下列敘述何者正確？(A)因為林爽文事件，雍正時期增設諸羅縣 (B)康熙年間，吳沙率眾進入蛤仔難地區開墾 (C)嘉慶時期行政區共為一府四縣三廳 (D)今日的桃園一帶，於雍正皇帝在位時歸鳳山縣所管轄
18. 以下是清代一位作家在書中所寫：「我朝嚴格禁止人民和外洋相通，一片木板都不能入海。然而商人壟斷與外洋的接觸，用很多錢賄賂把守海口的官兵，私下與鄭氏相通，抵達廈門，然後和各國做生意。凡是中國各種貨品，海外的人都要靠鄭氏。海洋的利益由鄭氏一人操控，財產一天天的富饒。」請問根據上文所述，清朝此一舉動，是為何項措施？(A)渡台禁令 (B)海禁政策 (C)撫番政策 (D)軍屯政策
19. 以下哪個選項的地理位置可以算是在鄭成功時期天興縣的範圍裡？(A)淡水 (B)鳳山 (C)花蓮 (D)屏東
20. 鄭氏治臺時期，臺灣與中國大陸的商業貿易，主要是以何種方式進行？(A)官方貿易 (B)透過第三國輸送貨品 (C)走私貿易 (D)民間公開貿易
21. 有關地名的由來，何者與清領前期漢人開墾完全無關？(A)宜蘭頭城 (B)台南官田 (C)苗栗頭份 (D)台南七股
22. 有關清初的經濟發展，以下敘述正確的共有幾項？(甲)台灣商人若要前往上海貿易可加入北郊 (乙)此時台灣主要以中國大陸為貿易對象 (丙)台灣主要出口物品為蔗糖、鹿皮、稻米 (丁)軍用物資是當時主要的進口品之一
(A)1項 (B)2項 (C)3項 (D)4項
23. 鄭氏治台時期，在各社設立小學，規定兒童 8 歲入小學，主要學習經、史等文章，並在□□、□□兩州舉行考試，三年兩試，考中的送到府學；參加府試考重的送到學院；參加學院考中的則進大學；三年一考，考中的補任六宮內部事。上述措施對台灣社會有何影響？(A)加速與清政權的融合 (B)提升原住民文化的發展 (C)促進對外貿易的發展 (D)奠定漢人文化的基礎
24. 承上題，「並在□□、□□兩州舉行考試」，其中，□□、□□兩州，指的是下列何地？(A)諸羅、鳳山 (B)熱蘭遮城、普羅民遮城 (C)承天、萬年 (D)天興、萬年

題組

請閱讀以下文章，並回答第 25~27 題

鄭氏時期，陳永華曾向鄭經建議：「今臺灣沃野數千里，遠濱海外，且其俗醇，使國君能舉賢以助理，則十年生長，十年教養，十年成聚，三十年直可與中原相甲乙，何愁獨促稀少哉？」請問：

25. 有關陳永華所說的「十年教養」，下列何者並非其教養的措施？
(A)建孔廟 (B)實施考試制度 (C)設學校，以培育人才 (D)設番學堂，教化原住民。
26. 文中所說的「三十年直可與中原相甲乙」，在臺灣的鄭氏政權實際維繫多久時間？
(A)15 年 (B)21 年 (C)26 年 (D)30 年。
27. 鄭經在鄭氏政權中是第幾任主政者？
(A)第一任 (B)第二任 (C)第三任 (D)第四任。

下一頁尚有試題，請用心作答

跑水祭源自清代施世榜為籌建水圳，因不諳水利土木，忽現一位自稱林先生，前來繪圖指引工法，遠才得以順利完成。故村民為感念此舉義行，每年於圳頭設香案祭祀，並派幾名身手矯健之人下水，專負責引水，身穿蓑衣、草鞋，頭綁紅巾，頂著牲果，依良辰吉時開啟水閘放水，此刻宣洩而出的圳水便往前衝，這些引水人則要趁水勢還沒追上，一直往前奔跑，此過程即為「跑水」。2003年起，縣政府將跑水祭改於11月份舉行，配合觀光發展，跑水祭納入台灣一項文化節慶中，故也稱「跑水節」，每年□□縣長會率領民眾體驗跑水樂趣。

---改寫自維基百科：跑水祭

28. 文中所提的水圳是為下列何者？

- (A)八堡圳 (B)瑠公圳 (C)曹公圳 (D)貓霧埭圳

29. 承上題，此水圳引用的溪水為下列何者？

- (A)新店溪 (B)大甲溪 (C)濁水溪 (D)高屏溪

30. 文中，「跑水祭納入台灣一項文化節慶中，故也稱「跑水節」，每年□□縣長會率領民眾體驗跑水樂趣」，請問□□縣長，指的是下列何者？

- (A)南投縣長 (B)彰化縣長 (C)宜蘭縣長 (D)屏東縣長

基隆市立武崙國中 106 學年度第一學期 第二次段考 七年級社會科試卷—歷史科

範圍：第一冊 L.3-L.4

班級：_____ 座號：_____ 姓名：_____

| 選擇分數 | 非選分數 | 總分 |
|------|------|----|
| | | |

答案卷

注意事項：請用黑色或藍色原子筆書寫，其餘顏色，該格以 0 分計算

非選擇題：共 10 分

★鄭氏降清後，清廷陷入「棄台」與「留台」的爭論中，包含康熙皇帝及施琅也各站在不同的立場議論著要不要把台灣納入版圖這件事。現在，請試著站在雙方的角度，說明其「棄台」、「留台」的理由。



請你站在棄台論立場，說明其理由：

(3分)

請你站在留台論立場，說明其理由：

(3分)

★台灣是在何時正式被納入清代版圖呢？

(1分)

★《台灣史上最有趣的台灣史》作者黃振南：「歷史不能重來，但用假設性問題來討論歷史，倒是可以寬廣我們的視野，激發我們的想像力。」請同學們試想，「如果沒有施琅，台灣會有怎樣的發展呢？」將你的想法，寫出來吧： (3分)