

臺中市立武崙國中 106 學年度第一學期第二次段考八年級地理科試卷

(請用 2B 鉛筆作答，電腦判讀)

班級： _____ 座號： _____ 姓名： _____


一、單選題：(每題 2 分)

() 1. 下列何者為中國西部內陸乾燥氣候的主要成因？(A)地處內陸，四周山脈阻繞夏季風進入 (B)為副熱帶高壓籠罩 (C)沿海有流經過 (D)位於低緯度地帶。

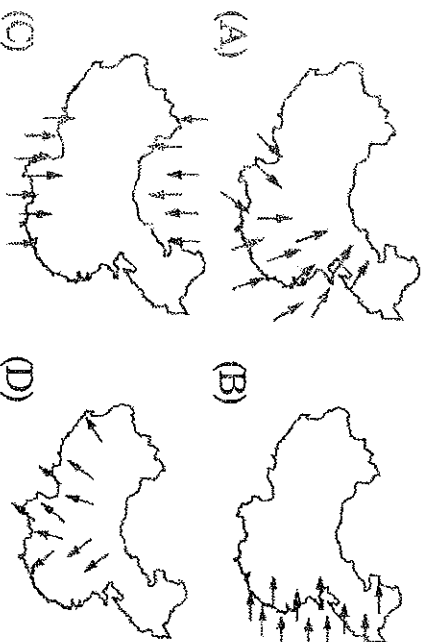
() 2. 「中國有 94% 的人口聚居在總面積 43% 的土地上。」以上對中國人口的敘述，主要在說明下列哪個事實？ (A)人口結構老化 (B)人口分布不均 (C)人口數量龐大 (D)性別比例失衡。

() 3. 中國的外流河主要分為三大外流區。請問：下列哪條河流屬於「北極海」外流區？ (A)烏蘇里江 (B)黃河 (C)額爾濟斯河 (D)黑龍江。

() 4. 西藏地區的僧侶服飾，夏季午間常將外袍的袖子繫在腰間，袒出右臂或雙臂，如圖所示。請問：從這種穿著方式，可以反映出當地夏季具有下列哪一項氣候特色？(A)雨量稀少 (B)日溫差大 (C)風力強勁 (D)空氣稀薄。

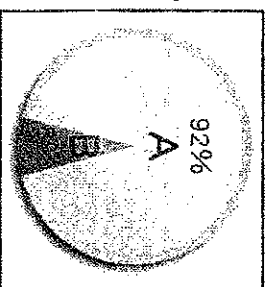


() 5. 中國最主要的降雨季節受某盛行風的影響。下列哪一張圖最符合此盛行風的風向？



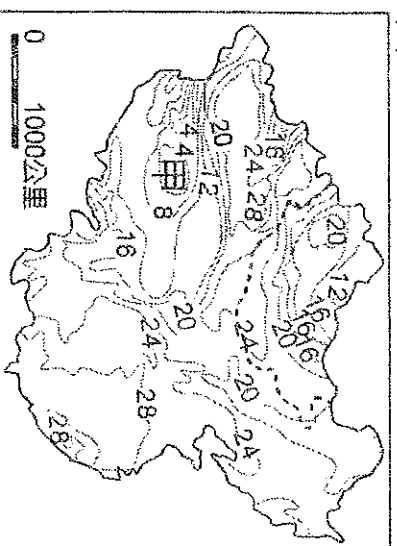
() 6. 哪個盆地的「環境負載力高」能養活較多的人口？ (A)四川盆地 (B)塔里木盆地 (C)柴達木盆地 (D)準噶爾盆地。

() 7. 下圖為中國民族比例圖。圖中的「A」指的應為哪個民族？ (A)漢族 (B)蒙古族 (C)壯族 (D)回族。



() 8. 中國北部冬季嚴寒，對當地居民的日常生活影響相當大。若要避免寒風入侵，中國北方大多數的房子坐向為下列何者？ (A)坐東朝西 (B)坐西朝東 (C)坐南朝北 (D)坐北朝南

() 9. 附圖為中國大陸夏季氣溫分布圖。請問：造成甲地區低溫現象的主要原因為何？ (A)緯度偏高 (B)季風強勁 (C)地勢高聳 (D)距海遙遠



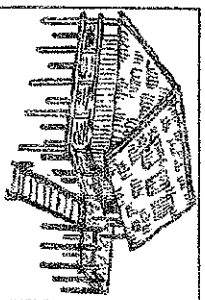
() 10. 中國人口目前超過 13.6 億人居世界第一，但是中國人口素質和先進國家比較起來人仍然較低，對於提高人口素質最好的因應之道為何？ (A)實施計畫生育 (B)實施優生生育計畫 (C)加速發展經濟 (D)加強普及教育實施。

() 11. 中國在 1950 至 1980 年間，對一月月均溫低於 0°C 的區域施行免費供煤取暖政策，但卻造成嚴重空氣汙染，影響當地居民健康。該政策實際供煤的區域，大致以下列哪條河流為其南界？ (A)黃河 (B)淮河 (C)長江 (D)珠江。

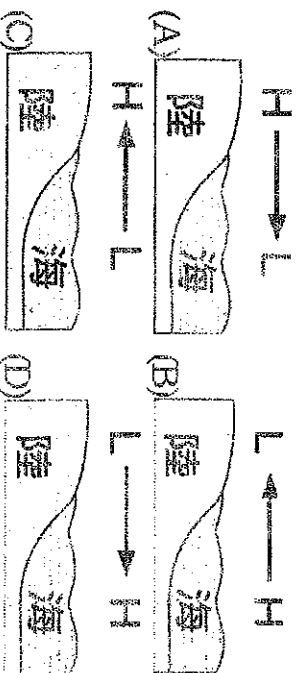
() 12. 附圖為中國某一氣候資料的等值線分布圖，圖中甲 < 乙 < 丙 < 丁，則該氣候資料應為下列何者？ (A)年雨量 (B)年溫差 (C)七月均溫 (D)日溫差。



- () 13. 「季風」是一種獨特的氣候現象，造成風向隨著季節改變的主要原因為何？
 (A)地球繞太陽運行 (B)曲折多彎的海岸
 (C)海陸吸、散熱的速度不一致 (D)冬、夏季太陽照射角度不一。
- () 14. 2016年1月1號起，中國大陸調整人口政策，全面開放可生育兩個孩子，請問其目的為何？(A)控制人口成長 (B)均衡區域發展 (C)遏止人口移入都市 (D)面對人口老化所採取的行動。
- () 15. 中國是由55個民族組成的多元民族國家，其中少數民族人口數最多的是下列哪一個民族？
 (A)滿族 (B)藏族 (C)回族 (D)壯族。



- () 16. 右圖為東南亞鄉村傳統的高架式住屋形式。這種建築優點是可以通風、防潮，下層可以圈養家畜。請問：在中國的哪一地區可以見到類似的建築形式？
 (A)西北 (B)東北 (C)華北 (D)華南。
- () 17. 明朝鄭和下西洋，是從華南福建地區的泉州港出發，朝向今日的東南亞等地。若他想要一路順風而行，出航時間最好選在下列哪些季節？ (A)春、夏 (B)夏、秋 (C)秋、冬 (D)冬、夏。
- () 18. 雲貴高原和橫斷山脈一帶是中國少數民族最多的地方。請問：下列哪項是影響該地區族系多元，且多有傳統生活方式的主要原因？ (A)氣候溼熱 (B)地處邊疆 (C)政策移民 (D)地形崎嶇。
- () 19. 飄飄利用數據資料，將某地區分成沙漠及草原兩種氣候類型。請問：下列何者最可能是他分類的依據？ (A)年溫差 (B)年降水量 (C)一月均溫 (D)緯度。
- () 20. 亞洲在瀕臨印度洋和太平洋的地區，是地表季風氣候最發達的地區，下列哪張是夏季季風成因的示意圖？

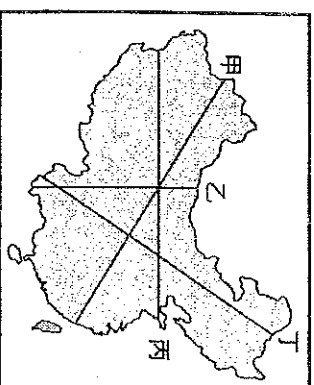


- () 21. 中國領土幅員遼闊，各地的氣候差異性大。請問：下列關於氣候影響因素的敘述，何者正確？ (A)緯度愈高，年溫差也愈大 (B)季風氣候在冬季是吹海風 (C)距海愈遠，年溫差愈小 (D)地勢愈高，氣壓愈高。

- () 22. 北京市冬季時風沙大，造成當地居民的困擾。該地區的冬季季風風向為下列何者？(A)↖ (B)↘ (C)↗ (D)↙

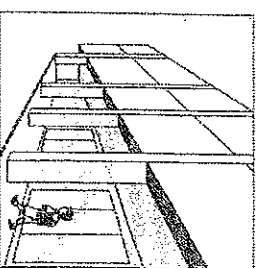
- () 23. 「每年農曆春節前後，中國有數億離鄉工作的人口，藉由鐵、公路往返家鄉與工作地點間，龐大人潮常造成運輸系統的壅塞，也使得政府運輸部門如臨大敵，此即為『春運現象』。」根據上文所述，若以中國三大經濟地帶區分，在春節前返鄉人潮最多的移動方向應為下列何者？
 (A)西部→中部 (B)中部→西部
 (C)東部→中部 (D)中部→東部。

- () 24. 右圖中哪條線可做為中國人口分布密集與稀疏的主要分界？
 (A)甲 (B)乙 (C)丙 (D)丁。



- () 25. 中國為數眾多的淡水湖，對人類經濟的開發有重要的幫助，下列何者不是淡水湖的主要功能？(A)觀光旅遊 (B)漁業養殖 (C)農業灌溉 (D)生產湖鹽。

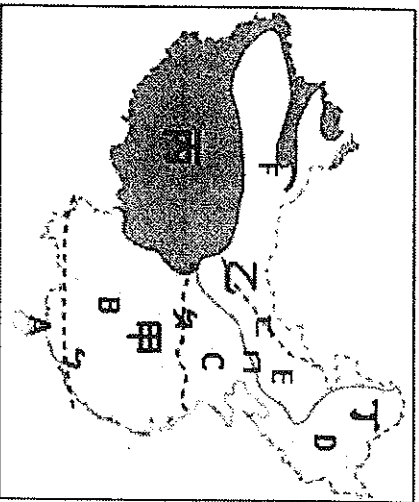
- () 26. (甲)計畫生育的實行 (乙)傳統重男輕女的觀念 (丙)生育率偏高 (丁)高齡化社會漸漸發生。請問：何者是目前中國的人口性別比偏高的主要原因？
 (A)甲乙 (B)乙丙 (C)丙丁 (D)甲丁。



- () 27. 右圖是中國福建一帶地區常見的市街建築，居民常將一樓接鄰馬路的部分當作通道，稱為「亭仔腳」(騎樓)。請問：這種建築特色與下列哪一項最有關係？
 (A)地震頻繁 (B)強風多 (C)人口多 (D)雨日長。

二、題組題：（每題2分）

■ 中國的疆域面積廣大，因此境內各地區的自然環境複雜，更因為自然環境條件的差異形成多元的區域特色與人文現象。



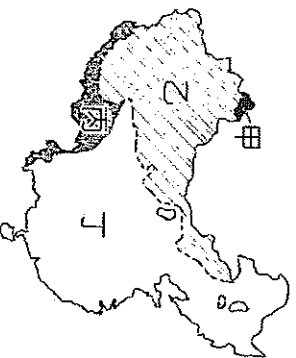
- () 28. 何地夏季時的平均氣溫最低，較為涼爽？(A)甲 (B)乙 (C)丙 (D)丁。
- () 29. 在哪一個時間，ABCD 四地的氣溫差距最大？(A)1月 (B)4月 (C)7月 (D)10月。
- () 30. 中國境內的秦嶺、淮河為重要的氣候分界線，其大致為最冷月均溫 0°C 的北界，請問秦嶺、淮河的位置在？
(A)B (B)乙 (C)丁 (D)C。
- () 31. 秦嶺、淮河的位置相當於中國的哪一條年降水等降水量線？(A)250mm
(B)500mm (C)750mm (D)1500mm。

■ 武崙旅行社推出中國少數民族的主題旅遊行程，附表為該行程的內容，請依表中資料回答下列問題：

第一天	搭飛機進入離臺灣最近的少數民族自治區，開始體驗不同文化的特色
第二天	往北前進，體驗天人合一的人間境界。但地勢相當高，須注意高山症
第三天	進入西遊記的火焰山，在山谷縱橫的乾燥地區，欣賞當地的民族舞蹈
第四天	在一望無盡的草原上縱橫，大塊吃肉、大口喝酒，充分感受大漠兒女的豪情
第五天	來到清朝時期的龍脈所在，拜訪這些清代皇族的遠親

- () 32. 行程中第一天拜訪的少數民族為下列何者？(A)蒙古族 (B)哈薩克族 (C)壯族 (D)羌族。
- () 33. 中國的哪一個族群分布在乾燥的沙漠盆地，四周為高聳入雲的山脈？
(A)維吾爾族 (B)滿族 (C)壯族 (D)藏族。
- () 34. 請問行程中哪一天會因為當地宗教因素而吃不到豬肉？(A)第一天 (B)第二天 (C)第三天 (D)第五天。
- () 35. 縱橫在廣大草原上的游牧民族，曾建立橫跨歐、亞兩洲大帝國的少數民族為下列何者？(A)壯族 (B)維吾爾族 (C)藏族 (D)蒙古族。
- () 36. 曾建立中國最後一個帝國「清朝」的少數民族為下列何者？(A)維吾爾族 (B)哈薩克族 (C)滿族 (D)藏族。

■ 中國的水文依其特性而分成四個不同的區域，下圖為中國水文分區圖。請問：



- () 37. 下列何者為內流河分布區？
(A)甲 (B)乙 (C)丙 (D)丁。
- () 38. 承上題，此內流河分布區域和下列哪一個氣候區的分布範圍最為相近？(A)季風氣候 (B)乾燥氣候 (C)高地氣候。
- () 39. 甲區域的特性最可能為下列何者？
(A)蒸發旺盛，多鹹水湖分布 (B)降雨量少，為內流河 (C)夏季融雪，河川東流入海 (D)高山攔截水氣，河川流入北極海。
- () 40. 雅魯藏布江為西藏地區重要河川，該條河川的水氣主要來自下列何者？(A)北極海 (B)太平洋 (C)印度洋 (D)印度洋西南季風
- () 41. 太平洋外流區為中國三大外流區中最主要的外流區域。此分布現象和下列哪一項因素的關係最大？(A)地勢起伏 (B)季風風向 (C)緯度高低 (D)氣溫變化。

基隆市立武崙國中 106 學年度第一學期第二次段考八年級地理科試卷

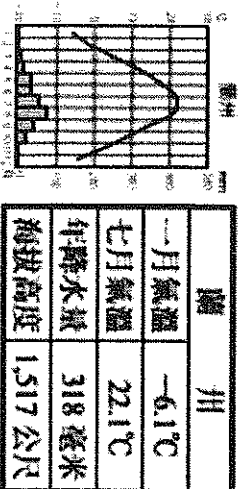
(請使用藍、黑色原子筆作答，未依規定作答者，該題答案不計分)

班級：	選擇分數	非選分數	總得分
座號：			
姓名：			


三、非選擇題：

(一) 中國的氣候依據氣溫、降水量和高度的差異，大致可以分為季風氣候、乾燥氣候和高地氣候三大類型。請從下面兩張氣候圖所顯示的各項數值，判斷出該地的氣候類型：(每格 2 分，答案完整才給分)

1.



2.



1. 氣候

2. 氣候

(二) 中國的面積廣大、地形複雜，氣候類型多樣，各地居民的生活方式，往往因氣候的差異而有所不同。請問中國的乾燥氣候區，居民因此發展出哪些特殊的生活方式，請從食、衣、住、行中選擇一項舉出例子，並說明原因。(每格 2 分)

注意：作答不可與舉例相同

舉例：以肉、乳製品為主食來源	原因：降水量少，不利農業，以畜牧業為主
3.舉例：	4.原因：

基隆市立武崙國民中學106學年度第一學期八年級公民科第二次段考試題

座號：_____ 姓名：_____

一、選擇題 (每題2.5分) 共四頁，第四頁為非選擇題作答卷，請監考老師協助收取

- () 1.屏東縣政府積極發展網路寬頻接普及服務，可縮減數位落差，亦可發展山地部落生態觀光旅遊，此舉可實現地方政府的何項工作？ (A) 社會服務、經濟發展 (B) 經濟發展、教育文化 (C) 教育文化、安全衛生 (D) 安全衛生、社會服務。
- () 2.我國重要官員與其產生方式之配對，下列何者是正確的？ (A) 市長：議員互選 (B) 省主席：人民直選 (C) 監察委員：人民直接選舉 (D) 司法院長：總統提名，立法院同意後任命
- () 3.我國《憲法》對於中央與地方政府權限的畫分採「均權制度」，其中具有因地制宜性質的事務由地方負責。依此規定，下列何種事項是屬於地方政府的職權？ (A) 發放老人年金 (B) 增設地方法院 (C) 招考公務人員 (D) 彈劾失職官員
- () 4.湘雲與同事聊天時提到：「我家住在直轄市山地原住民族區。」依此判斷，湘雲最可能住在下列哪裡？ (A) 臺北市文山區 (B) 桃園市中壢區 (C) 臺中市霧峰區 (D) 高雄市那瑪夏區。
- () 5.小森和女朋友看電影，將機車停放在巷子內，沒想到電影散場後機車竟然被偷了，他必須至何處報案？ (A) 衛生所 (B) 派出所 (C) 地方法院 (D) 戶政事務所。
- () 6.政宇昨天和朋友逛西門町時，皮夾掉了，所有的證件都必須重辦。政宇趕忙在戶政機關上班時間申請補發身分證，繳了新臺幣200元的費用。請問：這200元的費用，是政府依據何項原則所收的費用？ (A) 互利原則 (B) 受益原則 (C) 均富原則 (D) 負擔能力原則。
- () 7.地方自治的項目繁多，地方政府需要相當多的經費來執行，而地方政府的經費來源之一為「自行籌措」，請問：下列哪一項敘述即屬之？ (A) 臺中市政府舉辦的文化迴廊「綿綿舊情」系列之老臺灣文物特展 (B) 新北市政府與臺灣原住民族文化產業發展協會舉辦全球原住民族文化會議 (C) 瑞穗鄉文旦袖花季將登場，花蓮縣政府舉辦袖花季健行活動，鼓勵大家來瑞穗鄉觀光 (D) 花蓮縣政府舉辦的「情定迴瀾，蜜月夢土——戀戀花蓮」全國集團結婚
- () 8.羅小祥家住八斗子，休假當天到區公所行政大樓，先替兒子「報戶口」再去「申請請育兒津貼補助」，再帶兒子去「施打新生兒疫苗」，接著去購買嬰兒用品。請問：羅小祥應該去哪些機關來完成這些事務？ (A) 地政事務所、衛生所、派出所 (B) 戶政事務所、財政課、衛生所 (C) 地政事務所、稅捐稽徵處、衛生所 (D) 戶政事務所、社會課、衛生所。
- () 9.我國政府課徵所得稅是採用累進稅率，主要是為了達到下列哪一項目的？ (A) 增加國庫收入 (B) 改善所得分配 (C) 提高行政效率 (D) 鼓勵民間投資。
- () 10.下列哪一組全都屬於地方政府可以支配的稅收？ (A) 娛樂稅、地價稅、使用牌照稅 (B) 土地增值稅、關稅、所得稅 (C) 貨物稅、遺產及贈與稅 (D) 房屋稅、營業稅、娛樂稅。
- () 11.報載「行政院公平交易委員會決議，6家新北市的瓦斯行，因違反《公平交易法》禁止聯合行為的規定，共處44萬元罰鍰。」前述政府為了避免嚴重影響市場競爭之行為而罰鍰，此作法屬於政府發揮下列何項經濟功能？(甲)提供公財 (乙)處理外部效果 (丙)改善所得分配 (丁)維持公平交易 (A) 甲丙 (B) 乙丁 (C) 甲丁 (D) 乙丙。
- () 12.劉小華購買公益彩券，中了貳獎，依規定必須繳稅後方可領取。請問：他所繳的稅是屬於哪一種稅目？ (A) 營業稅 (B) 所得稅 (C) 贈與稅 (D) 財產稅。
- () 13.阿甘打算寄賀年卡給朋友，給他們驚喜，但因他不熟悉地方政府的層級區分，因此錯誤百出。請問下列信件中，哪一項的地址是正確的？ (A) 台北市景美村木柵路一段 (B) 基隆縣安樂區武嶺街 (C) 嘉義縣太保市保十路 (D) 屏東市延平區光復一路
- () 14.近年來為了統籌分配的問題各縣市政府為此爭論不休，誰也不願意所分配到的比例被刪減。請問：在中央補助與地方稅收的部分，是依何法來畫分？ (A) 《所得稅法》 (B) 《營業稅法》 (C) 《地方制度法》 (D) 《財政收支劃分法》

() 15. 中央健保局曾因健保費認定問題，與台北市政府有不同看法，發生權限爭議。當中央與直轄市、縣(市)發生權限爭議時，依《憲法》規定，由下列哪個機關來解決？(A) 總統 (B) 立法院 (C) 行政院 (D) 監察院。

() 16. 住在基隆市安樂區的陳大東，因為住在新北市的奶奶去世的關係，準備接受300萬元的遺產，他必須要先繳交相關的税金才能接收遺產。請問該稅的徵收機關為下列何者？(A) 財政部國稅局 (B) 基隆市稅捐稽徵處 (C) 新北市稅捐稽徵處 (D) 台北市稅捐稽徵處。

() 17. 政府有責任保障民眾的私有財產。請問：下列哪一項屬之？(A) 制定相關法律，保障個人私有財產免於非法的侵害 (B) 為防止民眾浪費私有財產，需強迫民眾定額儲蓄 (C) 鼓勵民眾購買彩券，以得到增加私有財產的機會 (D) 推廣「少捐款，多儲蓄」的觀念，才能減少支出。

() 18. 下列有幾位公職人員是透過選舉產生出來的？(甲)教育部長(乙)台北市副市長(丙)臺北市議員(丁)士林區區長 (戊)臺灣省主席 (A) 一位 (B) 二位 (C) 三位 (D) 四位。

() 19. 全民享有的健康保險屬於政府哪一項支出？(A) 經濟發展 (B) 社會福利 (C) 國防支出 (D) 教育科學文化。

() 20. 為期兩天的「台客搖滾嘉年華會」在台中市開唱，幾千名的搖滾迷狂歡後，留下滿地的垃圾，10多名清潔人員花了一整天的時間，清出600多袋的垃圾。請問：這些搖滾迷的行為造成何種影響？(A) 分散風險 (B) 機會成本 (C) 外部成本 (D) 外部效益。

() 21. 我國地方政府籌措財源的方式，包括下列何者？(甲)依據地方特有資源規畫活動，增加收入 (乙)興建公共停車場、風景遊樂區、觀光市場等增加收入 (丙)依法徵收所得稅、地價稅、土地增值稅 (丁)以公共造產方式增加收入 (A) 甲乙丙 (B) 甲乙丁 (C) 乙丙丁 (D) 甲丙丁

() 22. 我國中央政府有五項治權，地方政府擁有的是其中哪兩項？(A) 司法、立法 (B) 行政、司法 (C) 行政、立法 (D) 考試、監察

() 23. 在民主國家中扮演監督政府重要角色，被稱為第四權的是指下列何者？(A) 行政院 (B) 立法院 (C) 監察院 (D) 傳播媒體。

() 24. 大有國正在推行健康保險制度，右表為四位投保者的薪資與保險費明細表。根據表中資料判斷，該國個人健康保險費繳納金額的多寡，是根據經濟學上何種概念而設計的？(A) 受益原則 (B) 需求法則 (C) 比較利益原理 (D) 負擔能力原則。

姓名	薪資 (元/月)	保險費 (元/月)
張小明	19,600	98
陳大強	33,000	165
林卡好	49,000	245
李大同	64,000	320

() 25. 政府組織經修憲後，精簡了「省」的組織，下列有關「精省」的敘述，何者錯誤？(A) 民國 86 年修憲後，將省政府予以「虛級化」 (B) 將省長改為「省主席」，省議員改為「省諮議員」 (C) 省諮議員的產生方式與省主席相同 (D) 省成為行政院的派出機關，受立法院監督。

() 26. 政府主要收入來自於人民的納稅，因此人民有權利監督政府經費的使用。關於我國中央政府經費運用的流程，請問下列何者正確？(A) 立法院提出預算案 → (B) 行政院審核預算案 → (C) 司法機關執行預算 (D) 監察院審計部審核決算。

() 27. 阿霖在網路上開設虛擬商店銷售貨品，並以營利為目的，而他的交易所得也納入所得稅的課徵範圍。上述所得稅的課徵，是依據經濟學的何種概念而設定的？(A) 受益原則 (B) 供給法則 (C) 比較利益原則 (D) 負擔能力原則。

() 28. 政府近年來興建許多自行車道，受到民眾的肯定和喜愛，並廣為使用。請問：這是屬於政府發揮的哪一項經濟功能？(A) 維持公平交易 (B) 保障私有財產 (C) 提供公共財 (D) 改善所得分配。

() 29. 關於行政機關與立法機關的配對，下列何者正確？(A) 新竹市政府—新竹縣議會 (B) 嘉義市政府—嘉義市代表會 (C) 屏東縣政府—屏東縣議會 (D) 宜蘭市政府—宜蘭市議會

- () 30. 自 99 年開始，納稅義務人繳納國稅，除採信用卡繳稅外，其餘繳稅方式，均由政府編列經費負擔手續費，民眾免付手續費。請問：下列哪些屬於國稅？(甲)遺產及贈與稅(乙)地價稅(丙)娛樂稅(丁)所得稅(戊)關稅 (A) 甲丙丁 (B) 丙丁戊 (C) 甲丁戊 (D) 甲乙丙
- () 31. 今年暑假媽媽帶著即將就讀國一的小帆從臺北坐火車環島旅行。下列是他們所到的景點，請問：他們所到之處何者與臺北市屬於同一層級的地方政府？(甲)臺中市—科學博物館(乙)臺南市—赤崁樓(丙)高雄市—愛河河畔(丁)屏東縣—墾丁國家公園(戊)卑南鄉—知本溫泉
(A) 甲乙丁 (B) 甲乙戊 (C) 丙丁戊 (D) 甲丁戊

二、題組 (每題2.5分)

1. 根據行政院人事行政局修訂的規定，颱風過境達停止辦公及上課標準為「未來四小時內暴風圈可能經過的地區，其平均風力達七級以上，或陣風超過十級以上。」若局部地區因地形、雨量、交通等特殊狀況的影響，導致辦公 或上課困難者，各縣市政府得依法逕行決定，並通報宣布停止上班或上課。

- () 32. 根據內容判斷，上述做法旨在發揮下列何種功能？
(A) 因應社會變遷 (B) 強化災難應變 (C) 增建公共設施 (D) 增加社會救助。
- () 33. 上述因應各地情況差異，由各縣市政府決定並負責的做法，最符合下列何種精神？
(A) 地方自治 (B) 主權在民 (C) 民族自治 (D) 權力分立。
2. 新聞報導：「民眾在某家知名賣場購買的食品，包裝上所標示的製造日期卻是在購買日期的10天之後。民眾立刻向衛生局檢舉，衛生局稽查人員前往賣場抽檢，果然發現五包同樣的「未來商品」，賣場也立即將該食品下架，表示願意負一切責任。衛生局稽查人員表示，商品標示出現錯誤，可以引用《食品衛生管理法》，針對製造商處3到15萬元的罰款；而賣場在道義上，應該要幫客戶做好把關工作，以免影響聲譽，得不償失。」。請問：
- () 34. 上述內容中，衛生局稽查人員到賣場抽檢商品，保障消費者的權益，是政府為人民提供的何種服務？(A) 提供公共財 (B) 處理外部效益 (C) 維持經濟活動的秩序 (D) 縮短貧富差距。
- () 35. 上述食品標示錯誤，可能影響到消費者的權益與食用安全，這種現象稱為下列何者？
(A) 公共財 (B) 外部效果 (C) 商業機密 (D) 經濟支出。
- () 36. 賣場販售商品，有銷售行為，依法應繳納下列何種費用？
(A) 房屋稅 (B) 贈與稅 (C) 地價稅 (D) 營業稅。

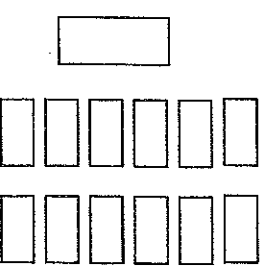
非選擇題作答卷，此張考卷須繳回，請監考老師協助收取

班級： 座號： 姓名：

三、非選擇題：10分 (請將答案寫在下方的作答區)
 以下是阿達上公民課-「政府的收入」時所抄寫的筆記。

政府的收入項目	實例
罰款 租稅 規費 舉債收入 財產收入 公營事業盈餘收入	a. 每年五月民眾繳交所得稅。 b. 罵人「三字經」法官判罰 5000 元。 c. 政府為了籌集建設資金而發行的一種債券。 d. 軍方開置酒公司銷售「花雕雞泡麵」，廣受消費者的歡迎。 e. 台灣菸酒公司銷售「花雕雞泡麵」，廣受消費者的歡迎。 f. 汽車車主每 3 年必須強制換發一次行照，並且繳 200 元的費用。 g. 台灣糖業公司發展多元化，設置生物科技事業部，期盼能帶來漂亮的營業額成績單。 h. 交通部通過春節輸運計畫，宣布在 9 天年假中，高速公路每天凌晨 1 點至 7 點暫停收費。

問題：請你協助阿達將「政府的收入」的內涵用階層圖的方式分類，再將實例的代號納入階層圖進行連結。(階層圖的畫法，請參考右圖。並請自行畫出階層圖。)



作答區：

基隆市立武崙國民中學106學年度第一學期第二次段考歷史科考試卷

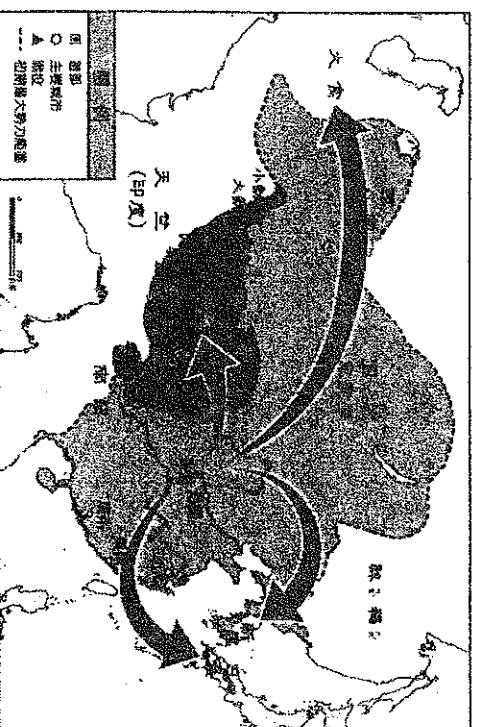
年 班 座號： 姓名：

一、單一選擇題：每題2分，共94分

- () 「烽火連三月，家書抵萬金」是描述唐朝安史之亂時，百姓流離失所的情景。請問：因這種反映社會現實風格而被稱為「詩聖」的是何人？ (A)李白 (B)王維 (C)杜甫 (D)白居易。
- () 唐憲宗時，白居易擔任地方上的縣尉，有感於當地民間流傳唐玄宗與楊貴妃的故事，於是創作了這首長篇敘事詩《長恨歌》。詩句中提及：「漁陽擊鼓動地來，驚破霓裳羽衣曲」的詩句，指的應該是唐朝的哪一場動亂？ (A)玄武門之變 (B)黃巢之亂 (C)安史之亂 (D)藩鎮割據。
- () 「大化」在日語中的意思是偉大的變化，大化革新在日本歷史上帶來了巨大的變革，下列關於大化革新的敘述，何者正確？ (A)日本明治天皇在位時所推行 (B)是一個唐化運動 (C)目的在學習中國的文化和道教 (D)因大化革新而有「君子國」之稱。
- () 同學們將「安史之亂」與「黃巢之亂」作了比較，下列何人的敘述正確？ (A)小夫：前者發生地點以長江流域為主 (B)大雄：後者破壞江南經濟，加速唐朝滅亡 (C)靜香：均是胡人將領起兵叛變 (D)胖虎：均是和宦官干政有關。
- () 哆啦A夢乘坐時光機來到盛唐時期的首都長安城，觀察當地的城市風貌，他無法遇到下列哪一情形？ (A)城市街道整齊，棋盤式規畫 (B)坊市之間築牆區隔，畫分明顯 (C)商店內大家喝著葡萄酒，欣賞「胡舞」表演 (D)商人拿飛錢進行買賣，紙幣流通快速。
- () 有關魏晉南北朝時期「清談」的敘述，下列何者正確？ (A)內容以《老子》、《莊子》、《詩經》為主，合稱「三玄」 (B)是一種拋棄現實，崇尚玄理的談論 (C)受儒家思想影響的人生觀 (D)興起的背景是因為秦始皇「焚書坑儒」的結果。
- () 結束南北朝長期分裂局面，使中國又歸統一的人物是誰？ (A)劉邦 (B)楊堅 (C)曹丕 (D)司馬炎。
- () 附表為唐代部分人口統計表，造成當時人口變遷的因素為何？

年 號	西 元	人 口 數
唐玄宗天寶十四年	755年	約5291萬
唐肅宗上元元年	760年	約1699萬
- (A)安史之亂 (B)黃巢之亂 (C)宦官之禍 (D)藩鎮割據。
- () 小丸子的歷史報告中提及：(甲)黃巾之亂(乙)黃巢之亂(丙)朱一貴之亂(丁)郭懷一之亂。請問：小強報告的主題為何？ (A)歷代的民變之亂 (B)歷代的宗室之亂 (C)歷代的權臣之亂 (D)歷代的宦官之亂。
- () 王澄即將上任荊州刺史，許多賓客前來道賀，王澄居然脫光衣服，爬到樹上，又把頭伸到鸚鵡巢裡張望，玩弄巢裡的鳥蛋，完全旁若無人似的。此一行為，反應中國歷史哪一階段，社會盛行此種不顧禮教、放蕩不羈的風氣？ (A)兩漢 (B)魏晉南北朝 (C)隋代 (D)唐代。
- () 下列是靜香在歷史筆記上記載赤壁之戰的始末。請問：哪一項是正確的？ (A)發生於三國時代 (B)戰爭地點在今黃河流域 (C)勝利者是曹操 (D)結果奠定三強鼎立的基礎。
- () 唐三彩是中國唐代的藝術精華，有些唐三彩女俑身著窄袖的胡服，與寬袖的漢服，其藝術


- 造型反映了當時唐朝社會何種風貌與時代特徵？ (A)男女平等的開放社會 (B)上品無寒門，下品無世族 (C)女子需遵從三從四德 (D)中外文化兼容並蓄。
13. ()西晉末年，起兵攻進洛陽、俘虜晉懷帝，及正式結束北方五胡十六國混戰局面的外族分別是下列何族？ (A)匈奴、鮮卑 (B)匈奴、羌族 (C)氐、匈奴 (D)鮮卑、氐族。
14. ()有一位史家曾在他的著作中指出：「這一條動脈的暢通與停滯，足以決定唐、宋國運的盛衰隆替，其關係的密切簡直有如真正的動脈之於身體那樣。」他所說的「動脈」應是指下列何者？ (A)馳道 (B)運河 (C)長城 (D)絲路。
15. ()皇帝先是任命「他」為平盧節度使，後又兼任范陽、河東兩節度使，以一個胡人能獲得皇帝如此寵信的，「他」是第一人；然而「他」卻背叛朝廷，為亂天下。請問：「他」所發起的這一場動亂，最後被何人所平定？ (A)安祿山 (B)黃巢 (C)朱溫 (D)郭子儀。
16. ()唐太宗曾說：「自古皆貴中華，賤夷狄，朕獨愛之如一。」此話說明了唐代社會文化的哪個特色？ (A)華夷一家 (B)重男輕女 (C)重文輕武 (D)種族歧視。
17. ()漢承秦制，唐承隋制，都創造了不朽盛世，但秦、隋卻僅二世而衰落，其原因為何？ (A)草原民族入侵 (B)立國基礎不穩 (C)過度耗用民力 (D)宦官權臣專政。
18. ()小夫在《中國歷史地圖集》中看到附圖，若根據圖中箭頭的方向來看，此圖的標題應該為何？



- (A)西漢張騫出使西域圖 (B)唐朝安史之亂路線圖 (C)佛教傳入中國示意圖 (D)唐文化向外傳播示意圖。
19. ()有句成語：「門當戶對」是用來形容結親的雙方家庭有類似的經濟和社會地位。請問：這句成語最適合用來形容下列哪一個時期的社會特色？ (A)春秋時代 (B)戰國時代 (C)魏晉南北朝 (D)夏商周三代。
20. ()隋唐時代，最仰慕中國文化的是哪個國家，甚至有「君子國」的稱號？ (A)大食 (B)新羅 (C)吐蕃 (D)天竺。
21. ()小強到古都洛陽遊歷，看到一座翻修過的古老佛寺。導遊說：「這座佛寺是中國最早的佛寺，曾有高僧在此翻譯佛經，對佛教的傳布貢獻極大。」這座佛寺最早應建於何時？ (A)東漢 (B)曹魏 (C)西晉 (D)唐代。
22. ()隋唐是中國佛教的鼎盛時期，唐太宗年間赴印度求學，把西行取經的見聞寫成《大唐西域記》一書，對中國佛教的發展有很大貢獻的是何人？ (A)李白 (B)文成公主 (C)玄奘 (D)王昭君。
23. ()西晉演變成東晉，是下列哪一史事發生的結果？ (A)黃巾之亂 (B)赤壁之戰 (C)八

王之亂 (D)永嘉之禍。

24. ()三國時代正式結束，天下再歸統一，是在哪一件事之後？ (A)司馬炎篡曹魏 (B)司馬炎平孫吳 (C)赤壁之戰 (D)曹魏滅蜀漢。
25. ()五代十國時期，五代為後梁、後唐、後晉、後漢、後周五個政權；其他地區也陸續出現多個割據政權，總稱「十國」。請問：有關五代與十國的比較，下列何者正確？ (A)前者位於長江流域 (B)前者是同時間存在的政權 (C)五代十國皆始於宋溫篡唐之後 (D)五代十國實質上為唐朝民亂的延續。
26. ()史書上記載：「四夷君長詣闕請上為天可汗」、「群臣及四夷，皆稱萬歲」，請問：上述史事發生在哪一事件之後？ (A)秦王嬴政滅六國，統一天下 (B)唐太宗滅東突厥 (C)隋煬帝三征高麗 (D)漢武帝派張騫出使西域。
27. ()當時許多外族透過海路與陸路交通進入唐帝國，引進多彩多姿的文物及文化。請問：在唐朝流行的外來宗教中，何者不是在當時傳入中國的宗教？ (A)佛教 (B)景教 (C)伊斯蘭教 (D)摩尼教。
28. ()唐憲宗曾經說「軍國費用，取資江南。」韓愈在《十九送陸歙州詩序》：「當今賦出於天下，江南居十九。」這兩項資料反映哪一個現象？ (A)來自江南的稅收僅占全國的百分之十九 (B)南方文風鼎盛，漢賦文章作品占絕大多數 (C)當今的國家財政收入，絕大多數來自江南地區的稅收 (D)江南地區人民生活富庶，樂於繳交稅賦，捐款作軍費。
29. ()唐代安史之亂平定後，中晚唐時期政局日益紊亂，直到唐亡。歸納導致唐帝國滅亡的原因不包括下列何者？ (A)藩鎮割據 (B)宦官專政 (C)黨爭紛擾 (D)外患入侵。
30. ()小嘉嘉在《中國工業發展史》中，看到一張插圖(如附圖)，請問：此項技術是在何時西傳？



造紙術

31. ()永嘉之禍後 (B)張騫出使西域後 (C)怛羅斯之役後 (D)黃巢之亂後。
()附表有關魏、蜀、吳三國建國後的敘述，何者正確？

項目	魏	蜀	吳
(甲)建國者	曹操	劉禪	孫權
(乙)分布位置	北方	西南	東南
(丙)建國順序	1	3	2
(丁)滅亡順序	3	1	2

(A)甲 (B)乙 (C)丙 (D)丁。

32. ()隋唐時代佛教宗派林立，這些宗派融入中國思想，完成了佛教的中國化，其中以哪一派最具代表性？ (A)淨土宗 (B)唯識宗 (C)密宗 (D)禪宗。
33. ()西漢與東漢政權都因被篡位而亡國，兩者分別為何人所篡？ (A)劉秀、曹操 (B)王莽、曹操 (C)王莽、曹丕 (D)劉備、曹丕。
34. ()隋文帝與隋煬帝在位時曾推動許多措施，其中不包括何者？ (A)營建新都 (B)開鑿運河 (C)實施科舉 (D)修築馳道。
35. ()中國歷史的發展從黃帝以來，重心一向在北方的黃河流域，然今日我們可以發現中國大

- 陸發展的重心有南重於北的情況。請問：中國經濟重心南移的關鍵時代是在何時？(A)漢朝 (B)魏晉南北朝 (C)隋唐 (D)宋元。
36. () 小明參觀佛寺之後，隨後又到佛教著名的石窟去觀賞佛教藝術之美，發現佛教在魏晉南北朝時才廣為流傳，下列何者「非」魏晉南北朝佛教盛行的原因？(A)因政局動盪不安，人們需要精神上的寄託 (B)佛經的大量翻譯，有助於人們對佛教的了解 (C)帝王提倡佛教，使佛教大為昌盛 (D)玄奘有系統的翻譯佛經，對佛教貢獻大。
37. () 這場為亂十六年的亂事，大大打擊了西晉王室的勢力，使西晉元氣大傷，反而給予境內胡人叛變的機會。請問：重傷西晉，間接造成西晉覆亡的是哪一個事件？(A)管蔡之亂 (B)八王之亂 (C)五胡亂華 (D)永嘉之禍。
38. () 隋煬帝多次從洛陽乘龍舟遊江都，隨行的船隻多達數千多艘，綿延二百多里，沿途百姓與官員爭相獻食。請問：煬帝從洛陽巡遊至江都依序要經過哪幾條運河？(A)廣通渠→通濟渠→邗溝 (B)廣通渠→永濟渠→江南河 (C)永濟渠→通濟渠→邗溝 (D)通濟渠→邗溝→江南河。
39. () 唐朝因國勢強盛，國內商業與國際貿易都很發達，經常有各國商人來到中國沿海港口貿易，唐朝為了管理日漸發達的海上貿易，設置了類似今日的海關，海關是現代的稱呼，當時稱為什麼？(A)商館 (B)會館 (C)市船司 (D)行郊。
40. () 接續上題，當時哪一港口設置了此機構，經常可以看到外商雲集的現象？(A)廣州 (B)上海 (C)香港 (D)廈門。
41. () 隋代、唐代均有明君，因而出現了人民安居樂業的治世。請問：
(甲)開元之治(乙)貞觀之治(丙)開皇之治。上述三治世依先後排列，正確的是何者？
(A)甲乙丙 (B)丙乙甲 (C)乙甲丙 (D)丙甲乙。
42. () 「開元」、「貞觀」、「開皇」之治等名詞由來是下列何者？(A)當時皇帝的年號 (B)當時皇帝的名字 (C)由史官取名的 (D)經過大臣議決而成的。
43. () 中國歷史上致力於胡漢融合的君主所在多有，其中魏晉時期有一君主以推行漢化政策留名於後，此為何人？(A)北魏孝文帝 (B)東漢光武帝 (C)西漢武帝 (D)西晉武帝
44. () 何人不但促進漢藏文化交流，亦有助佛教在西藏的發展？(A)王昭君 (B)文成公主 (C)鐵扇公主 (D)武則天。
45. () 隋唐時期，中國邊疆民族古今地名的演變，何者是不正確的？(A)大秦—阿拉伯 (B)吐蕃—西藏 (C)天竺—印度 (D)高麗—韓國。

小智發現世族的形成非一朝一夕可成，在古代通常是家族中好幾代連續在朝為官，掌握權勢，久而久之，便形成家世顯赫的名門大族，阿維觀察在中國歷史發展過程中，世族在魏晉南北朝時地位最高。阿維想探索世族從興起至興盛的經過，請回答下列問題：

46. () 世家大族的形成可追溯至漢朝，與漢朝的哪一項制度有關？(A)封建制度 (B)察舉制度 (C)專賣制度 (D)經學取士。
47. () 漢朝的世族在魏晉南北朝的亂世中，不僅沒有因戰爭而衰微，反而因哪一項制度的實施，助長了世族勢力的發展？(A)察舉制度 (B)封建制度 (C)九品官人法 (D)科舉制度。

◎還有第二大題非選題，請繼續作答。

基隆市立武審國民中學106學年度第一學期八年級 歷史科

年 班 座號： 姓名：

一、單選題、讀卡分數94%	二、非選題分數6%	合計

◎請用藍色或黑色原子筆書寫

二、非選題：6%

1. 唐太宗曾嘆曰：「夫以銅為鏡，可正衣冠；以古為鏡，可知興替。以人為鏡，可明得失。朕常保此三鏡，以防己過。」
這是唐太宗在朝臣魏徵病死後，寫下的感嘆之詞，後世皆以唐太宗和魏徵為明君忠臣的典範。

唐太宗在位期間，雖奠定了唐朝富強的基礎，而玄武門之變中弒兄殺弟，卻也是人生中最大的污點。古今政權的演變中夾雜多少的兄弟鬩牆、人倫悲劇。想想看，若你是唐太宗李世民，面對親情、面對政權，你會如何選擇？為什麼？(3%)

2. 中國歷史上唯一的女皇帝武則天，死後和唐高宗合葬，政權又從武周回到李唐的天下。武則天的墓前立了一塊無字碑，留待後人自己去評價這位爭議性的女皇帝。請你說說看你對這女皇帝的想法？(3%)