

基隆市立武崙國民中學 106 學年度第一學期第二次段考九年級地理科試題卷

班級：_____

姓名：_____

座號：_____

一、選擇題：共 29 題，每題 2 分，滿 58 分

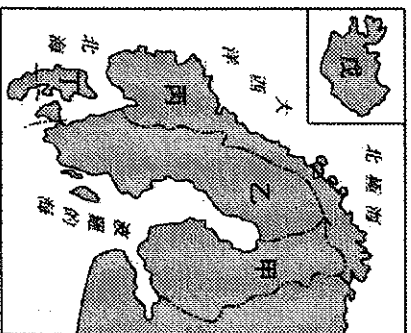
1. () 瑞士位於阿爾卑斯山區，地形崎嶇、交通不便，因而發展出何種舉世聞名的產業？(A)紡織成衣 (B)汽車零件

(C)精密鐘錶 (D)半導體研發。

2. () 英國曾有「日不落國」之稱，請問此名稱的由來和下列哪項因素關係最密切？

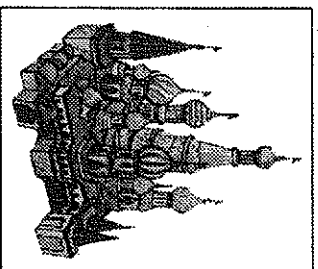
(A)海外殖民地多 (B)跨國企業眾多
(C)最早工業革命 (D)零度經線通過。

3. () NOKIA 原本是一間以伐木和造紙為主的公司，曾一度發展成世界最大的手機製造商，如今手機部門早已轉賣並畫下休止符。請問其母公司國家的位置與國名配為何？



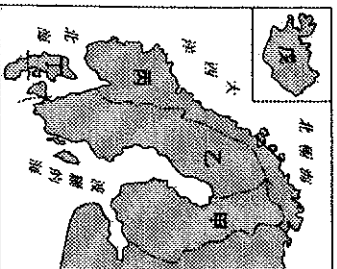
(A)甲，挪威 (B)甲，芬蘭
(C)乙，芬蘭 (D)乙，瑞典。

4. () 右圖為位於莫斯科紅場的聖瓦西里大教堂，面積並不巨大卻擁有九個禮拜堂以及色彩繽紛的屋頂。請問：此教堂是哪個宗教的信仰中心？



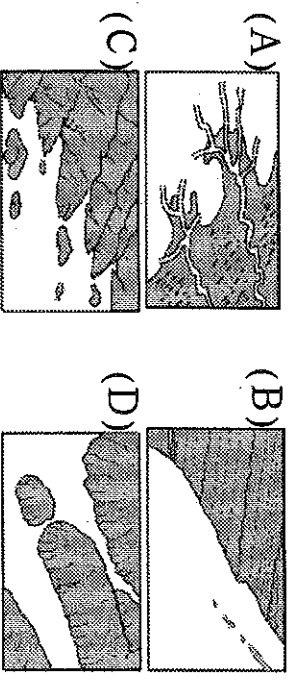
(A)神道教 (B)東正教 (C)天主教
(D)伊斯蘭教

5. () 北歐五國分有「冰火王國」、「歐洲牧場」、「千湖國」、「峽灣國」之稱，請問這些名稱依序是右圖中的哪些國家所擁有？(A)甲、乙、丙、戊



(B)丙、乙、戊、丁
(C)戊、丁、乙、丙
(D)戊、丁、甲、丙

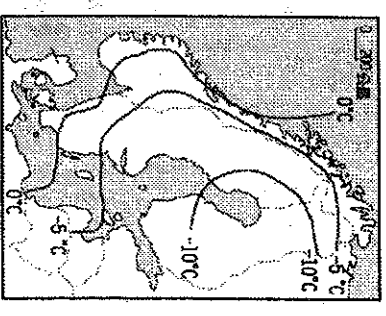
6. () 挪威除了擁有海岸地形的優勢更受益於北大西洋暖流帶來的不凍港，因此航運業十分發達，請問挪威擁有的海岸地形為下列哪一張圖所示？



7. () 俄羅斯在西伯利亞地區有多條缺乏航運價值的大型河川，請問這些河川可能面對航運欠佳的問題為下列哪一些？

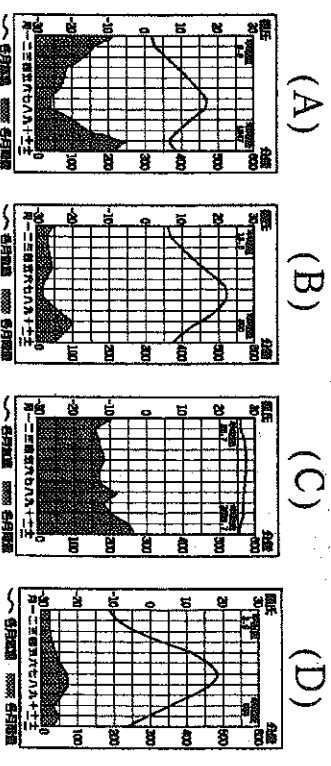
(甲)坡度流急 (乙)冰封期長 (丙)流向不佳 (丁)流量太小。
(A)甲乙 (B)甲丙
(C)乙丙 (D)丙丁。

8. () 右圖為北歐一月均溫分布圖，請問其分布受到下列因素影響？



(甲)地形 (乙)緯度
(丙)暖流 (丁)西風
(A)甲、乙 (B)甲、丁
(C)乙、丙 (D)丙、丁

9. () 新婚的心雅預計到法國蔚藍海岸度蜜月，請問他需要參考哪一張氣候圖來了解當地的氣候概況？



10. () 多瑙河流經歐洲許多國家，但航運價值卻不如長度較短的萊茵河，為了提升多瑙河的航運價值，歐洲人採取的方法為下列哪一項？(A)興建運河聯通 (B)簽署申根公約 (C)修建水壩調節 (D)疏濬淤積河道。 (1/4)

11. () 東歐素有「政治破碎帶」與「歐洲火藥庫」之稱，長期戰爭及衝突不斷，請問其形成的地理背景最可能是下列何者？
- (A) 蘊含豐沛石油 (B) 氣候乾燥缺水
(C) 民族宗教複雜 (D) 海運交通要衝。

12. () 請依序排列出與甲、乙、丙、丁敘述對應的東歐國家？

甲	早期發展軍火工業，奠定工業基礎，近來吸引外資企業投資設廠，經濟快速成長
乙	位於前蘇聯與德國兩大強國間，地形平坦無屏障，昔日飽受戰火摧殘，疆域多變
丙	歐洲面積第二大國家，有豐富礦產和大片黑土帶，有『歐洲糧倉』之稱，農、工業發達
丁	地形平坦且土地肥沃，農產量高，且以溫泉療效帶動觀光發展

- (A) 捷克、波蘭、烏克蘭、匈牙利
(B) 波蘭、烏克蘭、匈牙利、捷克
(C) 匈牙利、捷克、波蘭、烏克蘭
(D) 捷克、波蘭、匈牙利、烏克蘭。

13. () 若搭乘直升機由北極海越過西伯利亞往南飛，請問從高空鳥瞰西伯利亞的林相變化為何？ (A) 針葉林→苔原
(B) 苔原→闊葉林 (C) 針葉林→闊葉林
(D) 苔原→針葉林。

14. () 德、法兩國分別蘊藏哪項豐沛的礦產資源，使得彼此重工業都十分發達？

- (A) 德-鐵；法-煤 (B) 德-煤；法-鐵
(C) 德-鐵；法-銅 (D) 德-鋁土；法-銅。

15. () 承上題，德法兩國的礦產資源透過哪種運輸方式達到互換互利，有助於兩國經濟高度發展？

- (A) 網狀密佈的鐵路系統
(B) 便捷發達的內河航運
(C) 暢行無阻的北海海運
(D) 高科技管理的管線運輸。

16. () 下列哪一項不是德國成為歐洲最大經濟體的優勢？(A) 位於氣候的過渡地帶
(B) 便捷的內河航運系統
(C) 實事求是的民族特性
(D) 完善的技職教育體系。

17. () 雅琪到荷蘭旅遊發現許多販賣傳統木鞋的店家，她因此挑選了一雙當作伴手禮準備回臺灣送給家人，請問木鞋成為荷蘭重要的傳統跟下列何者關係最密切？

- (A) 地勢低窪潮濕 (B) 森林資源豐沛
(C) 缺乏動物獸皮 (D) 傳統祈福信仰。

18. () 荷蘭除了有『風車之國』的號稱外，近期也積極與皇家殼牌石油公司在北海開發全球最大的離岸風力發電場，請問風力發電機組的扇葉需要朝哪個方向才能產生較大的動能？

- (A) 東方 (B) 西方
(C) 南方 (D) 東北方。

19. () 北海油田為世界著名的石油集中出產區，每天約可提供 600 萬桶石油的產出，請問有哪些國家可以共享北海石油的利益？

- (甲) 法國 (乙) 德國 (丙) 瑞典 (丁) 英國
(戊) 荷蘭 (己) 丹麥 (庚) 挪威 (辛) 芬蘭
(壬) 比利時 (癸) 立陶宛
(A) 甲乙丙丁壬 (B) 乙丙丁庚辛
(C) 乙丁戊己庚 (D) 乙戊己壬癸。

20. () 西歐人工運河的興建多東西向的主要原因為下列哪一項？

- (A) 山脈走勢多南北向
(B) 天然河道多南北流向
(C) 國家界線多東西走向
(D) 建築功法較有利於東西向修築。

21. () 東歐國家早期實施社會主義與□□經濟，使得民生工業發展薄弱，經濟相對於歐洲其他區域落後許多，請問□□所代表的是下列哪種經濟類型？

- (A) 市場 (B) 共產 (C) 獨裁 (D) 計畫
22. () 承上題，經濟發展積弱不振的東歐在哪一個事件後各國的產業才得以紛紛轉型，經濟逐漸復甦？

- (A) 歐盟成立 (B) 蘇聯解體
(C) 納粹倒台 (D) 工業革命。

23. () 東歐的經濟轉型使得部分國家得以加入歐盟，請問這些東歐國家在歐盟主要扮演哪一種角色？(A)資金與技術提供 (B)代工與零組件生產 (C)精密儀器設備設計 (D)第一級產業產品輸出。
24. () 東歐地形南北差異大，北部主要為地勢平坦的歐洲大平原，南部則多山地丘陵，請問南北地形區的分界主要是下列何者？(A)多瑙河 (B)鄂畢河 (C)阿爾卑斯山 (D)喀爾巴阡山。

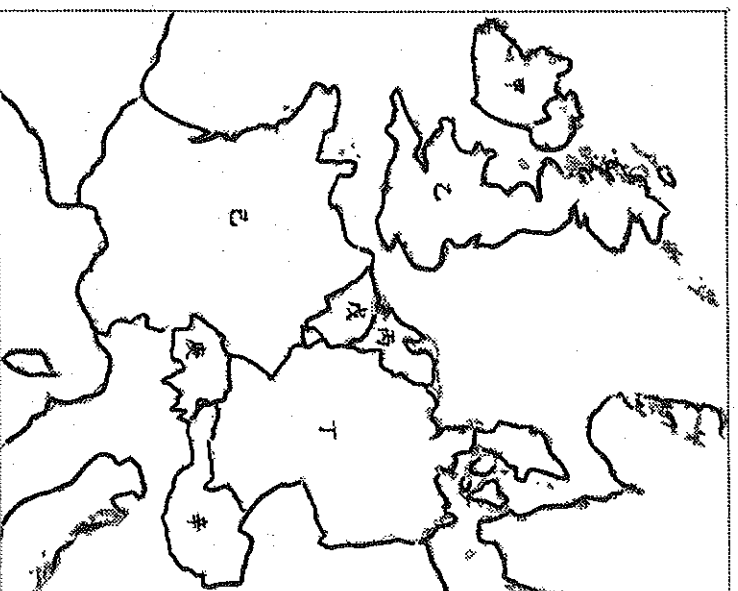
25. () 關於俄羅斯在歐俄平原和東南沿海地區雨量較多的原因，下表敘述何者正確？

	歐俄平原	東南沿海
(A)	夏季西風吹拂	夏季東南季風吹拂
(B)	冬季西風吹拂	夏季西南季風吹拂
(C)	北大西洋暖流調節	黑潮調節
(D)	極圈氣旋帶籠罩	親朝調節

26. () 由於俄羅斯過度依賴某項產業活動，使得經濟發展容易受到市場價格波動影響，為了改善此一現象並減低經濟發展風險，俄羅斯需要調整產業結構並提高其他產業的比重。請問俄羅斯過度依賴的產業是下列何者？(A)能源礦產出口 (B)機械設備製造 (C)軍火工業輸出 (D)金融商務投資。
27. () 西伯利亞大型河川在春末夏初容易因融冰而氾濫成災的最主要因素為下列何者？(A)上下游的地勢落差懸殊太大 (B)伐木業將木材集中河道運輸 (C)夏季融冰導致河川流量暴增 (D)河川流向由相對低緯往高緯。
28. () 下列哪一項並非西歐成為今日歐洲發展核心的因素？(A)最早開始工業化 (B)殖民累積豐厚資金 (C)希羅古文明發源地 (D)海陸位置優越貿易發達。

29. () 俄羅斯人口主要集中在歐俄平原是因為當地自然環境較佳，然而西伯利亞南部也是俄羅斯另外一個人口集中區，請問此地人口集中的優勢為何？(甲)緯度較低 (乙)土壤肥沃 (丙)灌溉便利 (丁)鐵路經過 (戊)工業區所在 (A)甲、乙、丙 (B)乙、丙、丁 (C)甲、丁、戊 (D)丙、丁、戊。

二、題組題：共 11 題，每題 3 分，滿 33 分
 ✎請根據附圖回答第 30~32 題：

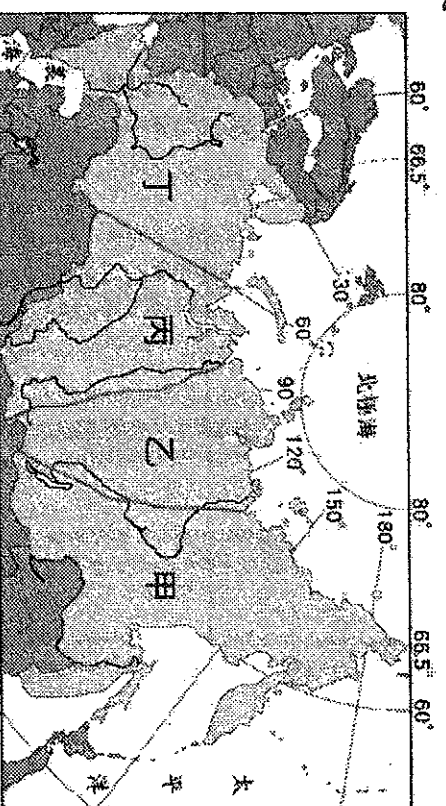


30. () 『氣候隨地勢高低呈現垂直變化，自然風光明媚，有世界公園之美名』，請問這是對哪一個國家的描述？(A)乙 (B)丁 (C)庚 (D)辛。
31. () 『該國時尚產業與特色美食聞名全球，有花都之稱的首都更有許多知名景點值得一遊，浪漫氛圍瀟灑全境』，請問上文描述的國家及首都為下列何者？(A)乙，倫敦 (B)丁，柏林 (C)己，巴黎 (D)辛，維也納。
32. () 請問下列哪一項對於『戊』國的描述是正確的？(A)鐵礦豐富並為金融中心 (B)盛產鑽石且加工技術聞名全球 (C)首都都是歐盟和北約總部的所在地 (D)音樂氣息濃厚許多音樂家活躍於此

❧北歐各國的自然條件嚴苛，但卻也受利於豐沛的天然資源使得國民所得普遍高於世界水平。請回答第 33~36 題：

33. () 請問哪些自然環境的限制使得芬蘭致力於無線通訊產業的發展？(甲)多火山地震 (乙)氣候嚴寒 (丙)地廣人稀 (丁)峽灣地形崎嶇 (戊)管線鋪設成本高
(A)甲、乙、丙 (B)乙、丙、戊
(C)乙、丙、丁 (D)丙、丁、戊。
34. () 冰島地處高緯，蔬果的種植成為必須克服的巨大挑戰，請問當地居民善用哪些策略來取得農業資源？(A)運用地熱與水力的廉價電力發展溫室栽培 (B)利用便捷的交通與鄰近市場的優勢轉型畜牧業 (C)利用暖流與深邃的峽灣轉型水產養殖業 (D)透過便捷的海上貿易發展漁業與蔬果交換貿易。
35. () 瑞典家具品牌 IKEA 名聞全球，造紙業也發展蓬勃，請問這是受利於瑞典哪項優勢？(A)政府政策大力推動 (B)品牌設計美學獨特 (C)維京手作文化傳承 (D)針葉林產資源豐富。
36. () 北歐以社會福利制度健全著稱，然而『從搖籃到墳墓』的完善救助與保障需耗費龐大的經費，這些資金來自於人民高比例的賦稅，請問當前北歐各國面臨稅收減少甚至會影響福利制度運轉的最主要原因為下列何者？
(A)生育率持續偏低納稅人口變少
(B)多數人坐享福利不願勞動付出
(C)物價上漲導致人民無力繳賦稅金
(D)失業率攀升導致需救助的人增多。

❧請根據附圖回答第 37~40 題：



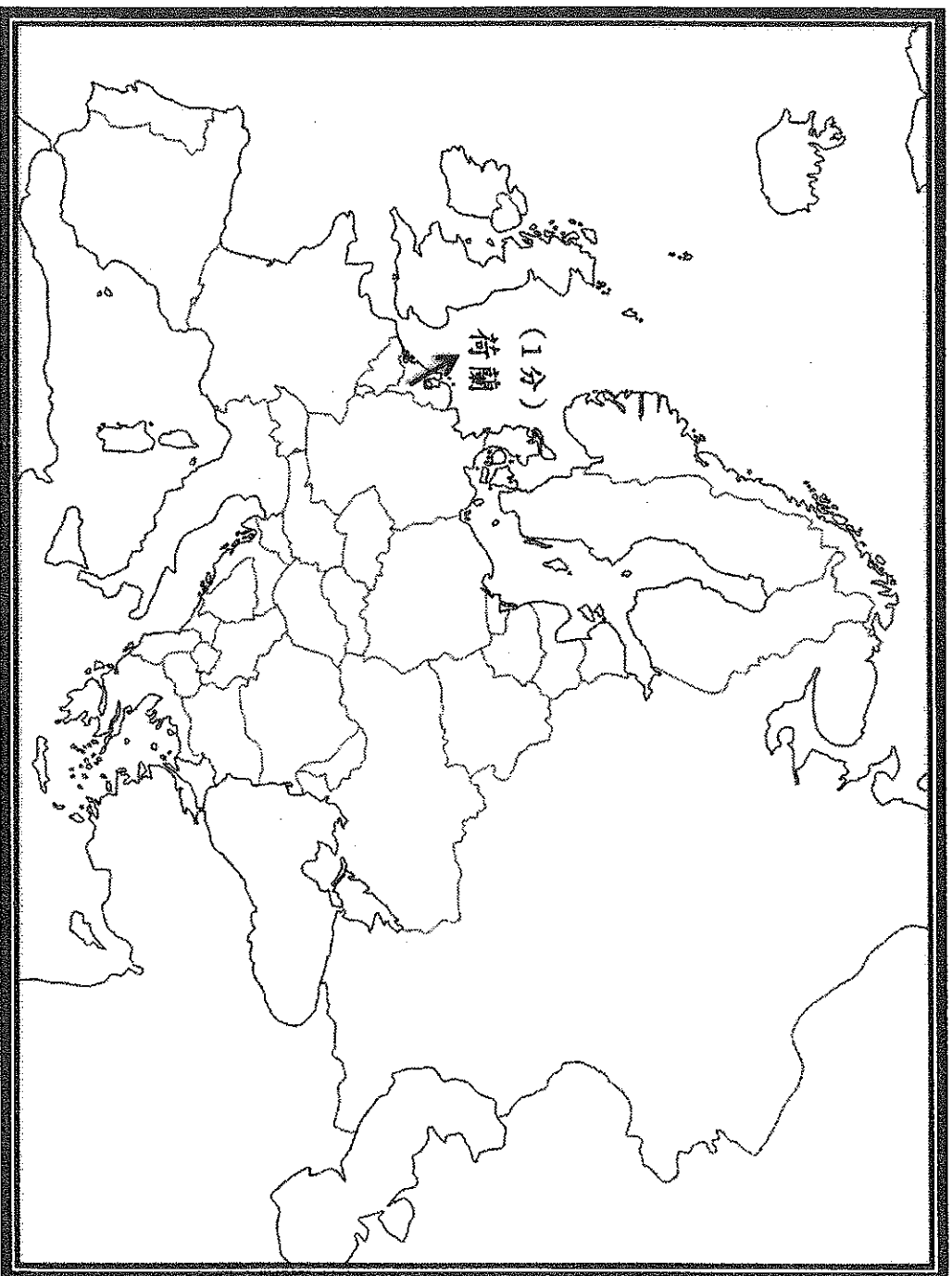
37. () 請問上圖的甲、乙、丙、丁分別為哪種地形？(A)平原、平原、高原、山地
(B)平原、山地、高原、平原
(C)山地、平原、高原、平原
(D)山地、高原、平原、平原
38. () 哪一個區域因地形平坦、黑土分布，所以農業十分發達，是俄羅斯的精華區？
(A)甲 (B)乙 (C)丙 (D)丁。
39. () 請問哪一個地形區位於勒那河和葉尼塞河之間，為古老地塊且石油和天然氣蘊藏豐富？
(A)甲 (B)乙 (C)丙 (D)丁。
40. () 哪一個地形區因『鄂畢河』流經，流速慢、排水差，導致多凍土及沼澤遍佈？
(A)甲 (B)乙 (C)丙 (D)丁。

後面尚有非選擇試題 (共 9 分)，
請繼續作答，測驗完畢後，
請繳交答案卡及非選擇題試卷

基隆市立武崙國民中學 106 學年度第一學期第二次段考九年級地理科答案卷

三、非選擇題：共 9 分

假設你要前往歐洲自助旅行，並為家人及朋友帶回屬於該國的特色產品作為伴手禮。請你分別前往北歐、西歐及東歐及歐俄的一個國家，將此國家的國名寫在下面的地圖中，並完成下方表格。

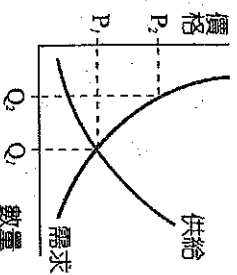


分區	選定一個國家寫出國名 (1 分) 並標示在上圖 (位置正確給 1 分)	寫出你選定國家的一項特色產品 (伴手禮選擇正確給 1 分， 填寫本試卷選擇題出現過之產品不予記分)
例如：西歐	荷蘭 (1 分)	木鞋 (1 分)
北歐		
西歐		
東歐及歐俄		

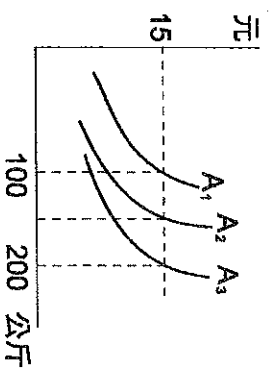
班級	姓名	座號	選擇題得分(91%)	非選擇題得分(9%)	總分

一、選擇題：(每題2分)

- () 1. 假設生產一部腳踏車，我國和日本都各需要二十勞動小時，生產一部汽車，我國需要三十勞動日，日本需要十五勞動日，在此情況下兩國應如何從事貿易？ (A)我國出口腳踏車，日本出口汽車 (B)我國出口汽車，日本出口腳踏車 (C)我國出口汽車，進口腳踏車 (D)日本出口腳踏車，進口汽車。
- () 2. 國與國之間貨幣的兌換比率稱為匯率，若原本美元兌新台幣的匯率為 1 : 30，而現在美元兌新台幣的匯率為 1 : 32，此項匯率的變動會對我國帶來何種影響？ (A)美元升值，有利於我國進口 (B)美元貶值，有利於我國出口 (C)新台幣貶值，有利於我國出口 (D)新台幣升值，有利於我國進口。
- () 3. 行政院公布消費券的發放方案，農曆年前，全國不分男女老少、不分貧富，每人都可以獲得 3600 元的消費券，用於購買各種零售商品，或是用於餐飲消費。下列有關消費券的敘述，何者有誤？
 (A)發放消費券可以刺激景氣回升 (B)發放消費券可以提高人民的購買力 (C)發放消費券會使政府的負債增加 (D)發放消費券會使政府的稅收減少。
- () 4. 今年夏天西瓜盛產，價格便宜。小丸子和美環各買了 10 斤西瓜，小丸子打算榨西瓜汁供家人食用；美環則打算在自己經營的味果果汁攤，增售西瓜汁，以提升銷售業績，請問：下列敘述何者正確？ (甲)小丸子購買的西瓜屬於商品 (乙)美環購買的西瓜屬於商品 (丙)美環購買的西瓜屬於生產要素 (丁)小丸子購買的西瓜屬於生產要素。
 (A)甲乙 (B)甲丙 (C)乙丁 (D)丙丁。
- () 5. 世界各國普遍使用「紙鈔」作為通行的貨幣，主要原因有 (甲)紙鈔本身具有高價值 (乙)紙鈔可以簽帳使用 (丙)政府透過法令強制其具有價值 (丁)紙鈔方便攜帶
 (A)甲乙 (B)乙丙 (C)丙丁 (D)甲丁。
- () 6. 每當颱風季節來臨，政府相關部會均預先擬妥政策，避免風災導致蔬果價格暴漲，以下哪些是可採行的方法？ (甲)自外國進口價格較低之蔬果 (乙)鼓勵消費者購買冷凍蔬菜 (丙)消費者事先搶購大量蔬果囤積 (丁)鼓勵消費者改買價格未波動的其他種類蔬果
 (A)甲乙丙 (B)乙丙丁 (C)甲丙丁 (D)甲乙丁。
- () 7. 就收入固定的軍公教及一般上班族而言，物價持續上漲對其生活福祉影響甚鉅，下列結果何者正確？
 (A)購買的能力降低，生活水準下降 (B)貨幣購買力提升，生活福祉增加 (C)儲蓄的比率增加 (D)貨幣價值與物價成正比。
- () 8. 小李是海鮮餐廳的老闆，為了提供客人新鮮的海鮮，他每天一大早到蚵仔頂魚市場挑選海鮮，請問此時蚵仔頂魚市場和下列哪一市場屬性相同？ (A)媽媽買菜的菜市場 (B)妹妹購買早餐的速食店 (C)哥哥參加的就業博覽會 (D)爸爸買股票的股票市場。
- () 9. 在日常生活中，每一件物品都有其不一樣的價格。請問：右圖中價格 P_1 稱為？
 (A)均衡價格 (B)官定價格 (C)買方價格 (D)賣方價格。
- () 10. 臺灣香蕉生產過剩，導致當平均批發價每公斤 20 元時，蕉農願意且可以出售 20 公噸的香蕉，但一般民眾卻只願意購買 15 公噸的香蕉。根據供需法則來判斷，香蕉最後成交的價格最不可能下列何者？ (A)10 元 (B)15 元 (C)18 元 (D)22 元。



- () 15. 對於「信用卡」的敘述，下列敘述何者正確？ (A)是貨幣的一種，又稱為塑膠貨幣 (B)是一種延期支付的交易型態 (C)可以完全取代現金交易 (D)分期攤還帳款，毋須付利息。
- () 16. 下列敘述，何者符合「絕對利益」的概念？ (A)從事某活動時，張三所獲得的利益優於另一人 (B)從事某活動時，張三的生產力優於另一人 (C)從事某活動時，張三的機會成本低於另一人 (D)從事某種活動時，張三的消费能力優於另一人。
- () 17. A國的稻米生產與消費，是由政府預估全國稻米的總需求量，然後推算需要多少耕地、調查哪些地方適合種植，以確定稻米的生產總量，稻米收成後由政府統一決定如何分配。上述經濟體制應屬於下列何種類型？ (A)統制經濟制度 (B)自由經濟制度 (C)市場經濟制度 (D)混合經濟制度。
- () 18. 目前全球貿易趨勢傾向於共同合作，如世界貿易組織(WTO)、歐洲聯盟等。以我國為例，加入世貿組織後，必須開放國內市場，此項開放政策，對臺灣的經濟發展有何影響？ (甲)貿易自由化使國內產業遭受低價產品競爭 (乙)消費者能夠買到的商品將更低廉，且種類更多 (丙)我國農產品價格低廉所以可大量外銷到國外 (丁)有助於各國分工合作，將較多資源投入在擅長發展的產業。 (A)甲乙丙 (B)甲乙丁 (C)甲丙丁 (D)乙丙丁。
- () 19. 兩國進行國際貿易時，下列做法，何者正確？ (A)進口本國擅長的產品，形成貿易支出 (B)出口本國擅長的產品，形成貿易支出 (C)出口本國擅長的產品，形成貿易收入 (D)進口本國短缺的物品，形成貿易收入。
- () 20. 選擇機會成本較低的工作進行分工，可使產量增加，這就是「比較利益」。下列哪項敘述不符合「比較利益原則」？ (A)天生我才必有用 (B)人盡其才，物盡其用 (C)天下沒有白吃的午餐 (D)一日之所需，百工斯為備。
- () 21. 右圖 A₂ 為素食店平時的供給曲線。今日因颱風來襲，蔬菜產量減少，使得素食店的生產成本增加，在不調整價格的情況下，其供給曲線會有怎樣的變化？ (A)A₂移至 A₁ (B)A₂移至 A₃ (C)A₂移至 A₃再移至 A₁ (D)不變。
- () 22. 全球股災，再加上以色列及巴勒斯坦又爆發流血衝突，使得油價飆漲，加深了人們對「通貨膨脹」之隱憂，請問「通貨膨脹」會造成哪些現象？ (甲)貨幣貶值，物價不斷上漲 (乙)領月退休的人生活水準提升 (丙)人們喜歡囤積商品 (丁)國民整體儲蓄會提高 (戊)黃金、地價會上漲 (A)甲丙戊 (B)乙丙戊 (C)甲乙丙 (D)甲乙戊。
- () 23. 志良加盟「喫茶趣」飲料店，不到三年連續開了 5 家分店。請問：從市場的型態來看，志良所經營的飲料店是屬於下列何者？ (A)有形市場、生產要素市場 (B)有形市場、商品市場 (C)無形市場、生產要素市場 (D)無形市場、商品市場。
- () 24. 我國中央銀行的主要功能在於那些？ (甲)辦理存款放款業務 (乙)保管國家黃金及外匯 (丙)調節國家貨幣的供給數量 (丁)輔助各類金融機構的正常運作 (A)甲乙丙 (B)甲乙丁 (C)甲丙丁 (D)乙丙丁。
- () 25. 臺灣目前正面臨低利率的時代。請問：當銀行利率持續降低時，對於民眾的理財會有什麼影響？ (A)民眾紛紛將錢存入銀行 (B)民眾將外幣兌換為臺幣 (C)降低民眾的消费欲望 (D)提高企業的投资意願。
- () 26. 小英到幸福國旅遊的第一天，在咖啡店喝了一杯定價 150 元的爪哇咖啡，第二天要離開時又到同一家店，卻發現同樣的爪哇咖啡，每杯定價已變成 400 元，請問：幸福國可能正面臨何種經濟問題？ (A)生產過剩 (B)通貨膨脹 (C)惡性競爭 (D)通貨緊縮。
- () 27. 來自窮苦偏鄉、不愛念書的吳實春，為實現自己的夢想，他北上展開艱辛漫長的麵包學徒生涯，在經歷多年努力後，終於讓他獲得「世界第一麵包師傅」的榮耀！針對吳實春師傅北上到麵包店當學徒的敘述，何者正確？ (A)他是商品市場的供給者 (B)他擔任學徒以獲得所得 (C)他是生產要素市場的需求者 (D)他擔任學徒以獲得銷售收入。
- () 28. 美香到冬季旅展購買旅遊行程，他選擇參加日本機加酒的自由行。請問：她所支付的各項費用中，何者的價格不是由市場機制決定？ (A)申辦護照費用 (B)旅館住宿費用 (C)航空公司機票 (D)購買伴手禮費用。



基隆市立武崙國民中學一〇六學年度第一學期第二次段考公民科試題

班級：九年

班座號：

姓名：

- () 29. 美美每個月在銀行戶頭中存入 10000 元作為留學基金。預計存滿一百萬後將啟程赴英國留學進修，請問：這是屬於貨幣的哪一功能？ (A) 價值衡量 (B) 交易媒介 (C) 價值儲存 (D) 清償債務。
- () 30. 國人飲用咖啡的頻率人口日漸升高，帶動連鎖咖啡店數逐年增加。據統計，國內前五大連鎖咖啡店數已達 600 多家，但我國咖啡豆大多賴進口，由此推論，下列敘述何者正確？ (A) 我國在生產咖啡豆上具有絕對利益 (B) 我國在生產咖啡豆上具有比較利益 (C) 咖啡豆的進口會為我國賺取外匯 (D) 新台幣升值有利我國進口咖啡豆。
- () 31. 阿明和阿華各自製作水餃和湯圓，阿明製作兩者皆具有絕對利益，且每分鐘產量相等，若依比較利益分工，阿明將因機會成本較低而負責製作水餃。根據上述內容判斷，下列何者最可能是阿明與阿華的商品產量表？

(A)

項目	阿明	阿華
湯圓	3	4
水餃	3	2

(B)

項目	阿明	阿華
湯圓	3	2
水餃	3	2

(C)

項目	阿明	阿華
湯圓	3	1
水餃	3	2

(D)

項目	阿明	阿華
湯圓	3	2
水餃	3	1

- () 32. 右表是同學在進行分組報告時，用來講解經濟制度所製作的海報，請問：右表中的資料何者有誤？
- () 33. 根據中央銀行公布的資料，2016 年我國外匯存底為 2996 億美元，目前在世界主要國家排名第 5 位。請問外匯存底的累積與下列哪一項的關係最密切？ (A) 勞動參與 (B) 國民儲蓄 (C) 薪資所得 (D) 國際貿易。

項目	自由經濟	計畫經濟
(A) 名稱	市場經濟	統制經濟
(B) 主導	市場	政府
(C) 優點	資源分配較平均	資源能有效利用
(D) 缺點	貧富差距易擴大	易使人民變得均貧

- () 34. 新聞報導：「連日豪雨造成中南部菜田受損，收成短缺。」請問：蔬菜收成短缺，可能會造成何種現象？ (甲) 蔬菜供過於求 (乙) 蔬菜價格上漲 (丙) 消費者改買其他較便宜的商品 (丁) 生產者因蔬菜有利可圖，可能轉種蔬菜 (A) 甲乙丙 (B) 乙丙丁 (C) 甲乙丁 (D) 甲乙丙丁。
- () 35. 由於以物易物的不便，因此發明了貨幣作為交易媒介，在一個國家中，貨幣價值的高低，是由哪一項標準來衡量的？ (A) 國民所得的高低 (B) 貨幣的製作成本 (C) 國民存款金額的多寡 (D) 貨幣所能購買的商品數量。

二、整合題：(每題 3 分) 30%

1. 阿華師開了一家吉祥素食餐廳，每天上午五點鐘阿華師開著貨車到中央市場的順發行，去購買當天餐廳所需的材料。貨款採月結制，每月的最後一天阿華師須付清帳款。週六、週日餐廳生意高朋滿座，兩天的營業額高達六萬元，阿華師找來鄰近的大學生週六、日到餐廳打工幫忙。請問：
- () 36. 吉祥素食餐廳是屬於經濟活動循環中的哪一項？ (A) 商品供給 (B) 無形市場 (C) 生產要素市場 (D) 生產要素需求。
- () 37. 打工的大學生所領的工讀費是屬於經濟活動循環中的哪一項？ (A) 所得 (B) 消費支出 (C) 生產成本 (D) 銷貨收入。
- () 38. 每月的最後一天阿華師須付給順發行的帳款是屬於經濟活動循環中的哪一項？ (A) 銷貨收入 (B) 所得 (C) 生產成本 (D) 消費支出。

2. 阿倫和美蘭是裁縫師傅，右表是他們一天所完成的衣服和褲子的數量。請問：

- () 39. 阿倫生產一件衣服的機會成本為何？ (A) $\frac{4}{3}$ 褲子 (B) $\frac{2}{3}$ 褲子 (C) $\frac{3}{2}$ 褲子 (D) $\frac{3}{4}$ 褲子。

	衣服	褲子
阿倫	3	4
美蘭	2	5

基隆市立武崙國民中學一〇六學年度第一學期第二次段考公民科試題

班級：九年

班座號：

姓名：

() 40. 美蘭生產一個褲子的機會成本為何？(A) $\frac{2}{5}$ 衣服 (B) $\frac{5}{2}$ 衣服 (C) $\frac{4}{5}$ 衣服 (D) $\frac{5}{4}$ 衣服。

() 41. 如果想要做出更多的衣服和褲子，兩人應該如何進行分工？(A) 兩人同時生產衣服 (B) 兩人同時生產褲子 (C) 阿倫生產褲子，美蘭生產衣服 (D) 阿倫生產衣服，美蘭生產褲子。

3. 右表所示為四個國家一年的進出口貿易統計資料。請問：

() 42. 哪些國家出現貿易順差？(甲) 印度 (乙) 美國 (丙) 中國

(丁) 希臘。(A) 甲乙 (B) 乙丙 (C) 甲丙 (D) 乙丁。

() 43. 哪些國出現貿易逆差？(甲) 中國 (乙) 印度 (丙) 美國

(丁) 希臘。(A) 甲乙 (B) 乙丙 (C) 乙丁 (D) 丙丁。

單位： 元	印度	美國	中國	希臘
出口 總值	1060億	2300億	1240億	1105億
進口 總值	985億	3200億	800億	1341億

4. 美真在仁愛市場賣水果，右表是她最近主力促銷的葡萄之市場價格與數量表，根據資料判斷：

() 44. 當葡萄一公斤賣多少元可以達成市場均衡？(A) 70 元 (B) 60 元

(C) 50 元 (D) 30 元。

() 45. 當葡萄一公斤賣 70 元時，市場上會出現何種現象？


(A) 供不應求 (B) 供過於求 (C) 供需平衡 (D) 無法判斷。

價格 (元/公斤)	市場需求量 (公斤/週)	市場供給量 (公斤/週)
70	20	60
60	30	50
50	40	40
30	60	20
20	70	10

◆◆◆ 請認真作答，祝考試順利！ ◆◆◆

一、單選題(每題2分,共90分)

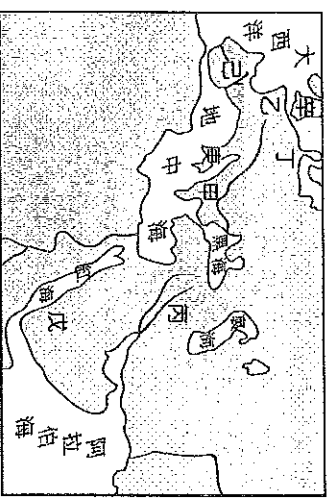
- ()關於中世紀早期西歐社會特性的敘述,下列何者說明正確?
(A)政治上是中央集權,經濟上是莊園制度
(B)政治上是封建制度,經濟上是工商業繁榮
(C)政治上是中央集權,經濟上是工商業繁榮
(D)政治上是封建制度,經濟上是莊園制度。
- ()小光在他的歷史報告中,摘錄了有關拜占庭帝國的歷史資料,其中有哪些是正確的?(甲)間接屏障阿拉伯半島(乙)首都為君士坦丁堡(丙)對斯拉夫民族產生深遠的影響(丁)西元1453年被鄂圖曼土耳其所滅(A)甲乙丁(B)乙丙丁(C)甲乙丙(D)甲丙丁。
- ()拜占庭帝國的存在,在歷史上有重大影響,它保存許多希臘、羅馬古典文獻,成為後來歐洲哪一項運動的一大助力?(A)宗教改革(B)科學革命(C)文藝復興 (D)啓蒙運動。
- ()日耳曼民族南遷,入侵西羅馬帝國,導致西羅馬帝國瓦解,此與中國哪一件史事有關?
(A)唐帝國征伐東突厥(B)漢帝國征伐匈奴(C)蒙古西征(D)明帝國征伐蒙古。
- ()日耳曼人南遷後,在建立的許多國家中,以繼承西羅馬帝國自居,積極推廣基督教、使用拉丁文,實力最強、成最大的是位於附圖中哪一區?



- ()甲 (B)乙 (C)丙 (D)丁。
()神聖羅馬帝國的前身是「東法蘭克王國」,原是哪一帝國分裂後的一部分?(A)羅馬帝國(B)東羅馬帝國 (C)西羅馬帝國 (D)查理曼帝國。
- ()關於封建制度的敘述,下列何者錯誤?
(A)盛行於中世紀時期的西歐 (B)領主賜地給附庸,並有保護附庸的責任 (C)附庸須效忠領主並承擔各種義務 (D)領主與附庸是根據金錢賞賜,而建立的主從關係。
- ()承上題,形成此種制度的主要基礎是什麼?
(A)種族與階級(B)信仰與財富(C)土地與契約(D)宗教與習俗。
- ()亨利八世和教廷決裂,另外創立新教派的主因為何?(A)財政問題(B)婚姻問題(C)教義解釋問題(D)封地問題。
- ()歐洲進入紛擾而動盪的中世紀時代時,何者逐漸發揮影響力,成為維持西歐社會安定的主要力量?
(A)古羅馬城邦(B)拜占庭政府(C)工商業同盟(D)基督教教會。
- ()基督教發展史上的兩次分裂,各發生於何時?
(A)9、14世紀 (B)12、15世紀 (C)11、16

世紀 (D)12、17世紀。

- ()聖索菲亞大教堂現今是座博物館,此建築為哪兩個政權的統治作見證?(A)羅馬帝國、阿拉伯帝國(B)西羅馬帝國、東羅馬帝國(C)拜占庭帝國、鄂圖曼土耳其帝國(D)神聖羅馬帝國、鄂圖曼土耳其帝國。
- ()西元6世紀時,某一法典保留了羅馬的法律觀念,成為今日西歐各國法學之重要淵源。請問:上文所述的法典為何?(A)《漢摩拉比法典》(B)《十二銅表法》(C)《查士丁尼法典》(D)《易經》。
- ()英國國教派(乙)喀爾文教派(丙)路德教派(丁)耶穌會。請問:哪些屬於改革後形成的新教派?(A)甲乙丙(B)乙丙丁(C)甲丙丁(D)甲乙丁。
- ()「若皇帝對教會極大影響力,他可以任命主教,過問教會的教義和崇拜問題,也可以召開並主持重要的宗教相關會議。」請問:上述為何種現象?(A)政教衝突(B)政教合一(C)教權至上(D)政教分離。
- ()如果想了解伊斯蘭教文化在歐洲所留下的遺蹟,可以前往附圖中的哪些地區?



- ()甲乙丙 (B)戊辛 (C)丁庚 (D)甲己。
()基督教的第一次大分裂,其實就是哪兩方勢力對抗的結果?(A)羅馬教宗與拜占庭皇帝(B)拜占庭皇帝與法蘭克國王(C)羅馬教宗與法蘭克國王(D)拜占庭皇帝與阿拉伯人。
- ()阿拉伯人迅速發展與擴張,在中世紀建立起輝煌的大帝國,其最主要的因素是什麼?(A)相同的血統(B)相同的宗教 (C)共同的貨幣(D)共同的語言。
- ()中世紀後期,商業逐漸復甦,城市陸續出現,下列哪些城市興起於中世紀後期?(甲)威尼斯(乙)羅馬(丙)巴黎(丁)佛羅倫斯
(A)甲乙 (B)乙丙 (C)丙丁 (D)甲丁。
- ()市民階級因其社會地位處在上層貴族和下層農奴之間,而又稱為「中產階級」。這個階級最主要包括哪些身分的民眾?(A)擁有土地的自耕農(B)行俠仗義的騎士(C)商人和有錢的工匠(D)教會神職人員。
- ()發生於西元11世紀到13世紀之間的十字軍東征,是下列哪兩者之間的戰爭?(A)波斯帝國與阿拉伯帝國的戰爭(B)神聖羅馬帝國與東羅馬帝國的戰爭(C)基督教徒與伊斯蘭教教徒的戰爭(D)羅馬公教與東正教的戰爭。
- ()西方槍炮的發明與中國火藥的傳入有關。請問:中國火藥最早在何時西傳?(A)十字軍東征

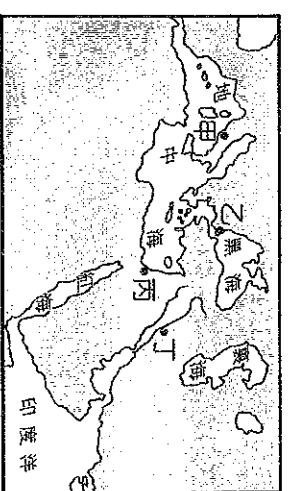
- (B)蒙古西征(C)斯和斯西洋(D)地理大發現。
23. ()在古印加文化遺址中，曾在此地建立輝煌的文化與帝國，但如今已不復存在。下列哪一項是導致當地古文化消失的直接原因？(A)熱帶雨林消失(B)非洲黑奴輸入(C)火山活動頻繁(D)西班牙的侵略。
24. () (甲)婆羅門教(乙)猶太教(丙)佛教(丁)基督教(戊)伊斯蘭教(己)道教。請問：上述宗教中，哪些屬於一神信仰？
(A)甲丙己(B)甲乙丁(C)乙丁己(D)乙丁戊。
25. ()「長老教會」應是屬於下列哪一個宗教教派的一支？(A)喀爾文教派(B)路德教派(C)英國國教派(D)耶穌會。
26. ()哪一事件的影響，英、法兩國結束過去的封建關係，逐漸提高王權？(A)十字軍東征(B)百年戰爭(C)蒙古西征(D)文藝復興。
27. ()文藝復興運動意味著古典文化以及創造力的復興。請問：哪些方面是文藝復興時期最顯著的成就？(甲)文學(乙)藝術(丙)科學(丁)政治思想
(A)甲乙丙(B)乙丙丁(C)甲乙丁(D)甲丙丁。
28. ()文藝復興運動促成近代歐洲文化的形成，開啓了歐洲歷史的新紀元。此運動的主要內涵是什麼？
(A)提倡科學方法，建立科學宇宙觀(B)闡明教義，重新領會基督教精神(C)以人為本，肯定人生現世的價值(D)應用科學精神，以解決社會問題。
29. ()西班牙位處歐洲與非洲的交界，一直到15世紀才統一成為一個國家。下列何事奠定了西班牙統一的基礎？(A)將英法兩國勢力逐出伊比利半島(B)英法百年戰爭的結束(C)哥倫布發現新大陸(D)卡斯提爾與亞拉岡兩國的聯姻。
30. ()下列哪些人是文藝復興時期的文學家？(甲)馬基維利(乙)薄伽丘(丙)蘇格拉底(丁)荷馬(戊)莎士比亞(A)甲丙(B)乙戊(C)丙丁(D)甲丁。
31. ()《唐吉訶德》是一部諷刺中世紀歐洲封建和騎士的方言文學。請問：此書的作者是誰？(A)塞凡提斯(B)佩脫拉克(C)薄伽丘(D)莎士比亞。
32. ()就讀美術系的小茵，十分欣賞文藝復興時期的畫作，她應該會經常觀摩哪些藝術大師的作品？
(甲)達文西(乙)薄伽丘(丙)米開朗基羅(丁)拉斐爾(A)甲乙丙(B)乙丙丁(C)甲乙丁(D)甲丙丁。
33. ()歸納歐洲歷史發展的先後脈絡，下列各項史實依發生的先後順序排列，何者正確？(甲)文藝復興運動(乙)城市的興起(丙)商業活動復興
(A)甲乙丙(B)乙丙甲(C)丙乙甲(D)甲丙乙。
34. ()附表人物與事蹟的配對，何組錯誤？

人物	時間	事蹟
(甲)鄭和	15世紀	七次下西洋，遍歷東南亞，提高中國人民向海外發展的興趣
(乙)狄亞士	15世紀	發現非洲南端的好望角
(丙)哥倫布	15世紀	橫渡大西洋
(丁)達伽馬	16世紀	首先完成了繞行地球一周的航海家

- (A)甲(B)乙(C)丙(D)丁。
35. ()當年哥倫布抵達新大陸時，在附圖中哪一區？



- (A)丙(B)乙(C)己(D)庚。
36. ()將整部《聖經》翻譯成德語，讓所有人民能自己閱讀《聖經》，了解上帝的言語並直接與上帝溝通。這位歷史人物是誰？(A)馬丁路德(B)亨利八世(C)君士坦丁(D)羅耀拉。
37. ()促使歐洲發生宗教改革最主要的原因為何？(A)教宗欲革除教會的陋規(B)大眾對天主教教會的腐敗感到不滿(C)政治領袖藉機打擊教會(D)伊斯蘭教勢力的擴張。
38. ()呈上題，宗教改革最後產生了下列何種結果？
(A)基督教成為歐洲世界唯一的正統(B)各國政府紛紛制訂嚴苛的宗教法，並確立國教(C)發生了多次的宗教戰爭(D)宗教改革阻礙了教育的發展。
39. ()在宗教改革的衝擊下，天主教也力行改革；其中哪一組織為天主教改革的象徵？(A)路德教派(B)羅馬公教(C)英國國教派(D)耶穌會。
40. ()「一個人是否能信與得救，早經上帝『預定』，凡為上帝的選民，日常生活中自然會對上帝產生信仰，此後更要努力工作來榮耀上帝。」下列哪一教派的理論，最能顯現這種精神？(A)天主教(B)佛教(C)路德教派(D)喀爾文教派。
41. ()下列哪一項不是馬丁路德的思想或主張？
(A)譴責教會出售贖罪券(B)提出預選說，力倡勤儉(C)強調藉由閱讀《聖經》，就可直接與上帝溝通(D)否定教宗的權威。
42. ()伊斯蘭教的發展，其中何者不正確？
(A)起源於西元1世紀(B)將阿拉伯世界凝聚起來(C)為穆罕默德所創立(D)至西元8世紀時，已建立一個大帝國。
43. ()伊斯蘭教、基督教、猶太教共同的聖地位於附圖中何處？

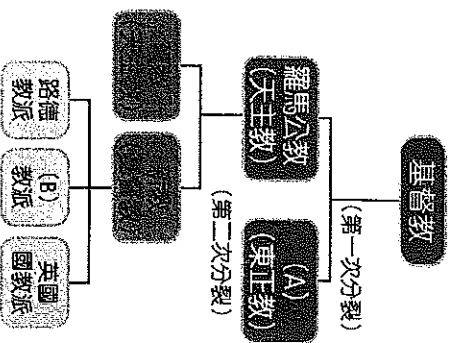


- (A)甲(B)乙(C)丙(D)丁。
44. ()中世紀後期，歐洲商人從何者的身上學到了支票、股份公司等商業制度，有助於歐洲商業活動的進一步發展？(A)中國僧侶(B)阿拉伯商人(C)印度商人(D)日耳曼人。
45. ()如果想看「辛巴達航海記」、「阿里巴巴與四十大盜」或「神燈」等故事，了解巴格達地區的古代民情風俗，可以參閱下列哪一本書？
(A)《歷史》(B)《伊里亞德》
(C)《天方夜譚》(D)《西遊記》。

二、非選題(每題2分，共10分)

1. 中世紀歐洲由教師或學生為保護自身權益而組成的行會，後來演變為現今西方哪一制度的起源？

2. 附圖中的(A)、(B)應填入何項正確答案？



3. 西元八世紀時，阿拉伯帝國與唐朝發生何役，使得造紙術西傳？

4. 英法百年戰爭初期，法國連連敗退，因何人從軍提振士氣，最後使法國贏得勝利？

5. 在中世紀西歐的教會發展中，各國君主為了與教會爭奪領導權，時常發生何事？