

基隆市立武崙國民中學 106 學年度第一學期第三次段考 九年級地理科試題卷

班級：_____

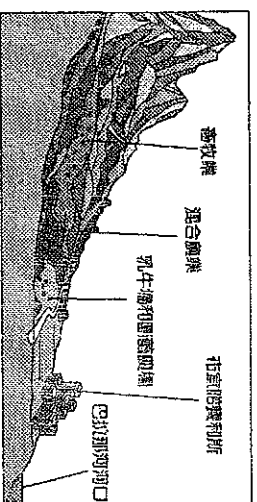
姓名：_____

座號：_____

一、選擇題：共 50 題，每題 2 分，滿 100 分

1. () 美洲依位置和文化有不同的分區方式，請問關於墨西哥在美洲的分區下列何者正確？(A)北美洲、拉丁美洲 (B)北美洲、盎格魯美洲 (C)中美洲、拉丁美洲 (D)中美洲、盎格魯美洲。

2. () 阿根廷境內草原廣大、農牧業發達，右



上圖為其地形簡圖，請問圖中右側山脈到左側海域的名稱下列何者正確？

- (A)落磯山脈、圭亞那平原、太平洋
(B)落磯山脈、彭巴草原、大西洋
(C)安地斯山脈、彭巴草原、大西洋
(D)安地斯山脈、巴塔哥尼亞草原、大西洋。

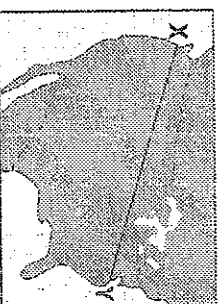
3. () 下列哪些是屬於中南美洲的原生種作物？(甲)玉米 (乙)番茄 (丙)咖啡

- (丁)可可 (戊)橡膠 (己)小麥
(庚)奇異果 (辛)馬鈴薯
(A)甲、乙、丙、丁、辛
(B)甲、乙、丁、戊、辛
(C)乙、丙、丁、戊、己
(D)丙、丁、戊、庚、辛。

4. () 承上題，南美洲原生種農作物能傳播到世界各地主要是靠哪種管道？

- (A)歐洲人的殖民、航海與貿易
(B)印第安人長期遷徙隨身攜帶
(C)非、亞洲後裔跨海攜帶回鄉
(D)南美洲人攜帶家鄉物種移民。

5. () 美國國土規劃單位派出無人偵察機針對土地利用進行調查，預計由 X 出發



向 Y 前進一路維持相同高度飛行拍攝地表影像，請問飛行過程中偵察機與地表的距離變化為下列何者？

- (A)遠→近→中等 (B)近→遠→中等
(C)中等→近→遠 (D)近→中等→遠。

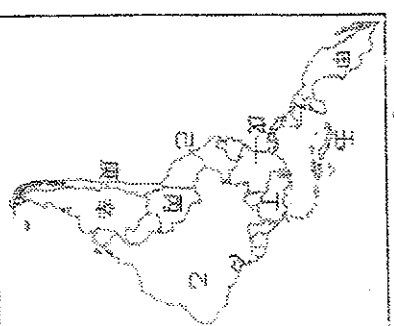
6. () 美洲各國計劃舉行大規模聯合軍事演習，此次目標作戰地點為乾燥的沙漠地區，請問哪些國家可以提供演習適合地點？(甲)加拿大 (乙)美國 (丙)墨西哥 (丁)巴西 (戊)智利 (己)秘魯 (庚)古巴 (辛)阿根廷 (壬)委內瑞拉 (癸)瓜地馬拉
(A)甲、乙、丙、丁、辛
(B)乙、丙、丁、壬、癸
(C)乙、丙、戊、己、辛
(D)丙、丁、戊、辛、壬。

7. () 由中國出資興建的尼加拉瓜運河，預計在 2019 年完工，屆時將嚴重影響功能相同的□□運河，尤其對於亞洲與美國東岸貨櫃輪的往來，改走尼加拉瓜運河除了能容納載貨量更大、更巨型的輪船，更能節省時間及運輸成本，請問□□運河是指下列何者？

- (A)窩瓦頓運河 (B)中央大運河
(C)蘇伊士運河 (D)巴拿馬運河。

8. () 植物學家高森以投入生物多样性研究為終身志業，他大半輩子都居住在如右上圖所示的森林裡，

這片森林也擁有多世界之最，具有極高的研究價值，請問他的研究地點最可能右下圖的哪個國家？(A)甲 (B)乙 (C)辛 (D)庚。



9. () 加拿大境內擁有許多與哈得孫灣成因相同的湖泊，湖光水色與針葉林互相輝映形成美好的景致，請問下列哪一個湖泊的成因與上述湖泊相同？(A)中國天池 (B)臺灣日月潭 (C)美國密西根湖 (D)委內瑞拉馬拉開波湖。
10. () 馬克·吐溫的著作『湯姆歷險記』是美國著名的兒童文學作品，內容描述湯姆與他的夥伴喬、哈克貝里所經歷一連串精彩的冒險故事，故事中有許多場景圍繞在北美流域面積最大的河川，而此河川也兼具著運輸北美大平原物產的重要交通任務，請問此河川是下列哪一條？(A)亞馬孫河 (B)聖羅倫斯河 (C)拉布拉他河 (D)密西西比河。
11. () 魁北克省曾多次舉行獨立公投爭取脫離加拿大卻都未成功，請問魁北克省與加拿大最主要的紛爭為下列何者？(A)魁北克省居民為北美原住民，受到加拿大政府不斷打壓 (B)法裔為主的魁北克省與加拿大英裔在文化、語言及宗教上差異 (C)加拿大欲剝奪魁北克法裔居民的財產與土地，導致法裔人口群起暴動 (D)英裔為主的魁北克省不滿加拿大在行政及立法上不斷偏袒法裔人口，違背建國之初彼此的承諾。
12. () 美國的強勢文化透過下列哪些途徑影響全球並把美式價值觀與生活滲透到世界各地？(甲)資訊媒體 (乙)商業行銷 (丙)跨國企業 (丁)宗教擴散 (戊)勞工輸出 (己)運動賽事
(A)甲、乙、丙、丁
(B)甲、乙、丙、己
(C)甲、乙、戊、己
(D)丙、丁、戊、己。
13. () 美國種族歧視問題向來嚴重，請問哪一個事件成為象徵美國族群融合的里程碑？
- (A)林書豪成為NBA職業球星
(B)愛斯基摩人改稱為因紐特人
(C)不分國籍皆可進入谷歌公司
(D)歐巴馬當選美國首位非裔總統。
14. () 北美寒帶氣候東、西兩側出現的緯度高低不同，太平洋岸在較高緯度的地區才出現寒帶氣候，請問造成兩岸氣候差異的最主要因素為下列何者？
(A)東岸寒流、西岸暖流
(B)東岸暖流、西岸寒流
(C)東岸信風、西岸西風
(D)西岸有高山阻擋寒風、東岸無。
15. () 亞馬孫河擁有多項『世界之最』，請問此河川並未拿到下列哪一項指標的冠軍地位？(A)長度 (B)流量 (C)流域面積 (D)支流數量。
16. () 中南美洲許多國家礦業資源豐富，早期因此成為被列強覬覦的目標，而今豐富的礦產可以成為國家發展工業的有利條件，請問下列國家與主要礦產的配對何者正確？(甲)委內瑞拉-石油 (乙)巴西-煤 (丙)秘魯-白銀 (丁)智利-銅 (戊)墨西哥-白銀 (己)阿根廷-金
(A)甲、乙、丙、丁
(B)甲、丙、丁、戊
(C)乙、丙、丁、己
(D)丙、丁、戊、己。
17. () 巴西為金磚四國之一，請問下列哪些條件為巴西發展的優勢？
(甲)國土廣大 (乙)勞工眾多 (丙)資金充沛 (丁)鐵礦豐富 (戊)水利充沛 (己)NAFTA會員
(A)甲、乙、丙、丁
(B)甲、乙、丁、戊
(C)甲、乙、戊、己
(D)乙、丙、丁、己。

18. () 南美中緯度地區的人口多分布在沿海的港口都市，如：里約熱內盧、聖保羅、布宜諾斯艾利斯，請問此區域人口聚集的原因下列何者正確？(A)受海外移民影響，都市主要居民為大量外來人口 (B)受殖民影響，輸出農礦原料的港口都市發展快速 (C)受氣候影響，內陸為溫差極大地大陸性氣候不利人居 (D)受政策影響，沿海為國家重點開發區域有較多的經濟支持。

19. () 巴西政府將首都從繁榮熱鬧的里約熱內盧遷都到高原上極待開發的巴西利亞最主要的原因為下列何者？

- (A)停止內戰紛爭 (B)脫離財團控制
(C)消弭民族紛爭 (D)平衡區域發展。

20. () 為了取得更多的資源與可耕地，熱帶雨林不斷受到大面積的砍伐與開發，請問開發熱帶雨林除了經濟上短期的榮景還會導致哪些問題？(甲)水上大量流失 (乙)物種多元化 (丙)全球氣候異常 (丁)生物棲地破壞 (戊)地球含氧量增加
(A)甲、乙、丙 (B)甲、乙、丁
(C)甲、丙、丁 (D)丙、丁、戊。

21. () 張老板為了犒賞員工舉辦了體驗巴西嘉年華的旅遊，他擔心語言不通，特別找了懂(甲)西班牙文的翻譯陪同，由於嘉年華舉辦的時間為每年二月，他擔心(乙)員工會冷還特別貼心的買了羽絨大衣讓大家都帶出國去保暖，為了體驗當地文化張老板更找來老師教授(丙)森巴舞，此種舞蹈主要是(丁)源自非洲，融合了黑人的身體律動、(戊)印第安人的搖晃動作與歐洲嘉年華的舞步，他覺得這次的出遊一定會超有價值的。

- 請問上文敘述『正確』項目有哪些？
(A)甲、乙、丙 (B)乙、丙、丁
(C)甲、丙、戊 (D)丙、丁、戊。

22. () 北美擁有廣大區域的溫帶大陸性氣候，但在南美洲相同緯度地區卻沒有出現此種類型的氣候，請問南美洲沒有溫帶大陸性氣候的最主要的原因為下列何者？(A)溫帶陸塊面積比較小 (B)洋流系統與北美不同 (C)安地斯山脈面積太大 (D)東南信風與暖流較強。

23. () 瓊斯為北美玉米與飼牧帶的農夫，他生活在廣大的(甲)北美大平原，生產的玉米多(乙)運送銷受到酪農帶提供飼料，他的經營屬於(丙)市場導向的自給性農業，多(丁)使用機械化生產單一作物，由於(戊)土地規模廣大，因此單位面積產量極高，整體而言瓊斯的務農方式屬於(己)粗放農業的一種。請問關於瓊斯的論述，下列何者為非？

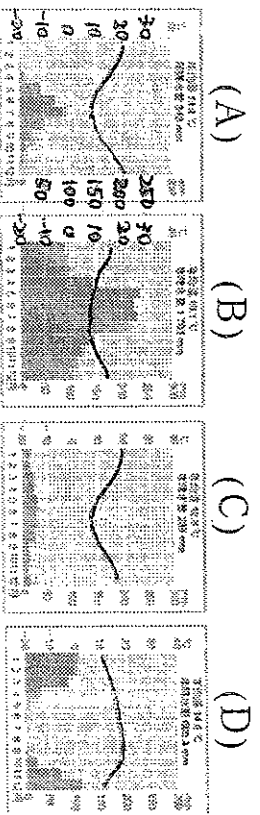
- (A)甲、乙 (B)乙、丙
(C)丙、戊 (D)丁、己。

24. () 秘魯的馬丘比丘為印加古文明遺址也是著名的旅遊勝地，整個遺址盤踞在山區氣勢壯闊；中南美現今也有許多人口眾多的都市在山地及山區，如墨西哥城和波哥大，請問為什麼這些都市會出現山區？(A)低緯度平地過於濕熱 (B)平地易受野獸與盜匪攻擊 (C)山區氣候類似殖民統治者原鄉 (D)山區礦產資源豐沛容易形成市鎮。

25. () 中南美洲各國熱帶栽培業發達，除了和當地的自然環境適合發展有關外，下列哪一項因素更是導致中南美國家大量發展熱帶栽培業？

(A)原住民傳統淵源
(B)歐洲殖民的歷史
(C)加入國際分工體系
(D)美國強勢經濟的介入。

26. () 露西今年辦理退休並計劃到南美洲進行為期五年的深度旅遊，他希望在南美洲租一間房子作為歇腳處，由於露西長年住在加拿大的溫哥華，因此希望在南美洲找到相同氣候條件的地方租屋，請問下列哪間房子所在的氣候圖符合他的需求？




27. () 北美聖羅倫斯河航運發達，為重要的交通命脈，經濟產值頗高，請問此河道具有下列哪一項優勢？(A)連接太平洋與大西洋 (B)礦產豐富有能源流域之稱 (C)連結北美五大湖與大西洋 (D)沿岸為美國巨型都會帶經貿繁榮。

28. () 墨西哥為中南美洲新興工業化國家之一，請問其發展的優勢下列何者為非？
 (A)擁有大量且廉價的勞動力
 (B)加入北美自由貿易協定享關稅減免
 (C)蘊藏煤、鐵、石油、天然氣等豐沛礦產資源 (D)領導中南美洲各國組成大型經濟體與北美、歐盟抗衡。

29. () 星凱前往美國黃石國家公園旅遊，看到許多壯闊的景觀與北美野牛等大型野生動物，請問下列哪一種景觀是最不可能在國家公園內看到的？
 (A)深邃壯闊的峽灣
 (B)定時噴發的間歇泉
 (C)顏色繽紛絢麗的溫泉
 (D)臭氣難聞的硫磺噴氣孔。

30. () 北美大平原在不同季節可能被不同的天氣災害侵襲，請問最容易在春、夏之際出現的為下列哪一種災害？
 (A)颶風 (B)焚風
 (C)龍捲風 (D)暴風雪。

31. () 弗斯老奶奶聽說邁阿密是個適合享晚年好環境，請問下列關於邁阿密的氣候類型與氣候圖配對何者正確？



- (A) 甲 溫帶地中海型氣候
 (B) 乙 夏雨型暖溫帶氣候
 (C) 丙 溫帶地中海型氣候
 (D) 丁 夏雨型暖溫帶氣候

32. () 品傑計劃由北向南騎越野自行車挑戰世界最狹長的國家智利，請問他依序會遇到的氣候類型該如何排列？

- (甲)熱帶莽原 (乙)熱帶沙漠 (丙)溫帶地中海 (丁)溫帶沙漠 (戊)溫帶海洋
 (A) 甲→乙→丙 (B) 丙→戊→丁
 (C) 乙→丙→戊 (D) 丙→丁→戊。

33. () 中南美洲以大量出口單一作物和礦物資源為主的經濟形態為什麼不利於本區的經濟發展？

- (A)產品易受市場價格影響
 (B)土地被少數財團所掌控
 (C)官商勾結控制商品產量
 (D)缺乏購買農礦產品市場。

34. () 育心到中美洲的哥斯大黎加出差，他發現一個特別的氣候現象：這個國家緯度相同的區域東側為熱帶雨林氣候，西側卻為熱帶莽原氣候，請問導致此種氣候分布最主要的因素為下列何者？

- (A)這兩種氣候的分布主要受經度影響
 (B)西側位在東南信風的被封側較乾燥
 (C)東側的加勒比海水溫較高容易下雨
 (D)東側為東北信風的迎風側雨量較多

回探險家阿弘與一群熱愛冒險的好友計劃沿著南回歸線從南美洲西岸跨越安第斯山來到東岸，沿途歷經許多不同的地貌與氣候上的挑戰，請回答第35~40題：

35. () 請問他先後看到的海域分別為下列何者？(A)大西洋、太平洋 (B)大西洋、南冰洋 (C)太平洋、大西洋 (D)太平洋、加勒比海。

36. () 旅途中阿弘組成的探險隊將會面對許多不同氣候所帶來的挑戰，請將他們會遇到的氣候類型依時間先後順序排列？(甲)熱帶雨林氣候 (乙)熱帶沙漠氣候 (丙)溫帶地中海型氣候 (丁)夏雨型暖溫帶氣候 (戊)溫帶沙漠氣候 (己)草原氣候 (庚)高地氣候

(A) 甲→庚→戊→己
(B) 乙→庚→戊→己
(C) 乙→庚→己→丁
(D) 戊→庚→己→丙。

37. () 南美洲東西兩岸氣候類型不同的主要受下列哪些因素影響？(甲)緯度 (乙)經度 (丙)地形 (丁)洋流 (戊)盛行風

(A) 甲、丙 (B) 乙、丁
(C) 丙、丁 (D) 丁、戊。

38. () 探險隊在安第斯山區看到許多當地的特有種生物，這種生物為當地山區重要的獸獸以及毛皮供應來源，請問他們看到的是下列哪一種生物？

(A) 犛牛 (B) 美洲野牛
(C) 駱駝 (D) 駱馬。

39. () 探險隊在攀登安第斯山脈時，從山麓到山巔沿途看到不同的土地利用方式，請問下列作物與植被從海拔低到高的分布何者正確？(甲)高山草原 (乙)冷杉、扁柏 (丙)甘蔗、香蕉 (丁)玉米、咖啡 (戊)小麥、馬鈴薯

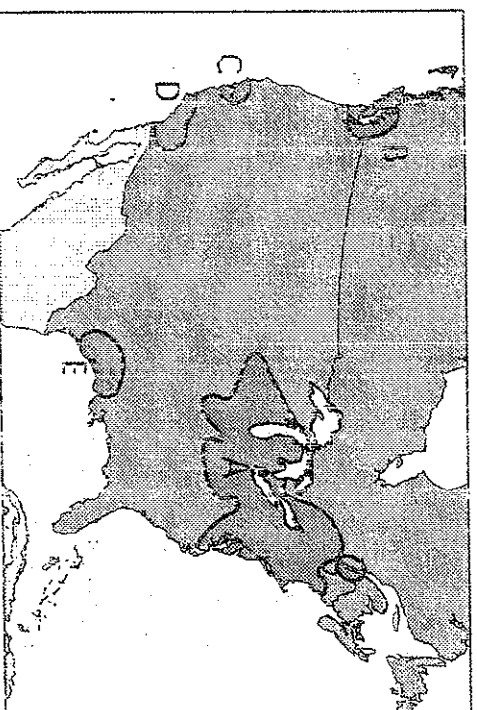
(A) 丙→戊→丁→乙→甲
(B) 戊→丙→丁→甲→乙

(C) 丁→丙→戊→乙→甲
(D) 丙→丁→戊→乙→甲。

40. () 信仰是旅程中一個深刻的體驗，除了反應在內在的文化、生活習慣，也反應在建築物上，請問這群人在旅程中看到的宗教建築主要是哪一種類型？

(A) 天主教教堂 (B) 薩滿教聖殿
(C) 基督教教堂 (D) 伊新蘭教清真寺。

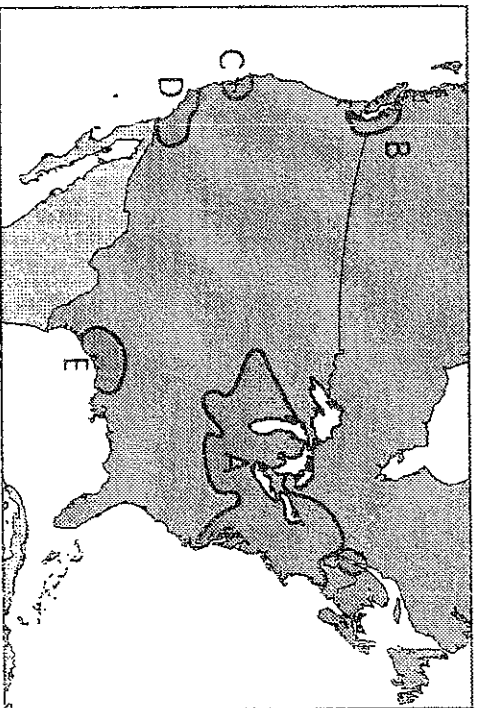
圖森與他的大學室友正熱烈討論著他們未來一年的就業實習，他們都計劃未來搬到實習地點居住，面對即將各奔東西，他們想要彼此知道對方未來一年會生活在哪些都市。附圖為北美工業區簡圖，請根據圖片回答第41~45題：



41. () 森來未來目標在電影的幕後工程製作中心，他希望實習的地點是全美最大的製片都市，在圖中的哪個位置？

(A) 洛杉磯、C (B) 西雅圖、B
(C) 舊金山、C (D) 洛杉磯、D。

42. () 尼爾就讀的科系與航太科技相關，他未來想在太空倉隔熱材質方面做更深入的研究，並期待能進入NASA工作，未來一年他拿到了進入NASA時實習機會，請問他會在哪個都市、圖中的哪個位置？(A)休士頓、E (B)芝加哥、A (C)底特律、A (D)匹茲堡、E。



(同上頁圖)

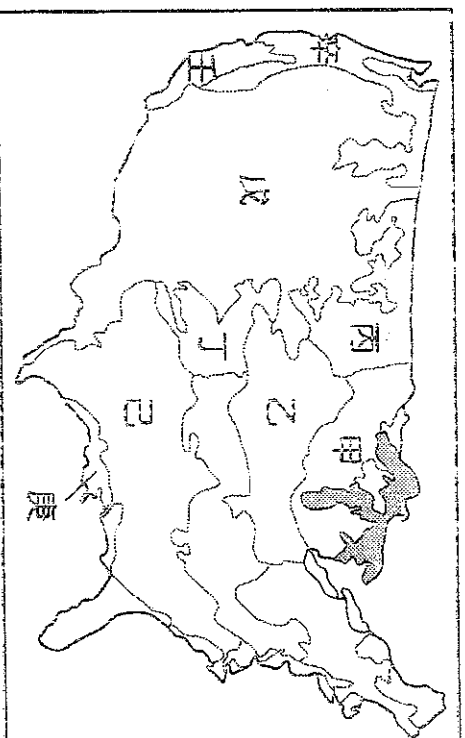
43. () 漢斯與尼爾一樣對航太工程有興趣，他預計實習的項目是和渦輪推進器有關，未來一年他將前往波音公司擔任實習助理，請問他會在哪個都市、圖中的哪個位置？(A)紐約、A (B)休士頓、E (C)西雅圖、B (D)舊金山、C。

44. () 泰森的女友西西讀的是金融理財相關，他想到華爾街體驗股市起伏的精彩與驚險，他預計前進當地知名的投顧公司當實習生，請問他會在哪個都市、圖中的哪個位置？

(A)紐約、A (B)西雅圖、C
(C)舊金山、D (D)芝加哥、E。

45. () 丹妮預計前往加拿大A地實習，請問他最可能住在哪個都市、實習的內容為何？(A)芝加哥、期貨交易
(B)匹茲堡、鋼鐵鍛造
(C)蒙特婁、航運商管
(D)亞特蘭大、紡織設計

回北美的農業因自然條件與市場需求呈現大規模的農作帶，下圖為北美農業帶的分布圖，請回答第46~50題：



46. () 就讀畜牧學系的玉歆想前往美國的大型牧場實習乳牛的繁殖與飼育，他目標鎖定在酪農帶上的牧場，請問他可以前往上圖哪個地區？

(A)甲 (B)乙 (C)丙 (D)庚。

47. () 請問酪農帶的分布與下列哪一種分布關係最密切？

(A)河川與湖泊 (B)人口與都市
(C)土壤與岩性 (D)氣溫與雨量。

48. () 南北戰爭為美國歷史上規模最大的內戰，戰爭主要因為黑人解放與否的問題，由於黑人當時是棉花產業的主要勞動力，因此解放與否嚴重影響棉花帶的經濟，請問若要拍攝有關此議題的影片到哪個區域最有歷史價值及意義並能取景到廣大的棉花田？

(A)甲 (B)乙 (C)戊 (D)己。

49. () 約瑟芬在北美葡萄產區學習葡萄酒釀造，廣大的葡萄園與晴朗的天空讓學習更有氣氛，請問約瑟芬學習釀酒的位置在上圖的何處？

(A)己 (B)庚 (C)辛 (D)壬。

50. () 北美大規模農業專業化的生產模式確有其優勢，但也造成許多隱憂，請問關於隱憂下列何者為非？

(A)容易面臨生產過剩
(B)全面機械採收困難
(C)大規模爆發病蟲害
(D)土壤肥沃度易下降。

※共50題，每題2分

- () 下列四位同學討論「失業」的相關現象，其中何者的說法正確？ (A)小玲：領取失業給付通常以三個月為限 (B)阿福：失業人口是勞動力的浪費 (C)大雄：失業會使家庭收入增多 (D)小叮噠：失業人口增多對國家經濟有利。
- () 下表是小丸子運用甲、乙、丙、丁四種投資理財工具，投資資金與投資一年後獲利情形比較表。請問：小丸子使用的投資理財工具中，何者投資報酬率最高？ (A)甲 (B)乙 (C)丙 (D)丁。

理財工具	甲	乙	丙	丁
投資金額	6萬元	4萬元	10萬元	16萬元
獲利金額	2,400元	3,000元	5,000元	7,500元

- () 玖玖找工作眼高手低，認為研究所畢業生應從事高收入低勞務性質工作，因此他從研究所畢業，並做過一、兩份工作後，就待在家裡當起不就業的「啃老族」。上述玖玖因為缺乏哪項因素而無法就業？ (A)工作的能力 (B)工作的學歷 (C)工作的資格 (D)工作的意願。
- () 吳先生自行創業，開了一家好風味麵包店，為與競爭對手區別，並給消費者新鮮的感受，吳先生研發出與眾不同的鹹口味蛋糕，深受歡迎。根據上述內容，吳先生研發出與眾不同的鹹口味蛋糕，具備何種創業條件？ (A)企業才能 (B)資金 (C)承擔風險的能力 (D)雇用員工。
- () 小五前幾天突然接到公司的資遣通知後，就被公司裁員了，所以現在沒有工作。小五可以利用下列哪些管道尋找新工作？(甲)從人力網站中獲取求職訊息 (乙)參加各種職業訓練 (丙)向各縣市就業服務中心請求協助 (丁)多看報上的徵人廣告 (A)甲乙丙 (B)乙丙丁 (C)甲丙丁 (D)甲乙丁。
- () 去年小波因被公司裁員，心中興起充實自己的念頭，遂考上某國立大學研究所決定繼續深造。根據內容判斷，目前小波屬於下列何種身分？ (A)非勞動者 (B)受雇者 (C)失業者 (D)雇主。
- () 俗諺說：「若要發，先補襪；若要富，先補褲。」由這句話的涵義，可看出其中隱含何種財富觀？ (A)大富由天來 (B)廣開財源 (C)勤儉致富 (D)富貴險中求。

- () 下列哪一種行為較符合綠色消費的理念？ (A)購買高山種植的蔬菜 (B)購買多層包裝的餅乾 (C)購買再生紙類的製品 (D)購買紙盒包裝的水果。
- () 阿盛打算拿五十萬元進行投資，他希望有較高的獲利，且願意承擔較高的投資風險。附表是他針對目前投資環境所作的評估，根據內容判斷，下列哪一種工具最符合阿盛的理財需求？ (A)股票 (B)共同基金 (C)債券 (D)定期存款。
- () 為了達到充分就業的目的，各縣市政府紛紛成立職業訓練中心，提供求職者各種職業訓練。請問：職訓中心的設立，主要是為了幫助下列何者就業？ (A)缺少工作意願者 (B)缺乏求職行動者 (C)沒有工作需要者 (D)欠缺工作能力者。
- () 「理財」是每個家庭都必須面對的課題。下列何者是家庭經濟規畫的重要原則？ (A)機會成本 (B)開源節流 (C)比較利益 (D)兩性平等。
- () 因陸客銳減生意難做，小奇無預警的被公司資遣了，關於小奇的相關權益，以下敘述何者正確？ (A)失業給付金的發放以3個月為限 (B)小奇一定可以申請失業給付 (C)失業給付的發放依據是《勞動基準法》 (D)如果小奇領有身心障礙手冊，失業給付可以適度延長至1年。
- () 伊琳在國際最大的拍賣網站經營網拍事業，她平日除了忙著例行的批貨、拍照、上傳資料、收款和出貨等工作，還養成觀察全球趨勢、吸收新知的習慣。上述伊琳的習慣，對其事業有何助益？ (A)豐富精神生活 (B)因應市場變化 (C)滿足物質需求 (D)確保談吐跟上潮流。
- () 下列何者是社會經濟活動的基本單位？ (A)縣市 (B)國家 (C)家庭 (D)社區。
- () 俗話說：「小富由儉，大富由天。」請問：這句話的重點主要在強調下列何者對於理財的重要性？ (A)節流 (B)開源 (C)運氣 (D)風險。
- () 下列何者並非正確的投資觀念？ (A)考慮風險高低 (B)將所有的雞蛋放在同一個籃子裡 (C)避免投機行為 (D)分散風險原則。
- () 以下是小劉運用四種投資理財工具、投資金額與投資一年後獲利情形的比較表：

項目	投資金額(元)	拿回金額(元)
股票	20,000	22,400
定期存款	60,000	63,000
服飾	120,000	127,000
餐廳	180,000	172,000

由資料判斷，小劉使用的投資理財工具中，何者的投資報酬率最高？ (A)股票 (B)定期存款 (C)服飾 (D)餐廳。

18. () 下列哪個企業沒有善盡社會責任？ (A)廣告業者在快車道發放傳單，提供消費資訊 (B)客家小館配合政府限用保麗龍政策，以落實環保觀念 (C)統一超商成立綠色基金，作為環保及研究基金 (D)雲門舞集舉辦戶外公演，民眾可免費欣賞。

19. () 成功大學企業管理系的蔡教授到公司演講，在講詞中提到企業必須建構在「環境保護經濟發展、社會、正義」三大基礎上，環境議題轉化成公司的競爭力與利基，是現代企業的當務之急。蔡教授主要在講述下列哪種概念？ (A)市場經濟 (B)永續發展 (C)國際貿易 (D)供需法則。

20. () 「魚菜共生」又稱「養耕共生」，是一種結合水產養殖與蔬菜種植的互利共生系統，其作法大致是將水生動物的排泄物和水中的雜質加以分解過濾，用以提供蔬菜養分；另一方面，經蔬菜淨化後的水可以導入養殖池循環利用。請問：此種生產養殖方式符合現代社會的何種經濟發展趨勢？ (A)休閒農業 (B)產業升級 (C)綠色經濟 (D)精緻農業。

21. () 企業除了獲取利潤創造盈餘，也應擔負社會責任。下列四位公司經營人，何者的作為不符合企業應有的社會責任？ (A)張老闆提供優良的產品及完善的售後服務 (B)劉老闆設立溫水游泳池，提供員工運動休閒 (C)李老闆在公司成立免費托兒所，使家有幼兒的員工安心上班 (D)廖老闆為開源節流，增加員工工作量，不給付加班費。

22. () 新聞報導：「針對過勞死及工安意外，勞動部將展開勞動檢查，包括工資、工時，還有投保薪資，都是勞檢重點，違規業者不但要被重罰，還會公布企業名稱。」根據內容判斷，勞動部加強勞動檢查，主要是希望業者善盡下列哪方面的責任？ (A)維護消費權益 (B)落實員工福利 (C)從事公益活動 (D)重視環境保育。

23. () 生產「伯朗咖啡」等知名產品的「金車公司」在爆發中國毒奶粉事件後，自動清查、送檢自

家原物料，結果一查出有三聚氰胺，馬上作出一連串措施，包括：通報衛生署、回收在市面上的產品、清查庫存，並予封存，設立專線接受消費者申訴，如有健康受害願負責賠償。「金車」的作為獲得各界的肯定與讚賞，因為它善盡了企業的何種責任？ (A)政治責任 (B)行政責任 (C)社會責任 (D)法律責任。

24. () 小丸子購買金好佳食品公司的夾心餅乾，卻發現因為外包裝的瑕疵問題導致產品變質，金好佳食品公司接到消費者反映後，即將該批產品全面回收，並賠償小丸子的損失。金好佳食品公司的做法，顯示其重視下列何種企業責任？ (A)重視環境保育 (B)重視消費者權益 (C)提升勞資關係 (D)參與慈善活動。

25. () 追求跨世代的公平，當代的人類活動不應該遺留環境的負擔給後代子孫。請問：以下哪一作為不符合此一精神？ (A)車輛臨停超過一定時間就該熄火關引擎，減少汙染 (B)購買家電時，優先考慮有環保標章認證的產品 (C)外出時盡量搭乘大眾運輸工具，減少自行開車的次數 (D)在外用餐時多使用免洗餐具，以維護健康和安全。

26. () 下列有關「勞資關係」與「企業倫理」的敘述，何者正確？ (A)企業界應做好環保工作，減少對環境的汙染 (B)企業應重視性別平權，女性不能擔任粗重工作 (C)為提高生產力，企業支付高薪規定員工不得請休假 (D)勞資雙方利益不同，因此必然對立。

27. () 弓絃企業日前榮獲財政部頒發「開立統一發票績優營業人」獎牌。頒獎當天，全公司以興奮的心情來迎接國稅局人員到來，該公司董事長表示：「企業不該只是獲利機器，也應該擔負起一個良好企業公民的責任。」上述企業善盡了哪方面的企業倫理？ (A)捐助慈善活動 (B)和諧的勞資關係 (C)誠實的繳納稅款 (D)完善的售後服務。

28. () 新聞報導：「某知名連鎖飲料店傳出職場歧視，一名聽障學生到該店打工，投履歷時就已明確告知自己因聽力問題而無法接聽電話，但到職第4天開始，店長竟然就要求他必須全天配合接電話訂單的工作，否則就要開除。」請問：這位學生可以合理向店家主張自己的權利，符合下列何項理念？ (A)永續發展 (B)綠色經濟 (C)尊重勞動 (D)工作倫理。

29. () 就「理財」的觀點而言，下列做法何者錯誤？ (A)理財要「投資」，但切忌「投機」 (B) 滿足「欲求」，而非滿足「需求」 (C)進行「消費」，但絕不可「浪費」 (D)買「需要」之物，而非買「想要」之物。

30. () 以下是阿妹研究「企業社會責任」議題時所列出的重點：

甲	製造安全、可信賴及高品質的產品。
乙	做誠實的廣告。
丙	在新技術發展完成時，以訓練來代替解雇員工。
丁	贊助教育、藝術、文化活動，或弱勢族群、社區發展計畫。

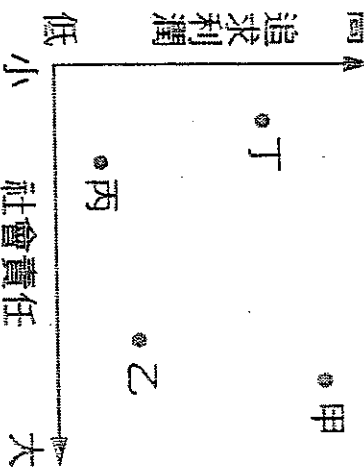
針對企業內部的人力資源，經營者應善盡其中哪項責任？ (A)甲 (B)乙 (C)丙 (D)丁。

31. () 星辰銀行成立藝術基金會，贊助藝術家到國外進修、研究、考察和創作。根據上述內容判斷，星辰銀行是以下列何種方式回饋社會？ (A)遵守法令規章 (B)從事公益活動 (C)注重員工培訓 (D)重視性別平權。

32. () 下列有關「理財風險」的敘述，何者正確？ (甲)將錢存在保險箱就沒有風險 (乙)投資股票有較高的風險 (丙)獲利愈高的理財工具風險愈大 (丁)同時選擇多種理財工具容易增加風險

33. () 政府為了籌措資金，以一定的期限與利率向投資人借款，借款時發給債權人作為償還依據的債權憑證，稱為下列何者？ (A)公債 (B)公共基金 (C)社會保險 (D)股票。

34. () 追求利潤是企業經營的目標，但亦需顧及社會責任。附圖是社會責任與追求利潤的關係圖，圖中甲、乙、丙、丁的哪一個位置，最能代表企業與社會的共榮發展？(A)甲 (B)乙 (C)丙 (D)丁。



35. () 近年來，電視機由傳統映像管電視逐漸改為平面顯示器電視，於是各電器廠商乃配合市場需求，紛紛改為生產平面顯示器電視，而原來生產映像管的勞動者擁有的生產技術無法適用新的生產活動，則面臨了失業的困境。根據上述資料判斷，造成這些勞動者失業的主要原因最有可能是下列何者？ (A)經濟不景氣 (B)投資失利 (C)財團壟斷 (D)技術不符合產業轉型的需求。

36. () 李家為籌措出國旅遊所需的 20 萬元旅費，一家人分別就現有的錢提出「開源」的理財計畫。請問：下列哪一種做法最符合「安全、低風險」的投資原則？ (A)哥哥：「購買公債，累積債券利息，等時間到了再贖回來。」 (B)姊姊：「把錢交給投資公司去操作股票，等股價上漲了再賣掉。」 (C)弟弟：「拿積蓄去購買樂透彩券，只要中大獎，旅費就全有了。」 (D)妹妹：「去購買外國貨幣，等它升值再兌換成臺幣，賺取價差。」

37. () 小玉原本是一家貿易公司的業務專員，但是她想要進入餐飲業擔任行銷企畫人員，因此辭去原來的職務。近一個月來，她頻頻上人力網站尋找求職訊息。上述小玉失業的原因，主要為下列何者？ (A)經濟不景氣，公司倒閉 (B)技術不符合產業轉型的需求 (C)創業當老闆但因經驗不足而虧損 (D)個人尋求轉換工作。

38. () 小康康任職某出版社編輯，每月薪資約 35,000 元，因對薪資不滿意，於是決定自己成立一家雜誌社，若與就業時相比，他需要承擔何種風險？ (A)收入可能較高，但工作量會增加 (B)收入不穩定，可能大賺一筆，也可能面臨倒閉 (C)工作不自由，工作時間必須待在辦公室監工 (D)小小的雜誌社無法發展成為大企業。

39. () Duskin 是日本出租業的老字號公司，該公司推出拖把與腳踏墊的出租業務，經由統一回收清洗機制，不僅降低一般家庭清潔及丟棄的負擔，而且在水、用電及清潔劑使用量上，僅達一般清洗的 1/12，環保效果驚人。Duskin 公司做法符合下列何者？ (A)提升勞資關係 (B)重視環保節能 (C)注重並維護員工福利 (D)遵守法令規章。

40. () 新聞報導：「某知名的糕餅業者將有效期限僅剩 15 天的鳳梨酥等產品，竄改效期標籤後再於門市販售，讓消費者誤以為是剛出爐不久的新品，

- 食藥署責令改標的產品應立即下架，同時依法最重罰400萬元。業者坦承因陸客大減造成業績下滑，這是部分門市員工自作主張的行為。」請問：業者的行為違背了哪方面的企業責任？ (A)對環境的責任 (B)對員工的責任 (C)對消費者的責任 (D)對股東的責任。
- 41.()小丸子畢業後投入生技產業，在忙碌的工作之餘也會進修專業，充實知能，他的精神符合何種概念？ (A)環境倫理 (B)工作倫理 (C)企業倫理 (D)社會責任。
- 42.()立法院因「一例一休」法案造成爭議，近日欲修法，院外亦有禁食抗議修法民眾集結，請問關於規範勞資雙方基本權利與義務的法律是下列哪一種？ (A)《勞動基準法》 (B)《人民團體法》 (C)《就業保險法》 (D)《就業服務法》。
- 43.()傳統觀念相信「有土斯有財」，請問指的是哪種投資工具？ (A)股票 (B)合資公司 (C)共同基金 (D)房地產。
- 44.()民民剛畢業，成為社會新鮮人，剛踏進社會的他，應對工作抱持何種態度？ (A)工作就是為了賺錢，過一天算一天 (B)錢多事少離家近，沒事不要找事擔 (C)對於工作熱情投入，選擇自我實現 (D)能摸魚就摸魚，越輕鬆越好。

★請根據表中內容回答問題：

人物	投資工具	描述內容
海綿寶寶	甲	我看好一間上市公司的獲利潛力，決定借錢給這間公司，以後他得連本帶利還錢給我哩！
蟹老闆	乙	我工作太忙，所以請人幫忙管理我的錢，每個月都會收到投資損益的報告。
小蝸	丙	我買錢，也賣錢，去年初我投入 50萬元到投資帳戶，到年底時帳戶裡有 65萬元了。

- 45.()一般而言，哪一項投資工具風險最低？
 (A)甲 (B)乙 (C)丙 (D)全部都是低風險。

- 46.()海綿寶寶的投資工具最可能為何？
 (A)股票 (B)債券 (C)共同基金 (D)保險。
- 47.()小蝸去年的投資報酬率是多少？
 (A)15% (B)16% (C)23% (D)30%。

- ★李老闆二年前自行開店創業，經營一家日式咖哩餐飲店，堅持不使用來路不明、標示不清的食材，非常講究食品安全與新鮮、衛生問題。近來李老闆秉持「取之於社會，用之於社會」的精神，與三民街友中心合作，首推愛心關懷餐券，一年發放四百個便當，協助弱勢群體得到溫飽。請回答下列問題：
- 48.()李老闆自行開店創業，顯示其日式咖哩餐飲店為何種企業經營型態？ (A)合夥企業 (B)獨資企業 (C)股份有限公司 (D)公益團體。
- 49.()李老闆秉持「取之於社會，用之於社會」的精神，發放愛心關懷餐券，此一作為符合下列何種概念？ (A)工作倫理 (B)分散風險原則 (C)需求法則 (D)企業倫理。
- 50.()李老闆與街友中心合作，一年發放四百個便當，協助弱勢群體得到溫飽，展現企業對下列何者的責任？ (A)消費者 (B)員工 (C)社會 (D)政府機構。

請用 2B 鉛筆依題號在電腦卡上作答，電腦讀卡時無法判斷身分者，扣總分 10 分。

範圍：第五冊 L.5-L.6

班級：_____ 座號：_____ 姓名：_____

基隆市立武崙國中 106 學年度第一學期第三次段考九年級社會試卷歷史科

一、單選：(每題 2 分，共 72 分)

- () 工藤新一在一位科學家的傳記中讀到一段話：「地球重力的吸引作用會賦予物體重量，並使它們向地面落下。」依此研判，這最有可能是哪位科學家的傳記？ (A) 牛頓 (B) 哥白尼 (C) 希羅多德 (D) 阿基米德。
- () 主張「我思故我在」，並強調一切知識，都必須經過客觀的邏輯推演來獲得知識的科學家為下列何人？ (A) 培根 (B) 笛卡兒 (C) 伽利略 (D) 哥白尼。
- () 哥白尼與伽利略的學說均受到基督教會的壓迫，主要是因為他們的何種學說與教會思想產生爭端？ (A) 物種起源 (B) 優勝劣敗 (C) 適者生存 (D) 太陽中心說。
- () 「所有觀察到的烏鴉都是黑的，所以烏鴉都是黑的」，這種由觀察現象而建立通則的方法，就是下列何種科學方法？ (A) 演繹法 (B) 歸納法 (C) 猜測法 (D) 實驗法。
- () 科學革命是天才的世紀，下列何者並非科學革命所帶來的影響？ (A) 宗教成為人們的主要信仰 (B) 帶動啟蒙運動的興起 (C) 建立新的科學宇宙觀 (D) 奠定歐洲邁向富強根基。
- () 英國皇家學會的歷史可追溯自西元 1660 年，為世界上最古老的科學研究機構之一。學會對推動科技的發展不遺餘力，牛頓、達爾文、愛因斯坦等人都曾加入皇家學會的會員。獲選為該會會員，被視為崇高的榮譽。請問：英國皇家學會應成立於哪一個時期？ (A) 文藝復興 (B) 宗教改革 (C) 地理大發現 (D) 科學革命。
- () 十八世紀時，歐洲出現了一種新的政治模式，被稱為「開明專制」。請問：開明專制的主要特色應該為何？ (A) 國王兼管宗教事務，澈底擺脫羅馬教會的控制 (B) 君主雖採專制統治，但標榜宗教寬容、鼓勵言論自由 (C) 國家的重要政策均由元老院決議，再
- () 這位十七世紀末葉即位的俄國君主以西歐的制度做為改革的參考，進行一連串的改革，其中教育與社會的改革為其西化措施中最顯著的一環。請問：這位君主應是下列何者？ (A) 路易十四 (B) 腓特烈大帝 (C) 彼得大帝 (D) 凱薩琳二世。
- () 歐洲哪一個建築最能表現出十七世紀專制王權的舊日輝煌？ (A) 帕德嫩神廟 (B) 凡爾賽宮 (C) 聖索菲亞大教堂 (D) 萬神殿。
- () 古埃及人相信，埃及法老是以太陽神之子的身分在人間施行神權統治，這和近代歐洲的哪種思想比較接近？ (A) 人文主義 (B) 議會制度 (C) 君權神授 (D) 天賦人權。
- () 專制王權國家創建時，整個政治體制走向高度中央集權，主要是因為國王握有許多優勢，這些優勢不包括下列何者？ (A) 國王擁有常備軍 (B) 國王可以否定國會的法案 (C) 國王握有行政、司法權 (D) 控制財稅制度。
- () 十八世紀有一位普魯士國王喜歡收集畫作、吟詩譜曲，與當時著名學者伏爾泰來往甚密，曾說：「國王非專制的主人，而是國家的第一公僕。」請問這位普魯士國王是誰？ (A) 斐迪南二世 (B) 拿破崙三世 (C) 腓特烈二世 (D) 彼得三世。
- () 下列哪一文件確立英國國會為最高立法機構，使英王成為虛位元首？ (A) 《權利法案》 (B) 《大憲章》 (C) 《獨立宣言》 (D) 《人權宣言》。
- () 英王查理一世因為信仰天主教，又篤信君權神授，實行專制統治，於是與國會發生衝突，最後查理一世被處死。請問：這場衝突為何？ (A) 光榮革命 (B) 百年戰爭 (C) 宗教戰爭 (D) 清教徒革命。

15. () 十三世紀時，英國出現一個限制王權、保障民權的文件，並由約翰王加以簽署。請問：這份文件應是指下列何者？ (A)《大憲章》 (B)《社會契約論》 (C)《君王論》 (D)《九十五條論綱》。
16. () 關於英國十九世紀民主政治狀況，下列敘述何者正確？ (甲)國會議員選舉仍有嚴格的財產權限制 (乙)議員席次未隨社會變遷做調整 (丙)西元1832年改革後的英國婦女仍未有選舉權 (丁)經歷了二月革命和七月革命後獲得改革。 (A)甲乙丙 (B)甲乙丁 (C)甲丙丁 (D)乙丙丁。
17. () 在民主國家的行政權，通常有「總統制」及「內閣制」兩種。下列對「責任內閣制」的敘述何者正確？ (A)責任內閣制最早出現於十六世紀的英國 (B)國會選舉之後，由下議院的多數黨來組閣 (C)責任內閣是對國王負責 (D)責任內閣擁有立法權。
18. () 電影「黛妃與女王」描寫英國黛安娜王妃意外身亡後，英國皇室和英國政府之間的微妙互動。英國女王伊利莎白二世和首相布萊爾間象徵傳統與新銳兩種不同的勢力，彼此缺乏共識、明爭暗鬥的情景不斷上演。關於英國女王與首相的關係，下列敘述何者正確？ (A)伊利莎白二世為政務的實際掌管者，布萊爾並無實權而須聽命女王 (B)布萊爾所屬的政黨在下議院獲得席位較少，因而與女王產生衝突 (C)英國採取三權分立制度，女王可罷黜布萊爾的職位 (D)英王為虛位元首，英國內政由首相布萊爾負責。
19. () 林肯是美國的第十六任總統，也是美國公認最偉大的總統之一。請問：下列何者是林肯的事蹟？ (A)領導殖民地軍隊對抗英軍 (B)結束南北戰爭重歸統一 (C)建國有功被稱為美國國父 (D)召開會議發表《獨立宣言》。
20. () 美國獨立之後，北方與南方在政治與經濟上的歧見日益擴大，最後爆發「南北戰爭」。請問：此次戰爭爆發的主要原因為何？ (A)蓄奴問題 (B)徵稅問題 (C)貧富差距問題 (D)宗教自由問題。
21. () 現代民主國家的政府，主要分為總統制與內閣制兩種，現今總統制與內閣制的代表國家分別為何？ (A)美國；法國 (B)英國；法國 (C)美國；英國 (D)英國；美國。
22. () 十八世紀著名的歷史文件《獨立宣言》中提到：「政府的正當權力均由人民同意而產生，當政府一旦違反，人民有權推翻政府。」由內容來看，這反映了啟蒙時期的哪項理論？ (A)君權神授 (B)三權分立 (C)主權在民 (D)因信得救。
23. () 美國在獨立建國後，制定了世界上第一部成文憲法。請問：美國憲法中關於政府運作方式的規定，主要是依據下列何人的學說？ (A)馬克思 (B)馬丁路德 (C)哥白尼 (D)孟德斯鳩。
24. () 十八世紀時，美、法兩國因為統治者加徵稅收，而分別爆發獨立運動及流血革命。當時這兩國都是因為發生何事而開支大增，以致於需要加徵新稅？ (A)宗教改革 (B)海外拓殖 (C)文藝復興 (D)對外戰爭。
25. () 拿破崙崛起之初可說是所向無敵，但是在征伐哪個國家失敗之後，其所建立的帝國開始瓦解？ (A)普魯士 (B)俄國 (C)奧國 (D)荷蘭。
26. () (甲)法國大革命與《人權宣言》 (乙)光榮革命與《權利法案》 (丙)美國獨立運動與《大憲章》 (丁)拿破崙戰爭與《獨立宣言》。以上是各事件與其相關文件的配對，下列何者是正確的？ (A)甲乙 (B)甲丁 (C)乙丙 (D)丙丁。
27. () 法國大革命後，雖然革命的理想在一時之間無法落實，但是「自由、平等、」隨著法國強人的軍事擴張而傳播。請問：應填入下列何者最正確？ (A)公正 (B)民主 (C)權利 (D)博愛。
28. () 小蘭正在閱讀一本關於法國某位國王的傳記，這位國王的下場是遭人送上斷頭臺處死。請問：這位國王應是下列何者？ (A)拿破崙 (B)路易十四 (C)路易十六 (D)詹姆士二世。
29. () 老師指導同學排演「三級會議」的歷

- 史劇，藉此幫助同學了解法國大革命
的經過。請問：其中哪個角色的臺詞
與史實不符？ (A)教士：「我們三百
人共同屬於第一階級。」 (B)平民：
「我們人數最多，擁有的票數也最
多。」 (C)貴族：「我們和教士的立
場相近，所以聯手否決平民的主
張。」 (D)國王：「政府負債沉重，
所以召開這次的三級會議。」
30. () 法國大革命並沒有像美國獨立革命一
樣獲得西班牙、荷蘭等國的支持，歐
洲甚至組成反法聯盟以干預法國的革
命，其主要原因為何？ (A)與法國
爭奪海外市场 (B)唯恐受到革命波
及 (C)趁機消滅法國政權 (D)法國
與歐洲各國結怨太深。
31. () 西元1852年他當上法國皇帝，即位後
積極對外擴張，曾經在西元1858年
與1860年發動英法聯軍之役，並奪
取越南。請問：這個皇帝是下列何
者？ (A)拿破崙 (B)路易十六 (C)
路易拿破崙 (D)羅伯斯比。
32. () 歷史老師說：「西元1848年，法國發
生革命，推翻原有的國王，成立法國
第二次的共和體制。」老師所指的是
法國哪一次革命運動？ (A)光榮革
命 (B)七月革命 (C)二月革命 (D)
清教徒革命。
33. () 共產主義重要思想家恩格斯，曾針對
西元1814~1815年間召開的某次會
議說過：「帝王們分配贓物和獎金，
商量能將革命前的形勢恢復到何種程
度，民族被買進和賣出、分割和合
併，只為符合統治者的利益。」請
問：關於此會議的敘述何者錯誤？
(A)由奧國首相梅特涅所主導 (B)召
開的背景是拿破崙戰敗 (C)依循公
平與民主原則來重新安排各國土地
(D)「革命前的形勢」是指法國大革
命前歐洲各國皇室的統治。
34. () 下列事件皆與法國有關，請依照發生
的時間先後排列：(甲)七月革命 (乙)
攻陷巴士底監獄 (丙)恐怖統治 (丁)
二月革命 (A)甲丁丙乙 (B)乙丙甲
丁 (C)丙乙甲丁 (D)丙乙丁甲。
35. () 拿破崙戰敗後，歐洲各國召開維也納
會議，討論戰後秩序重建與領土分配
問題。請問：維也納位於哪一個國

- 家？ (A)法國 (B)義大利 (C)奧
地利 (D)普魯士。
36. () 學習歷史，必須能區分「歷史事實」
與「歷史解釋」的不同。請問：下列
何者屬於「歷史解釋」？ (A)維也納
會議是一個保守反動的國際會議 (B)
拿破崙戰敗後，歐洲各國召開維也納
會議 (C)奧國首相梅特涅主導維也
納會議的進行 (D)維也納會議後，
西歐長達半個世紀沒有大規模戰爭。

二、題組(每個答案2分，共28分)

1. 「政治權力，就是每個人把他在自然狀態中
擁有的權力交給政治社會，從而由政治社會掌
握的這種權力。……當這一權力在自然狀態中
為人人所有的時候，它的目的和尺度在於保護
他的社會的一切成員；當它為官吏所有的時
候，除了保護社會成員的「甲」、自由和「乙」
以外，就不能再有別的目的或尺度。……政治
權力僅起源於契約和協議，以及構成政治社會
的人們之間的相互同意。」請回答下列問題：
() (37)下列哪一項是此位學者的政治理論？
(A)天賦人權 (B)三權分立 (C)君權神授
(D)自由貿易。
- () (38)承上題，啟蒙時代的學者多秉持何種
思想來提出主張？ (A)浪漫主義 (B)理性主
義 (C)超現實主義 (D)古典主義。
- () (39)引文中的「甲」和「乙」各應填入什
麼？ (A)聲名、權力 (B)地位、階級 (C)
職業、身分 (D)生命、財產。
- () (40)下列哪一位學者受到引文作者觀點的
影響，進一步強調「公共意志」、「主權在民」？
(A)伏爾泰 (B)亞當斯密 (C)孟德斯鳩 (D)
盧梭。
2. 十八世紀啟蒙運動的展開，象徵理性主義
時代的來臨，凡事都可以用科學的方法來驗
證。啟蒙運動時期的主軸在於政治理論的發
展，現代政治制度大都奠基在此時期，對於後
世許多歐美國家的發展也帶來很大的影響。請
回答下列問題：
- () (41)下列哪項敘述不應出現在啟蒙運動思
潮之中？ (A)相信人類社會與自然世界一樣
有規律可循 (B)啟蒙運動的政治理論對後來
的美國獨立戰爭與法國大革命深具啟發性 (C)
盧梭闡揚「天賦人權」理論，認為人類生而擁
有生命、財產與自由的權利 (D)孟德斯鳩主
張三權分立，限制王權與保障人民自由。
- () (42)啟蒙運動思想家以出色的政治理論成

為這個時代的特色，而這個時代的政治理論多半強調人民的自由與權利。下列哪一位啟蒙時代思想家的著作並不屬於上述的範疇？ (A) 洛克：《政府論》 (B) 亞當斯密：《國富論》 (C) 孟德斯鳩：《法意》 (D) 盧梭：《社會契約論》。

() (43) (甲)行政 (乙)監察 (丙)立法 (丁)司法 (戊)考試。上述何者為孟德斯鳩提出的三權概念？ (A)甲乙丙 (B)甲丙丁 (C)乙丙戊 (D)丙丁戊。

3. 下表是工業革命期間一些重要的發明。請根據表中內容，回答下列問題：

發明者	國籍	年代	發明物
約翰·凱		1733年	飛梭
詹姆斯·瓦特	(甲)	1781年	蒸汽機
漢·戴維		1815年	礦工燈
喬治·史蒂芬生		1829年	蒸汽火車頭

() (44) 從工業革命的發源地推論，表中的甲應為下列何者？ (A)美國 (B)法國 (C)英國 (D)德國。

() (45) 承上題，下列哪些因素是該國能率先出現工業革命的原因？ (甲)政治安定，私人財產獲得保障 (乙)農業技術改良，吸引更多勞務務農 (丙)政府嚴格干預商業發展 (丁)煤礦資源豐富 (戊)航運便利 (A)甲乙丙 (B)甲丁戊 (C)乙丙戊 (D)丙丁戊。

() (46) 從表中「發明物」的發明時間來看，工業革命應從哪一產業的技術革新開始？ (A)運輸業 (B)採礦業 (C)紡織業 (D)印刷業。

() (47) 從表中「發明物」的演進來看，可以用下列哪一句話來說明？ (A)「學者致力於古典希臘、羅馬精神之再生」 (B)「航海技術進步，歐洲人得以發展海權」 (C)「科學發明日新月异，『十七世紀是天才的世紀』」 (D)「機器取代人力，技術變革的影響擴及其他層面」。

() (48) 生產技術的改進使工廠制度應運而生，也造成了許多問題，例如鍋爐的操作者可能就是薪資微薄的童工，這是工業革命產生的哪種負面結果？ (A)資本主義說因而逐漸興起 (B)人口大量流往鄉村 (C)勞工被當作生產工具來剝削 (D)社會主義的弊端漸為人重視。

() (49) 貧富差距拉大、勞工階級生活困苦等社會問題，最後促使何者興起，成為日後共產主義的根源？ (A)社會主義 (B)民主主義 (C)封建體制 (D)帝國主義。

() (50) 共產主義由何人提出？ (A)馬克思 (B)梅特涅 (C)羅伯斯比爾 (D)洛克。