

基隆市立武崙國中 106 學年度第二學期 八年級 歷史科 考試卷

年 班 座號： 姓名：

一、選擇，每題 2 分



- () 阿寶是一位在清乾隆年間至中國做生意的英國商人，當時他不能與中國商人直接進行貿易，凡事都要通過某一機構進行，因此覺得十分不方便。請問：此機構應為？(A) 洋行 (B) 布船公司 (C) 行郊 (D) 公行。
- () 英國曾經先後派遣兩位使者來到中國，但最後都不幸失敗。究其失敗的原因，最主要的因素為：(A) 跪拜禮儀問題。(B) 英使不願意進貢稱臣 (C) 英使威脅武力侵略 (D) 慈禧太后從中作梗。
- () 鴉片戰爭是清末時西力入侵的第一場戰爭，這場戰爭的遠因為何？(A) 外國要求增開臺灣通商口岸 (B) 英國想要打開在中國的貿易限制 (C) 要求中國賠償英國的貿易損失 (D) 英國希望能在北京派駐公使與軍隊。
- () 四寶在天在歷史課堂上大鬧，歷史老師盛怒之下要他們說明：「中英南京條約及其續約的內容。」若沒有答對就必須留校察看。
大寶：「條約中開放五口通商，其中包括臺灣開港。」
二寶：「在上海設立租界，形成國中有國。」
三寶：「外國公使從此可以入駐北京。」
小寶：「澳門割讓成為英國殖民地。」
請問：四寶中只有哪位同學「不需要」留校？(A) 大寶 (B) 二寶 (C) 三寶 (D) 小寶。
- () 《南京條約》的簽訂使英國得到許多利權，但仍舊未使中國全面開放通商。因此，英國處心積慮的希望使鴉片貿易在中國合法化，促使中國開放全面性的通商。請問：為達成這樣的目的，當時英國的做法為何？(A) 藉口亞羅船事件引發另一場戰爭 (B) 與清廷重新修改條約 (C) 派遣馬加爾尼來華交涉 (D) 藉口西林教案引發戰爭。
- () 第一次英法聯軍清廷戰敗，與列強簽訂中英法《天津條約》，下列哪些是條約的內容？(甲) 開放長江沿岸通商 (乙) 割讓九龍司給英國 (丙) 外人赴內地遊歷傳教 (丁) 開放天津為通商口岸 (A) 甲乙 (B) 甲丙 (C) 乙丙 (D) 乙丁。
- () 臺灣地區在□□以後，開放了四個通商口岸，使得貨物的進出口貿易更加繁盛，呈現出洋商、洋行在通商口岸林立的景象。請問：□□指的是什麼？(A) 鴉片戰爭 (B) 中法戰爭 (C) 甲午戰爭 (D) 英法聯軍。
- () 海參崴位於烏蘇里江以東，三面臨海，有優良的港灣，是俄羅斯在遠東地區最大的城市，也是俄羅斯太平洋艦隊司令部所在地。但這個地區原本是中國的領土，卻在下列哪個條約中，割讓給俄國？(A) 《南京條約》 (B) 《璦琿條約》 (C) 《北京條約》 (D) 《天津條約》。
- () 下列哪次戰爭後所簽訂的條約，讓外國人開始能進入中國內地遊歷傳教，促使西方傳教士紛紛赴各地傳教、辦學，影響了不少中國人的思想與行為模式？(A) 甲午戰爭 (B) 英法聯軍 (C) 鴉片戰爭 (D) 中法戰爭。
- () 清朝末年的洪秀全在科舉考試不順遂之際，接觸到來自西方的思想，於是開始在地方上宣傳新的宗教思想。請問：他當時所創立的組織為何？(A) 拜上帝會 (B) 太平會 (C) 天地會 (D) 白蓮教。
- () 接上題：中國歷史上哪一場亂事，也是以宗教名義而作亂？(A) 黃巢之亂 (B) 黃巾之亂 (C) 三藩之亂 (D) 永嘉之亂。
- () 韋小寶是生活於晚清太平天國統治地區的男子，在領導人洪秀全最初頒佈的制度下，請問：哪一件事不會發生在韋小寶身上？(A) 閒暇時間讀四書五經，平時祭祖拜孔 (B) 依天朝田畝制度，土地按口分配 (C) 財物全歸公，由聖庫統一發給 (D) 女性可以參加科舉並任官
- () 一份清朝史料記載道：「因為地方軍隊平定太平天國亂事，使曾國藩等人的手下將領因為功績而被擢升，成為地方上實際掌握權勢者。」請問：這個事件的影響何者錯誤？(A) 長江中下游經濟破壞 (B) 滿人積極重整入旗軍隊 (C) 使漢人的勢力大為提升 (D) 促成自強運動的展開。

14. () 自強運動作為清末中國第一個改革運動，遇到的困難重重，但是也不至於全然失敗。請問：下列的敘述中，何者不足以說明自強運動的成就？ (A) 成立新式海軍北洋艦隊 (B) 選派幼童赴歐美留學 (C) 廢除科舉八股文取士 (D) 設立同文館、廣方言館等。
15. () 大寶到北京旅遊，想去參觀有「萬園之園」之稱的圓明園，但是一到那裡卻大失所望，到處都是斷垣殘壁，一片殘破不堪的景象，完全沒有萬園之園的豪華與氣派。請問：大寶想了解圓明園殘破的原因，應該查閱下列何項資料？ (A) 《中法戰爭始末》 (B) 《南京條約下的中國》 (C) 《炮火中國——英法聯軍之役》 (D) 《鴉片戰爭始末》。
16. () 自強運動開辦的過程中，遇到重重的阻礙。下列關於其失敗的敘述，何者不正確？ (A) 守舊派反對勢力龐大，推動者的見識也有限 (B) 地方督撫合作無間，其中以東南各省的整合最成功 (C) 偏重器物層面的改革，思想方面的革新不足 (D) 中央和地方各行其政，無法做出整體性的規畫。
17. () 大寶是自強運動期間在中國經商的商人，在經商的過程中，為了關稅的多寡問題與中國官方發生衝突與糾紛，他應該向下列哪個機構反映他所遭遇到的不平等待遇？ (A) 總理衙門 (B) 江南機器製造局 (C) 同文館 (D) 輪船招商局。
18. () 自強運動為中國清末以來第一場西化改革運動，究其開始到結束，都是因為戰爭的緣故。請問：令其開始與結束的戰爭分別為？ (A) 鴉片戰爭，甲午戰爭 (B) 英法聯軍，中法戰爭 (C) 英法聯軍，甲午戰爭 (D) 鴉片戰爭，中法戰爭。
19. () 中日甲午戰爭結束以後，中國與日本簽訂了《馬關條約》，將幾個地方割讓給日本，其中有一個地方的割讓引起俄國的不滿，俄國便聯合其他國家一同干涉。請問：俄國干涉的是哪個地方的割讓？ (A) 臺灣 (B) 遼東半島 (C) 澎湖 (D) 九龍司。
20. () 《中國近代史》一書中寫道：「日本藉口『保民義舉』，迫使清朝放棄此地的宗主權，緊接著日本在光緒 5 年便將此地收歸為版圖。」請問：此地指的是何處？ (A) 緬甸 (B) 琉球 (C) 越南 (D) 朝鮮。
21. () 大寶說道：「這幾年外商在通商口岸設廠的比例增加了，許多中國人到外商的工廠去工作，使中國本土的商人生意大受影響。」請問：大寶所說的應該是什麼時期以後的現象？ (A) 鴉片戰爭以前 (B) 鴉片戰爭以後 (C) 英法聯軍以後 (D) 甲午戰爭以後。
22. () 太平天國為亂 14 年的時間才宣告結束，這場清末規模最大、影響最巨的太平天國之亂歷經哪幾個皇帝？並請按照皇帝的年號順序加以排列：甲、道光；乙、光緒；丙、同治；丁、咸豐 (A) 甲丙丁 (B) 丁丙乙 (C) 甲丁丙 (D) 乙丙丁。
23. () 光緒 21 年，康有為與其他舉人共一千餘人聯合上書清光緒皇帝，要求「拒和、遷都、再戰、變法」。請問：這是當時的知識分子對下列哪個條約的憤怒所致？ (A) 《南京條約》 (B) 《北京條約》 (C) 《馬關條約》 (D) 《瓊瑯條約》。
24. () 戊戌變法僅僅推動一百多天便宣告失敗，參與新政的人士不是被逮捕，便是被迫逃往海外。請問：導致新政失敗的最大原因為何？ (A) 慈禧太后發動戊戌政變 (B) 地方領導人數衍塞責 (C) 外國勢力的干預 (D) 強調軍事武器的革新不符合實際需求。
25. () 清代中後期，外國勢力陸續入侵，清廷無力對抗，因此簽下了許多喪權辱國的條約。附表是其幾個條約和其代表的意義。請問：何項錯誤？ (A) 甲 (B) 乙 (C) 丙 (D) 丁。

甲	中英《南京條約》： 近代第一個不平等條約
乙	中俄《璦琿條約》： 喪失領土最多的條約
丙	中英法《天津條約》： 外國勢力深入內陸
丁	中俄《北京條約》： 喪失東南的領土

26. () 康康學院舉辦一場學術討論會，主題以王安石、張居正、康有為等人的歷史事件做介紹。這次討論會的主題最可能是下列哪一項？ (A) 歷史變遷下的變法改革 (B) 科技發展的歷史人物 (C) 中國文學發展的傳承 (D) 中國與西方的文化交流

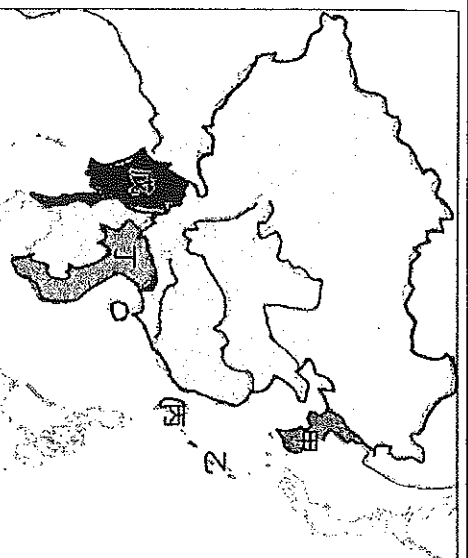
27. () 「共產主義」不贊同財產私有制，主張財富不該集中在少數人手中，應為所有人共有。在歷史上，下列何者也有類似的概念？ (A)唐代的「坊市制度」 (B) 太平天國的「聖庫」制度 (C) 明代的「一條鞭法」 (D)臺灣的「三七五減租」政策。
28. () 歷史老師上課時說道：「瓜分風潮時的中國處境真可用『人為刀俎，我為魚肉』來形容，處境堪憐，要不是發生□□，中國也不會面臨如此大的危機。」請問：□□所指為何？ (A)鴉片戰爭 (B)英法聯軍 (C) 中法戰爭 (D)甲午戰爭。
29. () 清末的瓜分風潮，列強向滿清政府提出哪些訴求？ (甲)各國軍隊進駐北京 (乙)租借臺灣 (丙)實行君主立憲政體 (丁)劃分勢力範圍 (A)甲乙 (B)甲丙 (C)乙丁 (D)丙丁。
30. () 中國通商口岸的開放，影響著外商在中國的貿易活動是否能順利進行，左圖與右圖是中國兩個不同時期所開放的通商口岸，因為什麼樣的因素，讓原本只有一口通商的中國，接連開放五個通商口岸？ (A)簽訂《南京條約》 (B)簽訂《天津條約》 (C)簽訂《璦琿條約》 (D)太平天國之亂爆發。



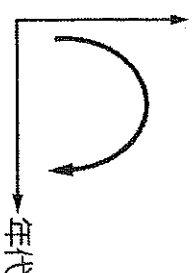
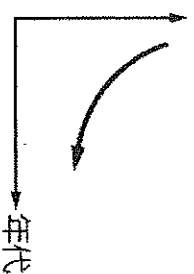
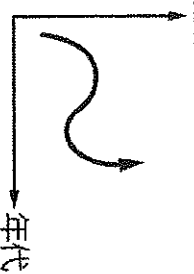
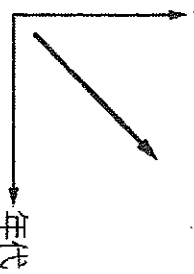
31. () 阿寶對一件事情發表評論說道：「政策的推動太多太急，加上人事未有良好的配合，朝中新舊派系衝突激烈，當政者又未握有實權，以上種種都導致此活動無法成功，但仍舊喚起了知識分子對國家危亡的使命感。」請問：阿寶評論的當政者是指哪一皇帝？ (A)咸豐 (B)同治 (C)光緒 (D)宣統。
32. () 日本在《馬關條約》中，獲得在中國各通商口岸設立工廠的特權。英、法等國雖與此條約無關，但同樣享有這項特權。這樣的情形，與中英、中法條約中哪項規定有關？ (A)協定關稅 (B)領事裁判權 (C)片面最惠國待遇 (D)五口通商。
33. () 李鴻章是中國近代史非常重要的歷史人物，他的一生與中國的命運息息相關。請問：下列何者不是李鴻章的生平事蹟？ (A)組建淮軍，對抗太平天國 (B)推行自強運動 (C)代表清廷簽訂《馬關條約》 (D)協助皇帝變法改革，失敗後逃往國外。
34. () 清末曾推行「自強運動」與「戊戌變法」應付時勢之巨變。關於這兩者的比較，下列哪項敘述不符合史實？ (A)都設立培育人才的教育機構 (B)兩者的失敗都和守舊者的反對有關 (C)前者領導者有曾國藩，後者則是康有為 (D)兩者都是偏重器物層面的改革。
35. () 中國國史上有數次國都遭外強攻陷的禍亂或戰爭。請問：清朝哪一戰亂就曾攻陷國都？ (A)鴉片戰爭 (B)第一次英法聯軍 (C)第二次英法聯軍 (D)甲午戰爭。
36. () 中國因美國提出的門戶開放政策才免於被瓜分的命運。請問：美國提出門戶開放政策的原因為？ (A)同情中國，反對列強侵略 (B)為了避免引發世界大戰 (C)中國以簽訂條約為交換條件尋求其協助 (D)爭取美國自己在華的通商利益。
37. () 大寶有天去中國北京大學參觀，並對這所古老的大學產生濃厚的興趣，於是進入校史室中翻閱該校的歷史，但頑皮的大寶卻偷偷竄改了校史資料，以致錯誤百出，其中一段資料寫著：
 (甲)本校成立於清同治年間，(乙)為自強運動的改革之一，(丙)當時名為京師大學堂
 (丁)也是戊戌變法中唯一被保留下來的建設。請文：上述資料中需要修正的為：
 (A)甲乙 (B)甲丙 (C)乙丙 (D)丙丁。
38. () 廣州是一個在中國歷史上扮演重要角色的城市。請問：有關廣州，下列正確的選項為？ (A)清雍正下令僅開放此地對外貿易 (B)唐代時在此設立市舶司 (C)宋代時此地為生產瓷器的專業市鎮 (D)太平天國在此地造反建國。
39. () 西元 1898 年，紫禁城內發生政變，慈禧太后三度垂簾聽政，到處搜捕被視為亂黨的改革者，原被裁撤的部門和各類官職也重新恢復，軍政大權則由太后信任的權貴控制。下列何者是造成此事件發生的原因？ (A)自強運動 (B)百日維新 (C)八國聯軍 (D)英法聯軍。

40. () 近代中國的對外關係，由閉關自守走向商埠開放、由宗藩關係步入國際社會，這是從哪一個戰爭開始的？ (A)鴉片戰爭 (B)中法戰爭 (C)甲午戰爭 (D)英法聯軍。
41. () 李敖所著《北京法源寺》一書中，以「維新四公子」之一的譚嗣同為主角，描述他的慷慨就義喚起了中國民眾對封建政權的反抗，書中還提到慈禧太后、光緒皇帝、梁啟超、康有為等人。請問：《北京法源寺》一書以下列哪一歷史事件為背景？ (A)八國聯軍 (B)英法聯軍 (C)自強運動 (D)戊戌變法。

★中國在自強運動期間面臨日趨嚴重的外患威脅，列強虎視眈眈的以中國的藩屬為目標，藉由各種事端來奪據中國的藩屬，使中國在此期間逐漸喪失其宗主國的地位。請由附圖來回答 42-44 題：



42. () 日本在明治維新後，開始積極的對外擴張，清朝最先喪失的藩屬國是？
(A)甲 (B)乙 (C)丙 (D)丁
43. () 圖中的丁地之所以變成外國的藩屬，是因為什麼事件發生所致？ (A)甲午戰爭 (B)英法聯軍 (C)牡丹社事件 (D)中法戰爭。
44. () 光緒20年，中日爆發嚴重的衝突事件，導火線是因哪個地區而起？
(A)甲 (B)乙 (C)丙 (D)丁。
45. () 清末士紳承擔許多地方政府的職責及公共事務，包括有：參與監造道路、橋梁、水利等公共工程；主辦慈善事業與賑濟災荒；資助地方文化教育活動，甚至由於入旗、綠營不堪作戰，從某事件之後，地方士紳還得辦理團練，保衛鄉土。請問：上述「某事件」是指何者？
(A)三藩之亂 (B)鴉片戰爭 (C)太平天國之亂 (D)甲午戰爭。
46. () 下列哪個港口是19世紀中外交流的重要據點，英國商人也大量將鴉片等貨品囤積於此地。而該港口也是欽差大臣林則徐奉旨禁菸的第一站？ (A)上海 (B)寧波 (C)福州 (D)廣州。
47. () 南京為中國古都，在中國歷史上，曾經定都於現今南京的政權有哪些？(甲)東晉(乙)明朝(丙)太平天國(丁)清朝 (A)甲乙丙 (B)甲乙丁 (C)甲丙丁 (D)乙丙丁。
48. () 下列哪一張示意圖最能顯示西元18世紀末到西元19世紀中期，鴉片輸入中國的情況？
(A)數量 (B)數量 (C)數量 (D)數量



☆題目作答完畢，請細心的檢查！