

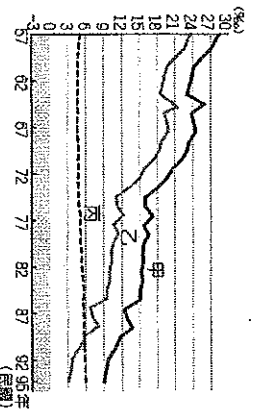
基隆市立武崙國中 106 學年度第二學期 第一次段考 七年級地理科試卷

第一大題：單選題，每題 2 分，總分 100 分。
請用 2B 鉛筆依題號在電腦卡上作答，電腦讀卡時無法判斷身分者，扣總分 10 分。
範圍：第二冊 L.1~L.2

班級：_____ 座號：_____ 姓名：_____

一、單選題 (每題 2 分)

1. () 下圖為臺灣近 40 年來出生率、死亡率與自然增加率統計圖。根據曲線變化判斷，甲、乙、丙依序代表哪項數據？

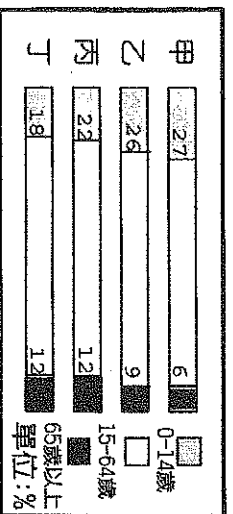


- (A) 自然增加率、出生率、死亡率
(B) 出生率、自然增加率、死亡率
(C) 出生率、死亡率、自然增加率
(D) 死亡率、出生率、自然增加率
2. () 康維國人口總數為 570 萬人，其中男性總數為 270 萬人，女性總數為 300 萬人。請問：該國性別比為何？
(A) 120 (B) 111 (C) 102 (D) 90。

3. () 下列哪個選項中的項目均屬於人口移動中的『推力』？(甲)就業機會多 (乙)政治自由 (丙)社會動亂 (丁)環境品質不佳 (A)甲乙 (B)乙丙 (C)乙丁 (D)丙丁

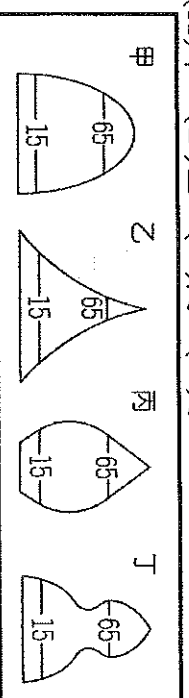
4. () 下圖甲、乙、丙、丁四個國家的人口數均為 30 萬人。請問：由圖判斷，哪個國家的人口密度最大？
(A)甲 (B)乙 (C)丙 (D)丁
-

5. () 下圖為四個區域的人口年齡組成圖，請問哪個區域的扶養比最小，勞動人口負擔最輕鬆？



- (A)甲 (B)乙 (C)丙 (D)丁
6. () 從當前台灣的人口「年齡組成」比例變化可看出哪項嚴重的人口問題？ (A)性別比失衡的問題 (B)幼年人口的教育問題 (C)壯年人口的失業問題 (D)老年人口的安養問題。

7. () 下列哪個人口金字塔最能呈現出目前臺灣農村地區缺乏人力資源的現象？



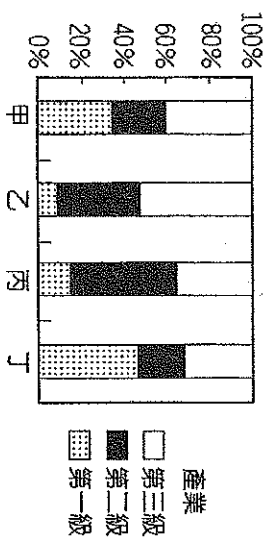
- (A)甲 (B)乙 (C)丙 (D)丁
8. () 「農無閒田」此話顯示了台灣農業具有哪些特徵？ (甲)採用大規模機械耕種 (乙)單位面積的產量較高 (丙)產品價格低，具有競爭力 (丁)農地單位面積投入的人力較多
(A)甲丙 (B)甲丁 (C)乙丁 (D)丙丁

9. () 近年來國際各機構在評比國家競爭力時，紛紛將人口素質列入重要參考要項。請問：要評定一國人口素質是否優異，必需要參考下列哪一項要素？
(A)人口分布情況 (B)人口密度高低 (C)國民教育程度 (D)人口總數多寡。

10. () 下列職業：(甲)養鴨人家 (乙)護士 (丙)玩具工廠作業員 (丁)老師 (戊)計程車司機。請問：有幾項屬於第三級產業活動？(A)二項 (B)三項 (C)四項 (D)五項

11. () 臺灣農業近年由於面對外來挑戰而積極改革創新，請問目前臺灣農業經營的方向為何？ (A)粗放式大規模機械耕作 (B)推廣精緻、休閒農業 (C)鼓勵投入大量人力 (D)拒絕外來商品進口

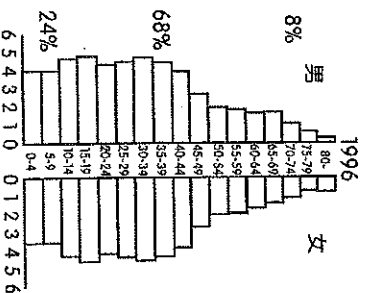
12. () 下圖是臺灣某四個縣市的人口就業結構圖，請依圖判斷哪一都市的經濟最為富庶？



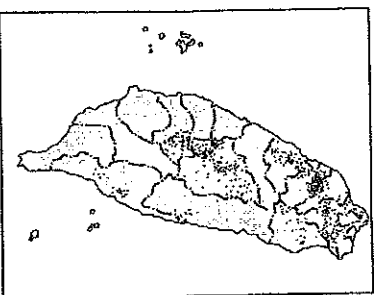
- (A)甲 (B)乙 (C)丙 (D)丁

13. () 阿哲校外教學時參觀多家現代化的畜牧場，發現業者往往單一飼養豬隻或雞隻達上萬隻，請問此種現象為現代畜牧經營的哪項特色？(A)專業化 (B)人工化 (C)機械化 (D)標準化。

14. () 『武崙國中調查顯示學生平常最喜歡吃的食物就是炸雞、薯條以及漢堡，對臺灣傳統的主食『米飯』完全不感興趣。』請問：上述國民飲食習慣改變的現象，對臺灣農業造成的最大影響為何？(A)稻米價格上升 (B)農民紛紛改種小麥 (C)稻米外銷大增 (D)稻米產量供過於求。
15. () 武崙國中七年級學生的性別比約為104，請問代表什麼意義？(A)男生比女生多104人 (B)女生比男生多104人 (C)男生比女生多 (D)女生比男生多。
16. () 臺灣海峽每年冬天隨著中國沿岸流帶來豐富的洄游魚類，其中俗稱為「烏金」的是哪一種魚？(A)黑鯧魚 (B)烏賊 (C)黑鯧 (D)烏魚。
17. () 右圖是一個人口金字塔的圖型，請依圖中的資料判斷下列敘述何者正確？

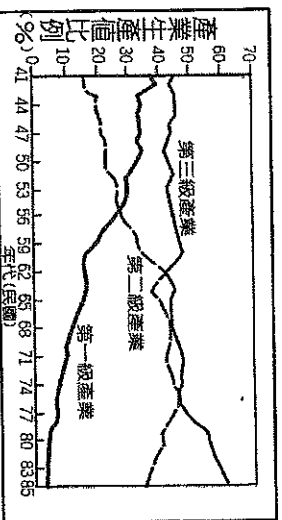


18. () 臺南市新營、柳營等地，許多居民種植牧草及飼料作物，用以飼養乳牛，生產鮮乳，以供應市場需求。我們稱此種經濟活動為？(A)放牧業 (B)酪農業 (C)養殖農業 (D)休閒牧業。
19. () 右圖為臺灣某種作物的分布圖，請依圖判斷此項農作物的類型與特色有哪些？



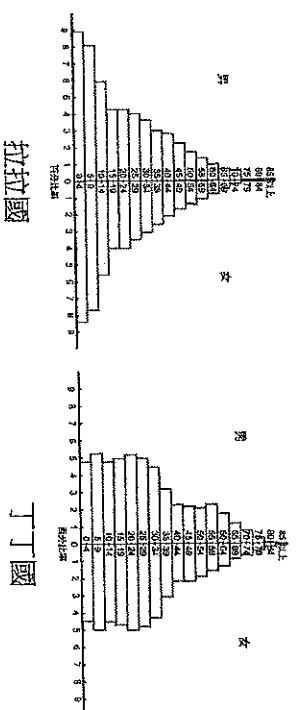
- (甲)茶 (乙)甘蔗
(丙)屬於經濟作物
(丁)屬於糧食作物
(戊)適合生長在熱帶、副熱帶平原
(己)適合生長在濕度高、霧氣重的丘陵山地
(A)甲丙己 (B)甲丁戊 (C)乙丙己 (D)乙丙戊

20. () 右圖為臺灣三大產業的產值比例變化圖，請問透過此圖可發現臺灣哪些經濟發展現象？



- (A)產業結構轉移 (B)農地拋售情況日益嚴重 (C)從事第三級產業人口逐年提升 (D)國民所得不增反減。

21. () 臺灣水果外銷種類多、品質優，舉世聞名，因而有『水果王果』之稱，請問臺灣能贏得此美名的條件為下列哪幾項？(甲)農業科技進步 (乙)農地面積廣大 (丙)地形高低落差大 (丁)犧牲工業，成就農業 (戊)緯度橫跨溫帶、副熱帶與熱帶
(A)甲乙 (B)甲丙 (C)甲戊 (D)丙丁
22. () 某地區的人口增加率為9.9%，死亡率為2%，社會增加率為0.9%，若總人口數為1000萬人，請問出生人口數為幾人？
(A)7萬人 (B)11萬人 (C)8.8萬人 (D)12.8萬人。
23. () 臺灣早期傳統農家栽種多種作物，以求溫飽和自給自足；但現代農家的農產品以供應市場需求為導向、賺取利潤為目的。此種轉變屬於下列何種現象？
(A)單一化 (B)精緻化 (C)商品化 (D)專業化。
24. () 臺灣早期森林資源豐富，有『福爾摩沙』之稱，林木外銷曾為臺灣帶來高額收益，請問是哪項因素導致現在的森林面積大為減少？
(A)地震、風災多 (B)人為過度砍伐
(C)長年嚴重病蟲害 (D)多次森林火災導致。
25. () 下列何者最不可能是造成社會增加率變動的因素？(A)阿花全家移民美國 (B)外籍配偶來臺定居 (C)新生兒不幸死亡 (D)政府引進外籍勞工
26. () 寒暖洋流交會的地區，水溫適中、浮游生物眾多，魚群聚集。黑鮪魚於每年4-6月隨哪股洋流向北洄游至臺灣周圍海域？
(A)黑潮 (B)紅潮 (C)親潮 (D)中國沿岸流
27. () 下圖為兩個國家的人口金字塔，由圖判斷，兩國在人口組成上有哪項差異？



28. () 臺灣畜牧業為了因應時代潮流，紛紛將行銷重點從傳統純粹畜牧型態轉成具有休閒娛樂的型態。下列何者是該畜牧業轉型的主要原因？
(A)人口逐年增加 (B)畜牧企業化，因應市場需求
(C)國人飲食習慣改變 (D)喝牛奶的人口減少

29. () 工業會使得生活型態有大幅改變。下列何者不是工業對生活型態所造成的影響？
 (A) 人口集中在都市 (B) 鄉村勞動力人口減少
 (C) 第二級產業活動比例上升 (D) 平均年齡上升
30. () 位於宜蘭的太平山森林遊樂區，面積高達一萬兩千多公頃，擁有明媚的翠峰湖美景，區內蘊含豐富的生態系統。從上文敘述中可以判斷，近年來臺灣在林業方向著重於下列哪項原則？
 (A) 廣闊果園、經濟發展 (B) 生態保育、永續發展
 (C) 全面砍伐物盡其用 (D) 禁止遊客入內參觀
31. () 香吉士特地為熟女妮可羅賓準備佳餚美食，如蔥爆草蝦、煙燻鱈魚、蒜泥九孔、生鮮虱目魚湯，這些美食材料主要源自於哪種類型的漁業？ (A) 遠洋漁業
 (B) 近海漁業 (C) 淡水漁業 (D) 養殖漁業
32. () 下表為粗放與集約農業比較表，其中哪項描述是正確的？

	粗放農業	集約農業
每位農民平均耕地面積	小	大
單位面積產量	較低	較高
單位面積內資本投入量	較高	較低
單位面積內勞力投入量	較高	較低

- (A) 每位農民平均耕地面積 (B) 單位面積產量
 (C) 單位面積內資本投入量 (D) 單位面積內勞力投入量
33. () 務農為生的茂伯有三個兒子，他們現在都到臺北工作，不願意從事農業，家中只有茂伯夫妻倆守著田地耕種。上述顯示臺灣農業經營的哪項特色？
 (A) 農業經營集約度高 (B) 耕地狹小 (C) 農業技術進步 (D) 農村勞動力老化
34. () 下表是甲、乙、丙、丁四地的人口資料，哪兩地是人口移入區？

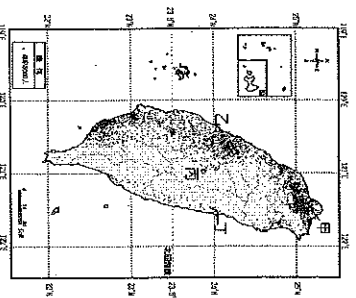
地區	出生率(‰)	死亡率(‰)	人口增加率(‰)
甲	12	12	5
乙	16	9	7
丙	3	19	15
丁	48	23	24

- (A) 甲、乙 (B) 甲、丙 (C) 乙、丙 (D) 乙、丁

*右圖為臺灣人口分布點圖。請問35~36題。

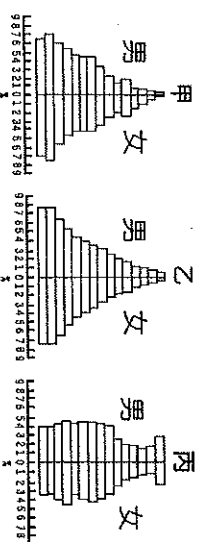
35. () 由圖中資料判斷，甲地的人口密度較高與下列哪項因素有關？

- (A) 氣候 (B) 文化
 (C) 經濟 (D) 政策。



36. () 導致臺灣東部人口密度較西部低的主要原因為何？(A) 地形阻隔，交通不便
 (B) 氣候濕冷，務農困難 (C) 斷層海岸，出入不便
 (D) 政府政策，禁止開發

*下圖為三種不同類型的人口金字塔圖。請問37~39題。



37. () 關於人口金字塔圖的判讀，下列何者『錯誤』？
 (A) 年齡為5歲一階 (B) 0~14歲為幼年人口 (C) 乙國的幼年人口數最多 (D) 能藉此圖判斷該國的經濟發展
38. () 若此三種人口金字塔分別代表臺灣人口變化的三個階段，請將其依年代順序排列？
 (A) 甲乙丙 (B) 乙甲丙 (C) 丙甲乙 (D) 甲丙乙
39. () 請問丙國未來會面臨的人口問題為下列何者？
 ① 壯年扶養負擔日漸沉重 ② 人力資源端短缺不足
 ③ 醫療衛生落後 ④ 老人照護問題
 ⑤ 學童教育設備不足 ⑥ 加強宣導節育計劃
 (A) ①②③ (B) ③④⑤ (C) ①②④ (D) ③⑤⑥

*小姿為國中七年級學生，以下表格為他的家庭成員資料。請問40~42題。

稱謂	年齡	職業
爺爺	70	自耕農
奶奶	64	無
爸爸	38	鋼鐵工廠師傅
媽媽	35	食品包裝廠作業員
伯父	40	卡車司機
伯母	36	幼稚園老師
姑姑	34	房屋銷售員
叔叔	32	作曲家
姊姊	17	高中生
弟弟	10	國小生

40. () 根據上表，小姿家中成員中，從事第三級產業活動的共有幾人？(A) 8人 (B) 6人 (C) 4人 (D) 2人。
41. () 關於小姿家中成員的敘述何者正確？
 (A) 屬於幼年人口的有 1 個 (B) 屬於壯年人口的有 7 個
 (C) 屬於老年人口的有 2 個 (D) 屬於被扶養人口的共有 3 個

42. ()小姿的叔叔即將和一位烏克蘭女性結婚並迎接他們第一個小孩，請問她的新孀孀來台定居後，對台灣人口造成的影響為何？(A)均為外國籍不會有影響 (B)新生兒和孀孀都屬於社會增加 (C)新生兒和孀孀都屬於自然增加 (D)新生兒和孀孀均屬於台灣的人口正成長。

★以下是台灣稻米生產與產銷的流程圖，請問43~46題：

甲 阿土伯是彰化平原擁有十甲地的自耕農，為因應加入□(國際性組織)所帶來的衝擊，目前改採取「有機」耕作。

↓
乙 阿土伯每季收成後把飽滿的米粒透過中間商賣給「白胖胖」公司。

↓
丙 「白胖胖」公司隨即對米粒進行加工，製成各種口味的有機米菓和袋裝米禮盒，並加以精美包裝。

↓
丁 恆生有機食品行大規模採購白胖胖公司製造的商品並販售給熱愛有機飲食的大眾。

43. ()請將上表的產銷步驟甲、乙、丙、丁依序與各別所屬的產業分級進行配對？

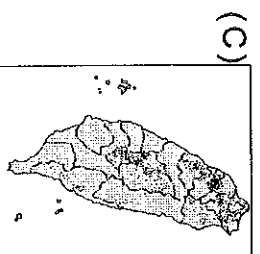
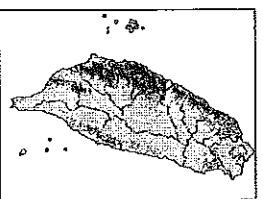
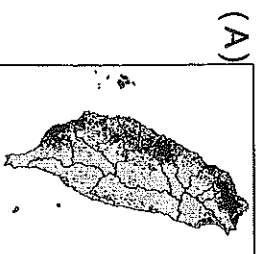
(I 第一級產業, II 第二級產業, III 第三級產業)

(A) I → III → II → III (B) I → II → III → III

(C) II → III → I → II (D) III → I → II → III。

44. ()阿土伯的有機耕種和白胖胖公司對產品的精美包裝，都是希望能提高農產品的競爭力，請問這是屬於台灣農業政策的哪個發展項目？(A)精緻農業 (B)休閒農業 (C)無毒農業 (D)認證農業。

45. ()水稻適合生長在高溫潮濕的平原地區，請問下列哪一張最可能是臺灣稻田分布圖？



46. ()甲步驟中，阿土伯是為因應台灣加入哪個國際性組織所帶來的衝擊，而改採取有機農業的耕種法？
(A)WTO (B)GNP (C)APEC (D)UN。

★附表為四個國家的人口組成，請問：

國別	14歲以下	15-64歲	65歲以上
大頭國	28%	65%	7%
大腳國	31%	60%	9%
大肚國	19%	68%	13%
大眼國	42%	54%	4%

47. ()哪個國家的人力資源最缺乏？
(A)大頭國 (B)大腳國 (C)大肚國 (D)大眼國
48. ()哪個國家的老人安養問題最需要做妥善的規劃？
(A)大頭國 (B)大腳國 (C)大肚國 (D)大眼國
49. ()大頭國的人口扶養比約為多少？
(A) 66% (B) 53.8% (C) 40.6% (D) 58.2%

(試題結束)