

基隆市立武崙國民中學 108 學年度七年級第二學期歷史科第三次段考

選擇題：1~30 題，每題 3 分，共 90 分；31~35 題，每題 2 分

- 1、阿德與家人到金門旅行，參觀某展覽館時看見展示的大量砲彈，旁邊還有說明：「『這場戰役』中，中共在四十四天內就發射了四十七萬發的砲彈，戰後，金門人將這些砲彈做為原料製成菜刀。由於砲彈鋼鐵品質極佳，所以做出來的菜刀也特別鋒利、耐用。」請問說明中的「這場戰役」指的是下列選項中哪一次武力衝突？  
Ⓐ 古寧頭戰役 Ⓑ 韓戰 Ⓒ 八二三砲戰 Ⓓ 國共內戰
- 2、政府遷臺後，中國仍放棄以武力解放臺灣，使雙方長期處於軍事對峙狀態。這些戰役中，奠定臺灣穩定，形成兩岸分治對抗局勢的是下列哪一場戰役？  
Ⓐ 古寧頭戰役 Ⓑ 八二三砲戰 Ⓒ 韓戰 Ⓓ 越戰
- 3、中華民國政府遷臺初期，對於中共的政權一直是採取敵對的態度，雙方處於軍事對立的局勢。當時我國政府的基本國策為何？  
Ⓐ 光復大陸 Ⓑ 一國兩制 Ⓒ 三民主義統一中國 Ⓓ 一邊一國
- 4、下列哪一場戰事爆發後，美國為防止共產勢力擴張，派遣第七艦隊協防臺灣海峽？  
Ⓐ 太平洋戰爭 Ⓑ 國共內戰 Ⓒ 八二三砲戰 Ⓓ 韓戰
- 5、海峽兩岸形成分裂分治局面的原因，下列選項中何者應「不」包含在其中？  
Ⓐ 圍堵共產勢力擴張 Ⓑ 國共內戰的延長 Ⓒ 韓戰的爆發 Ⓓ 民族自決的原則
- 6、民國七十六年是臺灣歷史上很特殊的一年。下列何者「不是」在這年推行的政策？  
Ⓐ 務實外交 Ⓑ 解除戒嚴 Ⓒ 開放大陸探親 Ⓓ 開放黨禁、報禁
- 7、宣布解嚴以後，由於臺灣與中共的主張不同，使兩岸情勢一度緊張。此時因為政府各項政策的開放，雙方緊繃的關係才得以減緩。下列那一政策最先施行？  
Ⓐ 成立海基會處理兩岸事務 Ⓑ 大三通 Ⓒ 開放探親 Ⓓ 兩岸文化交流
- 8、施伯伯是外省籍的在臺老兵，與家人分離了近四十年後，終於可以一償宿願，返鄉探親。這件事應該發生在下列選項的哪一個歷史事件之後？  
Ⓐ 解除戒嚴 Ⓑ 辜汪會談 Ⓒ 終止動員戡亂 Ⓓ 大三通
- 9、近年兩岸關係趨向和緩，各種交流與合作也日趨熱絡。截至民國九十九年底，海基會與海協會曾進行多次會談，簽訂多項共同協議。關於兩岸的交流，下列敘述何者正確？  
Ⓐ 臺灣方面成立海協會，負責兩岸事務 Ⓑ 大陸方面委由海基會負責對臺事務  
Ⓒ 海基會與海協會都是民間機構 Ⓓ 中國已放棄武力犯臺，兩岸逐漸走向和平
- 10、中華人民共和國對我國的態度由軍事威脅轉而以和平統戰為主，與下列何事有關？  
Ⓐ 八二三砲戰失利 Ⓑ 中華人民共和國與美國建交 Ⓒ 聯合國接納中華人民共和國 Ⓓ 臺灣民主化
- 11、下列事件依照發生年代的排列順序為何？(甲)中美斷交(乙)韓戰爆發(丙)十大建設(丁)解除戒嚴。  
Ⓐ 乙甲丁丙 Ⓑ 乙丙甲丁 Ⓒ 甲丙丁乙 Ⓓ 丁甲乙丙
- 12、小劉是臺灣農業技術團的成員，奉派前往友邦國家協助農業改良，傳授農業知識的工作。可是國際局勢變化莫測，他時常遭遇緊急撤離的情形，有時連隨身物品都來不及攜帶，就得匆匆逃離該國。這反映了我國外交遭遇的困境。小劉前往友邦技術援助，與哪項外交方針有關？  
Ⓐ 彈性外交 Ⓑ 務實外交 Ⓒ 金援外交 Ⓓ 鞏固外交
- 13、臺灣派遣醫療團隊到非洲協助邦交國解決當地衛生問題，政府與參與這項計畫的醫護人員這麼做的目的應該「不」包含下列何者？  
Ⓐ 實現自我 Ⓑ 贏得國際的敬佩與尊重 Ⓒ 積極爭取邦交國的好感 Ⓓ 展現臺灣醫療實力


14、中華民國的邦交國從民國五十九年的66國，到目前僅剩18個。造成上述情況的主要原因應該「不」包含下列何者？

Ⓐ 中共在外交上的打壓 Ⓑ 中華民國退出聯合國 Ⓒ 臺灣推動彈性外交 Ⓓ 中華民國與美國斷交  
15、民國六十年代，臺灣無論在外交上或者國內都有重大的變化。下列關於這個年代的敘述，何者「錯誤」？

Ⓐ 臺灣以烽火外交突破中共封鎖 Ⓑ 知識分子發起重視「鄉土文學」的理念

Ⓒ 經濟高度成長成為亞洲四小龍之首 Ⓓ 以三民主義統一中國面對和平統戰的宣傳

16、附圖是民國六十年代後期一群激動的民眾拿著雞蛋，丟往□□代表團座車以示抗議的漫畫，此時的臺灣更陷入國際孤立的局面。□□代表哪個國家，以及民眾抗議何事？



Ⓐ 中國，抗議服貿協議的簽訂 Ⓑ 聯合國，抗議聯合國要求中華民國退出

Ⓒ 日本，抗議日本與中共建交 Ⓓ 美國，抗議中美斷交

17、面對中國的打壓，我國採用何種方式來突破？

Ⓐ 研發攻擊性武器反制中國武力 Ⓑ 與無邦交國拓展貿易、文化與科技交流

Ⓒ 以經濟實力獲得各國直接承認 Ⓓ 向中國低頭，從此得到生存空間

18、小明在家庭相簿中看到親人小時候穿著印有中美合作的麵粉袋改製成的內衣褲的照片。這張照片的時代背景應該是下列何者？

Ⓐ 民國五十年代美國對臺灣提供經濟援助 Ⓑ 民國六十年代大量進口外國貨物

Ⓒ 民國七十年代美國低價銷售麵粉給臺灣 Ⓓ 民國六十年代進口麵粉袋改為成衣外銷

19、在高速鐵路尚未建成之前，若阿清要從高雄前往台北，他有可能會使用十大建設中哪項成果？

Ⓐ 鐵路電氣化 Ⓑ 中正國際機場 Ⓒ 北迴鐵路 Ⓓ 小港機場

20、1972年，民國61年，阿拉伯國家將「某種資源」價格提高數倍，導致世界發生經濟危機。請問這「某種資源」指的是下列何者？

Ⓐ 鋼鐵 Ⓑ 黃金 Ⓒ 石油 Ⓓ 核能

21、王伯伯在臉書上講古，說道：「在我20歲的時候，大家為了響應政府的政策，於是開始出現很多食品加工廠，生產罐頭輸出到國外。」這是政府的哪項經濟政策？

Ⓐ 進口替代 Ⓑ 出口導向 Ⓒ 土地改革 Ⓓ 十大建設

22、阿進到圖書館舊報紙區找資料時，發現民國五十年代報紙的徵人廣告，多半是某種產業所刊登的。請問，這「某種產業」應該是下列選項中的何者？

Ⓐ 科學園區 Ⓑ 煉鋼廠工人 Ⓒ 軍公教人員 Ⓓ 加工出口區

23、政府遷臺後施行的一連串土地改革，其造成的最主要的影響應該「不」包含下列何者？

Ⓐ 佃農逐漸成為自耕農 Ⓑ 農業產量提高 Ⓒ 農民生活改善 Ⓓ 土地收歸國有

24、請依據時間順序排出臺灣產業每一時期興盛時的描述：(甲)某個政策實施後惠惠的爸爸只須交給地主三成多的地租，家庭狀況改善了(乙)阿克雅到美國唸書時，在當地買的筆記型電腦就是家鄉製造的(丙)維茲的老公在加工出口區工作，有時週末還要加班(丁)和真是石化廠的技工，每天加班  
Ⓐ 甲丙丁乙 Ⓑ 甲乙丁丙 Ⓒ 丁甲乙丙 Ⓓ 丙甲乙丁

25、民國六十年代，臺灣的文學創作有了風格上的突破。此時的創作主題以下列何者為主？

- Ⓐ 關懷在地生活的鄉土文學
- Ⓑ 強調中華文化思想的創作
- Ⓒ 懷念日本時代的人文故事
- Ⓓ 大量外文的翻譯文學

26、白先勇先生在他的著作《金大班的最後一夜》中，敘述了許多當時上海燈紅酒綠的夜生活，而民國四十、五十年代的臺灣文學界，便是以懷鄉文學為主流。上述的「懷鄉」是指何處？

- Ⓐ 臺灣
- Ⓑ 日本
- Ⓒ 中國
- Ⓓ 美國

27、阿光拿著剛剛到手的 iPhone，與朋友相約在麥當勞見面，穿著輕便的阿光向朋友秀出他穿在身上的牛仔褲。吃過飯後，兩人一同上電影院觀賞新上映的好萊塢強片。請問：這種生活形態與下列何者有關？

- Ⓐ 美國流行文化傳入
  - Ⓑ 臺灣成為美國殖民地
  - Ⓒ 美國的貨物價廉物美
  - Ⓓ 越戰時大量美軍駐台
- 28、二十一世紀後的臺灣，出現了许多不同樣貌的社會現象，但不包含下列何者？

- Ⓐ 大部分人口均居住於都市中
- Ⓑ 重視原住民文化
- Ⓒ 重視本土文化的風氣排斥外來文化
- Ⓓ 新移民為臺灣注入新的生命力


29、臺北捷運的車廂內廣播有國語、臺語、客語及英語之播報服務，高鐵以及鐵路局也有這類語音廣播，有別於過去以國語為準的現象，這是哪種意識形態的表現？

- Ⓐ 選舉時為了拉攏各族群的政見
- Ⓑ 尊重多元族群的文化
- Ⓒ 去中國化，排除漢族獨尊心態
- Ⓓ 走向多種官方語言的準備

30、教育部欲出版「臺灣教育七十年」，請問：下列哪項主題內容「不」可能會出現在這本書中？

- Ⓐ 1957年開始的九年國民義務教育提升就業人口素質
- Ⓑ 政府推廣職業教育培養經濟發展所需的技術人才
- Ⓒ 增設大學，在高等教育上有長足的發展
- Ⓓ 解嚴後，母語教育、多元入學方案等等教育改革措施相繼推出

下圖為臺灣人口成長趨勢圖，請根據此回答 31 至 33 題



31、此圖無法看出下列選項中的何種趨勢？

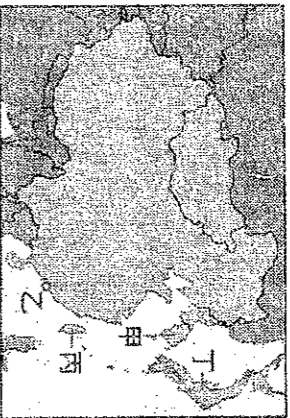
- Ⓐ 臺灣的人口會在未來幾年內開始緩步下滑
- Ⓑ 臺灣的死亡數字也是逐年上升
- Ⓒ 臺灣的出生率會在未來幾年內開始大幅下滑
- Ⓓ 臺灣以家庭計畫為手段在控制人口成長上很成功

32、1960 到 80 年代，政府推出的家庭計畫口號「不可能」是下列何者？

- Ⓐ 子女少、幸福多
- Ⓑ 增產報國
- Ⓒ 兩個孩子恰恰好
- Ⓓ 一個孩子不嫌少

33、2000年後臺灣人口成長趨於和緩，最主要的原因是下列何者？

- Ⓐ 大規模流行傳染病盛行   Ⓑ 醫療技術落後死亡率高   Ⓒ 出生率降低   Ⓓ 人口外移嚴重  
34、阿兆以亞洲四小龍作為歷史報告主題，報告中的附圖為這四個地區的分佈圖，請問此途中何者標記錯誤？



- Ⓐ 甲   Ⓑ 乙   Ⓒ 丙   Ⓓ 丁

35、承上題，臺灣之所以能列名四小龍並且一度成為四小龍之首，這可能是因為做對了什麼決策，請問下列何者應該「不」屬於正確的決策。

- Ⓐ 以十大建設為主軸完善了臺灣的基礎建設   Ⓑ 配合國際景氣帶動了國內經濟成長  
Ⓒ 發展高科技展業在電子產業上居龍頭地位   Ⓓ 與中國在政治上和解引進中國資本