


基隆市立武崙國民中學一〇六學年度第二學期第三次段考七年級地理科試題卷

注意事項：
 1. 本份試卷為單選題，每題2分，共50題，總分100分。
 2. 答案卡限用2B鉛筆畫記，若畫記錯誤，請擦拭乾淨。分數以電腦讀卡分數為準。
 3. 答案卡上的資料欄請確實填寫，若資料欄畫記錯誤導致電腦無法正確判讀，打總分10分。
 班級：七年_____ 班座號：_____ 姓名：_____

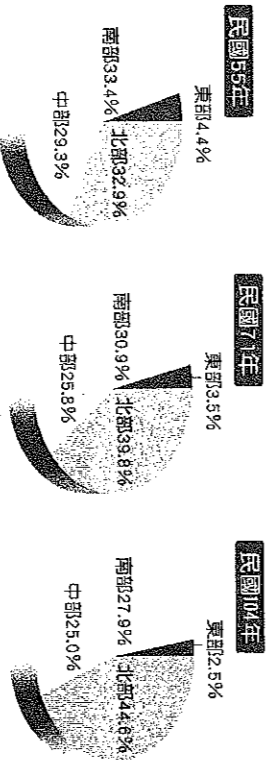
- () 1. 臺灣的中部區域不包括下列哪個縣市？(A)嘉義縣 (B)南投縣 (C)雲林縣 (D)苗栗縣。
- () 2. 大觀老師坐火車由嘉義到高雄旅行時讚嘆：「一路都是廣大的平原！」請問：大觀老師眼前的一大片平原應為下列何者？(A)屏東平原 (B)花東縱谷平原 (C)嘉南平原 (D)蘭陽平原。
- () 3. 臺灣哪一區域因地緣關係，受兩岸「小三通」的政策影響較大？(A)北部區域 (B)南部區域 (C)中部區域 (D)離島區域。
- () 4. 臺灣的各大區域中，何者是每年夏季颱風登陸最頻繁、也是地震最多的區域？(A)北部區域 (B)中部區域 (C)南部區域 (D)東部區域。
- () 5. 附表為臺灣四大區域某年家庭年平均所得最高與最低的縣市資料，由此可知哪個區域內的差異最小？(A)北部 (B)中部 (C)南部 (D)東部。

	最高	最低
北部	臺北市 162 萬	宜蘭縣 93 萬
中部	臺中市 102 萬	雲林縣 77 萬
南部	高雄市 110 萬	嘉義縣 77 萬
東部	臺東縣 85 萬	花蓮縣 83 萬

- () 6. 附圖為民國 101 年臺灣某項區域指標的比例圓餅圖。請根據圖中資料判斷，該圖圖名應為下列何者？(A)各區域超商數量比例圖 (B)各區域面積比例圖 (C)各區域人口比例圖 (D)各區域大學院校比例圖。

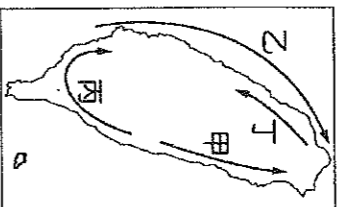


- () 7. 下列關於「南部區域」的描述，何者錯誤？(A)不包括彰化縣 (B)主要位於北回歸線以南，多屬副熱帶季風氣候 (C)多荒溪型河川，降雨集中夏季 (D)全臺乾季最長的區域，灌溉為限制農業發展的主因。
- () 8. 附圖為臺灣不同年代人口比例圖。圖中顯示，民國 55 年、71 年、104 年比較，只有北部區域人口比例持續增加，其主要為何？(A)出生率成長 (B)死亡率下降 (C)移入率增加 (D)移出率減少。

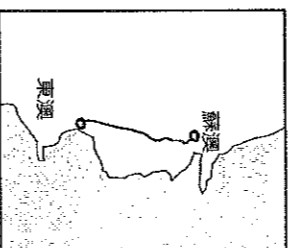


- () 9. 政府訂定「國土空間發展策略計畫」的主要目的為何？(A)促進經濟發展 (B)發展策略性工業 (C)減少區域間的發展差距 (D)縮短各階層貧富差距。

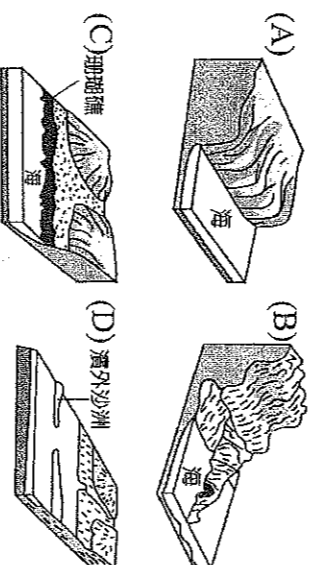
- () 10. 政治經濟重心的轉移帶動區域發展的變遷，從清領時期至今，我國政經重心變遷的方向大致為附圖中的何者？(A)甲 (B)乙 (C)丙 (D)丁。



- () 11. 附圖為蘇澳至花蓮東澳的道路改善工程計畫，預計興建多個隧道貫通，隧道總長 23.4 公里，希望改善當地對外的交通。請問：上述隧道主要是穿越哪一座山脈？(A)雲山山脈 (B)中央山脈 (C)海岸山脈 (D)玉山山脈。



- () 12. 臺灣南部的特色美食小吃吸引眾多遊客前往品嚐，其中養殖魚、蝦及鮮蚵，更是各地老饕的最愛。請問：南部區域的養殖漁業發達，主要是因為具有下列何種地形？



- () 13. 2017 年 8 月臺北舉辦世界大學運動會，世界各國的運動員來臺參與賽事，政府看準商機而大力推廣南部區域的觀光資源，希望能吸引來臺灣觀賞賽事的旅客到南部旅遊。請問：附表中哪些景點位於南部區域？(A)甲乙 (B)丙丁 (C)甲丙 (D)乙丁。

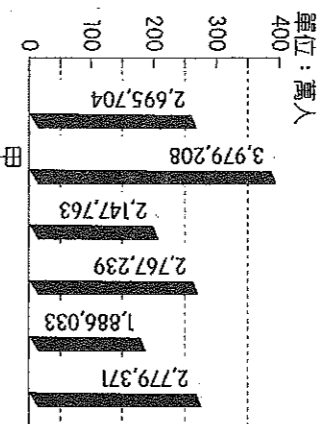
甲	澎湖玄武岩
乙	綠島海底溫泉
丙	墾丁珊瑚礁
丁	溪頭竹林

- () 14. 鉅翔發現澎湖的住家及農田常見到用石頭砌成的矮牆，這是為了因應當地環境的何種特徵？(A)日照強烈 (B)降水不足 (C)風勢強勁 (D)鹽分過高。

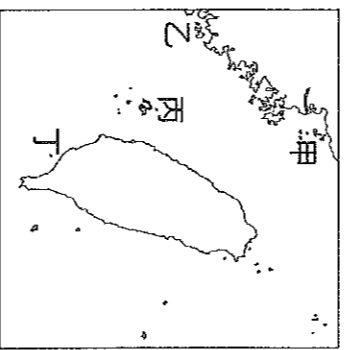
- () 15. 強調「一青、二水、三飽水、價格又公道」的國內包裝米廠商在市場上的接受度相當高，也將傳統的碾米業現代化。該公司最早起源濁水溪沿岸，而後才逐漸擴大。請問：若根據該條件判斷，此包裝米廠商的發源地最可能為下列哪一縣市？(A)雲林縣 (B)臺中市 (C)苗栗縣 (D)嘉義縣。

- () 16. 新竹冬季風特別強盛，素有「風城」之稱。請問：此一季風風向為何？(A)↙ (B)↘ (C)↖ (D)↗。

- () 17. 附圖為民國 105 年臺灣各直轄市的人口數量分布表，依表中資訊判斷，甲市應該為下列何者？
(A)臺北市 (B)高雄市 (C)新北市 (D)臺中市。

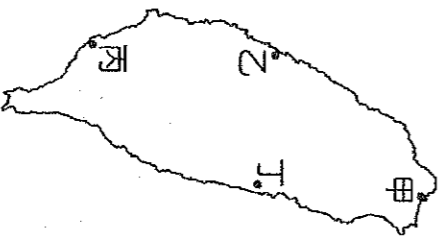


- () 18. 新聞報導：「在慈湖三角堡、民俗文化村、太湖、北山洋樓前這些知名景點剪髮？這可不是拍戲，而是虛禮動創意發想，把美髮工作跟行銷金門結合，意外引起網友熱議。」如果募名想找這位「戰地美髮師」剪髮，應該到附圖中何處？(A)甲 (B)乙 (C)丙 (D)丁。



- () 19. 臺灣氣候的變化常被用來作為創作歌曲的靈感，如在 80 年代即有一首紅遍街頭巷尾的歌，其歌名為「冬季到□□來看雨」。請問：若依照臺灣的降水特色來判斷，文中的空格宜填入下列哪一城市最符合情境？(A)臺中 (B)臺南 (C)臺東 (D)臺北。

- () 20. 「這個港口是一狹長海灣，原為一潟湖，總長度 12 公里，寬度約為 1 公里，入口寬度只有 100 公尺，形狀類似口，目前是是臺灣第一大港。」上述港口應位於附圖中何處？(A)甲 (B)乙 (C)丙 (D)丁。




- () 21. 下列關於金馬地區的敘述，何者錯誤？(A)皆屬火山島 (B)地形多丘陵 (C)馬祖列嶼屬連江縣 (D)降水少，春季容易起霧。

- () 22. 附表為臺灣四個縣市的生活水準比較統計表。哪個縣市最可能是位於臺灣的東部區域？(A)甲 (B)乙 (C)丙 (D)丁

	平均每戶經常性收入	冷暖氣普及率	汽車持有率(輛/千人)
甲	1,195,049 元	67.27%	302.4
乙	1,489,749 元	88.37%	251.0
丙	955,003 元	68.23%	213.7
丁	729,052 元	42.00%	203.5

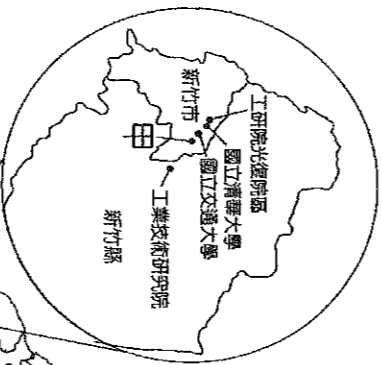
- () 23. 附圖為某地的酒窖，由早期戰地前線的坦克車坑道改建而成，由於深居山洞之中，因此冬暖夏涼，具有長年恆溫穩定的功用。請問：其酒窖最可能位於下列何處？(A)南投 (B)花蓮 (C)澎湖 (D)馬祖。



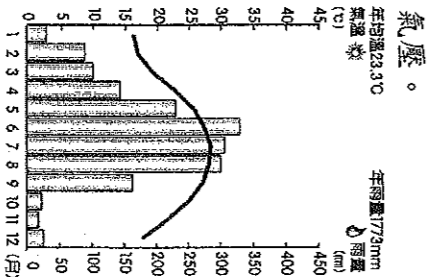
- () 24. 臺灣的民族組成概況如附圖所示。請問：附圖中僅占 2% 的原住民在哪一個縣市的人數最多？(A)桃園市 (B)宜蘭縣 (C)花蓮縣 (D)臺東縣。



- () 25. 工業發展會受到周圍區位條件的影響，請問：依圖中資料判斷，「甲」工業區的主要產業活動應為下列何者？(A)汽車工業 (B)電子工業 (C)紡織工業 (D)鋼鐵工業。

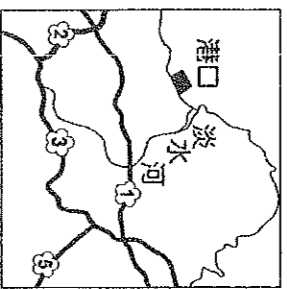


- () 26. 附圖為中部區域氣溫雨量圖，請根據附圖判斷，該區的降水受到下列哪一項因素的影響可能最小？
(A)東北季風 (B)西南季風 (C)滯留鋒 (D)熱帶性低氣壓。




- () 27. 臺灣東部區域的工業發展相對較為落後。請問：花蓮縣目前的工業發展多以哪一種工業區位為主？
 (A) 動力 (B) 原料 (C) 勞工 (D) 交通。

- () 28. 附圖中的港口由於地理位置優越而成為基隆港的輔助港，近年來因為臺灣與中國之間的航運往來頻繁而使運輸量大幅成長。請問：此港口為下列何者？
 (A) 臺北港 (B) 臺中港 (C) 蘇澳港 (D) 基隆港。

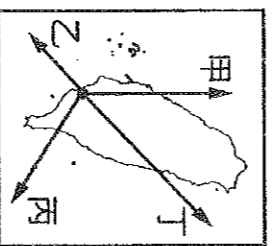


- () 29. 政府「產業東移」政策未見成效，主要是因為東部區域的哪一項因素導致？(A) 交通不便 (B) 礦產不豐 (C) 氣候溼熱 (D) 平原狹小。

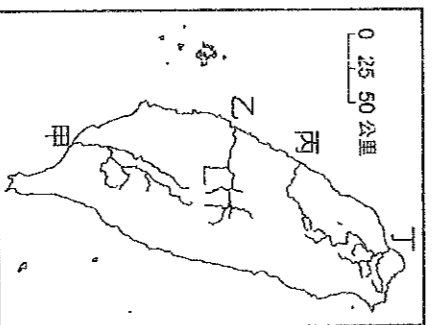
- () 30. 臺灣位於板塊接觸帶上，各地溫泉景點相當豐富，附圖為臺灣各縣市溫泉數量的分布圖。請問：圖中溫泉數量最多的縣市位於臺灣哪一區域？(A) 北部區域 (B) 中部區域 (C) 南部區域 (D) 東部區域。



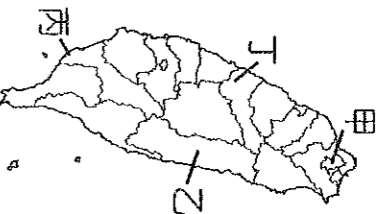
- () 31. 語柔暑假時想前往馬祖國家風景區遊玩，體驗參觀當地特殊的風土民情與自然風光。依據附圖判斷，她若從高雄小港機場搭乘飛機前往，飛機起飛後應往哪個方向前進？(A) 甲 (B) 乙 (C) 丙 (D) 丁




- () 32. 中部區域為臺灣重要的稻米產地，主要是因為該區有水量豐沛的河川經過，形成沖積扇平原。不僅如此，日月潭水庫也會引用該河川來蓄存水量。請問：該河川應位於附圖何處？(A) 甲 (B) 乙 (C) 丙 (D) 丁。



- () 33. 隨著消費市場改變，健康取向的有機米成為市場新寵兒，其適合生長於土壤少汙染、水質純淨的地區。請問：附圖哪一個縣市最為適合？(A) 甲 (B) 乙 (C) 丙 (D) 丁。



- () 34. 交通部觀光局推出「臺灣好行」觀光巴士，規畫許多觀光路線，藉此行銷臺灣各地區的獨特魅力。附圖顯示其中一條規畫的路線，此路線的觀光特色主要為下列何者？(A) 糖廠文化 (B) 客家文化 (C) 鹽田景觀 (D) 戰地風光。



- () 35. 由荷蘭藝術家霍夫曼創作的「黃色小鴨」，在 10 個國家、15 個城市展出後，「游」進了臺灣的高雄、桃園與基隆三地。請問：小鴨展示可以帶領民眾依序看到哪些美麗的景觀？(A) 珊瑚礁海岸→潟湖沙岸→岬灣海岸 (B) 潟湖沙岸→埤塘→岬灣海岸 (C) 斷層海岸→埤塘→珊瑚礁海岸 (D) 岬灣海岸→斷層海岸→珊瑚礁海岸。

※附圖為臺灣中部區域的行政簡圖，請問：

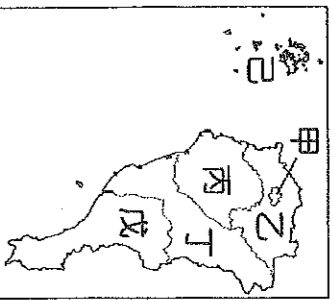


- () 36. 暑假天氣相當炎熱，家瑜希望先到涼爽的溪頭森林遊樂區避暑，在風光明媚的景色下，展開他的中部之旅。請問：家瑜第一站應該是到附圖中何處？
 (A) 甲 (B) 乙 (C) 丁 (D) 戊。

- () 37. 附圖中某縣市過去為傳統稻作農業的分布區域，近年由於田尾和永靖轉型種植花卉，成為全臺重要的花卉產地。請問：上述縣市位於附圖中何處？
 (A) 甲 (B) 乙 (C) 丙 (D) 戊。

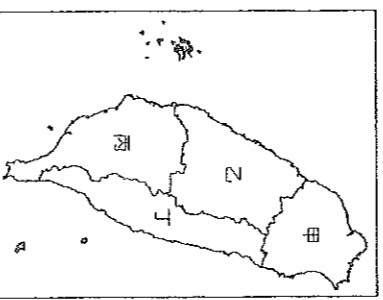
- () 38. 傳統農業活動的發展受到當地自然條件影響相當明顯。附圖中「甲」地在清領時期以生產下列哪些作物為主，成為當時主要的外銷產品？(A) 茶葉、甘蔗 (B) 稻米、甘蔗 (C) 茶葉、樟腦 (D) 稻米、樟腦。

※附圖為臺灣南部區域的行政簡圖，請問：



- () 39. 南部區域目前主要以重工業活動為主，第二次世界大戰後設立的加工出口區為臺灣建立良好的工業基礎。請問：臺灣的重工業中心主要分布於圖中哪一個縣市？(A)甲 (B)乙 (C)丁 (D)戊。
- () 40. 目前南部區域哪一個縣市正積極發展觀光業，壯觀的柱狀玄武岩吸引許多遊客前來？(A)乙 (B)丁 (C)戊 (D)己。
- () 41. 附圖中的哪一個縣市沿海珊瑚礁地形，為著名的浮潛聖地，全年遊客如織？(A)甲 (B)丙 (C)丁 (D)戊。

※臺灣依各種條件的特性來區分不同區域。



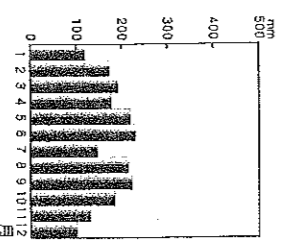
- () 42. 附圖中哪一個區域因自然景觀豐富多樣且少汙染，因此有「臺灣後花園」的稱號？(A)甲 (B)乙 (C)丙 (D)丁。
- () 43. 蔣渭水高速公路完成後，間接帶動了附圖中哪兩區之間的交通往來？(A)甲丁 (B)乙丁 (C)丙丁 (D)甲乙。

() 44. 下圖所描述的條件，最有可能為附圖中哪一區域？

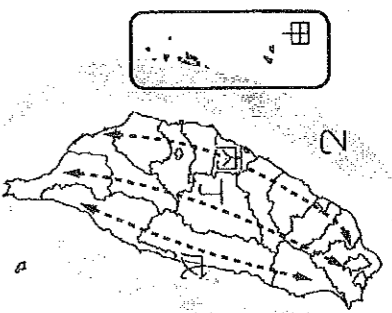
- (A)甲 (B)乙 (C)丙 (D)丁。

- ★全境多屬於副熱帶季風氣候區
- ★全臺灣最長的河川位於此區
- ★地理位置優越，成為人口、產業集中地帶的中點

- () 45. 下圖為臺灣某區域的氣溫及降水量圖。請根據氣候特徵判斷，此區域最可能位於附圖中何處？(A)甲 (B)乙 (C)丙 (D)丁。

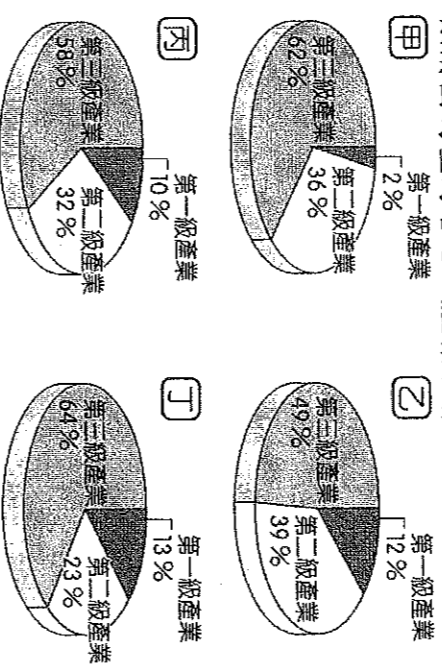


※附圖為臺灣國土空間規畫架構圖，期望可依各地區的特性來發展地方特色，呈現多元化的色彩。



- () 46. 根據附圖判斷，「丁」軸線其發展策略主要為何？
(A)環境保育軸 (B)創新發展軸 (C)優質生活產業軸 (D)生態觀光軸。
- () 47. 請問：附圖中哪一條軸線主要以休閒、觀光為主，將建構整合交通、娛樂、工作以及居住的生活產業帶？(A)甲 (B)乙 (C)丙 (D)戊。

※附圖為臺灣各區域產業就業人口比例圖。請問：



- () 48. 臺灣四個區域的產業皆以哪一級產業為主？(A)第一級 (B)第二級 (C)第三級 (D)無共通性。
- () 49. 丁區的第二級產業比例為四個區域中最低，可見工業較不發達，它應是臺灣哪一區域的產業結構？
(A)北部區域 (B)中部區域 (C)南部區域 (D)東部區域。
- () 50. 承第 49 題，丁區第三級產業所占比例高，其最可能的產業發展為何？(A)商業 (B)運輸業 (C)金融業 (D)觀光業。