

基隆市立武崙國民中學 106 學年度第二學期八年級社會領域地理科段考試卷

請依序在答案卡上作答，違者依規定將扣分處理

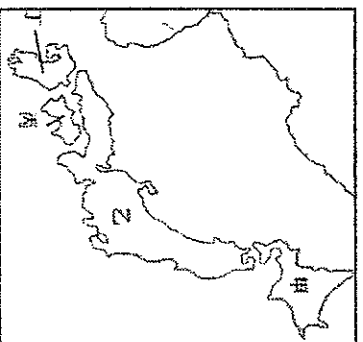
班級：_____ 座號：_____ 姓名：_____

配分：單選 50 題，每題 2 分，共 100 分

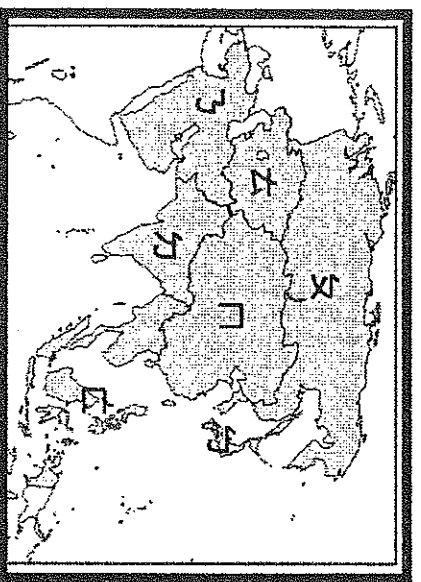
一、填圖題

※右圖甲~丁為日本四大島：

- () 請問『甲』島的名稱為何？(A)九州 (B)本州 (C)四國 (D)北海道
- () 請問『丁』島的名稱為何？(A)九州 (B)本州 (C)四國 (D)北海道



※下圖為亞洲分布圖：



- () 請問西亞是上圖哪一個代號？
(A) ㄨ (B) ㄇ (C) ㄊ (D) ㄋ。
- () 請問ㄈ屬於哪一部分的亞洲？
(A) 北亞 (B) 中亞 (C) 南亞 (D) 東亞。
- () 請問北韓是屬於上圖中的哪一個代號？
(A) ㄋ (B) ㄨ (C) ㄏ (D) ㄇ。

二、選擇題

- () 何者為世界人口成長率速度最快的洲？
(A) 歐洲 (B) 南極洲 (C) 北美洲 (D) 非洲。
- () 中南半島的地形為中國何地的延伸？
(A) 橫斷山脈 (B) 青藏高原 (C) 天山山脈 (D) 喜馬拉雅山。
- () 東南亞各國曾被列強統治，請問下列各國何者作為緩衝區，並未被殖民？
(A) 越南 (B) 緬甸 (C) 泰國 (D) 東帝汶。
- () 東南亞因殖民背景的原因發展熱帶栽培業，生產咖啡、香蕉、椰子、橡膠等作物，下列何者並非該產業的發展條件？
(A) 濕熱的氣候 (B) 粗放的經營 (C) 充足的勞工 (D) 便利的海運。

- () 朝鮮半島有『東亞陸橋』之稱，是因連接中國與哪一個國家？(A) 印度 (B) 日本 (C) 緬甸 (D) 越南。

- () 東南亞呈現多元文化特徵的原因有 (甲) 地理位置 (乙) 歷史背景 (丙) 氣候溼熱 (丁) 島嶼眾多，以上「正確」的是？(A) 甲乙 (B) 乙丙 (C) 丙丁 (D) 甲丁

- () 世界人口急劇增長的主要原因為何？
(A) 人類的生育能力提高 (B) 醫療技術的進步，死亡率下降 (C) 地球生態環境的改善 (D) 經濟發達國家人口增長過快。

- () 下列有關日本及南韓的相關資料，何者有『誤』？

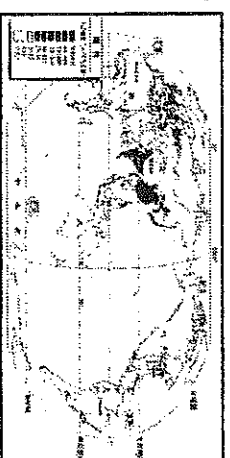
	(A) 平原位置 (靠近海域)	(B) 氣候	(C) 民族	(D) 經濟
日本	日本海	溫帶季風	大和民族	自由經濟
南韓	黃海	溫帶季風	朝鮮族	自由經濟


- () 目前南韓的經濟活動相當發達，尤其在大型企業的主導下，競爭力更強勁。請問：下列哪一個企業為南韓的大財團，單一公司的營收占全國 GDP 的 14%？
(A) TOYOTA 豐田 (B) ASUS 華碩 (C) SAMSUNG 三星 (D) SONY 新力。

- () 東南亞地區冬夏的風向變化分別是？
(A) 冬↙，夏↗ (B) 冬↗，夏↙
(C) 冬↘，夏↖ (D) 冬↖，夏↘。

- () 近年來臺灣出現許多外籍配偶，若以文化習俗而言，哪一國的外籍配偶最受歡迎？

- () 下列何者並非世界人口主要分布的地區？(A) 歐洲 (B) 季風亞洲 (C) 中南美洲 (D) 北美洲。



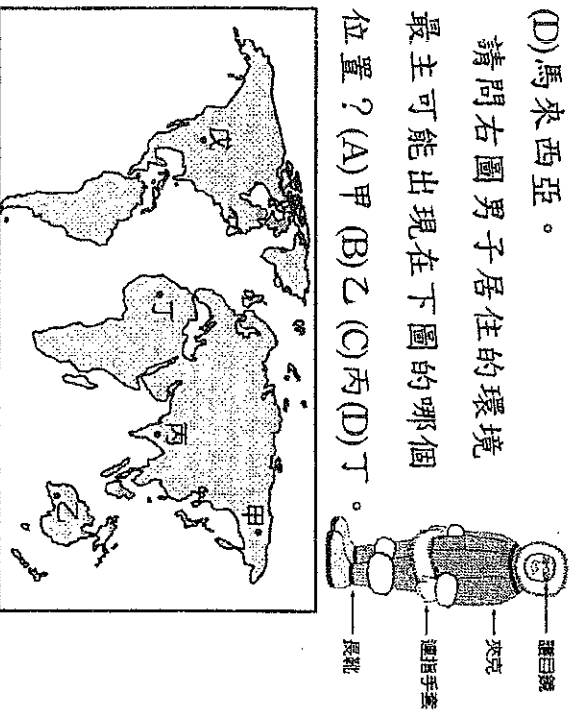
18. () 日本幾乎處處有溫泉，凡是有符號  者代表此處有溫泉。請問日本豐富的溫泉資源與下列何者最有關？

- (A) 位處環太平洋火山地震帶 (B) 海岸線長且曲折 (C) 降雨量多，地下水來源無虞 (D) 居寒暖洋流交會帶。

19. () 許多伊斯蘭教國家把穆罕默德的生日訂為國定假日，全國均放假一天。而下列哪一個國家在當天仍須正常上班？(A) 緬甸 (B) 印尼 (C) 阿富汗 (D) 馬來西亞。

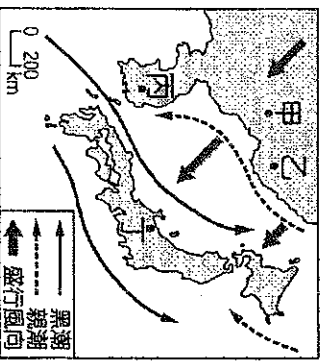
20. () 下列哪一個國家兼跨中南半島和南洋群島？(A) 印尼 (B) 泰國 (C) 柬埔寨 (D) 馬來西亞。

21. () 請問右圖男子居住的環境最可能出現在下圖的哪個位置？(A) 甲 (B) 乙 (C) 丙 (D) 丁。



22. () 右圖為東北亞某季節的盛行風向示意圖，甲乙丙丁四地中以丁地降水量最豐沛，請問其原因為何？

- (A) 位於東北季風迎風坡 (B) 西北季風通過太平洋夾帶大量水氣 (C) 位於東南季風迎風坡 (D) 西北季風通過日本海夾帶大量水氣。

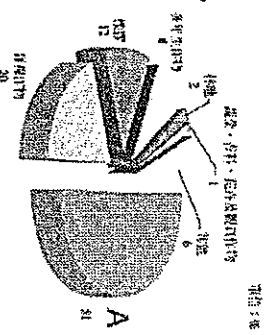


23. () 中央山脈之於台灣的意義，就如同『甲山脈』之於朝鮮半島。依據朝鮮半島的地形判斷，上文中提及的『甲山脈』最可能為何？(A) 富士山 (B) 長白山 (C) 大興安嶺 (D) 大白山脈。

24. () 日本主要工業區多分布於東側太平洋沿岸，這和該國哪一項特色關係最大？(A) 高素質勞工 (B) 寒暖流交會於此 (C) 進出口貿易導向 (D) 工業技術進步。

25. () 『』作為日本的政治、經濟、文化及交通中心，同時也是全球規模最大的巨型都會區，人口數近 3700 萬。』請問 指的應為日本哪一都市？(A) 東京 (B) 大阪 (C) 京都 (D) 橫濱。

26. () 右圖是泰國農作物栽種面積圓餅圖，請問 A 作物為下列何者？



- (A) 小麥 (B) 水稻 (C) 咖啡 (D) 黃麻。

27. () 東南亞地區經歷長期的殖民統治，這種背景為東南亞帶來的影響可能有：(甲) 熱帶栽培業盛行 (乙) 人口集中於三角洲上 (丙) 都市建設重視港埠機能 (丁) 經濟發展著重島嶼觀光業。前述甲~丁選項中正確者為？(A) 甲乙 (B) 乙丙 (C) 甲丙 (D) 乙丁。

28. () 日本為世界七大工業國(G7)成員之一。有關該國的經濟發展的條件，下列何者正確？甲.高素質的勞工 乙.便利的海運 丙.廣闊的平原 丁.進步的技術 戊.豐富的礦產。(A) 甲乙丙 (B) 甲乙丁 (C) 甲乙戊 (D) 乙丁戊。

29. () 右圖為東南亞部分地區簡圖。請問：如日本擬在克拉地峽開鑿運河，往來於印度洋與南海的船隻約可縮短一千多公里的航程。若此一計畫實現，哪一個城市將大幅降低其重要性？(A) 仰光 (B) 曼谷 (C) 新加坡 (D) 胡志明市。



30. () 『泡菜指的是在用鹽醃過的白菜上添加辣椒粉、蒜、薑、蔥等調味品，並使之發酵的一種韓國傳統飲食，特點是辣且保存期限長；韓國人通常和米飯一起食用。』請問，從泡菜便於保存的特色來判斷，這和當地哪一環境特色最相關？(A) 年雨量稀少 (B) 平原狹小，耕地不足 (C) 氣候寒冷，生長季短 (D) 人口眾多。

三、題組題

(一)南韓總統文在寅與北韓領導人金正恩展開文金會，這是自 2007 年南北韓高峰會後，睽違 11 年的兩韓領袖對談，金正恩更成為韓戰後首位踏上南韓領土的北韓領導人。會中簽署「板門店和平繁榮統一朝鮮半島宣言」，鄭重宣布朝鮮半島將不再發生戰爭。試回答下列題目：

31. () 朝鮮半島昔日受西方強權均分利益的影響，以停戰線劃分為今日的南、北韓。此停戰線大約和哪條緯線符合？

- (A)38°S (B)38°N (C)38°E (D)38°W。

32. () 北韓過去常有長期糧食不足新聞，請問造成此現象的原因與下列關係最密切？


- (A)生產單一經濟作物，糧作生產不足
(B)緯度較高，生長季較短 (C)位於板塊接觸帶，地質不穩 (D)過度開墾，土地荒漠化嚴重。

33. () 從夜晚的南北韓空拍圖來看，相較于南韓夜晚燈光通明，北韓顯得漆黑一片，除了首都有些許的燈光，請問北韓的首都為何？(A)釜山 (B)板門店 (C)首爾 (D)平壤

34. () 2017 年南韓平均國民所得約為 80 萬元台幣，大勝台灣，更是北韓人民的 18 倍。以下關於南、北韓的經濟發展差異，如以下表所示，其中哪一個因素無法解釋此項差異？

	(A)氣候條件	(B)礦產資源	(C)經濟制度	(D)貿易總值
北韓	生長季較短	豐富	計畫經濟	高
南韓	生長季較長	稀少	市場經濟	低

(二)右圖為國家聯盟的圖誌，其成立目的主要是促進該地的經濟、社會、文化合作，會員成員有泰國、



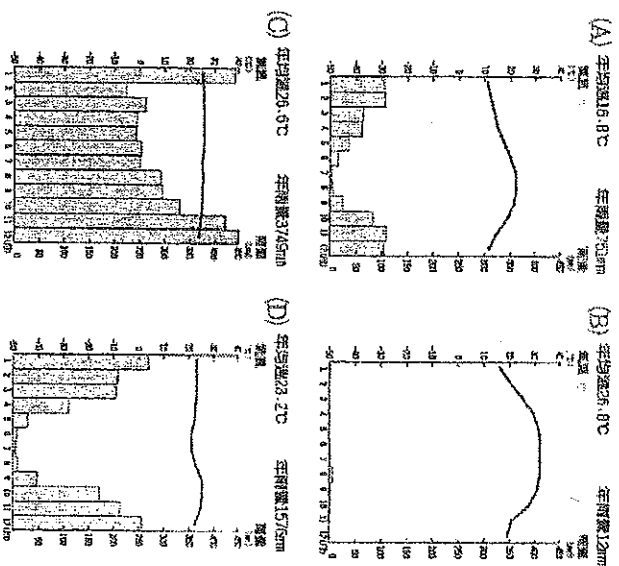
馬來西亞、印尼等十個國家。請回答下列題目：

35. () 請問此國家聯盟的名稱與英文代號為何？(A)世界貿易組織 (WTO) (B)歐洲聯盟 (EU) (C)亞太經濟合作會議 (APEC) (D)東南亞國協 (ASEAN)。

36. () 該國家組織近年來積極與周遭國家合作，在 2010 年與世上人口最多的某國成立自由貿易區。請問其合作國家為何？(A)中國 (B)台灣 (C)日本 (D)紐西蘭。

(三)熱帶雨林氣候特徵為，全年有雨，四季皆夏，年日溫差皆小，有「夜間是熱帶的冬天」之特徵：

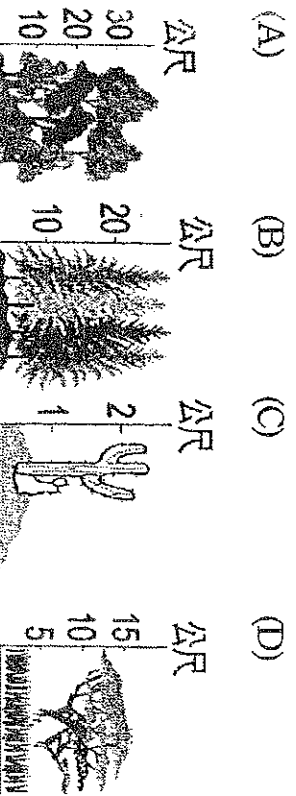
37. () 此氣候類型會對應下列哪張氣候圖？



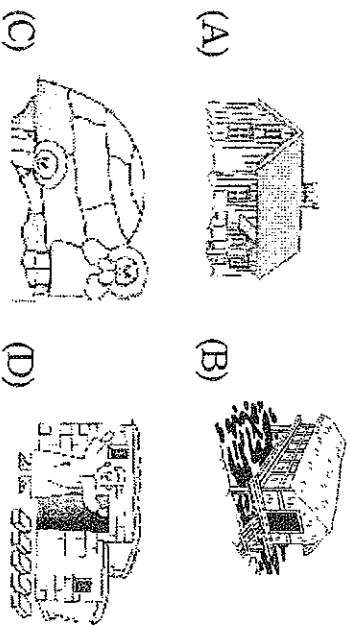
38. () 下列何者是熱帶雨林氣候在東南亞的分布範圍？(甲)馬來半島 (乙)中南半島 (丙)東印度群島 (丁)菲律賓群島

- (A)甲乙 (B)乙丙 (C)甲丙 (D)乙丁。

39. () 熱帶雨林終年高溫潮濕，樹木長得高大茂密，請問最有可能是下列何種天然植被生長？




40. () 世界各地的房屋建材會因當地自然環境不同而有所差異，請問熱帶雨林的分布範圍中最有可能是下列哪種建築？



(四) 巴斯卡受邀前往西亞阿拉伯聯合大公國擔任觀光大使，並安排在當地的杜拜帆船飯店度假。

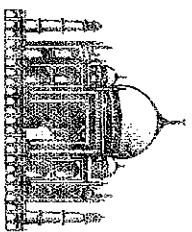
41. () 巴斯卡到了當地打算買麥當勞果腹，卻發現菜單並沒有「甲」套餐。請問：「甲」最有可能是下列哪種套餐？(A)麥香魚套餐 (B)勁辣雞腿堡套餐 (C)雙層牛肉起司堡套餐 (D)豬肉滿福堡套餐。

42. () 請問：若要到杜拜探訪當地風俗民情，巴斯卡衣著上最好參考下列哪一張圖，好適應當地的天候型態，也較能入境隨俗？



43. () 巴斯卡看到了一座當地重要的信仰建築，請問該地區所信奉的宗教主要為下列何者

- (A)佛教 (B)猶太教 (C)基督教 (D)伊斯蘭教。



(五) 飄飄四月打算到日本旅遊，預計的行程有「品嚐日本料理」及「賞櫻」，試回答下列各題：

44. () 「吃」是外國觀光客到日本的最大樂趣，其中生魚片是最受歡迎的食物，一般都是用新鮮海魚、海貝製作，蘸以醬油、山葵等，請問此種飲食文化特色與下列何者「無關」？(A)地狹人稠、土地資源不足 (B)全年漫長寒冷、農作收成量少 (C)海岸線曲折、寒暖流交會 (D)捕撈技術佳、經濟海域廣闊。

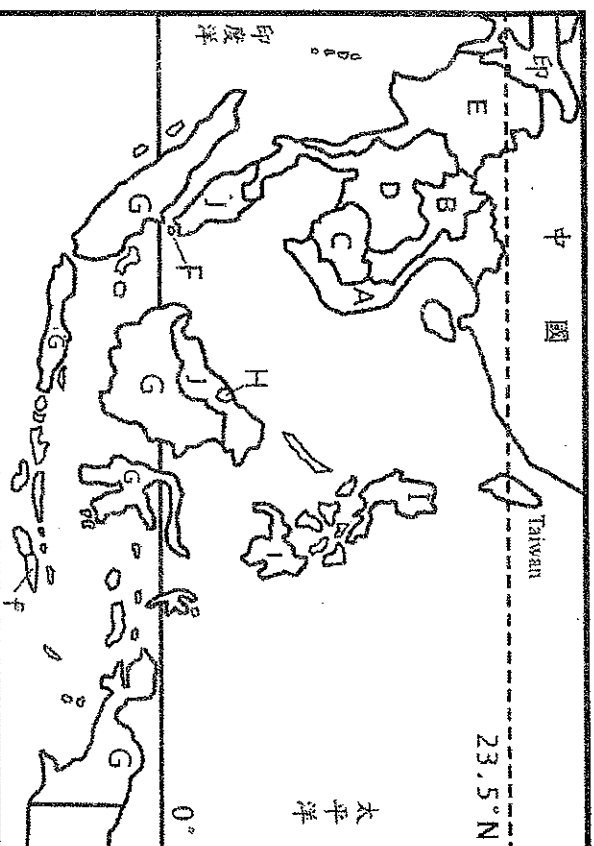
45. () 飄飄聽說日本神戶牛肉很有名，需每天按摩、聽音樂、吃高級牧草是必備的營養要件。請問：依當地的自然環境推論，此地牛隻是屬何種畜牧活動的產品？(A)欄牧 (B)放牧 (C)水平游牧 (D)垂直游牧。

46. () 飄飄逛超市的時候，發現日本的農產品都包裝精美，價格昂貴，如：方形西瓜、夕張哈密瓜等，推論日本農業集約經營，作物成本高，請問造成此現象的原因為何？(A)河川短小流急 (B)氣候乾燥炎熱 (C)地熱資源豐沛 (D)山多平原少。

47. () 春天賞櫻是日本傳統習俗之一，男女老幼均會在櫻花盛開之時在公園的櫻花樹下，吃喝玩樂、高歌暢談。飄飄查詢賞櫻資訊時發現，日本氣象廳會歸納全國過去30年櫻花開花時間，再配合當前的氣象預測，便描繪出本年度的櫻前線，以方便民眾安排賞櫻時間。請問日本各地櫻花盛開時間差異受何因素影響？

(A)氣溫 (B)雨量 (C)距海遠近 (D)高度。

(六) 下圖東南亞國家分布圖，請回答下列各題。



48. () 92歲前領袖馬哈迪今天拿下某國歷史性勝選，將成為全球最年長首相。此次贏得大選的馬哈迪，其實過去已經執政過22年，在他擔任首相的1980、1990年代，該國經濟迅速發展，著名地標雙子星塔，亦是在其任內建成。請問馬哈迪為圖中的哪個國家的領袖？(A)F (B)G (C)H (D)J。

49. () 吳哥窟是中南半島某國的重要觀光文化遺產，內部精緻的石雕令人讚嘆，吳哥古跡被列為世界七大奇跡之一，這個千年古跡見證了當時燦爛的吳哥文化及高棉族最輝煌的時期，現在也為該國帶來許多觀光效益。請問為圖中的哪個國家？

(A)A (B)B (C)C (D)D。

50. () 阿智是東南亞的華人，祖籍在福建，祖先因家鄉饑荒而移民海外，並被迫取了西班牙姓名；其後適逢政治變遷，學習了新統治者使用的英文，同時也學會了當地原住民的語言。請問：阿智應來自何處？(A)F (B)G (C)H (D)I。

試題結束，請再檢查一遍，並預祝暑假快樂！