

基隆市立武崙國中 107 學年度第一學期 第一次段考 九年級社會試卷—地理科

答案卷

(請使用藍、黑色原子筆作答，未依規定作答者，該題答案不計分，最多扣滿 10 分)

班級：_____ 座號：_____	一、單選分數	二、非選分數	總分
姓名：_____			

二、非選擇題：(總共 10 分)

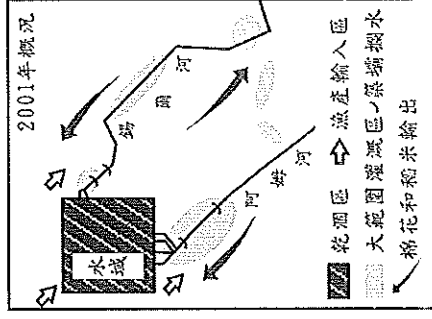
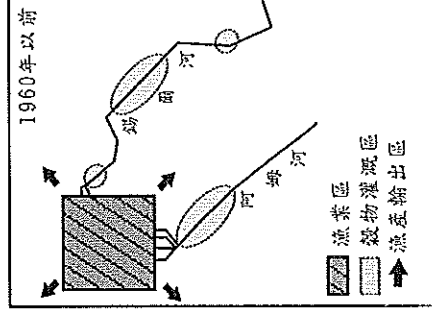
(一) 我們常常運用英文簡稱及簡單的符號來代表世界性的組織或物品標誌。附圖中的標誌代表什麼？(中文及英文簡稱都要寫出)


題目	(1) 全世界某礦物的蘊藏量近 80% 都在該組織的會員國，例如沙烏地阿拉伯、伊朗、伊拉克。成立的宗旨在維護成員國的利益，控制產量與價格。	(2) 亞洲某區域的主要國家都加入此國家聯盟，成立的主要目的是促進該地的經濟、社會、文化合作，會員成員有泰國，馬來西亞、印尼等十個國家。	(3) 為一區域性經濟合作的國際組織，現擁有如法國、德國、義大利等共 28 個成員國，總部設於比利時布魯塞爾。
英文簡稱	(一分)	(一分)	(一分)
中文	(一分)	(一分)	(一分)

(二) 鹹海曾名列世界上第四大湖，水源主要依賴阿母河跟錫爾河補給，但是 1960 年代蘇聯政府開始『○○計劃』讓鹹海的自然環境大幅改變。下圖是 1960 至 2001 年鹹海環境變遷的示意圖。

請問：

- 『○○計劃』中的『○○』為該地主要栽種的經濟作物，請問為何？  
\_\_\_\_\_ (一分)
- 由圖可看出這期間鹹海面積大幅縮小，造成這種現象的原因為何？  
\_\_\_\_\_ (一分)
- 到今日，該區除了湖泊面積縮小外，還有可能面臨哪些環境問題？請舉出一例  
\_\_\_\_\_ (二分)





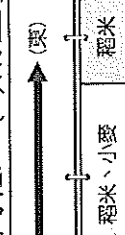
題，請用 2B 鉛筆依題號在電腦卡上作答，電腦讀卡時無法判斷身分者，扣總分 10 分。

南亞~第五冊 L.1、L.2 歐洲概述(P.22)

班級：\_\_\_\_\_ 座號：\_\_\_\_\_ 姓名：\_\_\_\_\_

(總共 90 分)

口眾多，僅次於中國，為世界人口第一，當地主要提供糧食的印度大平原，作如下圖所示，造成圖中這種作物分布差異影響因素為何？(A)土壤種類高低 (C)雨量多寡 (D)地形起伏。

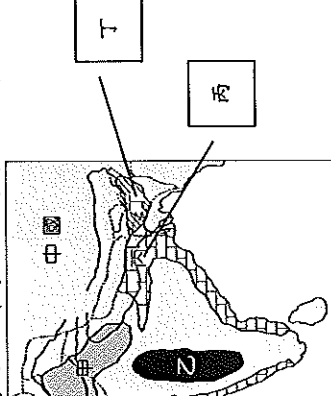


季風氣候是因為大範圍海陸性質的差異所造成。該氣候的主要特色為風向隨季節變化。印度半島位於熱帶季風氣候區內，該地區季節風向依序為何？

(A) 北、北、北、北 (B) 北、北、北、北 (C) 北、北、北、北 (D) 北、北、北、北

合生長在肥沃的黑色土壤和夏雨秋乾環境。若依此條件，下圖的哪一地區最可能生產棉花的主要產區？〔93.第一次基

(A)甲 (B)乙 (C)丙 (D)丁。



宗教信仰相當分歧，其中哪一個國家境內主要宗教為宗教信仰？(A)印度 (B)孟加拉 (C)斯里蘭卡 (D)斯里蘭卡。

島的冬季因為哪一座山脈的阻擋，寒冷氣團不易侵入，因此氣候涼爽，成為當地最佳的季風氣候區？(A)東高止山 (B)西高止山 (C)岡底斯山 (D)阿拉伯山。

島的氣候依其特色分為三季，附圖中

7. ( ) 位於熱帶島嶼的馬爾地夫，碧海藍天的景象、清澈見底的海水及豐富的珊瑚礁景觀吸引了大批人潮，為著名的觀光度假勝地。可惜在 2004 年聖誕節當天的一場災害——南亞大海嘯後，當地大部分都市都被海水所淹沒，損失極為慘重。請問：該島嶼位於下列哪一個海洋？

(A)太平洋 (B)大西洋 (C)地中海 (D)印度洋

8. ( ) 目前歐盟在人員、商品、勞力、資本自由移動的單一市場目標已經達成整合，也開始使用共同的貨幣——歐元，強大的經濟實力也受到全球的肯定。但隨著會員國日益增多，各國之間主要存在了什麼問題？(A)區域發展不均 (B)政治立場不同 (C)水源爭奪問題 (D)宗教紛爭不斷。

9. ( ) 波斯灣戰爭爆發後，石油價格大幅上升。請問：波斯灣戰爭的起因是哪兩個國家之間的糾紛？(A)伊拉克、科威特 (B)伊拉克、伊朗 (C)以色列、科威特 (D)伊朗、科威特。

10. ( ) 中亞的哈薩克現代化經濟發展過程中，下列何者最不可能在其經濟發展的主力？

(A)民生工業 (B)鋼鐵工業 (C)出口棉花 (D)出口礦產。

11. ( ) 西亞的地形以高原為主體，其中哪個高原與非洲相連，後因紅海斷層陷落而分離，形成半島？(A)伊朗高原 (B)阿拉伯高原 (C)阿富汗高原 (D)安納托利亞高原。

12. ( ) 「此一區域在中國古代稱為西域，曾是東西文化交流的孔道；近代時受蘇聯控制，產業難以自主；今日經濟發展的關鍵則與豐富的能源礦產密切相關。」上述區域位於圖中的何地？(A)甲 (B)乙 (C)丙 (D)丁。



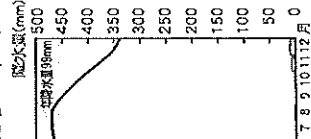
區的農業大量引用河水發展集約的灌溉，其河流的水源主要來自下列何種類型？

(A) 地下伏流 (B) 迎風坡降水充沛  
(C) 融化的雪水 (D) 暖流帶來的水氣。

西亞某一都市的氣候圖。該都市所屬地區最可能出現下列哪項特徵？

(A) 溫差大 (B) 冬夏風向相反

(C) 量變率小 (D) 夏秋多颱風雨。

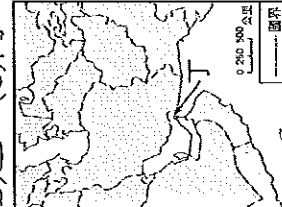


20 年世界博覽會主辦城市揭曉，由西亞的杜拜以 116 對 47 票，打敗俄羅斯的林堡，奪下主辦權。這是西亞地區第一屆世界博覽會，整個阿拉伯世界徹夜慶祝狂歡。不只是杜拜的成功，也是所有穆斯林國家的榮耀。請問：杜拜快速的經濟發展與何者最有關？

(A) 石油獲利轉型多元投資 (B) 供給軍用時的軍用品 (C) 利用滴灌技術開發農地 (D) 開發海水淡化廠銷售飲用水。

西亞簡圖。圖中何地附近的海域為全球石油儲藏量最豐富的地區，而成為世界航運最繁忙的海域之一，一艘艘載運石油的貨輪往來世界各地，為西亞帶來龐大的財富？

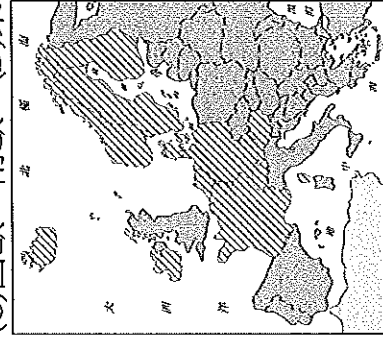
(A) 甲 (B) 乙 (C) 丙 (D) 丁。



波斯河雖為美索不達米亞平原重要的水源地，但在歷史上發生多次大洪水，造成許多文明的消逝。請問：若要掌握底格里斯河的利權，應注意下列哪個地區的降水情形？

(A) 甲 (B) 乙 (C) 阿拉伯高原 (D) 阿富汗高原

31. ( ) 下圖中的斜線區域為歐洲某年每人平均 GDP 超過 40,000 美元的國家分布圖。由圖中分布狀態判斷，這些歐洲國家多位於下列哪個分區？ (A) 西歐、北歐 (B) 北歐、東歐 (C) 西歐、南歐 (D) 東歐、歐俄。

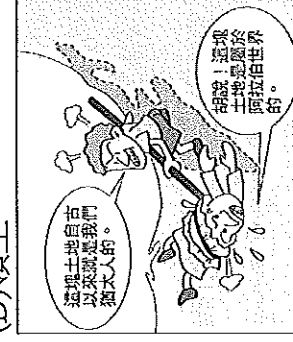


32. ( ) 下列各種自然、人文因素之中，何者與「歐洲老年人口比例居世界第一位」的現象最不相關？ (A) 出生率較低 (B) 死亡率較低 (C) 人口分布平均 (D) 醫療條件進步。

33. ( ) (甲)V 型谷 (乙)U 型谷 (丙)峽灣 (丁)谷灣，以上四種地形中，主要受冰河作用影響而形成的是哪兩種？ (A) 甲丙 (B) 甲丁 (C) 乙丙 (D) 乙丁。

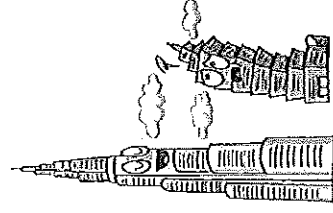
34. ( ) 歐洲的溫帶氣候大致可以分成三種類型：海洋性氣候、大陸性氣候、地中海型氣候。請問：穿越下列哪座山最能感受到兩邊氣候的差異？ (A) 亞平寧山 (B) 喀爾巴阡山 (C) 阿爾卑斯山 (D) 本寧山。

35. ( ) 下圖漫畫是描述西亞地區兩個民族自古以來的糾紛。請問：造成兩個民族紛爭的原因不包括下列何者？ (A) 宗教 (B) 水源 (C) 石油 (D) 領土。



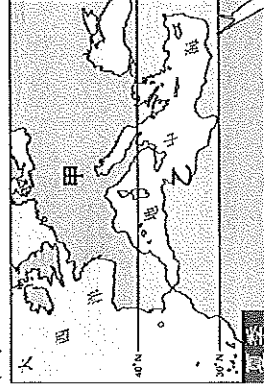
36. ( ) 西元 2010 年因印度禁運棉花及中國棉花歉收，造成國際棉花價格上漲，嚴重影響紡織業的發展。臺灣的紡織業者若想解決困境，可考慮從下列哪個國家進口棉花？ (A) 埃及

- (A)與以色列爭奪約旦河西岸，爆發戰爭  
 (B)遭伊拉克入侵，引發波斯灣戰爭 (C)世界  
 前十大石油蘊藏量國家，申請加入 OPEC  
 (D)世界三大宗教的起源地，吸引信徒前來朝  
 聖。



39. ( ) 下圖為地中海地區 7 月的氣壓帶示意圖。請  
 問：圖中「乙」是哪個行星風系帶？

- (A)西風帶 (B)東北信風帶 (C)副熱帶高壓帶  
 (D)赤道無風帶。



40. ( ) 「哭牆高約 20 公尺、長 50 公尺，每年都有  
 大量的朝聖者來此祈禱、徘徊流連，以手撫摸  
 牆面、喃喃念誦經文、或將寫著祈禱字句的紙  
 條塞入牆壁石縫間。歷經數千年的風雨和朝聖  
 者的撫觸，哭牆的石頭也泛泛發光，映照出一  
 張張如泣如訴的臉龐。」上文中所描述的哭牆  
 位在哪個城市？ (A)麥加 (B)巴格達  
 (C)伊斯坦堡 (D)耶路撒冷。


41. ( ) 西亞、中亞石油產國多，唯有哪一個國家的  
 油管，直接到中國西部的阿拉山口？

(A)哈薩克 (B)科威特 (C)敘利亞 (D)伊拉克。

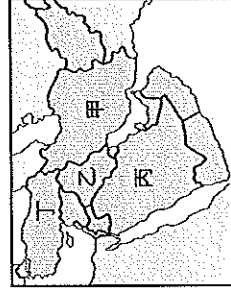
42. ( ) 西亞的居民修築坎井，灌溉農田，這種特殊  
 的水資源開發方式，與當地哪種特性有關？

- (A)岩層堅硬，儲水較多 (B)氣候乾燥，水分  
 容易蒸發 (C)雨水充沛，減少土壤流失  
 (D)地下水豐沛，減少水分滲透。

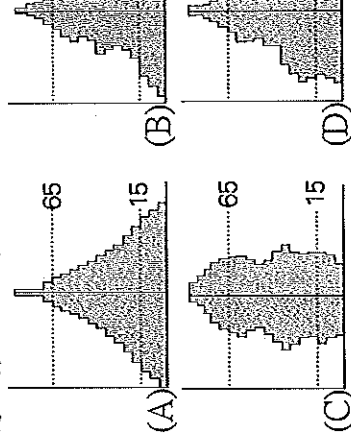
請加入歐盟意見不一。



44. ( ) 「因位處歐、亞之間的交會  
 亞陸橋；且因其地理位置上的  
 ，並積極申請加入歐盟。」上  
 的哪個地區？ (A)甲 (B)乙



45. ( ) 下列哪張金字塔圖，較能說  
 家的人口結構？



《別忘了還有非選擇