

基隆市立武崙國中 107 學年度第一學期第一次段考九年級社會試卷歷史科

一、單選題：(每題2分，共82分)

1. () 西元前 3000 年以後，不同的民族先後遷入兩河流域，建立政權。這些民族的語言雖然不同，但此地區的文化與貿易能夠持續成長，學者認為這種情況主要是由於下列哪一個共通的重要基礎？

(A) 使用鐵器 (B) 宗教統一 (C) 軍事技術 (D) 楔形文字。

2. () 西元前 6 世紀左右，波斯人在宗教上的貢獻是改革多元信仰的傳統宗教，創立了「祆教」。波斯人的宗教主張被認為是古代思想革命的原因何在？

(A) 推翻了以神話為主要思維的宗教習慣 (B) 建立了因果報應與靈魂輪迴的宗教精神 (C) 強調人的智慧，推翻了神的存在 (D) 建立了善惡二元論的宗教觀點。

3. () 某一古文明的人民相信天上星宿的運行常能影響人間的幸福，經過長期觀察天象的結果，他們已經能預測日、月蝕，為五行星命名，訂定星座。請問：這是哪一地區人民的成就？

(A) 兩河流域 (B) 埃及 (C) 印度 (D) 希臘。

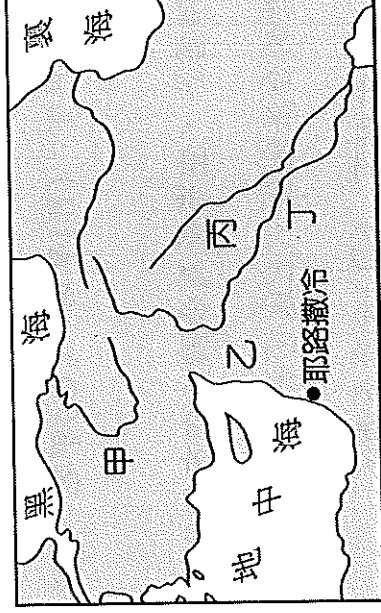
4. () 下列關於文化遺產、民族、活動地區的配對，哪些是正確的？(甲)六十進位法→蘇美人—兩河流域(乙)《漢摩拉比法典》→巴比倫人—伊朗高原(丙)猶太教→希伯來人—地中海東岸(丁)傳播文化→腓尼基人—兩河流域(A)甲乙 (B)丙丁 (C)甲丙 (D)乙丁。

5. () 上古西亞民族在人類歷史上擁有許多「首創」的紀錄，下列哪些正確？(甲)蘇美人：十進位法

(乙)腓尼基人：楔形文字(丙)巴比倫人：成文法典(丁)亞述人：一神信仰

(A) 甲 (B) 乙 (C) 丙 (D) 丁。

6. () 如附圖所示，甲乙丙丁各代表上古時期西亞文明四個不同民族，關於此四個民族，下列敘述何者正確？



(A) 甲代表亞述人，編訂《漢摩拉比法典》 (B) 乙代表希伯來人，以好戰著名 (C) 丙代表腓尼基人，創立一神信仰 (D) 丁代表加爾底亞人，擅長觀察天象和占星術。

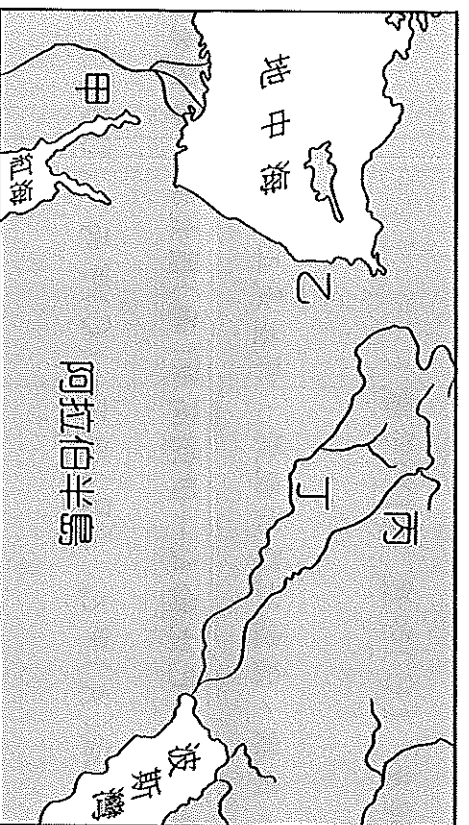
7. ()小玲研讀西洋史發現下列哪些項目是淵源於古西亞文明？(甲)一神信仰的猶太教(乙)最早的成文法典(丙)太陽曆的使用(丁)發明「零」的觀念
(A)甲乙 (B)乙丙 (C)丙丁 (D)甲丙。

8. ()古印度出現了兩個很偉大的宗教——婆羅門教與佛教，牠們兩者有所因襲也有所差異，其中最大的差別為何？(A)輪迴的觀念 (B)眾生平等的訴求 (C)因果報應的理論 (D)多神信仰。

9. ()西亞民族的各項成就中，下列哪一項出現最晚？

(A)六十進位法 (B)《漢摩拉比法典》 (C)陰曆 (D)楔形文字。

10. ()古希臘史家希羅多德在其名著中記載：「……此民族在全人類當第一個想出用太陽來計時的辦法，並把一年的形成時期分為十二部分。」這應該是指位於附圖中何地的民族所創造出來的文化成就？



(A)甲 (B)乙 (C)丙 (D)丁。

11. ()世界歷史學家將中國、印度、西亞、埃及視為「文明的搖籃」，其中的西亞與埃及古文明有下列哪一項共同的特點？(A)都位於亞洲地區 (B)都使用象形文字 (C)都屬於一神信仰 (D)都有自己的曆法。

12. ()古埃及歷史中，國王具有哪些特色？(甲)稱為「法老」(乙)是尼羅河神之子(丙)具有無上權威(丁)代表循環不息的再生力量(A)甲丁 (B)甲丙 (C)甲乙 (D)甲乙丙。

13. ()西元313年發布的《米蘭詔書》，宣布羅馬帝國境內有信仰基督教的自由，並且歸還已經沒收的教會財產，亦承認了基督教的合法地位。上述《米蘭詔書》是由下列哪位羅馬皇帝頒布的？

(A)屋大維 (B)凱撒 (C)君士坦丁 (D)狄奧多西。

14. ()古埃及的政治發展，下列何者敘述正確？(A)古王國時期，國力富強，以大量製造鐵器著稱
(B)中王國時期，貿易發達，已成為地中海東部的商業盟主 (C)中王國時期，武力強大，是埃及版圖最遼闊的時代 (D)新王國時期，被來自希臘的斯巴達所滅。

15. ()下列哪一項理論是婆羅門教的主張？

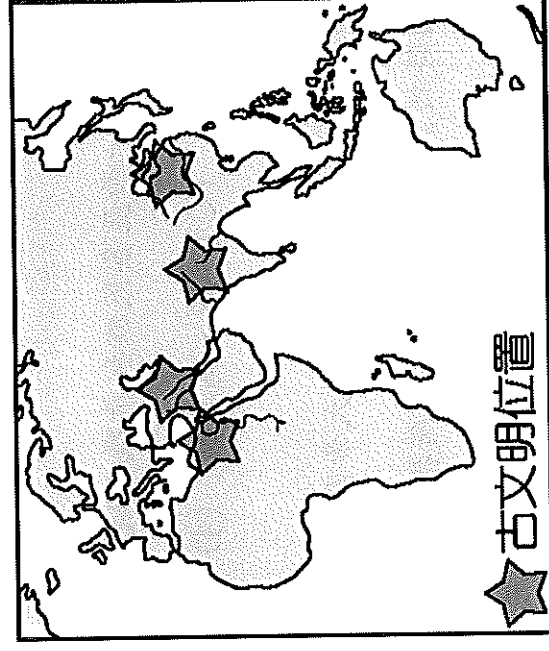
(A)上帝耶和華為唯一真神 (B)善惡對立 (C)靈魂輪迴(D)死而復生。

16. ()下列是阿福有關「古埃及人的宗教信仰」的報告，其中只有哪一項資料是正確的？

(A)古埃及社會為多神信仰，其中最受人崇敬的是善神與尼羅河神 (B)尼羅河神是一切權力的來源，而統治埃及的法老，就是尼羅河神之子 (C)埃及人認為人死後通過審判才可以復活，於是製作「木乃伊」保存軀體(D)他們認為宇宙與人類都是由耶和華所創造。

17. ()學者認為「種姓制度」，具有下列哪一特色？(A)創造出平等和諧的社會 (B)與婆羅門教有密切關係 (C)分為貴族、庶人、奴隸三階級 (D)平民可以藉由才能與努力成為貴族。

18. ()地圖上標示出世界四大古文明的位置，如附圖，這些古文明的共同點，下列說法正確？



(A)古文明都發源於河流附近。 (B)這些地區都曾用楔形文字。 (C)當時人們都具有同一神的信仰。 (D)古文明都屬於熱帶乾燥氣候。

19. ()基督教是現今歐美人士信仰的主要宗教，對於基督教的敘述，下列哪些正確？(甲)創立於西元1

世紀(乙)形成於希臘半島(丙)創立者是耶穌(丁)創立之初即為羅馬帝國國教

(A)甲乙 (B)甲丙 (C)甲丁 (D)乙丙。

20. ()博物館計畫舉辦「美索不達米亞」文物展，下列哪一項文物不可能出現在展覽會場？

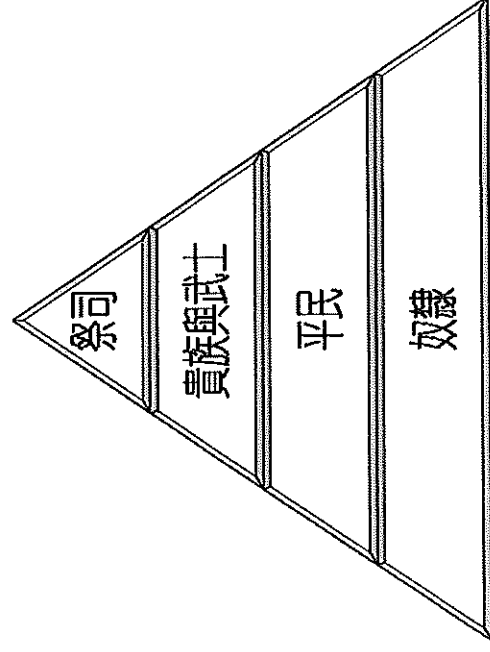
(A)刻有楔形文字的泥版 (B)亞述戰士浮雕像 (C)《漢摩拉比法典》 (D)木乃伊。

21. ()下列有關雅典城邦的報告中，只有何者正確？
(A)位在義大利半島 (B)以勇武著稱但未能統一全希臘 (C)成年人均可以參與立法和政治活動 (D)其黃金時代堪稱是「全希臘的學校」。
22. ()他們把太陽、月亮、星星當作神來祈禱，認為某些行星帶來幸運，某些帶來不幸。人們為每位行星（金木水火土）之神奉獻一個日子，再加上太陽、月亮剛好七個，就產生了星期制度。請問：他們是下列哪一民族？(A)蘇美人 (B)加爾底亞人 (C)巴比倫人 (D)亞述人。
23. ()大雄乘著時光機來到了古希臘城邦，他可能會有下列哪些遭遇？(甲)在奧林匹亞遇到盛大的敬神祭典(乙)看見蘇格拉底在街上辯論人生的意義(丙)觀賞均衡、對稱的帕德嫩神廟(丁)研讀希羅多德的《伊里亞德》(A)甲乙丙 (B)乙丙丁 (C)甲丙丁 (D)甲乙丁。
24. ()亞歷山大在其轄地之內以政治及軍事的力量推行希臘文化，使得此後地中海東岸一帶呈現了何種風格？(A)希臘城邦高高在上，地位凌駕其他各邦之上 (B)種族制度趨於嚴密，加深民族之間的對立 (C)各文明之間首次出現共同的文化基礎與文字 (D)各地區競相學習希臘人的城邦政治型態，不再出現領土跨洲的帝國。
25. ()小玲研讀西洋史事發現，首次統一西亞各民族和希臘各城邦的國家分別是下列何者？
(A)埃及、波斯 (B)波斯、印度 (C)波斯、馬其頓 (D)希臘、亞歷山大。
26. ()18世紀英國史家吉朋在《羅馬帝國衰亡史》談到大帝國滅亡原因時，點出：「西羅馬帝國之所以衰亡，是『野蠻和宗教的勝利』。」請問：上文所指的「野蠻」意涵為何？
(A)來自北方的日耳曼民族(B)來自東方的匈奴人(C)從地中海打上來的海洋民族(D)羅馬內部的自相殘殺。
27. ()有關羅馬帝國之史實，下列何項敘述正確？
(A)凱撒是羅馬帝國第一位皇帝 (B)羅馬帝國恰與中國的唐朝時間相當 (C)西元 4 世紀末，羅馬帝國分裂為二 (D)羅馬帝國使用希臘文。
28. ()四個西方早期大帝國，依先後順序排列，何者正確？
(甲)亞歷山大帝國(乙)波斯帝國(丙)埃及新王國(丁)羅馬帝國(A)乙丙甲丁 (B)丙乙甲丁 (C)丙甲乙丁 (D)甲乙丙丁。

29. () 基督教創立初期，備受羅馬政府的打壓，主要是基督徒哪項行為所致？

(A) 意圖顛覆羅馬帝國 (B) 不向國家納稅 (C) 批評時政 (D) 拒絕膜拜羅馬皇帝。

30. () 歷史老師在上課時，拿出如附圖的圖片讓同學對課程可以更清楚了解。請問：老師的教學內容應該是下列何者？



(A) 蒙古的種族政策 (B) 古埃及的統治政策 (C) 印度的種姓制度 (D) 周朝的宗法制度。

31. () 老師在黑板上寫下印度史上的重要史事：(甲)笈多王朝(乙)阿利安人入侵印度河流域(丙)孔雀王朝。請同學依出現時間先後順序排列，答案應是下列何者？

(A) 甲乙丙 (B) 乙丙甲 (C) 丙甲乙 (D) 丙乙甲。

32. () 迷糊的小丸子做任何事總是漫不經心，例如她歸納羅馬帝國的重點整理時，其中只有一個重點是正確的，是下列何者？

(A) 羅馬人自豪地認為波羅的海是「我們的海」 (B) 奠定二百餘年「羅馬和平」基礎的人是

凱撒 (C) 東羅馬帝國早於西羅馬帝國滅亡 (D) 狄奧多西將羅馬帝國分為東、西二部。

33. () 在世界四大古文明中，舉凡民族的更替、文化的交流和貿易的接觸，最為頻繁的是哪一地區？

(A) 中國 (B) 印度 (C) 西亞 (D) 埃及。

34. () 歷史課時，小明上臺報告羅馬帝國的歷史發展，其內容如下：「(甲)羅馬起初是王政，後來王政被推翻進入帝制時期(乙)共和初期，國王是實際的掌權者(丙)羅馬帝制時期對外擴張，使地中海成為內海(丁)屋大維接受奧古斯都的尊號，羅馬進入帝制時期。」關於羅馬歷史的發展，哪些敘述是不正確的？

(A) 甲乙丙 (B) 乙丙丁 (C) 甲乙丁 (D) 甲丙丁

35. ()小強比較亞歷山大帝國與羅馬帝國，如附表，表中錯誤的項目為何？

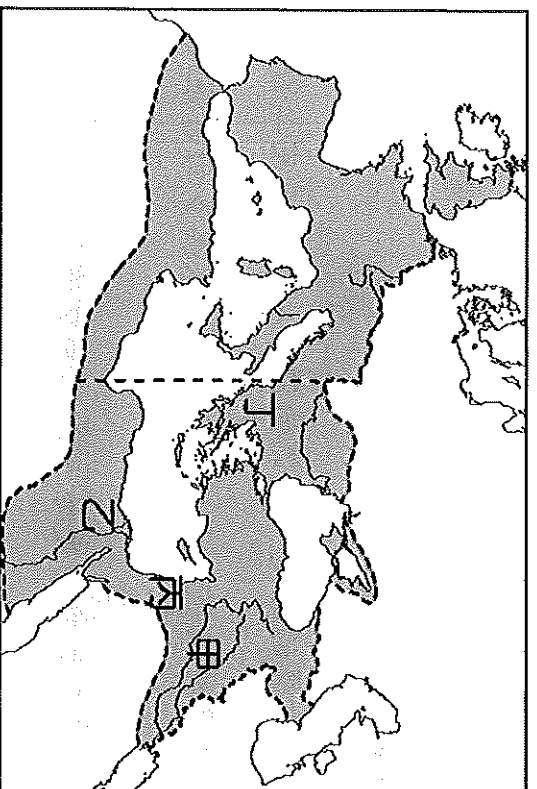
帝國	亞歷山大帝國	羅馬帝國
(甲)發源地	馬其頓王國	義大利半島
(乙)創建者	亞歷山大	屋大維
(丙)版圖範圍	歐、亞、非三洲	歐、亞、非三洲
(丁)文化成就	建築、法律、文字等	文學、藝術、史學、人生哲學等

(A)甲 (B)乙 (C)丙 (D)丁。

36. () (甲)創立於希臘半島(乙)改革猶太教而來(丙)創立初期常受羅馬政府迫害(丁)西元 4 世紀末，成為羅馬帝國的國教。上述關於基督教的敘述，哪些是正確的？

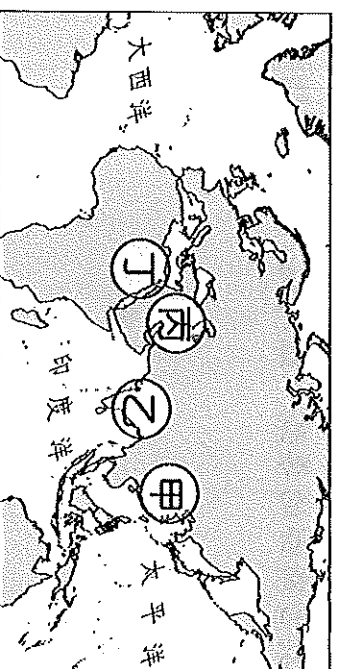
(A)甲乙丙 (B)乙丙丁 (C)甲丙丁 (D)甲乙丁。

37. ()基督教的發源地於羅馬帝國境內，為附圖中的何地？

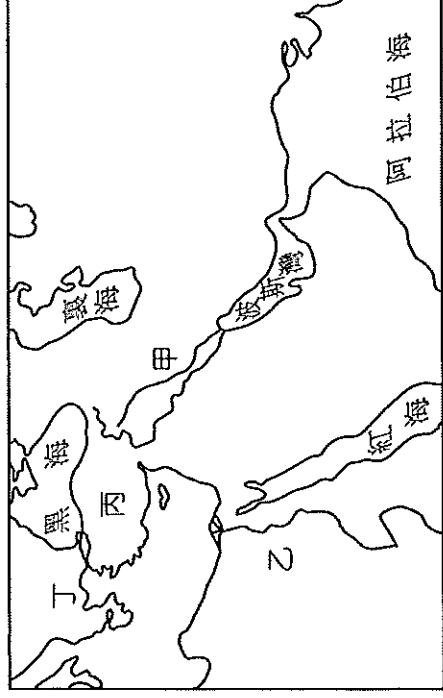


(A)甲 (B)乙 (C)丙 (D)丁。

38. ()考古學家發現摩亨約達羅古城，其歷史悠久、規畫整齊，為人類古文明發源地之一。請問：其位於附圖中何處？(A)甲 (B)乙 (C)丙 (D)丁。



39. ()古代的蘇美人、巴比倫人、亞述人和加爾底亞人等曾在「肥沃月彎」地區創造輝煌的文明，影響後世很大。請問：附圖中哪一個地區為其文明發源地？



(A)甲 (B)乙 (C)丙 (D)丁。

40. ()孔雀王朝建立後，阿育王在位時，政績輝煌，國力強盛，下列何者是他的重要作為？

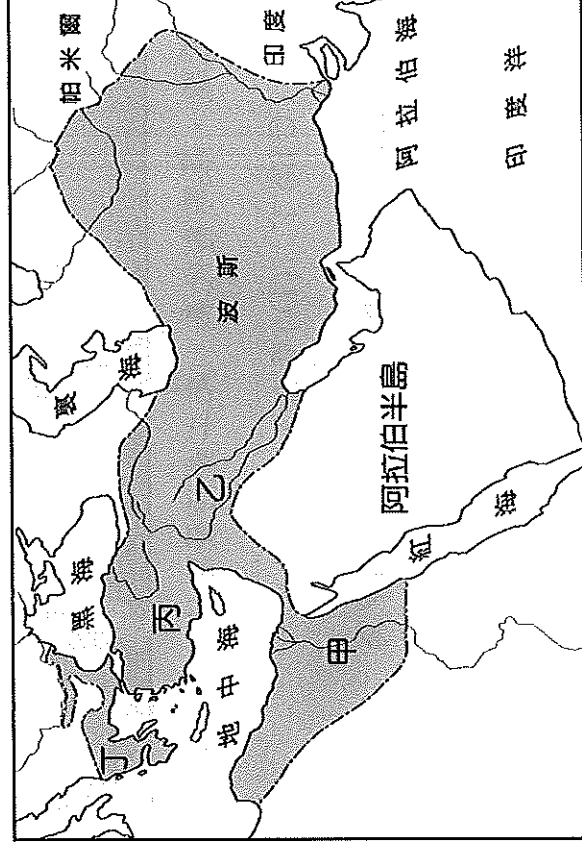
(A)建立「種姓制度」，嚴格訂定各階層行為規範以維護社會秩序 (B)建構婆羅門教教義，發展出靈魂輪迴的思想與因果報應等主張 (C)致力向外傳播佛教，使佛教信仰由印度逐漸擴展到鄰近的國家 (D)結合民間習俗創立印度教，成為今日印度人民信奉的主要宗教。

41. ()「埃及是尼羅河的贈禮」，這句話象徵尼羅河對埃及的何種意義？

(A)尼羅河的氾濫刺激了埃及的高度文明 (B)尼羅河神是埃及唯一的神明 (C)尼羅河形成天險，保障埃及的安全 (D)尼羅河神是宇宙的主宰。

二、題組：(每題2分，共18分)

甲、附圖是上古某一帝國的疆域示意圖。請問：



42. ()由附圖的領土範圍判斷，此應該是下列哪一帝國的疆域？

(A)埃及帝國 (B)巴比倫帝國 (C)亞歷山大帝國 (D)波斯帝國。

43. () 承第(42)題，這個橫跨歐、亞、非三洲的大帝國，是以圖中哪一地區為根據地而向外發展？
(A)甲 (B)乙 (C)丙 (D)丁。

44. () 承第(43)題，此帝國所採取的統治手段，不包括下列哪一項？
(A)實施種性制度 (B)尊重各地的文化並加以融合 (C)鼓勵部屬與其他族群通婚
(D)建立希臘式城市。

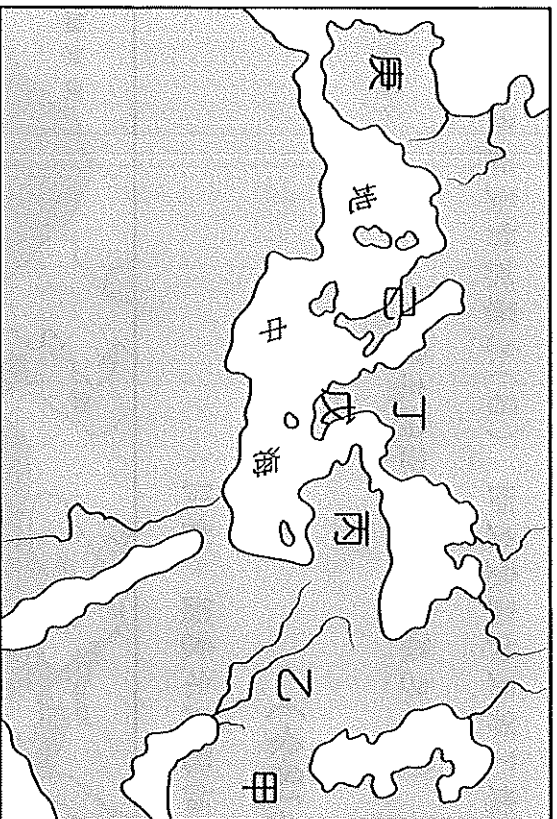
乙、宗教是人們的心靈支柱，而亞洲又是世界各大宗教的發源地。請問：

45. () 下列哪些宗教的發源地是在印度？(甲)印度教(乙)祆教(丙)婆羅門教(丁)基督教(戊)佛教
(A)甲丙丁 (B)甲乙丙 (C)乙丙丁 (D)甲丙戊。

46. () 下列宗教的發源地，由東到西排列應為何？(甲)猶太教(乙)祆教(丙)佛教(丁)道教
(A)甲乙丙丁 (B)丁丙乙甲 (C)甲丙乙丁 (D)丁丙甲乙。

47. () 下列哪一宗教不為多神信仰？
(A)印度教 (B)道教 (C)猶太教 (D)佛教。

丙、史學家一般認為西方文明孕育於地中海地區，從早期的愛琴海文明，到希臘、羅馬的古典文化，其在文學、哲學、科學等各方面的發展成果輝煌。請根據附圖回答問題：



48. () 歐洲的古典文明以希臘、羅馬為代表，此二者的發源地分別位在何處？
(A)戊己 (B)己庚 (C)丙丁 (D)甲乙。

49. () 波斯帝國、亞歷山大帝國最初分別起源於何處？(A)甲丙 (B)丁己 (C)乙丁 (D)甲丁。

50. () 圖中庚區曾為下列哪一政權的領地？(A)羅馬帝國 (B)亞歷山大帝國 (C)波斯帝國 (D)埃及新王國。