

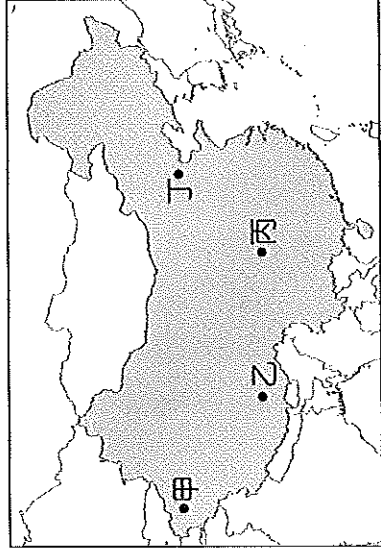
# 基隆市立武崙國民中學一〇七學年度第一學期第一次段考八年級地理科試題卷

注意事項：

1. 本份試卷為單選題，每題 2 分，共 50 題，總分 100 分。
2. 答案卡限用 2B 鉛筆畫記，若畫記錯誤，請擦拭乾淨，分數以電腦讀卡分數為準。
3. 答案卡上的資料欄請確實填寫，若資料欄畫記錯誤導致電腦無法正確判讀，扣總分 10 分。

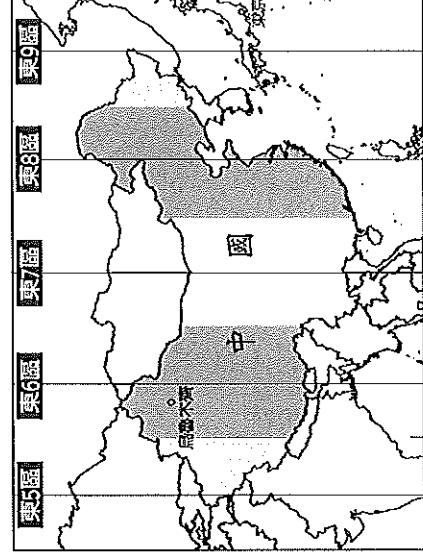
班級：八年 班座號： 姓名：

- ( ) 1. 中國自 2014 年開始在南海填海造陸將「礁變島」，主要目的是爭奪南海強權地位。此舉將引起南海哪個國家的恐慌？(A)日本 (B)南韓 (C)俄羅斯 (D)菲律賓。
- ( ) 2. 放寒假的時候，昱翔去了哈爾濱滑雪，紀仲則去了海南島享受海島風光，兩地景觀差異如此大的主要原因為何？(A)緯度跨度大 (B)海陸差異大 (C)經度跨度大 (D)地形差異大。
- ( ) 3. 北回歸線穿越的省級行政區有：  
(甲)廣東省(乙)雲南省(丙)廣西壯族自治區，由西向東排列，下列何者正確？  
(A)甲乙丙 (B)丙甲乙 (C)乙丙甲 (D)乙甲丙。
- ( ) 4. 小松到中國旅行，本想好好欣賞當地雄偉的冰河景觀，卻感到頭疼、噁心、呼吸困難，只好戴上氧氣罩下山，才減輕這些症狀。請問：小松比較有可能是到下列哪個地形區？(A)青藏高原 (B)東北平原 (C)四川盆地 (D)東南丘陵。
- ( ) 5. 中國的五大地形中，比例最高的是哪兩種地形？(A)高原、平原 (B)丘陵、平原 (C)山地、盆地 (D)山地、高原。
- ( ) 6. 中國的山脈中，下列何者是呈「東北—西南」走向？  
(A)崑崙山 (B)秦嶺 (C)大興安嶺 (D)天山。
- ( ) 7. 位於中國地勢的第二、三級階梯分界線上，且為黃土高原與華北平原的界山，是下列何者？  
(A)崑崙山 (B)太行山 (C)祁連山 (D)秦嶺。
- ( ) 8. 為響應節能減碳愛地球的環保訴求，各國紛紛發起夜晚「關燈 1 小時」的活動。若中國在 3 月 28 日晚上 8 點於各大城市舉辦上述活動，則附圖中哪一城市在關燈時的天色最亮？  
(A)甲 (B)乙 (C)丙 (D)丁。

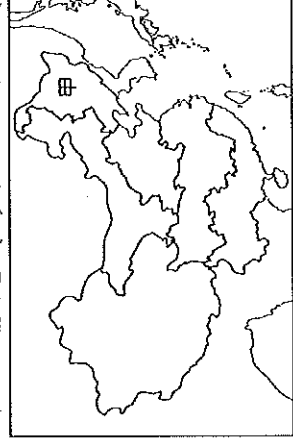


- ( ) 9. 中國現行的行政區劃中，下列何者不屬於省級行政區？(A)省 (B)自治區 (C)經濟特區 (D)特別行政區。

- ( ) 10. 附圖為中國時區圖，請問：中國境內統一以哪一個時區作為標準時間？(A)東 6 區 (B)東 7 區 (C)東 8 區 (D)東 9 區。

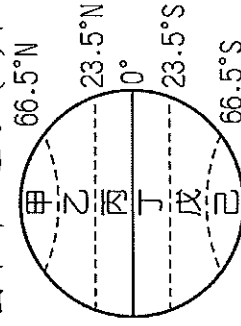


- ( ) 11. 附圖為中國境內分區圖，圖中甲區域的陸上鄰國為下列哪些國家？(A)蒙古、南韓 (B)俄羅斯、哈薩克 (C)蒙古、印度 (D)北韓、俄羅斯。
- ( ) 12. 附圖為中國四個直轄市的分布位置圖。圖中哪個城市現為中華人民共和國的首都，也曾是奧運的主辦城市？(A)甲 (B)乙 (C)丙 (D)丁。



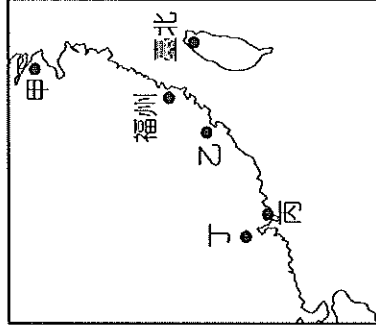
- ( ) 13. 京杭大運河為中國南北重要的航運路線，由北京可直接航行至杭州，對當時的人貨運輸幫助甚大。該運河的航行地區主要位於哪兩個地形區之間？(A)華北平原、東北平原 (B)東南丘陵、珠江三角洲 (C)長江三角洲、華北平原 (D)珠江三角洲、長江三角洲。
- ( ) 14. 2008 年北京 (116°E) 奧運的開幕時間訂於 8 月 8 日早上 8 時準行。家住烏魯木齊 (87°E)的小仲應於當日幾點收看精彩的電視現場直播？(A)早上 6 點 (B)早上 8 點 (C)早上 10 點 (D)早上 12 點。

- ( ) 15. 中國位於季風亞洲，天然環境優越，物產豐富，人口眾多。請問：中國的疆域主要位於附圖中哪一區？(A)甲 (B)乙 (C)丙 (D)丁。

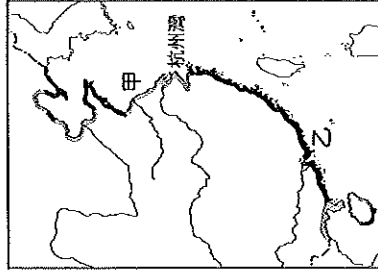


- ( ) 16. 附圖是臺灣和中國東南沿海的地理位置圖。香港位於珠江口，腹地廣大，為著名的轉口港。請問：香港位於附圖何處？

(A)甲 (B)乙 (C)丙 (D)丁。



- ( ) 17. 附圖(一)為中國沙岸、岩岸分布圖。圖中甲、乙兩地由於組成物質不同，形成不同的海岸地形。請問：附圖(二)類型的海岸主要位於附圖(一)何處？(A)甲 (B)乙。



圖(一)



圖(二)

- ( ) 18. 英國有「日不落國」之稱，殖民地遍布全球，部分被殖民的國家或地區會將英國的米字旗放在國旗的左上角。中國某個地區在主權移交之前，其代表旗幟如附圖，請問：該旗幟最可能為中國哪個行政區早期所有？

(A)上海 (B)廣州 (C)香港 (D)澳門。

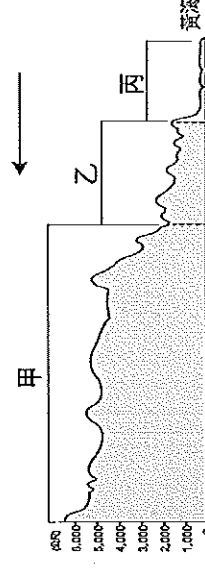


- ( ) 19. 中國依地形可分為三級階梯，其中，第二級階梯以高原和盆地地形為主。請問：下列哪一地形不位於該階梯？(A)黃土高原 (B)四川盆地 (C)內蒙古高原 (D)柴達木盆地。
- ( ) 20. 中國的疆域面積廣大，為了管理上的需要，境內分成 33 個省級行政區。其中，最北端的村鎮是位於下列哪一個行政區中？(A)北京 (B)內蒙古 (C)黑龍江 (D)新疆。

- ( ) 21. 附圖為中國某地理區的畫分方式，請問：其畫分依據最可能為下列何者？(A)經濟發展 (B)地勢高低 (C)民族種類 (D)氣候類型。



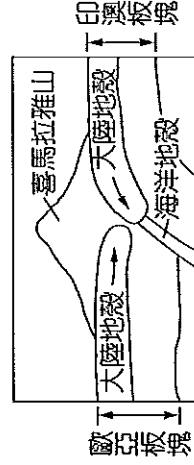

- ( ) 22. 若以緯度區分全球的氣候帶，則中國缺少哪個類型的氣候？(A)副熱帶氣候 (B)熱帶氣候 (C)寒帶氣候 (D)溫帶氣候。
- ( ) 23. 附圖是中國沿著北緯 36 度線繪製的地形剖面圖。圖中箭頭所指的是哪個方向？(A)東方 (B)西方 (C)南方 (D)北方



- ( ) 24. 山脈常具有自然及人文環境的阻隔性。請問：附圖中哪座山脈是中國北部區域與南部區域的重要分界？(A)甲 (B)乙 (C)丙 (D)丁。



- ( ) 25. 喜馬拉雅山位於中印邊界，受到板塊撞擊的影響，高大的山脈逐漸形成天然國界。附圖為其形成示意圖，請問：若要加上方向標，則以下列何者最適合？



- ( ) 26. 附圖中，中國境內哪一個地區因為距海遙遠、氣候乾燥，成為全國最大沙漠分布地？(A)甲 (B)乙 (C)丙 (D)丁。

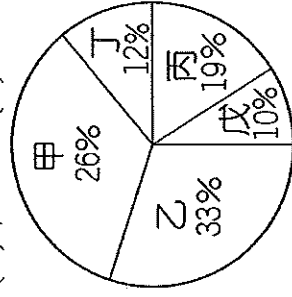


( ) 27. 中國境內，哪一個少數民族自治區因為丘陵地形廣布，當地居民多以梯田方式從事農業活動，形成當地發展的特色？(A)新疆維吾爾自治區 (B)內蒙古自治區 (C)廣西壯族自治區 (D)西藏自治區。

( ) 28. (甲)中國(乙)加拿大(丙)俄羅斯(丁)美國。上列國家若按照面積由大到小排列，其正確順序為何？(A)甲乙丙丁 (B)甲丁丙乙 (C)乙丙甲丁 (D)丙乙丁甲。

( ) 29. 附圖為中國五大地形面積比例圖。中國依地形高低起伏形成三級階梯，請問：「第三級階梯」的地形主體為附圖中何者？


(A)甲、乙 (B)乙、丙 (C)甲、丙 (D)丁、戊。



( ) 30. 中國國境內共有 55 個民族，除了大多數的漢人外，多為少數民族所組成，因此特別成立自治區以維持其特色。請問：目前成立自治區的民族中不包括下列何者？

(A)回族 (B)滿族 (C)藏族 (D)壯族。

( ) 31. 傳統產業活動受到地形的影響較為明顯，附圖為中國四川盆地的地形剖面圖，當地最可能出現的農業活動特色為何？(A)梯田耕作 (B)粗放農業 (C)綠洲農業 (D)熱帶栽培業。



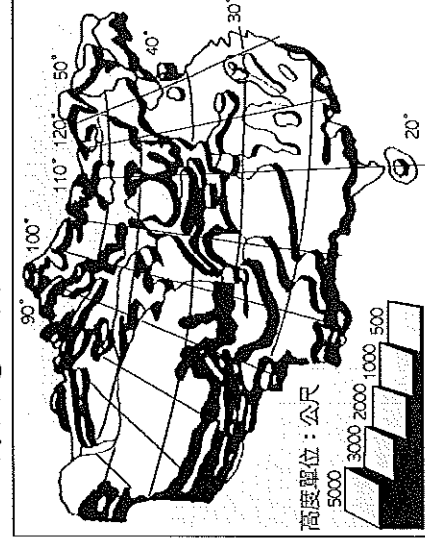
( ) 32. 下列哪種地理現象與中國西高東低的地勢起伏沒有直接的因果關係？(A)冬、夏兩季的風向會相反 (B)重要大河大多由西往東流 (C)東部沿海地區人口較稠密 (D)海洋暖溼氣流能向西深入內陸。

( ) 33. 「珠江三角洲」過去主要為農地和村落，經經濟改革開放後，大量資金湧入設廠，逐漸成為中國重要的製造重鎮。請問：珠江三角洲位於附圖中何處？(A)甲 (B)乙 (C)丙 (D)丁。



( ) 34. 由附圖可看出中國地形的哪一項特徵？

(A)地勢西高東低 (B)高聳山脈多分布於東南部 (C)丘陵廣布，為最主要的地形主體 (D)地形平坦，高低起伏不大。



( ) 35. 中國的海岸線以杭州灣為界，以北和以南的海岸有明顯的不同。下列有關中國海岸的表格整理，何者錯誤？

(A)主要分布	(B)海岸線	(C)適合產業	(D)天然灣澳
杭州灣以北	海岸平直且水淺	農業、養殖漁業	較多
杭州灣以南	海岸曲折且水深	航運、遠洋漁業	較少

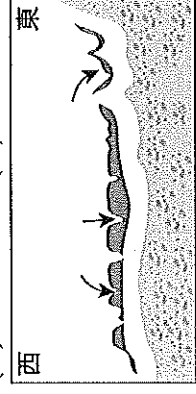
( ) 36. 中國三大緣海若由北向南排列，何者正確？

(A)黃海、東海、南海 (B)東海、黃海、南海 (C)渤海、東海、南海 (D)南海、黃海、東海。

( ) 37. 附表為中國四大高原的地形特色。請問：表中哪座高原的景觀特色為千溝萬壑且水土流失嚴重？(A)甲 (B)乙 (C)丙 (D)丁。

高原	地形特徵
甲	覆蓋深厚黃土層
乙	雪山連綿，冰河地形廣布
丙	石灰岩地形發達
丁	地形平坦，景色荒涼

( ) 38. 承上題，附圖為此處地形示意圖，圖中箭頭所指的是「溝谷」。請問：這些「溝谷」形成的原因為下列何者？(A)斷層陷落 (B)風力侵蝕 (C)雨水溶蝕 (D)流水侵蝕。

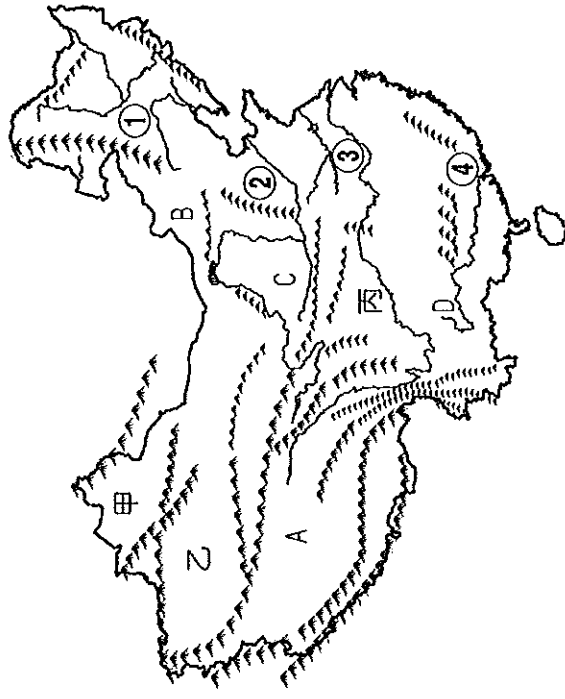


( ) 39. 附表是有關中國「行政區劃」與「地理區劃」的比較，何者錯誤？(A)甲 (B)乙 (C)丙 (D)丁。

分類	(甲)劃分依據	(乙)劃分目的	(丙)界線	(丁)舉例
行政區劃	依行政界線劃分範圍	便於統轄管理	有明確界線	北部、南部、西部區域
地理區劃	依不同指標來劃分區域範圍	便於描述和應用	常無明確界線	自治區直轄市

- ( ) 40. 中國的行政區眾多，東部的行政區大多面積較小，而西半部的行政區則面積較大，請問：造成此現象的原因應為下列何者？(A)人口多寡 (B)山脈走向 (C)氣候差異 (D)共產政策。
- ( ) 41. 古代將東方的絲綢、瓷器等商品運送至西方的交通路線，稱為「絲路」。請問：中國早期藉由陸上絲路和下列哪個地區進行商業貿易活動？(A)北美洲 (B)南美洲 (C)澳洲 (D)歐洲。

※附圖是中國地形簡圖，請根據附圖回答下列問題：

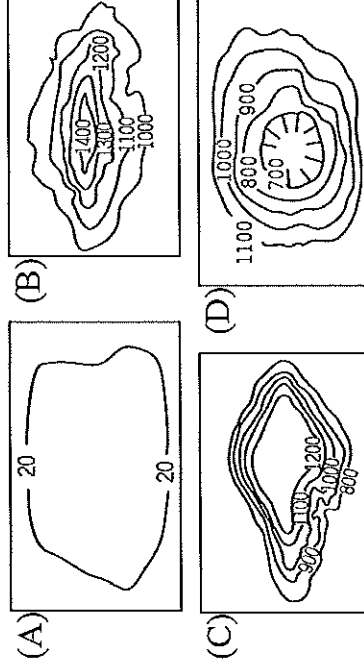


- ( ) 42. 中國西半部山脈的走向，多以何種方向為主？  
(A)東—西 (B)南—北 (C)東北—西南 (D)西北—東南。
- ( ) 43. 承上題，請問：影響其走向的主要原因為何？  
(A)板塊擠壓方向 (B)岩層種類軟硬 (C)主要河流流向 (D)盛行季風風向。
- ( ) 44. 觀察附圖中的河川，其流向主要為下列何者？  
(A)← (B)↑ (C)→ (D)↓。
- ( ) 45. 附表是日前某地舉辦旅展時，孔雀旅行社在會場散發的文宣部分內容。請問：根據內容判斷，行程一、行程二的景點應分別為附圖中的哪兩個地理區？

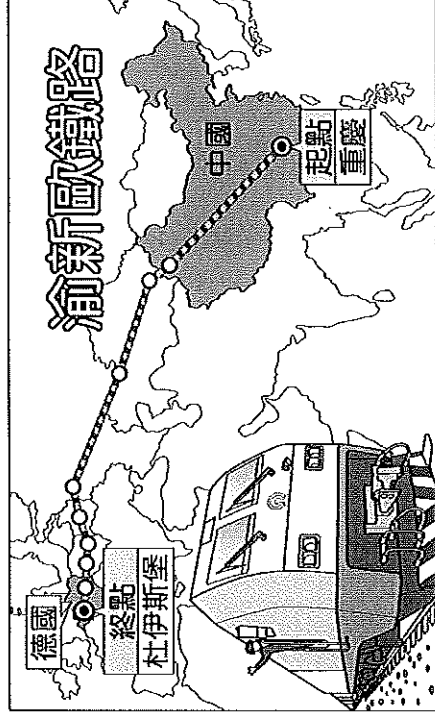
(A)乙、丙 (B)甲、丙 (C)A、D (D)B、D。

行程一	①這裡的草原是中國最大的天然牧場之一，西部則是一望無際的戈壁荒漠地帶
行程二	②沙漠、草地、山地、藍天的景緻絕對讓您流连忘返，山色景觀是此區最迷人的地方
行程一	①這裡共有上百個溶洞，所謂的「九鄉奇洞九十九」更是這個地區規模最大的溶洞群
行程二	②這個地區的「石林」猶如密布的森林，數不清的石峰蔚成一片石林峰海，氣勢磅礴開闊

- ( ) 46. 承上題，此兩區地形應為下列何者？

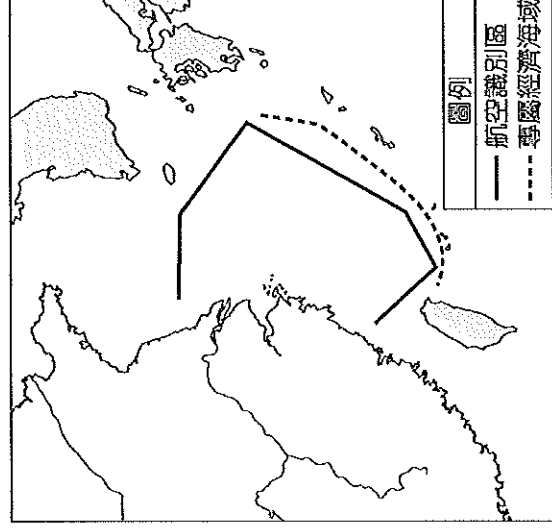


※附圖為渝新歐鐵路路線的示意圖，中國藉由該路線的開通，改變了世界物流格局，使得在華中的重慶成為物流中心。昔日海運需要36天才能到歐洲，而今日由重慶到德國僅需12天，時間大大縮短。請問：



- ( ) 47. 請依圖中資料判斷，該路線所經過的陸上鄰國可能包括下列哪一國家？(A)哈薩克 (B)越南 (C)印度 (D)蒙古。
- ( ) 48. 渝新歐鐵路的列車在行進當中，會搭配衛星定位系統，以便增加其效率。請問：列車由圖中的起點向終點航行，則經緯度的主要變化應該為何？(A)經度數增加、緯度數減少 (B)經度數增加、緯度數增加 (C)經度數減少、緯度數減少 (D)經度數減少、緯度數增加。

※中國國防部公告了「海域防空識別區」，其範圍如附圖所示。宣稱在範圍內所有航行的飛機必須提供相關資料以供識別，否則將面臨武力威脅，對鄰近國家造成相當大的影響。請問：



- ( ) 49. 根據附圖中中國所畫定的「海域防空識別區」的範圍判斷，主要位於哪一個海域？(A)南海 (B)東海 (C)渤海 (D)臺灣海峽。
- ( ) 50. 根據上文，中國的這項措施將會對長榮航空公司的下列哪一條航線造成影響？(A)桃園至香港 (B)臺北至東京 (C)高雄至廣州 (D)桃園至菲律賓。