

基隆市立武崙國民中學一〇七學年度第一學期第一次段考七年級歷史科試題卷

注意事項：

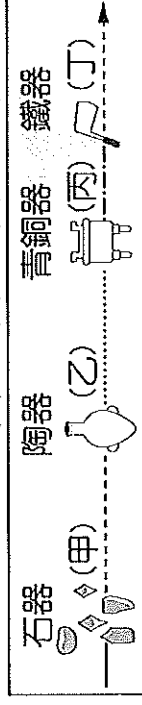
1. 本份試卷為單選題，每題2分，共50題，總分100分。
2. 答案卡限用2B鉛筆畫記，若畫記錯誤，請擦拭乾淨。分數以電腦讀卡分數為準。
3. 答案卡上的資料欄請確實填寫，若資料欄畫記錯誤導致電腦無法正確判讀，扣總分10分。

班級：七年 班座號： 姓名：

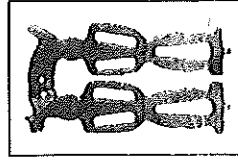
- () 1. 人類進入新石器時代後，技術上有重大的進步，這些改變使他們對大自然的依賴程度逐漸減少、生活得到改善。關於新石器時代的特點，何者為「非」？(A)飼養家畜 (B)出現農業 (C)與外地貿易 (D)磨製石器。
- () 2. 小雲看到一篇關於史前文化的報導，文中提到考古隊在八里某處挖掘出先民使用過的陶罐、鐵刀等器具，由這些出土文物，可看出此文化遺址應屬於哪一時代？(A)舊石器時代 (B)新石器時代早期 (C)新石器時代晚期 (D)金屬器時代。
- () 3. 小敏閱讀臺灣原住民的相關書籍，知道臺灣原住民屬於南島語族。請問：關於南島語族的敘述，下列何者正確？(A)臺灣位於南島語族地理分布上的最北端 (B)南島語族約在五百年前陸續移居臺灣 (C)南島語族的族群至今已全部消失 (D)南島語族主要活躍在大西洋及太平洋島嶼上。
- () 4. 臺灣地區的原住民，依其主要生活區域的不同，可分為平埔族和高山族。其中有關平埔族的敘述，下列哪一項是正確的？(A)移入臺灣的時間在漢人之後 (B)其漢化的時間較高山族稍晚 (C)大約可分為泰雅、布農等九族 (D)早期生活在平原、沿海一帶。
- () 5. 17世紀時，臺灣是漢人、日本人、荷蘭人、西班牙人在東亞地區進行貿易的重要據點。這是因為當時臺灣具備了下列哪一項優越的地理條件？(A)位置 (B)氣候 (C)地形 (D)人口。
- () 6. 距今三百多年前，荷蘭人東來亞洲後，占據臺灣，其重要原因是臺灣的地理位置有利於轉口貿易。當時，荷蘭在亞洲的貿易對象除東南亞之外，主要還包括下列哪兩個國家？(A)俄國、朝鮮 (B)中國、日本 (C)朝鮮、中國 (D)日本、俄國。
- () 7. 1597年，有一封呈報給國王的信中寫到：「我們希望占領福爾摩沙的這個港口，最迫切的理由是為了確保菲律賓的安全。因為……日本企圖奪取這個港口以進占馬尼拉，我們要確保菲律賓的安全就必須擁有這個港口。」由上述背景判斷，這封書信最可能是呈報給哪一國國王？(A)荷蘭 (B)葡萄牙 (C)西班牙 (D)菲律賓。

- () 8. 臺灣大約在四百多年前從史前時代進入了歷史時代，是因為下列哪一項文明的出現？(A)陶器 (B)鐵器 (C)文字 (D)農耕。
- () 9. 請將下列史前文化按照時間先後順序排列：(甲)十三行文化(乙)卑南文化(丙)長濱文化(丁)大坌坑文化(戊)牛罵頭文化 (A)甲乙丙丁戊 (B)乙丙丁甲戊 (C)丙乙丁戊甲 (D)丙丁戊乙甲。

- () 10. 附圖中哪一個文化階段與臺灣「長濱文化」屬於同一時期？(A)甲 (B)乙 (C)丙 (D)丁。

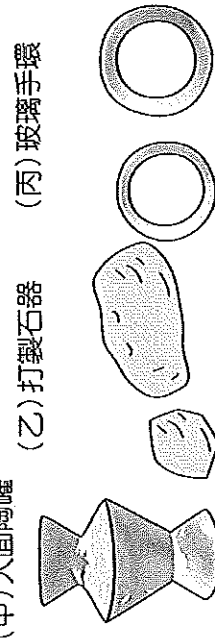


- () 11. 承恩在某篇介紹臺灣史前文化的文章中，發現一張如右圖的照片，人獸形狀的玉質耳飾，相當精美。另外，還有大型村落和石板棺遺跡的介紹。根據上述內容判斷，這篇文章的內容最有可能在探討下列何者？(A)圓山文化 (B)長濱文化 (C)大坌坑文化 (D)卑南文化。



- () 12. 附圖是臺灣史前文化中出土的物品。若依照文化的演變來看，圖中三項文物出現的時間順序為何？


- (A)乙甲丙 (B)乙丙甲 (C)甲乙丙 (D)甲丙乙。



- () 13. 歷史老師想藉由演戲讓學生明白「舊石器時代」人類的的生活。下列何種場景不會出現在這齣「摩登原始人」的戲劇中？(A)撿拾木柴，準備升火 (B)以敲擊的方式打製石器 (C)種植芋頭等根莖類作物 (D)靠採集與漁獵等方式取得食物。
- () 14. 小武是一個住在臺南且具有平埔族血統的青年。若依「地緣」關係來看，他有可能是下列哪一族群？(A)噶瑪蘭族 (B)凱達格蘭族 (C)貓霧揀族 (D)西拉雅族。

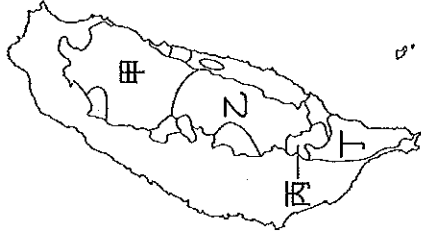
()15. 清領時期，將原住民劃分為熟番與生番。劃分兩者的依據為何？(A)是否向官方納稅、服役(B)是否會說漢語(C)是否獵人頭(D)是否與漢人通婚。

()16. 翊蒙上課時，在筆記寫下幾個重點內容如附圖，根據內容加以判斷，臺上老師可能正在講述什麼樣的主題？(A)泰雅族的社會組織(B)卑南族的家庭制度(C)排灣族的貴族社會(D)達悟族的婚姻關係。



()17. 「南島語族」東西的延伸距離，超過地球圓周的一半，總人口數大約兩億五千萬之多。下列哪一族不屬於「南島語族」的範圍？
(A)紐西蘭的毛利族 (B)南非的祖魯族
(C)臺灣的達悟族 (D)夏威夷的玻里尼西亞族

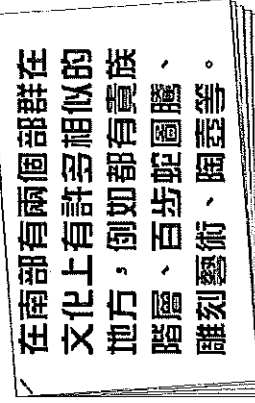
()18. 附圖為臺灣原住民分布圖，請問：以紋面做為成年象徵的原住民族群分布於何處？
(A)甲 (B)乙 (C)丙 (D)丁。



()19. 臺灣西部有些舊地名，如：雞籠、艋舺、打狗、牛罵頭等，這些都是以前原住民族活動地區的地名。請問：這些地名最有可能與下列哪一族群有關？
(A)卑南族 (B)阿美族 (C)平埔族 (D)達悟族。

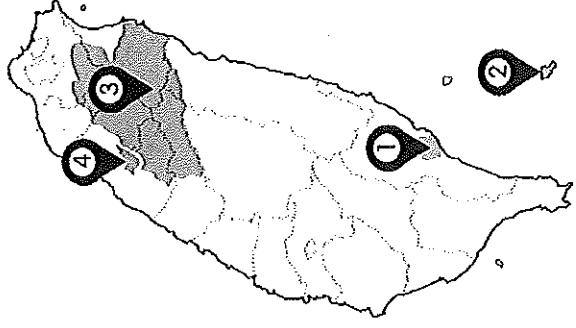
()20. 家維到圖書館找尋有關臺灣原住民的書籍，書上內容如附圖所示。文中所提的兩個族群應該是什麼？

(A)賽夏族、阿美族 (B)魯凱族、阿美族
(C)排灣族、魯凱族 (D)達悟族、魯凱族。



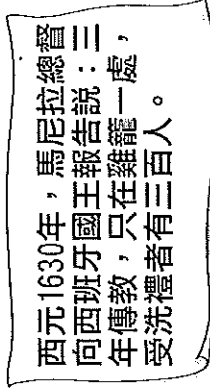
()21. 「刺猴」是整個猴祭的高潮，目的在考驗少年的膽識，少年於刺殺猴子後，由長老帶領少年們唱歌，以弔猴靈。由於今日社會已禁止狩獵，因此祭典中改用草編猴子代替。祭典最後，年紀稍長的族人會以竹子鞭打少年屁股，代表認同少年成長。」請問：上述的原住民祭典會在附圖中的何處舉行？

(A)① (B)② (C)③ (D)④。



()22. 早期臺灣原住民的主要經濟活動是農耕、打獵及捕魚。農耕方面，大多採游耕方式，此類型農業具有下列哪種特色？(A)以動物糞便來施肥(B)引用河水大面積灌溉(C)使用家畜進行整地(D)以焚林方式維持地力。

()23. 依依在書上看到一段記載如附圖所示。請問：當時西班牙人在臺灣傳播的是何種宗教？
(A)基督教 (B)天主教 (C)伊斯蘭教 (D)佛教。



()24. 明朝初年頒布海禁政策，其主要的原因為何？(A)澎湖發生瘟疫(B)防備倭寇侵擾(C)防止人犯逃出海外(D)荷蘭人不斷入侵。

()25. 13世紀後期，元代曾在澎湖設立哪一機構，加強治安管理？
(A)澎湖縣 (B)巡檢司 (C)市舶司 (D)澎湖廳。

()26. 附表是中外對臺灣的稱呼。請問：表中的「甲」、「乙」應分別為下列何者？

(A)臺灣、東都 (B)東都、大苑 (C)瓊求、東番
(D)蓬萊、大灣。

國家	稱呼
元朝	「甲」
明朝	臺灣、「乙」、大員、小琉球
清朝	臺灣
日本	高砂、高山國
歐洲	福爾摩沙

()27. 先民渡海來臺時，必須橫渡波濤洶湧的「黑水溝」，海上守護神「媽祖」便成為人們的心靈寄託。根據歷史發展，臺灣最古老的媽祖廟(天后宮)應建於何地？(A)淡水 (B)澎湖 (C)臺南 (D)高雄。

()28. 附表是17世紀時與臺灣有關的幾件大事。請按時間先後順序排列，何者正確？(A)丙甲丁乙 (B)丁丙乙甲 (C)丙丁乙甲 (D)丁乙甲丙。

甲	郭懷一起事反抗荷蘭暴政
乙	西班牙被迫放棄北臺灣
丙	沈有容於澎湖逼退荷蘭
丁	荷蘭人占領臺灣南部

()29. 16、17世紀隨著新航路的發現，歐洲各國紛紛在東方建立殖民地、貿易站與傳教據點，而形成一股海外拓殖。請問：下列歐洲國家與其在東亞據點的配對何者正確？

- (A)荷蘭—巴達維亞 (B)西班牙—澳門
(C)葡萄牙—馬尼拉 (D)英國—日本。

()30. 荷蘭人統治臺灣時為了便於利用宗教對原住民進行教化，而創造一種拼寫原住民語言的文字，稱之為新港文。請問：新港文是利用下列何種文字拼寫而成的？(A)漢字 (B)日本文字 (C)羅馬字母 (D)象形字。

()31. 荷蘭人統治臺灣，除大量生產稻米、甘蔗外，還引進不少新作物。請問：下列哪些作物是荷蘭人引進臺灣的？

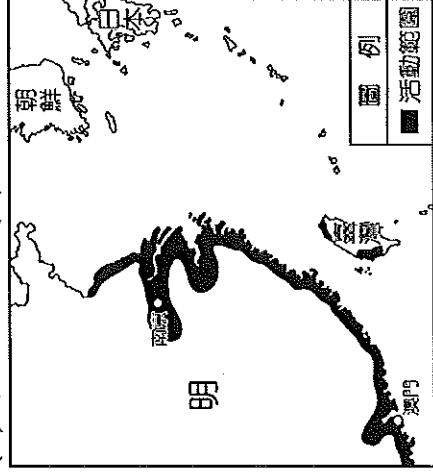
- (甲)豌豆(乙)番茄(丙)芋頭(丁)番薯(戊)釋迦
(A)甲乙丙 (B)甲乙戊 (C)乙丙丁 (D)丙丁戊。

()32. 荷蘭人統治原住民的方法，是先以武力征服，然後透過下列何者統治各部落原住民，以達到行政控制？

- (A)漢人 (B)酋長 (C)長老 (D)傳教士。

()33. 荷蘭人將臺灣許多物品轉銷到中國、日本等地以賺取利益，其中並不包括下列哪一項物品？(A)鹿皮 (B)蔗糖 (C)香料 (D)稻米。

()34. 附圖是16、17世紀某勢力的活動範圍，他們在這些地區進行走私貿易與劫掠。請問：上述的「某勢力」應為下列何者？(A)海商 (B)流寇 (C)葡萄牙商人 (D)聯合東印度公司。



()35. 臺灣長期以來，都是以外貿為導向的經濟特色，在歷史發展過程中，屢見不鮮。請問：荷治時期，臺灣的主要貿易對象有哪些地區？(甲)中國(乙)日本(丙)朝鮮(丁)南洋 (A)甲乙丙 (B)甲乙丁 (C)甲丙丁 (D)乙丙丁。

()36. 西班牙人在1626年進攻臺灣北部，陸續占領了下列哪些地方？

- (甲)雞籠(乙)安平(丙)打狗(丁)淡水(戊)蛤仔難
(A)甲乙丁 (B)乙丙戊 (C)甲丁戊 (D)甲丙丁。

()37. 17世紀時，日本實施鎖國政策，只准許哪兩國可到長崎進行貿易？

- (甲)荷蘭(乙)中國(丙)西班牙(丁)葡萄牙
(A)甲乙 (B)甲丙 (C)甲丁 (D)乙丁。

※請根據以下兩份資料回答下列問題：

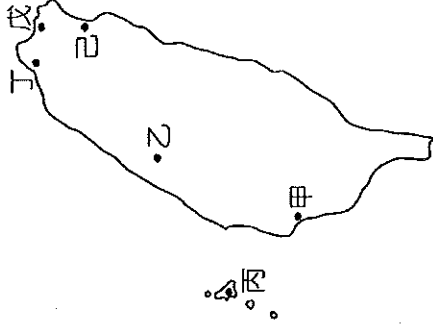
資料一：「其祭祀是以通稱為壺的器具盛水插著澤蘭或甘蔗葉，以檳榔或米酒來祭拜；有的人在自家供奉，大多數則祀奉在公廨，按舊例舉行的祭典則在夜間舉行。」

資料二：「在族人心裡，阿立祖是宇宙最高貴的神明，不但會保護族人的平安，更可懾服四周的孤魂野鬼，相當於漢人的玉皇上帝，但不像玉皇上帝的威武，反而是一位喜歡穿白衣的和藹老人。」

()38. 這是哪一族的祭祀活動？(A)凱達格蘭族 (B)排灣族 (C)泰雅族 (D)西拉雅族。

()39. 上文「阿立祖」應是指下列何者？(A)阿拉 (B)媽祖 (C)上帝 (D)祖靈。

※請參考附圖回答下列問題：



()40. 16世紀末葉(中國明代)，圖中哪個地方已被納入中國版圖？(A)甲 (B)丙 (C)丁 (D)戊。

()41. 荷蘭人所興築的「熱蘭遮城」位於圖中哪一區？(A)甲 (B)乙 (C)丙 (D)丁。

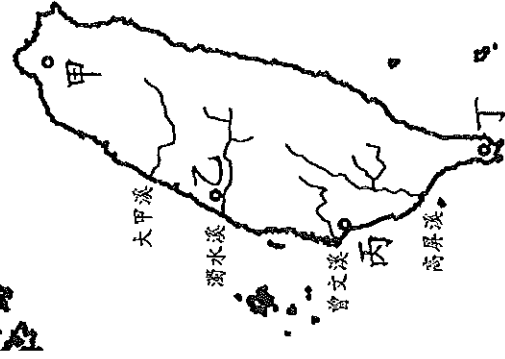
()42. 西班牙人成功占領臺灣之後，興建了一座聖多明哥城。請問：這座聖多明哥城建立在圖中何處？(A)甲 (B)乙 (C)丙 (D)丁。

※荷蘭人統治臺灣以後，逐步施展其統治措施。請閱讀下列短文，並回答問題：

安平，舊稱大員、臺員，是「臺灣」一詞的起源。大員市鎮最初是荷蘭人依都市計畫興建而成的市鎮。如今，昔日的景觀已不復見，殘存的城牆、聚落與建築物成了今日最有價值的遺產。當地主管機關正積極規畫挖掘地下可能埋藏的牆基遺址，試圖讓舊城再現，屆時安平的歷史脈絡不僅能更完整呈現，民眾也將更加了解多樣的歷史面貌。

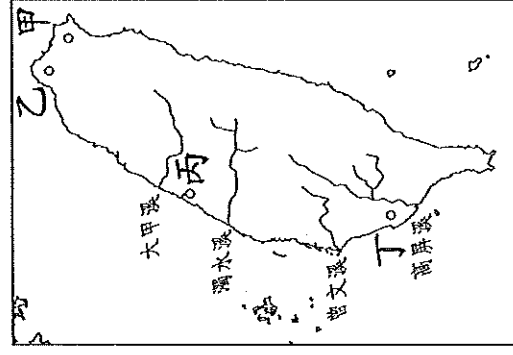
()43. 大員市鎮的興建，主要與下列哪一歷史背景有關？(A)荷蘭人到東亞發展貿易 (B)西拉雅族的祀壺信仰 (C)鄭芝龍曾在這裡活動 (D)十三行文化的出現。

()44. 若要追尋上述的安平遺跡，應到附圖中何處？(A)甲 (B)乙 (C)丙 (D)丁。



※ 這個文化是目前在臺灣本島發掘到的新石器時代早期文化，其出現時間和臺灣東部另一個舊石器文化有一段重疊的時間，但與分布在中國大陸東南沿海，特別是福建、廣東的繩紋陶文化非常相似，此一文化的住民可能是由此渡海來臺。根據多數研究指出，這個文化也被推測屬於南島語族的文化，因此這個文化很有可能就是臺灣原住民的祖先型文化。

()45. 根據上文所述，此一臺灣新石器時代早期文化，最有可能位於附圖中的哪一位置？(A)甲地 (B)乙地 (C)丙地 (D)丁地。



()46. 承上題，哪一個位於臺灣東部的舊石器文化年代，會與前述的新石器早期文化有所重疊？(A)長濱文化 (B)牛罵頭文化 (C)十三行文化 (D)圓山文化。

※17世紀前期，中國正值明朝末年，有個福建知名海商在外國文獻上的名字是「Iquan」，他精通日文、荷蘭文、西班牙文、葡萄牙語、中文官話、閩南語。他以臺灣「魷港」為根據地，招募中國東南沿海的漢人來此開墾。請問：

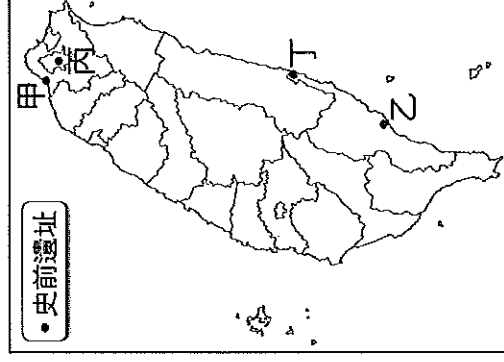
()47. 文獻中的「Iquan」應是下列何人？

(A)沈有容 (B)郭懷一 (C)鄭成功 (D)鄭芝龍。

()48. 承上題，以此人的活動範圍判斷，「魷港」應位於現今臺灣的何處？

(A)臺北 (B)花蓮 (C)嘉義 (D)屏東。

※臺灣目前發現多處的史前文化遺址，歷經舊石器時代、新石器時代、金屬器時代，皆成為臺灣最珍貴的文化遺產。請參考附圖回答下列問題：



()49. 臺灣目前所發現最早的新石器時代文化遺址位於圖中何處？(A)甲 (B)乙 (C)丙 (D)丁。

()50. 圖中哪一文化遺址發現有煉鐵的遺址，可說是臺灣金屬器文化的代表？(A)甲 (B)乙 (C)丙 (D)丁。